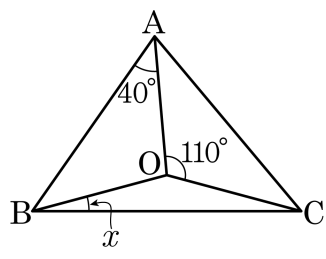
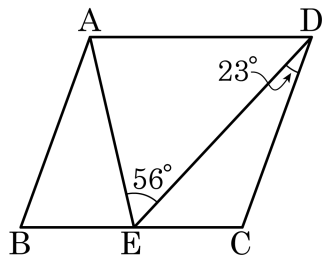


1. 다음 $\triangle ABC$ 의 외심을 O 라고 할 때, $\angle x$ 의 크기는?



- ① 10° ② 15° ③ 20° ④ 25° ⑤ 30°

2. 평행사변형 ABCD가 다음 그림과 같이 주어졌을 때, $\angle BAE$ 의 크기를 구하면?

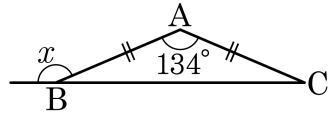


- ① 23° ② 25° ③ 28° ④ 33° ⑤ 35°

3. 다음 설명 중 옳지 않은 것은?

- ① 모든 직사각형은 평행사변형이고, 모든 평행사변형은 사다리꼴이다.
- ② 모든 마름모는 평행사변형이고, 모든 평행사변형은 사다리꼴이다.
- ③ 모든 정사각형은 직사각형이고, 모든 직사각형은 평행사변형이다.
- ④ 모든 정사각형은 마름모이고, 모든 마름모는 평행사변형이다.
- ⑤ 모든 정사각형은 마름모이고, 모든 마름모는 직사각형이다.

4. 다음 그림과 같이 $\overline{AB} = \overline{AC}$ 인 이등변삼각형 ABC 에서 $\angle A = 134^\circ$ 일 때, $\angle x$ 의 크기를 구하여라.



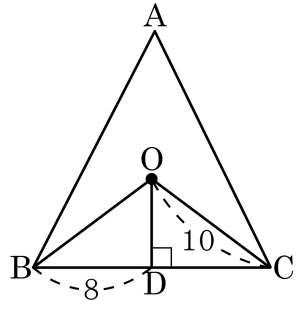
▶ 답: _____ °

5. 다음은 $\angle XOY$ 의 이등분선 위의 한 점을 P 라 하고 점 P 에서 \overline{OX} , \overline{OY} 에 내린 수선의 발을 각각 A, B 라고 할 때, $\overline{PA} = \overline{PB}$ 임을 증명하는 과정이다. ㉠~㉥에 들어갈 것으로 옳지 않은 것은?

[가정] $\angle AOP = (\text{㉠})$,
 $\angle PAO = \angle PBO = 90^\circ$
 [결론] $(\text{㉡}) = (\text{㉢})$
 [증명] $\triangle POA$ 와 $\triangle POB$ 에서
 $\angle AOP = (\text{㉠}) \cdots \text{㉡}$
 (㉢) 는 공통 $\cdots \text{㉣}$
 $\angle PAO = \angle PBO = 90^\circ \cdots \text{㉤}$
 $\text{㉡}, \text{㉢}, \text{㉤}$ 에 의해서 $\triangle POA \cong \triangle POB$ ((㉥)합동)
 $\therefore (\text{㉡}) = (\text{㉢})$

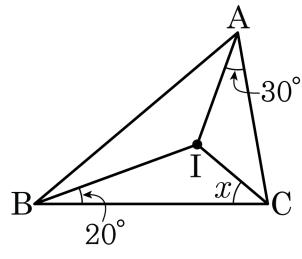
- ① ㉠ $\angle BOP$ ② ㉡ \overline{PA} ③ ㉢ \overline{PB}
 ④ ㉣ \overline{OP} ⑤ ㉤ SAS

6. 다음 그림에서 점 O는 $\triangle ABC$ 의 외심이다. 점 O에서 \overline{BC} 에 내린 수선의 발을 D라 할 때, OB 의 길이는?



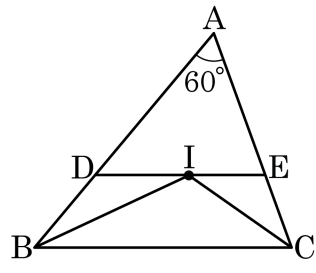
- ① 6 ② 7 ③ 8 ④ 9 ⑤ 10

7. 다음 그림에서 점 I가 내심일 때 ()안에 알맞은 수를 구하여라.



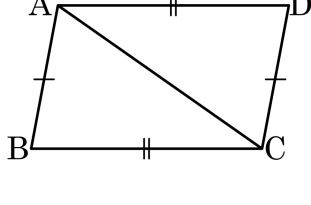
▶ 답: _____

8. 다음 그림에서 점 I는 $\triangle ABC$ 의 내심이고, $\overline{DE} \parallel \overline{BC}$ 일 때, $\angle BDI + \angle CEI = (\quad)^\circ$ 의 값을 구하여라.



▶ 답: _____

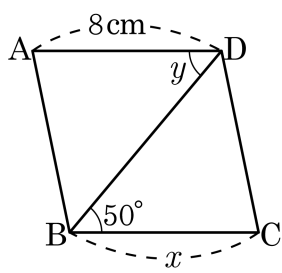
9. 다음은 '두 쌍의 대변의 길이가 각각 같은 사각형은 평행사변형이다.'를 증명하는 과정이다. □ 안에 들어갈 알맞은 것은?



$\overline{AB} = \overline{DC}$, $\overline{AD} = \overline{BC}$ 인 □ABCD에서
 점 A와 점 C를 이으면
 △ABC와 △CDA에서
 $\overline{AB} = \overline{DC}$ (가정) ...㉠
 $\overline{BC} = \overline{AD}$ (가정) ...㉡
 □는 공통 ...㉢
 ㉠, ㉡, ㉢에 의해서 △ABC ≅ △CDA (SSS 합동)
 $\angle BAC = \angle DCA$ 이므로
 $\overline{AB} \parallel \overline{DC}$...㉣
 $\angle ACB = \angle CAD$ 이므로
 $\overline{AD} \parallel \overline{BC}$...㉤
 ㉣, ㉤에 의해서 □ABCD는 평행사변형이다.

- ① \overline{DC} ② \overline{BC} ③ \overline{DA} ④ \overline{AC} ⑤ \overline{BA}

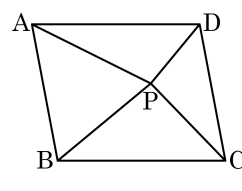
10. 다음 $\square ABCD$ 가 평행사변형이 될 때, x 와 y 의 값을 구하여라.



▶ 답: $x =$ _____ cm

▶ 답: $\angle y =$ _____ $^\circ$

11. 점 P는 평행사변형 ABCD의 내부의 한 점이다. 평행사변형 ABCD의 넓이가 30이고 $\triangle ABP$ 의 넓이가 10일 때, $\triangle PCD$ 의 넓이는 얼마인지 구하여라.



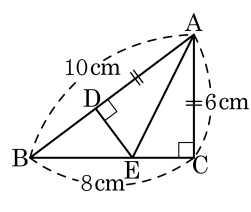
▶ 답: _____

12. 다음 중 직사각형이 아닌 것은?

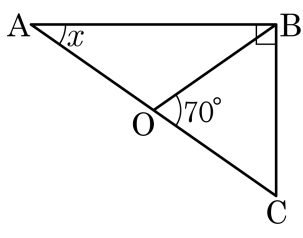
- ① 네 각의 크기가 모두 90° 인 사각형
- ② 두 대각선의 길이가 같은 평행사변형
- ③ 두 대각선의 길이가 같고, 서로 다른 것을 수직 이등분하는 사각형
- ④ 이웃하는 두 변의 길이가 같은 평행사변형
- ⑤ 한 각의 크기가 90° 인 평행사변형

13. 직각삼각형 ABC에서 $\overline{AC} = \overline{AD}$, $\overline{AB} \perp \overline{DE}$ 이다. $\overline{AB} = 10\text{cm}$, $\overline{BC} = 8\text{cm}$, $\overline{AC} = 6\text{cm}$ 일 때, 삼각형 BED의 둘레는 삼각형 ABC의 몇 배인가?

- ① $\frac{1}{3}$ 배 ② $\frac{1}{2}$ 배 ③ $\frac{1}{4}$ 배
 ④ $\frac{1}{5}$ 배 ⑤ $\frac{1}{6}$ 배

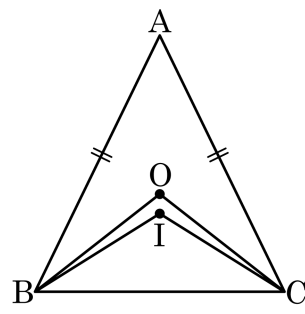


14. 다음 그림의 직각삼각형에서 점 O는 \overline{AC} 의 중점일 때, $\angle x$ 의 크기는?



- ① 32° ② 35° ③ 38° ④ 42° ⑤ 45°

15. 이등변삼각형 $\triangle ABC$ 에서 점 O 는 외심이고 점 I 는 내심이다.
 $\angle BOC = 104^\circ$ 일 때, $\angle OBI$ 의 크기를 구하시오.



▶ 답: _____ °

16. 다음은 평행사변형의 성질을 증명하는 과정이다. 어떤 성질을 증명한 것인가?

평행사변형에서 점 A와 점 C를 이으면
 $\triangle ABC$ 와 $\triangle CDA$ 에서 \overline{AC} 는 공통 ... ㉠
 $\overline{AB} \parallel \overline{CD}$ 이므로 $\angle BAC = \angle DCA$... ㉡
 $\overline{AD} \parallel \overline{BC}$ 이므로 $\angle BCA = \angle DAC$... ㉢
 ㉠, ㉡, ㉢에 의해서 $\triangle ABC \cong \triangle CDA$ (ASA 합동)
 $\therefore \angle A = \angle C, \angle B = \angle D$

- ① 평행사변형에서 두 쌍의 엇각의 크기가 각각 같다.
- ② 평행사변형에서 두 쌍의 대변의 길이는 각각 같다.
- ③ 평행사변형에서 두 쌍의 대각의 크기가 각각 같다.
- ④ 평행사변형에서 두 쌍의 대변이 각각 평행하다.
- ⑤ 평행사변형에서 두 대각선은 서로 다른 것을 이등분한다.

17. 사각형 ABCD 에서 $\overline{AB} = 10$, $\overline{BC} = 12$, $\angle ADB = 34^\circ$ 일 때, 다음 중 사각형 ABCD 가 평행사변형이 되는 조건은?

① $\overline{CD} = 12$, $\angle CBD = 56^\circ$

② $\overline{AD} = 12$, $\overline{CD} = 8$

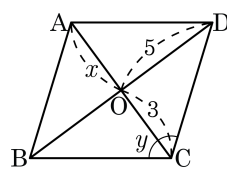
③ $\overline{CD} = 10$, $\angle ABC = 56^\circ$

④ $\overline{AD} = 10$, $\angle ABD = 34^\circ$

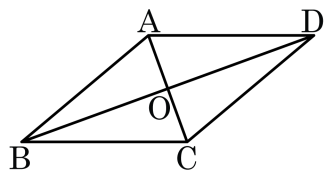
⑤ $\overline{AD} = 12$, $\angle CBD = 34^\circ$

18. 다음 그림의 평행사변형 ABCD 에 대하여 $\angle B = 73^\circ$ 일 때, 옳지 않은 것은?

- ① $\angle y = 73^\circ$ ② $x = 3$
 ③ $\overline{AB} = \overline{CD}$ ④ $\overline{AD} = \overline{BC}$
 ⑤ $\angle D = 73^\circ$

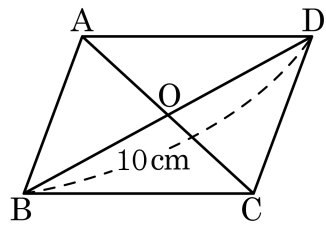


19. 다음 중 $\square ABCD$ 가 항상 평행사변형이라고 할 수 없는 것은?



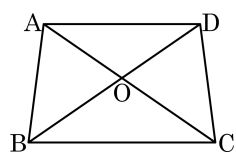
- ① $\overline{AB} = \overline{DC} = 4\text{ cm}$, $\overline{AD} = \overline{BC} = 6\text{ cm}$
- ② $\angle A = 110^\circ$, $\angle B = 70^\circ$, $\angle D = 70^\circ$
- ③ $\overline{OA} = \overline{OC}$, $\overline{OB} = \overline{OD}$ (단, 점 O는 두 대각선의 교점이다.)
- ④ $\overline{AD} \parallel \overline{BC}$, $\overline{AB} = \overline{DC} = 4\text{ cm}$
- ⑤ $\overline{AD} \parallel \overline{BC}$, $\overline{AB} \parallel \overline{DC}$

20. 다음 그림은 $\overline{BD} = 10\text{cm}$ 인 평행사변형 ABCD이다. 평행사변형 ABCD가 직사각형이 되도록 하는 \overline{OA} 의 길이는? (단, O는 대각선의 교점이다.)



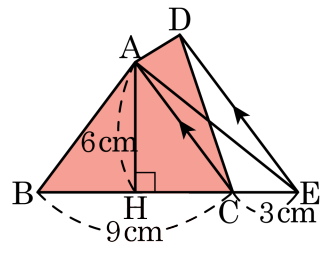
- ① 2cm ② 5cm ③ 7cm ④ 10cm ⑤ 12cm

21. 다음 그림과 같이 $\overline{AD} \parallel \overline{BC}$ 인 사다리꼴 ABCD이 있다. $\angle BAD = \angle CDA$ 라고 할 때, 다음 중 옳지 않은 것은?



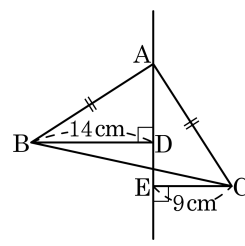
- ① $\overline{AB} = \overline{DC}$ ② $\angle ABC = \angle DCB$
 ③ $\overline{OA} = \overline{OD}$ ④ $\overline{AD} = \overline{DC}$
 ⑤ $\angle BAC = \angle CDB$

22. 다음 그림과 같이 $\overline{AC} \parallel \overline{DE}$, $\overline{AH} \perp \overline{BC}$ 일 때, $\square ABCD$ 의 넓이는?



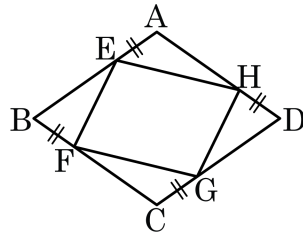
- ① 18cm^2 ② 24cm^2 ③ 27cm^2
 ④ 30cm^2 ⑤ 36cm^2

23. 다음 그림과 같이 직각이등변삼각형 ABC의 두 점 B, C에서 점 A를 지나는 직선에 내린 수선의 발을 각각 D, E라 하자. $\overline{BD} = 14\text{cm}$, $\overline{CE} = 9\text{cm}$ 일 때, \overline{DE} 의 길이는?



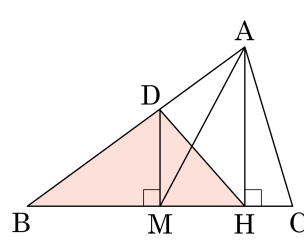
- ① 3cm ② 3.5cm ③ 4cm
 ④ 4.5cm ⑤ 5cm

24. 다음 그림에서 $\square ABCD$ 는 마름모이다. $\overline{AE} = \overline{BF} = \overline{CG} = \overline{DH}$ 일 때, $\square EFGH$ 는 어떤 사각형인가?



▶ 답: _____

25. 다음 그림의 $\triangle ABC$ 에서 $\overline{AH} \perp \overline{BC}$, $\overline{DM} \perp \overline{BC}$, $BM = CM = 5$, $AH = 6$ 이라 할 때, $\triangle DBH$ 의 넓이를 구하여라.



▶ 답: _____ cm^2