

1. $0.2x + 0.5 = 1$ 일 때, x 의 값을 구하여라.

▶ 답: $x =$ _____

2. 직육면체의 가로 길이가 $3a$, 세로 길이가 $2b$ 이고, 부피가 $24a^2b$ 일 때, 높이는?

- ① $4a$ ② $6a$ ③ $4b$ ④ $3ab$ ⑤ $4ab$

3. 다음 중 [] 안의 값이 부등식의 해인 것은?

① $x-2 > 3$ [5]

② $x-2 > 2$ [1]

③ $2x+1 \geq 5$ [1]

④ $-2x \geq 1$ [-1]

⑤ $2x-1 < x-3$ [0]

4. 일차부등식 $2x - 1 \geq 3x$ 를 풀면?

① $x \leq -1$

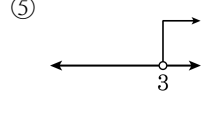
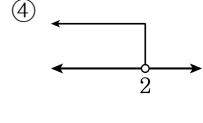
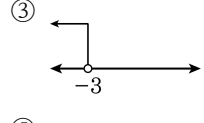
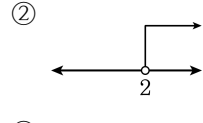
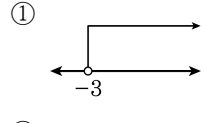
② $x \leq 1$

③ $x \geq -1$

④ $x \geq 1$

⑤ $x \geq 2$

5. 일차부등식 $3x - 5 > 4$ 의 해를 수직선 위에 바르게 나타낸 것은?



6. A 가 유한소수일 때, 다음 중 A 에 해당하는 것은?

① $3.141592\dots$

② $\frac{51}{180}$

③ $\frac{27}{2^2 \times 3^2}$


④ $0.512512512\dots$

⑤ $\frac{3}{56}$

7. 식 $(x^2)^4 \times y^3 \times x \times (y^3)^2$ 을 간단히 하면?

- ① $x^{10}y^9$ ② x^9y^{10} ③ x^9y^9 ④ x^8y^9 ⑤ x^8y^8

8. $a^{13}b^9 \div (a^x b^3)^2 = a^3 b^y$ 일 때, $x \times y$ 의 값을 구하여라.

 답: _____

9. $\frac{2x+y}{4} - \frac{x-3y}{3}$ 를 간단히 하면?

① $2x + 15y$

② $\frac{1}{6}x + \frac{5}{4}y$

③ $\frac{5}{6}x + 5y$

④ $x + 4y$

⑤ $\frac{5}{4}x - \frac{1}{6}y$

10. 밑면의 가로, 세로의 길이가 각각 $2a$, $3a$ 인 직육면체의 부피가 $12a^3 - 24a^2b$ 라고 할 때, 높이는?

① $a - 2b$

② $a - 4b$


③ $2a - 2b$

④ $2a - 4b$

⑤ $2a - 24b$

11. 다음 두 부등식의 해가 서로 같을 때, 상수 a 의 값을 구하여라.

$$3x - 1 > a, \quad \frac{3}{2}(-x + 7) < 6$$

 답: _____

12. 한 개에 600 원인 음료수와 300 원인 아이스크림을 합하여 30 개를 사고, 그 값이 10000 원 이하가 되게 하려고 한다. 이 때, 음료수는 몇 개까지 살 수 있는가?

- ① 3 개 ② 4 개 ③ 5 개 ④ 6 개 ⑤ 7 개


13. $\frac{3}{4}$ 을 분수 $\frac{a}{10^n}$ 의 꼴로 고칠 때, $a+n$ 의 최솟값은? (단, a, n 은 자연수)

- ① 69 ② 72 ③ 75 ④ 76 ⑤ 77

14. 분수 $\frac{17}{6}$ 을 소수로 나타내면?

- ① 2.803 ② 2.803 ③ 2.803 ④ 2.83 ⑤ 2.83

15. 서로소인 두 자연수 a, b 에 대하여 $1.35 \times \frac{b}{a} = 0.67$ 일 때, $a + b$ 의 값을 구하여라.

 답: _____


16. 부등식 $\frac{1}{9} \leq 0.\dot{x} < \frac{3}{5}$ 을 만족하는 자연수 x 의 값 중에서 가장 큰 값을 a , 가장 작은 값을 b 라 할 때, $a - b$ 의 값을 구하여라.

▶ 답: _____


17. $\left(-\frac{3x^a y^4}{bz^3}\right)^2 = \frac{9x^4 y^c}{16z^d}$ 을 만족하는 a, b, c, d 가 있을 때, $a+b+c+d$ 의 값은?(단, $b > 0$)

- ① 5 ② 10 ③ 15 ④ 20 ⑤ 25

18. $3^4 = x$ 라 할 때, $3^4 + 3^6 - 3^5$ 을 x 에 관한 식으로 나타내어라.

 답: _____


19. $2^{13} \times 5^{15}$ 이 n 자리의 자연수일 때, n 의 값을 구하여라.

 답: _____

20. $a = -2$, $b = -3$ 일 때, $\frac{15a^2 - 3ab}{3a} - \frac{8ab + 4b^2}{4b}$ 의 값은?

- ① 0 ② 6 ③ 12 ④ -6 ⑤ -12

21. $A = \frac{2x-3y+1}{3}$, $B = \frac{x-2y+1}{2}$ 일 때, $A - \{B - (2A - B)\}$ 를 x, y 를 써서 나타내어라.

 답: _____

22. 지우의 돼지저금통에는 20000 원, 지석의 돼지저금통에는 30000 원이 들어있다. 매주 지우는 1000 원씩, 지석이는 500 원씩 저금한다면 지우의 저금액이 지석이의 저금액보다 많아지는 것은 몇 주째부터인지 구하여라.

▶ 답: _____ 주

23. 집 앞 서점에서 한권에 10000 원인 책을 인터넷 서점에서는 15% 할인하여 살 수 있다. 인터넷 서점에서 구입하면 책 권수에 상관없이 배송료가 3500 원으로 일정할 때, 책을 몇 권 이상 사야하는 경우 인터넷 서점을 이용하는 것이 유리한가?

- ① 3 권 이상 ② 4 권 이상 ③ 5 권 이상
- ④ 6 권 이상 ⑤ 7 권 이상

24. A 지점에서 15km 떨어진 B 지점으로 가는데, 처음에는 시속 3km 로 가다가 도중에 시속 4km 로 걸어 출발한 후 4 시간 이내에 B 지점에 도착하려고 한다. A 지점에서 x km 까지를 시속 3km 로 걸어간다고 하여 부등식을 세울 때, 다음 중 옳은 부등식은?

① $\frac{x}{3} + \frac{y}{4} \leq 4$

② $\frac{x}{3} + \frac{4}{15-x} \leq 4$

③ $\frac{x}{3} + \frac{15-x}{4} \leq 4$

④ $\frac{x}{4} + \frac{15-x}{4} \leq 4$

⑤ $3x + 4(15-x) = 4$

25. 미혜는 산책로를 따라 산책을 하려고 한다. 갈 때에는 시속 5km, 돌아올 때는 시속 4km로 걸어서 1시간 이내로 산책을 끝내려면 미혜는 집으로부터 몇 km까지 산책할 수 있는가? (단, 소수 둘째 자리에서 반올림하여 소수 첫째 자리까지 구하여야.)

- ① 1.1km 이내 ② 2.1km 이내 ③ 2.2km 이내
④ 2.3km 이내 ⑤ 2.4km 이내