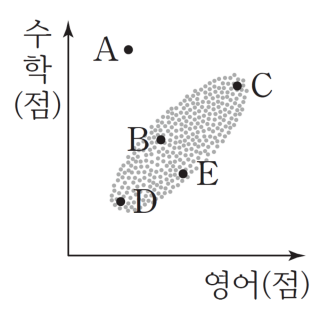
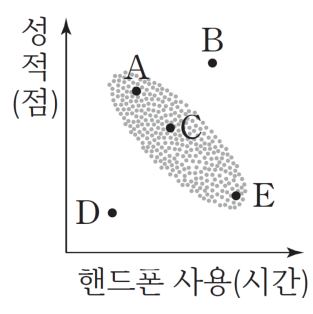


1. 그림은 준호네 학교 학생의 영어 성적과 수학 성적에 대한 산점도이다. 5명의 학생 A, B, C, D, E 중 두 과목의 성적의 차가 가장 큰 학생은?



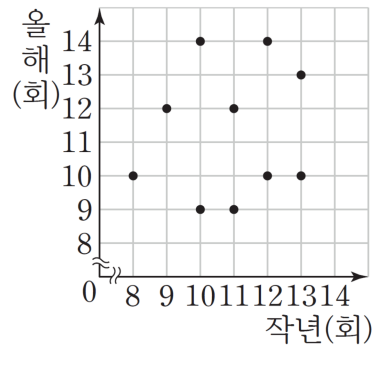
- ① A ② B ③ C ④ D ⑤ E

2. 어느 중학교 학생들의 하루 동안 핸드폰 사용 시간과 성적에 대한 산점도이다. 5명의 학생 A, B, C, D, E 중 핸드폰 사용 시간에 비해 성적이 가장 높은 학생을 말하시오.



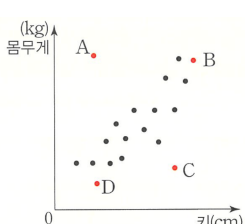
▶ 답: _____

3. 직장인 10명의 작년과 올해에 극장을 방문한 횟수를 조사하여 나타낸 산점도이다. 작년과 올해에 극장을 방문한 횟수의 차가 가장 큰 직장인의 작년에 극장을 방문한 횟수를 구하시오.



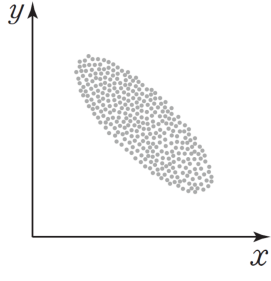
▶ 답: _____

4. 그림은 어느 학교 선생님들의 키와 몸무게 사이의 산점도이다. 산점도에 대한 설명을 잘못된 것은?



- ① A와 C선생님을 제외한 선생님들의 키와 몸무게는 강한 양의 상관관계를 보이고 있다.
- ② A선생님은 키와 비교하여 몸무게가 적게 나가시는 편이다.
- ③ B선생님은 키도 크시고 몸무게도 많이 나가시는 편이다.
- ④ C선생님은 같은 키의 다른 선생님과 비교하여 몸무게가 적게 나간다.
- ⑤ 키와 몸무게가 대체로 양의 상관관계를 보이고 있다.

5. 다음 중 두 변량의 산점도를 그린 것이 오른쪽 그림과 같이 나타나는 것은?

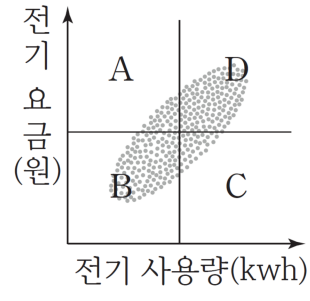


- ① 컴퓨터 사용과 눈의 피로도
- ② 머리둘레와 지능 지수
- ③ 지면으로부터의 높이와 기온
- ④ 에어컨 사용 시간과 전기 요금
- ⑤ 수학 성적과 턱걸이 횟수

6. 다음 중 두 변량 사이의 상관관계가 나머지 넷과 다른 하나는?

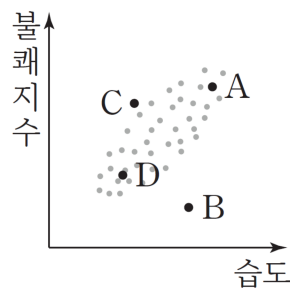
- ① 가족 구성원 수와 가계 지출액
- ② 관객 수와 입장료 총액
- ③ 문어 어획량과 1마리당 가격
- ④ 여름철 폭염 일수와 냉방비
- ⑤ 물의 온도와 설탕의 용해도

7. 그림은 어느 지역에 거주하는 가구들의 전기 사용량과 전기 요금을 조사하여 나타낸 산점도이다. 다음 중 옳은 것을 모두 고르면?



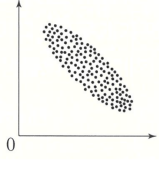
- ① A영역에 있는 가구들은 전기 사용량이 많은 편이다.
- ② B영역에 있는 가구들은 전기 요금만 적은 편이다.
- ③ C영역에 있는 가구들은 전기 사용량에 비해 전기 요금이 적은 편이다.
- ④ D영역에 있는 가구들은 전기 사용량과 전기 요금이 모두 적은 편이다.
- ⑤ 전기 사용량과 전기 요금 사이의 관계는 양의 상관관계이다.

8. 그림은 어느 지역 사람들의 습도와 불쾌지수를 조사하여 나타낸 산점도이다. 네 사람 A, B, C, D에 대한 설명 중 옳지 않은 것은?



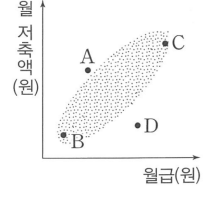
- ① 불쾌지수가 가장 높은 사람은 A이다.
- ② 불쾌지수가 가장 낮은 사람은 D이다.
- ③ 습도에 비해 불쾌지수가 낮은 사람은 B이다.
- ④ 습도에 비해 불쾌지수가 높은 사람은 C이다.
- ⑤ 습도와 불쾌지수 사이에는 양의 상관관계가 있다.

9. 그림은 두 변량 사이의 관계를 산점도로 나타낸 것이다. 두 변량 사이의 상관관계가 그림과 같은 것은?



- ① 몸무게와 키
- ② 지능지수와 머리카락의 길이
- ③ 지면으로부터의 높이와 기온
- ④ 키와 가슴둘레
- ⑤ 여름철 기온과 음료수 판매량

10. 어느 회사 직원들의 월급과 월 저축액을 조사하여 나타낸 산점도이다. 옳은 것은 모두 몇 가지인가?



- (ㄱ) 월급이 많은 직원이 대체로 월 저축액도 많은 편이다.
(ㄴ) A, B, C, D 네 직원 중 월 저축액이 가장 많은 직원은 C이다.
(ㄷ) A, B, C, D 네 직원 중 월급에 비하여 월 저축액이 가장 적은 직원은 B이다.

▶ 답: _____

11. 다음은 주영이가 10회의 수학 쪽지 시험에서 얻은 점수를 나타낸 표이다. 이때, 중앙값과 최빈값을 차례대로 구하여라.

횟수	1회	2회	3회	4회	5회
점수(점)	62	77	60	71	74

6회	7회	8회	9회	10회
78	62	54	65	80

▶ 답: 중앙값 : _____

▶ 답: 최빈값 : _____

12. 은정이는 5회에 걸친 사회 시험에서 4회까지 83점, 84점, 79점, 90점을 받았고, 5회는 병결로 인해 4회까지의 평균 성적의 50%를 받았다. 은정이의 5회에 걸친 사회시험 성적의 평균은?

① 72점

② 73.2점

③ 75.6점

④ 77.8점

⑤ 82점

13. 다음 도수분포표는 지수의 일주일 동안의 컴퓨터 게임 이용시간을 나타낸 것이다. 화요일의 컴퓨터 이용시간을 x 분, 이 자료의 중앙값을 y 분이라 할 때, $x + y$ 는?

요일	월	화	수	목	금	토	일	평균
시간(분)	10	x	40	30	30	60	60	40

- ① 70분 ② 80분 ③ 90분
④ 100분 ⑤ 110분

14. 5개의 변량 3, 5, 9, 6, x 의 평균이 6일 때, 분산은?

- ① 1 ② 2 ③ 3 ④ 4 ⑤ 5

15. 다음 표는 S 중학교 5 개의 학급에 대한 학생들의 미술 실기 점수의 평균과 표준편차를 나타낸 것이다. 다음 설명 중 옳지 않은 것은? (단, 각 학급의 학생 수는 모두 같다.)

학급	A	B	C	D	E
평균(점)	77	77	73	70	82
표준편차	2.2	$2\sqrt{2}$	$\frac{\sqrt{10}}{2}$	$\sqrt{4.5}$	$\sqrt{5}$

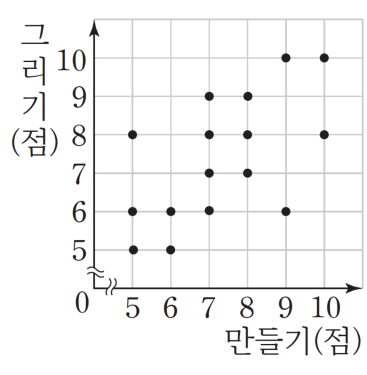
- ① A 학급의 학생의 성적이 B 학급의 학생의 성적보다 더 높은 편이다.
 ② 고득점자는 A 학급보다 B 학급이 더 많다.
 ③ B의 표준편차가 A의 표준편차보다 크므로 변량이 평균주위에 더 집중되는 것은 B이다.
 ④ 가장 성적이 높은 학급은 C 학급이다.
 ⑤ D 학급의 학생의 성적이 평균적으로 A 학급의 학생의 성적보다 낮은 편이다.

16. 다음 표는 5 개의 학급 A, B, C, D, E에 대한 학생들의 수학 점수의 평균과 표준편차를 나타낸 것이다. 다음 설명 중 옳은 것을 모두 고르면? (단, 각 학급의 학생 수는 모두 같다.)

학급	A	B	C	D	E
평균(점)	67	77	73	67	82
표준편차	2.1	$\sqrt{2}$	$\frac{\sqrt{10}}{3}$	$\sqrt{4.4}$	$\sqrt{3}$

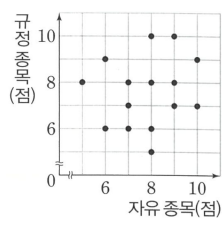
- ① A 학급의 학생의 성적이 B 학급의 학생의 성적보다 더 높은 편이다.
- ② B 학급의 학생의 성적이 D 학급의 학생의 성적보다 더 높은 편이다.
- ③ 중위권 성적의 학생은 A 학급보다 C 학급이 더 많다.
- ④ 가장 성적이 높은 학급은 E 학급이다.
- ⑤ D 학급의 학생의 성적이 평균적으로 C 학급의 학생의 성적보다 높은 편이다.

17. 그림은 선아네 반 학생 16명의 미술 수행 평가 중 만들기 성적과 그리기 성적을 조사하여 나타낸 산점도이다. 그리기 성적보다 만들기 성적이 더 높은 학생들의 그리기 성적의 평균을 구하시오.



▶ 답: _____

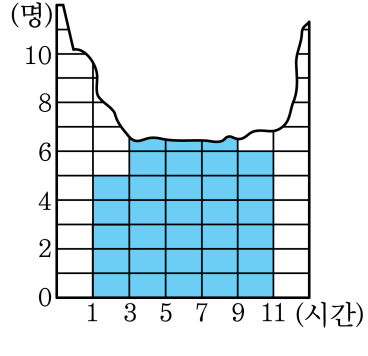
18. 어느 대회에서 체조 선수 15명의 자유 종목과 규정 종목을 점수를 조사하여 나타낸 산점도이다. () 안에 알맞은 수의 합을 구하시오.



- (ㄱ) 규정 종목 점수와 자유 종목 점수가 같은 선수는 전체 선수의 ()%이다.
 (ㄴ) 규정 종목 점수보다 자유 종목 점수가 더 높은 선수는 ()명이다.
 (ㄷ) 두 종목의 점수의 평균이 9점 이상인 선수는 ()명이다.

▶ 답: _____

19. 다음은 영웅이네 반 학생 40 명의 일주일 동안의 운동 시간을 조사하여 나타낸 히스토그램인데 일부가 찢어졌다. 이때, 3 시간 이상 5 시간 미만인 학생이 전체의 25% 이고, 7 시간 미만인 학생은 모두 26 명이다. 이 반 학생 40명의 평균 운동시간은 ?

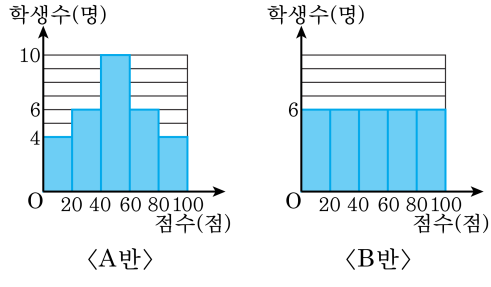


- ① 2 시간 ② 4 시간 ③ 6 시간
 ④ 8 시간 ⑤ 10 시간

20. 다섯 개의 변량 1, 2, a , b , 3 의 평균이 2 이고, 분산이 4 일 때,
6, 8, $\frac{1}{3}a^2$, $\frac{1}{3}b^2$ 의 평균을 구하여라.

▶ 답: _____

21. 다음 그림은 A, B 두 학급의 수학 성적을 나타낸 그래프이다. 다음 보기의 설명 중 옳은 것을 모두 골라라.



보기

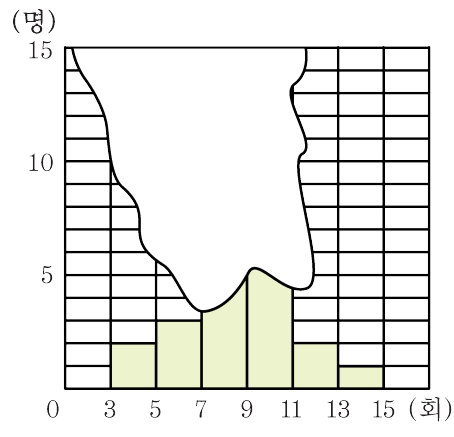
- ㉠ A 반 학생 성적이 B 반 학생 성적보다 고르다.
- ㉡ A 반 학생 성적이 평균적으로 B 반 학생 성적보다 높다.
- ㉢ A 반 학생 성적의 표준편차가 B 반 학생 성적의 표준편차보다 크다.
- ㉣ 80 점 100 점 사이에 있는 학생은 B 반에 더 많다.
- ㉤ 중위권 학생은 A 반에 더 많다.

▶ 답: _____

▶ 답: _____

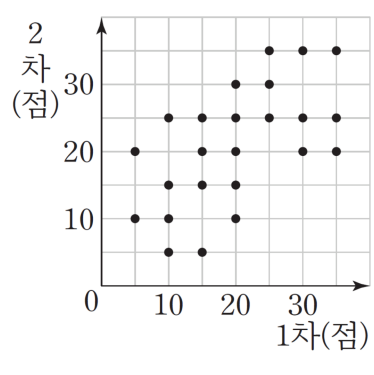
▶ 답: _____

22. 다음 히스토그램은 영진이네 반 학생 20명의 턱걸이 횟수를 조사하여 만든 것인데 일부가 찢어졌다. 계급값이 8인 도수가 전체의 25%일 때, 전체 학생의 분산을 구하여라. (단, 평균은 소수첫째자리에서 반올림한다.)



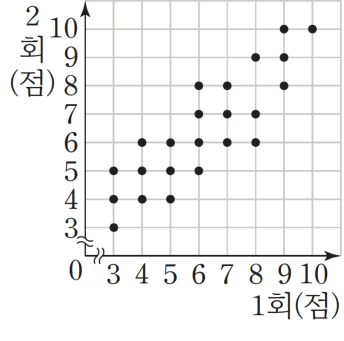
▶ 답: _____

23. 그림은 로희네 반 학생 24명의 음악 실기 시험 1차, 2차 점수를 조사하여 나타낸 산점도이다. 1차 점수가 상위 25% 이내에 드는 학생들과 하위 25% 이내에 드는 학생들의 2차 점수의 평균의 차를 구하시오.



▶ 답: _____

24. 성준이네 반 학생 23명의 회에 걸친 체육 실기 점수를 조사하여 나타낸 산점도이다. 1회의 실기 점수로 8등인 학생의 2회의 실기 점수로의 등수가 될 수 있는 것은?



- ① 4등 ② 7등 ③ 8등 ④ 10등 ⑤ 12등