


1. 안에 알맞은 수를 써넣으시오.

$$4.619 \times \square = 46.19$$


 답: _____

2. 다음 곱셈을 하시오.


$$\begin{array}{r} 3.08 \\ \times 16 \\ \hline \end{array}$$

 답: _____

3. 곱셈을 하시오.
 5.4×0.41

 답: _____

4. 전체 2000명의 학생 중 남학생은 전체의 0.53 이고, 남학생의 0.15 가 안경을 썼다고 합니다. 안경을 쓰지 않은 남학생은 몇 명입니까?

 답: _____ 명

5. 다음 중 계산 결과가 바르지 못한 것은 어느것입니까?

① $5.93 \times 1000 = 5930$

② $4.5 \times 10000 = 45000$

③ $70.4 \times 0.001 = 0.704$

④ $150 \times 0.01 = 1.5$

⑤ $32.4 \times 0.1 = 3.24$