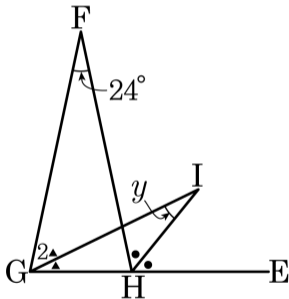
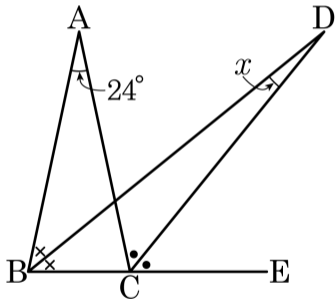


1. $\overline{AB} = \overline{AC}$, $\overline{FG} = \overline{FH}$ 인 $\triangle ABC, \triangle FGH$ 가 있다. $\angle C$ 의 외각의 이등분선과 $\angle B$ 의 이등분선의 교점을 D 라 하고, $\angle H$ 의 외각의 이등분선과 $\angle G$ 를 그림과 같이 2 : 1 로 나눈 선의 교점을 I 라고 한다. $\angle A = \angle F = 24^\circ$ 일 때, x 와 y 의 차는?



① 13°

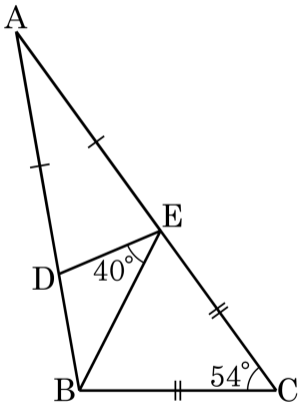
② 14°

③ 15°

④ 16°

⑤ 17°

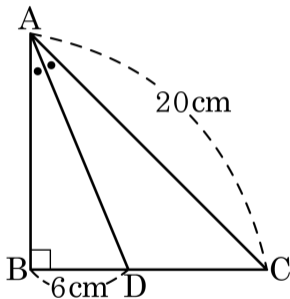
2. 다음 그림에서 $\triangle ADE$ 와 $\triangle EBC$ 는 이등변삼각형이다. $\angle DEB = 40^\circ$, $\angle C = 54^\circ$ 일 때, $\angle A$ 의 크기를 구하여라.



답: _____

°

3. 다음 그림과 같이 $\angle B = 90^\circ$ 인 직각삼각형 ABC 에서 $\angle A$ 의 이등분선이 \overline{BC} 와 만나는 점을 D 라 하자. $\overline{BD} = 6\text{cm}$, $\overline{AC} = 20\text{cm}$ 일 때, $\triangle ADC$ 의 넓이는 몇 cm^2 인지 구하여라. (단, 단위는 생략한다.)



① 56

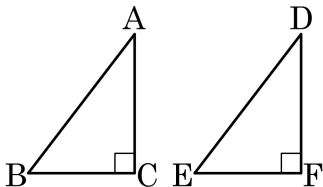
② 57

③ 58

④ 59

⑤ 60

4. 다음은 $\triangle ABC$ 와 $\triangle DEF$ 가 RHS 합동임을 보이려는 과정이다. 보이기 위해 필요한 것들로 옳은 것은?

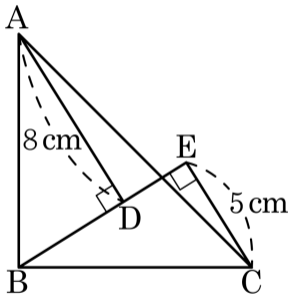


$\triangle ABC$ 와 $\triangle DEF$ 에서

$\therefore \triangle ABC \cong \triangle DEF$ (RHS 합동)

- ① $\angle A = \angle B$, $\overline{AB} = \overline{DE}$, $\overline{BC} = \overline{EF}$
- ② $\angle B = \angle E$, $\overline{AB} = \overline{DE}$, $\overline{BC} = \overline{EF}$
- ③ $\angle B = \angle E$, $\overline{AC} = \overline{DF}$, $\overline{BC} = \overline{EF}$
- ④ $\angle C = \angle F = 90^\circ$, $\overline{AB} = \overline{DE}$, $\overline{BC} = \overline{EF}$
- ⑤ $\angle C + \angle F = 360^\circ$, $\overline{AB} = \overline{DE}$, $\overline{BC} = \overline{EF}$

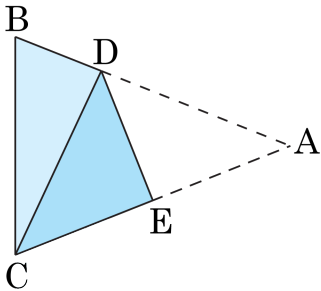
5. 다음 그림에서 $\triangle ABC$ 는 $\angle B = 90^\circ$ 인 직각이등변삼각형이다.
 $\angle ADB = \angle BEC = 90^\circ$ 일 때, \overline{DE} 의 길이를 구하여라.



답: _____

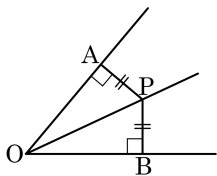
cm

6. 다음 그림은 $\angle B = \angle C$ 인 삼각형 ABC 를 점 A 가 점 C 에 오도록 접은 것이다. $\angle DCB = 25^\circ$ 일 때, $\angle A$ 의 크기를 구하여라.



➤ 답: _____ °

7. 다음의 도형에서 $\overline{PA} = \overline{PB}$ 이면 점 P는 $\angle AOB$ 의 이등분선 위에 위치함을 증명하려고 한다. 증명의 과정 중 옳지 않은 것을 골라라.



(증명)

$\triangle PAO$ 와 $\triangle PBO$ 에서 $\textcircled{1} \angle PAO = \angle PBO = 90^\circ$ 이고,

$\textcircled{2} \overline{PA} = \overline{PB}$ 이고, \overline{OP} 는 공통이므로

$\triangle PAO \equiv \triangle PBO$ ($\textcircled{3}$ RHA 합동)이다.

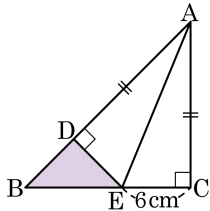
그러므로 $\textcircled{4} \angle POA = \angle POB$ 이다.

따라서 $\textcircled{5}$ 점 P는 $\angle AOB$ 의 이등분선 위에 위치한다.



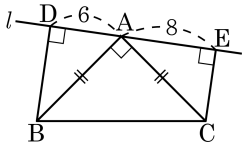
답: _____

8. 다음 그림의 $\triangle ABC$ 는 $\overline{AC} = \overline{BC}$ 인 직각이등변삼각형이다. 빗변 AB 위에 $\overline{AC} = \overline{AD}$ 가 되게 점 D 를 잡고, 점 D 를 지나며 \overline{AB} 에 수직인 직선과 \overline{BC} 와의 교점을 E 라 할 때, $\overline{EC} = 6\text{cm}$ 이다. $\triangle BDE$ 의 넓이는?



- ① 12cm^2 ② 14cm^2 ③ 16cm^2
 ④ 18cm^2 ⑤ 20cm^2

9. 다음 그림과 같이 $\angle A = 90^\circ$, $\overline{AB} = \overline{AC}$ 인 직각이등변삼각형 ABC 의 꼭짓점 B, C 에서 점 A 를 지나는 직선 l 위에 내린 수선의 발을 각각 D, E 라 할 때, $\overline{DB} + \overline{EC}$ 의 값은 ?



① 2

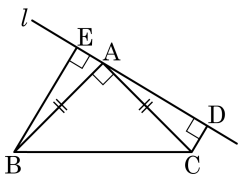
② 6

③ 8

④ 14

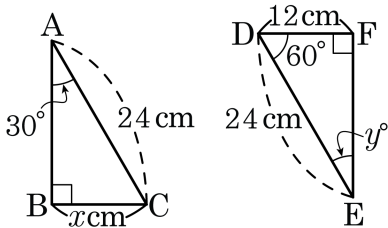
⑤ 16

10. 그림과 같이 직각이등변삼각형 ABC 의 직각인 꼭짓점 A 를 지나는 직선 l 에 점 B, C 에서 각각 내린 수선의 발을 E, D 라 하자. $\overline{AB} = \overline{AC}$ 이고, $\overline{BE} = 4$, $\overline{CD} = 1$ 일 때, \overline{ED} 를 구하여라.



답: _____

11. 두 직각삼각형 ABC, DEF 가 다음 그림과 같을 때, $x + y$ 의 값은?



① 12

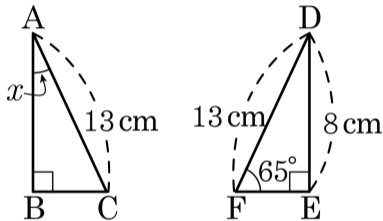
② 36

③ 42

④ 48

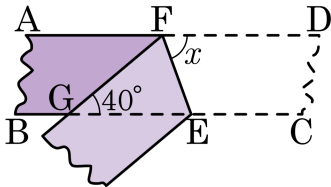
⑤ 60

12. 합동인 두 직각삼각형 ABC, DEF가 다음 그림과 같을 때, $\angle x$ 의 크기는?



- ① 65° ② 55° ③ 45° ④ 35° ⑤ 25°

13. 다음 그림과 같이 폭이 일정한 종이 테이프를 접었다. $\angle FGE = 40^\circ$ 일 때, $\angle x$ 의 크기는?



① 30°

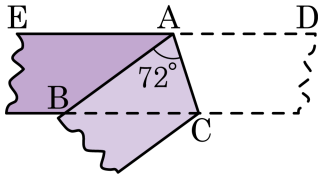
② 40°

③ 50°

④ 60°

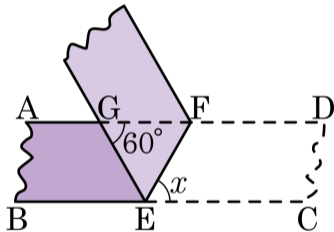
⑤ 70°

14. 폭이 일정한 종이테이프를 다음 그림과 같이 접었다. $\triangle ABC$ 는 어떤 삼각형인지 구하여라.



답: _____

15. 직사각형 모양의 종이를 다음 그림과 같이 접었다. $\angle FGE = 60^\circ$ 일 때, $\angle x$ 크기는?



① 30°

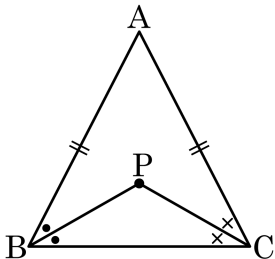
② 40°

③ 50°

④ 60°

⑤ 80°

16. 다음은 「 $\overline{AB} = \overline{AC}$ 인 이등변삼각형 ABC의 두 밑각 $\angle B$, $\angle C$ 의 이등분선의 교점을 P라 하면 $\triangle PBC$ 도 이등변삼각형이다.」를 보이는 과정이다.



$\overline{AB} = \overline{AC}$ 이므로

$\angle ABC =$

$\angle PBC =$ $\angle ABC$, $\angle PCB =$ $\angle ACB$

\therefore

즉, $\triangle PBC$ 의 두 내각의 크기가 같으므로 이다.

따라서 는 이등변삼각형이다.

(가) ~ (마)에 들어갈 것으로 옳지 않은 것은?

① (가) $\angle ACB$

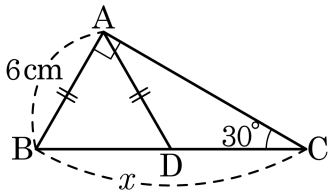
② (나) 2

③ (다) $\angle PBC = \angle PCB$

④ (라) $\overline{PB} = \overline{PC}$

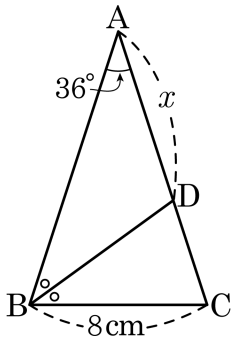
⑤ (마) $\triangle PBC$

17. 다음 직각삼각형 ABC 에서 $\overline{AD} = \overline{CD}$, $\overline{AB} = 6\text{cm}$ 이고, $\angle ACB = 30^\circ$ 일 때, x 의 길이는?



- ① 4cm ② 6cm ③ 8cm ④ 10cm ⑤ 12cm

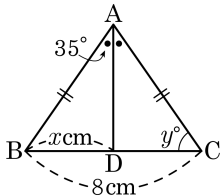
18. 다음 그림에서 $\triangle ABC$ 는 $\overline{AB} = \overline{AC}$ 인 이등변삼각형이다. $\angle B$ 의 이등분선이 \overline{AC} 와 만나는 점을 D 라 할 때, x 의 길이를 구하여라.



답:

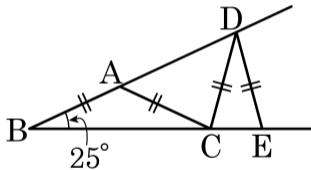
_____ cm

19. 다음 그림과 같이 $\overline{AB} = \overline{AC}$ 인 이등변삼각형 ABC 에서 꼭지각 A 의 이등분선이 \overline{BC} 와 만나는 점을 D 라고 할 때, $x+y$ 의 값을 구하여라.



답: _____

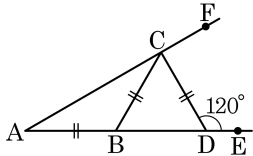
20. 다음 그림에서 $\overline{AB} = \overline{AC} = \overline{CD} = \overline{DE}$ 이다. $\angle B = 25^\circ$ 일 때, $\angle CDE$ 의 크기를 구하여라.



답: _____

°

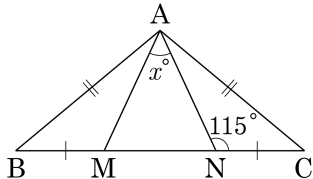
21. 다음 그림에서 $\overline{AB} = \overline{BC} = \overline{CD}$ 이고 $\angle CDE = 120^\circ$ 일 때, $\angle CAB$ 의 크기를 구하여라.



답: _____

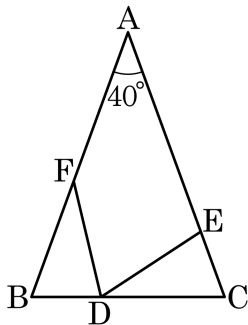
°

22. $\overline{AB} = \overline{AC}$ 인 이등변삼각형 ABC 에서 $\overline{BM} = \overline{CN}$ 이고, $\angle ANC = 115^\circ$ 일 때, $\angle x$ 의 크기를 구하여라.



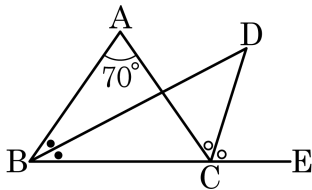
답:

23. 다음 그림에서 $\triangle ABC$ 는 $\overline{AB} = \overline{AC}$ 인 이등변삼각형이다. 점 D, E, F 는 각각 \overline{BC} , \overline{AC} , \overline{AB} 위의 점이고, $\overline{CD} = \overline{BF}$, $\overline{BD} = \overline{CE}$, $\angle A = 40^\circ$ 일 때, $\angle FDE$ 의 크기를 구하여라.



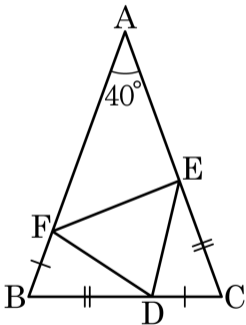
> 답: _____ °

24. $\triangle ABC$ 에서 $\overline{AB} = \overline{AC}$ 이고, $\angle C$ 의 외각의 이등분선과 $\angle B$ 의 이등분선의 교점을 D 라고 한다, $\angle A = 70^\circ$ 일 때, $\angle D$ 의 크기는?



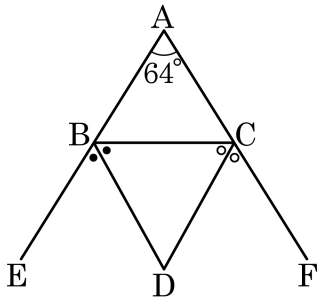
- ① 32.5° ② 35° ③ 37.5° ④ 40° ⑤ 42.5°

25. 다음 그림은 $\overline{AB} = \overline{AC}$, $\angle A = 40^\circ$ 인 이등변삼각형 ABC의 변 위에 $\overline{BD} = \overline{CE}$, $\overline{CD} = \overline{BF}$ 가 되도록 점 D, E, F를 잡은 것이다. 이 때, $\angle DEF$ 의 크기를 구하여라.



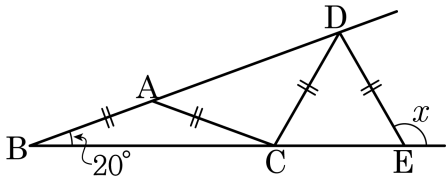
답: _____

26. 다음 그림에서 점 D는 $\angle ABC$, $\angle ACB$ 의 외각의 이등분선의 교점이다. $\angle A = 64^\circ$ 일 때, $\angle D$ 의 크기를 구하여라.



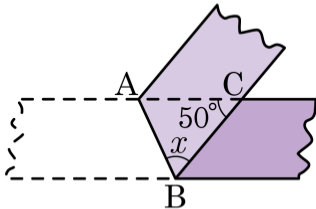
> 답: _____ °

27. 다음 그림과 같이 $\overline{AB} = \overline{AC} = \overline{CD} = \overline{DE}$ 이고 $\angle B = 20^\circ$ 일 때, $\angle x$ 의 크기는?



- ① 70° ② 80° ③ 90° ④ 100° ⑤ 120°

28. 다음 그림과 같이 폭이 일정한 종이 테이프를 접었다. $\angle ACB = 50^\circ$ 일 때, $\angle x$ 의 크기는?



① 45°

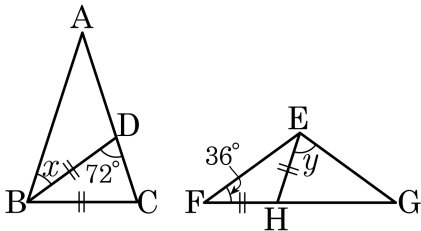
② 50°

③ 55°

④ 60°

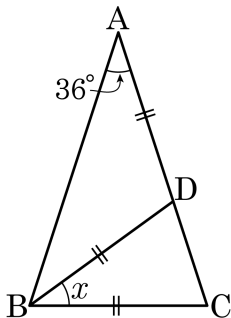
⑤ 65°

29. 다음 그림의 $\triangle ABC$ 와 $\triangle EFG$ 에서 $\overline{AB} = \overline{AC}$, $\overline{EF} = \overline{EG}$ 일 때, $\angle x + \angle y$ 의 크기는 ?



- ① 104° ② 105° ③ 106° ④ 107° ⑤ 108°

30. 다음 그림에서 $\triangle ABC$ 는 $\overline{AB} = \overline{AC}$ 인 이등변삼각형이고 $\overline{AD} = \overline{BD} = \overline{BC}$ 일 때, $\angle x$ 의 크기는?



① 36°

② 40°

③ 44°

④ 46°

⑤ 30°