

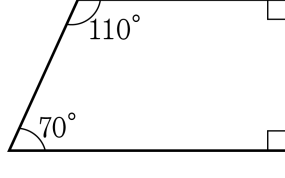
1. 다음 도형에 대하여 바르게 말한 것은 어느 것인지 구하시오.



- ① 네 변의 길이가 모두 같습니다.
- ② 마주 보는 변의 길이가 같습니다.
- ③ 마주 보는 한 쌍의 변이 평행입니다.
- ④ 네 각의 크기가 같습니다.
- ⑤ 마주 보는 두 각의 크기가 같습니다.



2. 이 도형의 이름을 있는 대로 모두 고르시오.

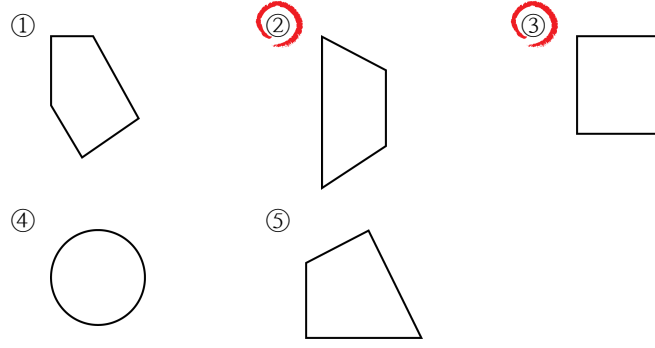


- ① 사각형 ② 정사각형 ③ 직사각형
 ④ 평행사변형 ⑤ 사다리꼴

해설

그림의 도형은 위, 아래 한 쌍의 변이 서로 평행한 사각형입니다.
따라서 이 도형은 사다리꼴입니다.

3. 다음 도형 중에서 사다리꼴이라고 할 수 있는 것을 모두 고르시오.



해설

한 쌍의 마주 보는 변이 평행한 사각형이 사다리꼴입니다.

4. 다음 중 사다리꼴에 대한 설명은 어느 것인지 구하시오.

- ① 두 쌍의 마주 보는 각의 크기가 같습니다.
- ② 적어도 한 개의 각은 직각입니다.
- ③ 한 쌍의 마주 보는 변의 길이가 같습니다.
- ④ 네 변의 길이가 항상 같습니다.
- ⑤ 한 쌍의 마주 보는 변이 평행입니다.

해설

사다리꼴은 한 쌍의 마주 보는 변이 평행인 사각형입니다.

5. 사다리꼴의 설명으로 바른 것은 어느 것인지 구하시오.

- ① 두 쌍의 마주 보는 변이 평행합니다.
- ② 네 변의 길이가 같습니다.
- ③ 한 쌍의 마주 보는 변이 평행합니다.
- ④ 네 각의 크기가 모두 직각입니다.
- ⑤ 네 각의 크기가 모두 같습니다.

해설

사다리꼴은 한 쌍의 마주 보는 변이 평행인 사각형입니다.

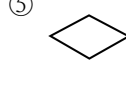
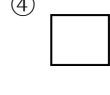
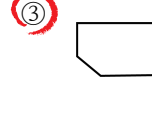
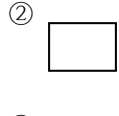
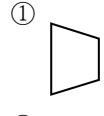
6. 다음 중 사다리꼴에 대한 설명으로 옳은 것은 어느 것인지 구하시오.

- ① 네 변의 길이가 모두 같습니다.
- ② 네 각의 크기가 모두 같습니다.
- ③ 마주 보는 두 변의 길이가 같습니다.
- ④ 마주 보는 두 각의 크기가 같습니다.
- ⑤ 한 쌍의 마주 보는 변이 서로 평행입니다.

해설

사다리꼴은 한 쌍의 마주 보는 변이 평행한 사각형입니다.

7. 다음 중 사다리꼴이 아닌 것은 어느 것인지 구하시오.

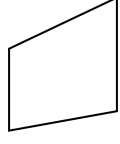


해설


사다리꼴은 한 쌍의 변이 평행한 사각형입니다.
③번은 오각형입니다.

8. 다음 중 사다리꼴이 아닌 것은 어느 것입니까?

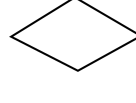
①



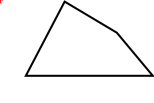
②




③



④



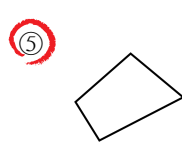
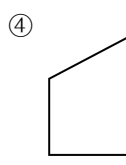
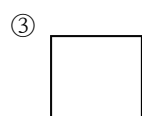
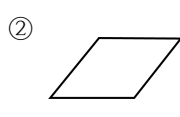
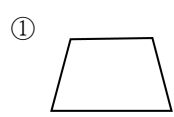
⑤



해설

사다리꼴은 한 쌍의 변이 평행한 사각형입니다.
④번은 사각형입니다.

9. 다음 중 사다리꼴이라고 할 수 없는 것은 어느 것인지 구하시오.

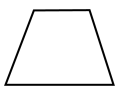


해설

사다리꼴은 한 쌍의 변이 평행한 사각형입니다.
⑤번은 사각형이다.

10. 다음 도형 중 사다리꼴이 아닌 것은 어느 것입니까?

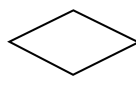
①



②



③



④



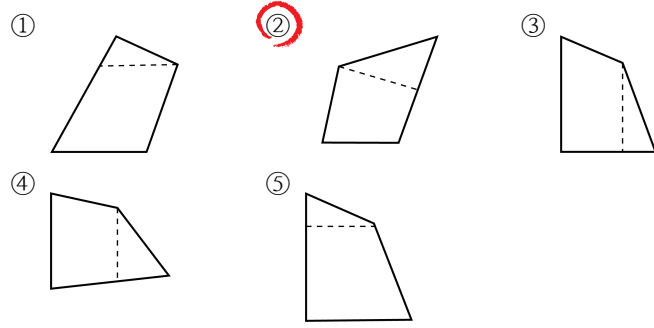
⑤



해설

④ 마주 보는 한 쌍의 변이 평행이 아니다.

11. 표시된 점선을 따라 사각형의 일부분을 잘라내어 사다리꼴을 만들려고 합니다. 사다리꼴이 되지 않는 것은 어느 것인지 구하시오.

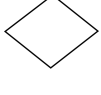


해설

사다리꼴 마주보는 한 쌍의 변이 평행인 사각형
다른 번호는 다른 한 변과 평행하게 자른 것이지만,
②번은 평행하게 자르지 않았습니다.

12. 다음 중 평행사변형이 아닌 것은 어느 것인지 고르시오.

①




②



③



④



⑤



해설

2 쌍의 마주 보는 변이 평행한 사각형을 평행사변형이라고 한다.

13. 평행사변형에 대한 설명으로 옳지 않은 것은 어느 것인지 고르시오.

- ① 두 쌍의 마주 보는 변이 평행입니다.
- ② 마주 보는 변의 길이가 같습니다.
- ③ 마주 보는 각의 크기가 같습니다.
- ④ 네 각의 크기가 같습니다.
- ⑤ 이웃하는 두 각의 합은 180° 입니다.

해설

평행사변형은 마주 보는 두 쌍의 변이 평행한 사각형입니다.
마주 보는 두 각의 크기가 같고, 두 변의 길이가 같습니다.

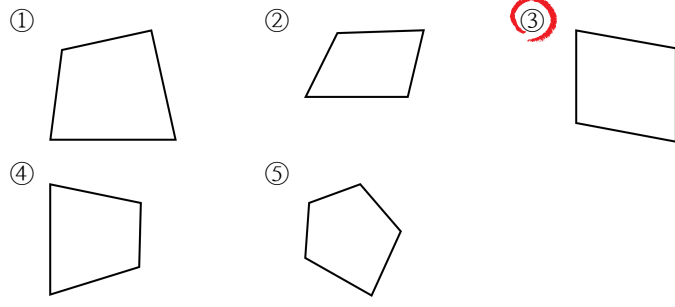
14. 평행사변형에 대한 설명으로 바르지 않은 것은 어느 것 입니까?

- ① 마주 보는 두 쌍의 변이 서로 평행입니다.
- ② 마주 보는 두 각의 크기가 같습니다.
- ③ 네 변의 길이가 모두 같습니다.
- ④ 이웃하는 두 각의 합은 180° 입니다.
- ⑤ 사다리꼴이라고 할 수 있습니다.

해설

평행사변형은 마주 보는 변이 서로 평행하고, 길이가 같다.
또한 마주 보는 각의 크기가 같다.
이웃하는 두 각의 합은 180° 이다.
③ 네 변의 길이가 모두 같다. : 마름모

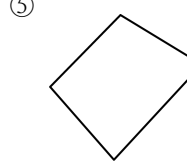
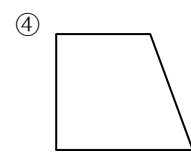
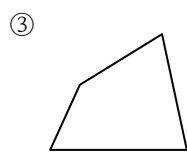
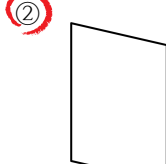
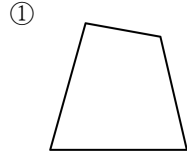
15. 평행사변형은 어느 것입니까?



해설

평행사변형은 두 쌍의 마주 보는 변이 서로 평행인 사각형이다.

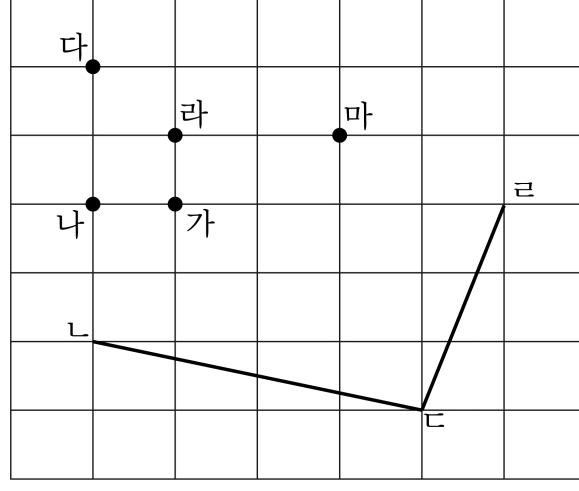
16. 평행사변형은 어느 것입니까?



해설

평행사변형은 마주 보는 두 쌍의 변이 평행이다.

17. 점판에서 꼭짓점의 위치를 어디로 하여 사각형을 완성하면 평행사변형이 됩니까?

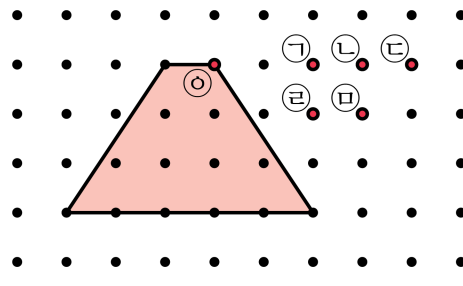


- ① 점 가 ② 점 나 ③ 점 다 ④ 점 라 ⑤ 점 마

해설

평행사변형은 마주보는 두 쌍의 변이 평행이고, 길이가 같은 사각형을 말합니다.
따라서 점 라를 연결하여 사각형을 완성하면 평행사변형이 됩니다.

18. 점판에서 꼭짓점 ㉠을 옮겨서 평행사변형이 되게 하려면 어느 점으로 옮겨야 하는지 구하시오.



- ① 점 ㉡ ② 점 ㉢ ③ 점 ㉣ ④ 점 ㉤ ⑤ 점 ㉥

해설

평행사변형은 마주보는 두 쌍의 변이 평행이고, 길이가 같은 사각형을 말합니다.

꼭짓점 ㉠을 옮겨 아랫변과 같은 길이가 되게 하려면, 5칸을 옮겨야 되므로 점 ㉣에 옮겨야 합니다.

19. 다음 마름모에 대한 설명 중 틀린 것을 모두 고르시오.

- ① 네 변의 길이가 모두 같다.
- ② 마주 보는 변의 길이가 서로 같다.
- ③ 이웃하는 각의 크기가 같다.
- ④ 마주 보는 각의 크기가 서로 같다.
- ⑤ 네 각의 크기가 모두 같다.

해설

마름모는 네 변의 길이가 같은 사각형이다. 마주 보는 두 쌍의 변이 서로 평행하고, 마주 보는 각의 크기가 같다. 따라서 틀린 설명은 ③, ⑤번이다.

20. 마름모에 대한 설명이 잘못된 것은 어느 것입니까?

- ① 마주 보는 변의 길이가 같다.
- ② 마주 보는 두 쌍의 변이 서로 평행이다.
- ③ 마주 보는 각의 크기가 같다.
- ④ 네 변의 길이가 모두 같다.
- ⑤ 네 각의 크기가 모두 같다.

해설

⑤ 네 각의 크기가 모두 같다. : 직사각형, 정사각형

21. 다음 마름모에 대한 설명 중 틀린 것은 어느 것인가?

- ① 마주 보는 각의 크기가 같다.
- ② 네 변의 길이가 같다.
- ③ 마름모는 정사각형이다.
- ④ 두 대각선은 서로를 반으로 나눈다.
- ⑤ 마주 보는 변은 평행하다.

해설

③ 정사각형은 마름모이다.

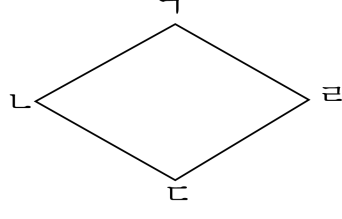
22. 다음 중 마름모의 성질이 아닌 것은 어느 것인가?

- ① 마주 보는 두 쌍의 변이 서로 평행하다.
- ② 마주 보는 두 각의 크기가 같다.
- ③ 네 각의 크기가 같다.
- ④ 네 변의 길이가 같다.
- ⑤ 평행사변형이라고 할 수 있다.

해설

마름모는 네 변의 길이가 같은 사각형이다.
③ 네 각의 크기가 같다. : 직사각형, 정사각형

23. 다음 도형에 대하여 바르게 말한 것을 모두 고르시오.(답 3개)

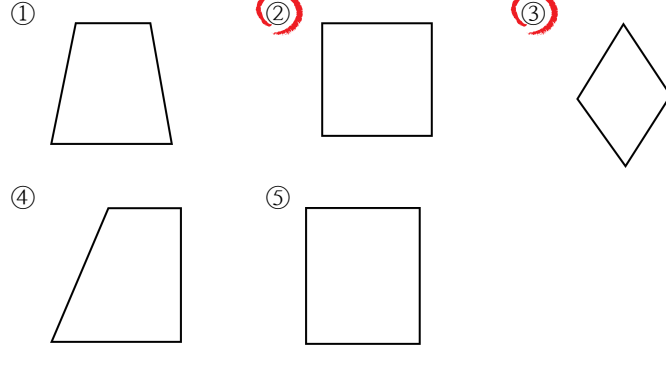


- ① 네 변의 길이가 모두 같다.
- ② 네 각의 크기가 모두 같다.
- ③ 마주 보는 각의 크기가 서로 다르다.
- ④ 마주 보는 변의 길이가 서로 같다.
- ⑤ 마주 보는 두 쌍의 변이 서로 평행이다.

해설

그림의 도형은 마름모이다.
마름모는 네 변의 길이가 같고, 마주 보는 두 쌍의 변이 평행하며,
마주 보는 두 각의 크기가 서로 같다.
따라서 정답은 ①, ④, ⑤이다.

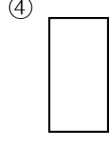
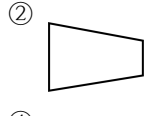
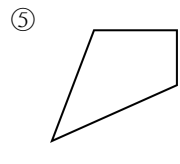
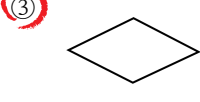
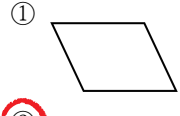
24. 다음 중 마름모를 모두 고르시오.



해설

마름모는 네 변의 길이가 모두 같은 사각형이다.

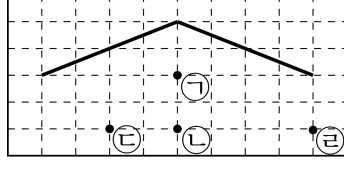
25. 마름모는 어느 것인지 쓰시오.



해설

네 변의 길이가 같은 사각형을 찾는다.

26. ㉠~㉣ 중 어느 점과 이으면 마름모를 그릴 수 있는지 구하시오.

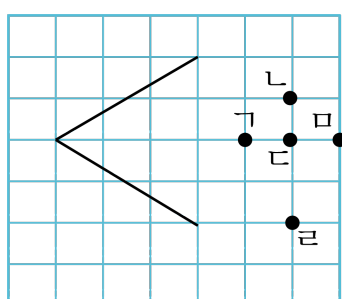


- ① ㉠ ② ㉡ ③ ㉢ ④ ㉣ ⑤ 없다.

해설

마름모는 네 변의 길이가 같은 사각형이다.
 마주 보는 각의 크기가 같고, 마주 보는 변이 서로 평행하고 길이가 같은 사각형이다.
 따라서 또 다른 한 점은 ㉠과 ㉢중에 하나인데,
 서로 같은 크기의 각이 되려면 점 ㉡이 정답이다.

27. ㄱ~ㅁ 중 어느 점과 이르면 마름모를 그릴 수 있는지 구하시오.

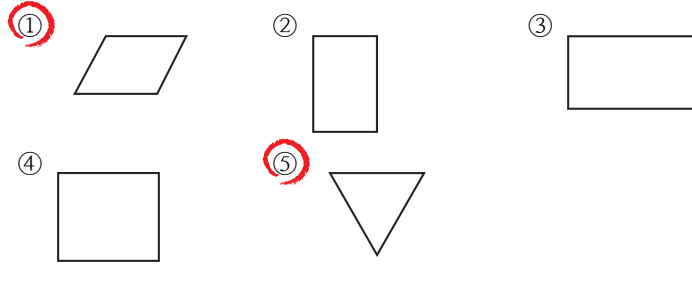


- ① ㄱ ② ㄴ ③ ㄷ ④ ㄹ ⑤ ㅁ

해설

마름모는 네 변의 길이가 같은 사각형이다.
마주 보는 각의 크기가 같고, 마주 보는 변이 서로 평행하고 길이가 같은 사각형이다.
따라서 점 ㅁ이 정답이다.

28. 다음 도형에서 직사각형이라고 할 수 없는 것은 어느 것인지 모두 고르시오.



해설

① 평행사변형 ⑤ 삼각형

29. 다음 중 정사각형과 직사각형이 공통으로 가지고 있는 성질이 아닌 것을 모두 고르시오.

- ① 네 각이 모두 직각이다.
- ② 네 변의 길이가 같다.
- ③ 두 쌍의 마주 보는 각의 크기가 각각 같다.
- ④ 두 대각선이 수직으로 만난다.
- ⑤ 평행사변형이라고 할 수 있다.

해설

- ② 네 변의 길이가 같다.
→ 정사각형, 마름모
- ④ 두 대각선이 수직으로 만난다.
→ 정사각형, 마름모

30. 다음 중 옳지 않은 것은 어느 것인지 고르시오.

- ① 정사각형은 마주 보는 두 변이 평행이다.
- ② 마름모는 네 변의 길이가 같다.
- ③ 평행사변형은 마주 보는 두 각의 크기가 서로같다.
- ④ 직사각형의 네 각은 모두 90이다.
- ⑤ 두 쌍의 마주 보는 변이 평행인 사각형은 사다리꼴이다.

해설

마주보는 한 쌍의 변이 서로 평행인 사각형이 사다리꼴이다.

31. 정사각형에 대한 설명 중 바르지 못한 것은 어느 것인지 고르시오.

- ① 네 각의 크기가 같습니다.
- ② 네 변의 길이가 같습니다.
- ③ 마주 보는 변이 평행합니다.
- ④ 사다리꼴이라 할 수 없습니다.
- ⑤ 평행사변형이라 할 수 있습니다.

해설

정사각형은 마주 보는 두 쌍의 변이 평행하므로 사다리꼴이라고 할 수 있다.

32. 다음 중 마주 보는 각을 향하여 접었을 때, 항상 포개지는 도형을 모두 고르시오.

- ① 사다리꼴 ② 평행사변형 ③ 마름모
④ 직사각형 ⑤ 정사각형

해설

네 변의 길이가 모두 같으면 포개진다.

33. 다음 중 네 각의 크기가 모두 같은 사각형을 모두 고르시오.

- ① 사다리꼴 ② 평행사변형 ③ 마름모
④ 직사각형 ⑤ 정사각형

해설

④, ⑤ 네 각의 크기가 모두 90° 이다.

34. 다음 중 직사각형과 정사각형의 공통점이 아닌 것은 어느 것인지 고르시오.

- ① 마주 보는 변의 길이가 같습니다.
- ② 마주 보는 각의 크기가 같습니다.
- ③ 네 변의 길이가 같습니다.
- ④ 네 각의 크기가 같습니다.
- ⑤ 평행사변형입니다.

해설

직사각형은 마주 보는 변의 길이가 서로 같다.

35. 직사각형과 정사각형의 공통점이 아닌 것을 모두 고르시오.

- ① 네 각이 모두 직각이다.
- ② 네 변의 길이가 모두 같다.
- ③ 마주 보는 두 쌍의 변이 서로 평행이다.
- ④ 평행사변형이라고 할 수 있다.
- ⑤ 마름모라고 할 수 있다.

해설

정사각형은 네 변의 길이가 같고
직사각형은 마주 보는 변의 길이가 서로 같다.

36. 다음 사각형에 대한 설명 중 틀린 것은 어느 것인지 고르시오.

- ① 사다리꼴 : 한 쌍의 마주 보는 변이 평행인 사각형
- ② 평행사변형 : 두 쌍의 마주 보는 변이 평행인 사각형
- ③ 정사각형 : 마주 보는 변의 길이가 같은 사각형
- ④ 직사각형 : 네 각이 모두 직각인 사각형
- ⑤ 마름모 : 네 변의 길이가 같은 사각형

해설

정사각형 : 네 변의 길이가 같고 네 각이 모두 직각인 사각형

37. 다음 중에서 네 각의 크기가 모두 같은 것은 사각형을 모두 고르시오.

- ① 정사각형 ② 직사각형 ③ 마름모
④ 평행사변형 ⑤ 사다리꼴

해설

네 각의 크기가 모두 같은 사각형은 정사각형과 직사각형이다.

38. 네 변의 길이가 같고, 네 각의 크기가 같은 도형은 어느 것인지 고르시오.

- ① 사다리꼴 ② 평행사변형 ③ 마름모
④ 직사각형 ⑤ 정사각형

해설

네 변의 길이가 같고, 네 각의 크기가 같은 도형은 정사각형이다.

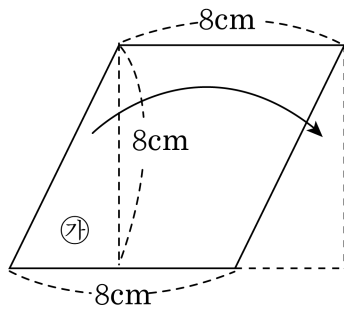
39. 다음 중 직사각형이라 말할 수 있는 것은 무엇인지 고르시오.

- ① 정사각형 ② 평행사변형 ③ 마름모
④ 사다리꼴 ⑤ 삼각형

해설

직사각형은 마주 보는 두 쌍의 변이 평행하고,
네 각이 직각으로 같은 사각형이다.

40. 다음 도형에서 ㉠을 화살표 방향으로 옮길 때 만들어지는 도형의 이름으로 가장 알맞은 것은 어느 것인지 고르시오.



- ① 마름모 ② 평행사변형 ③ 사다리꼴
 ④ 정사각형 ⑤ 삼각형

해설

㉠을 옮기게 되면 길이가 8cm로 모두 같고, 네 각이 직각이 된다. 따라서 정사각형이 된다.

41. 다음 중 평행사변형과 직사각형의 공통점을 모두 고르시오.

- ① 두 쌍의 마주 보는 변이 서로 평행이다.
- ② 네 변의 길이가 같다.
- ③ 네 각의 크기가 같다.
- ④ 마주 보는 변의 길이가 같다.
- ⑤ 이웃하는 각의 크기가 같다.

해설

② 직사각형
③, ④ 직사각형
평행사변형과 직사각형의 공통점은
두 쌍의 마주 보는 변이 서로 평행하고,
마주 보는 변의 길이가 같다.

42. 다음 중 평행사변형이 아닌 것을 모두 고르시오.

- ① 마름모 ② 직사각형 ③ 정사각형
④ 사다리꼴 ⑤ 사각형

해설

평행사변형은 마주 보는 두쌍의 변의 길이가
같고 평행인 사각형이다.

④ 사다리꼴 : 한 쌍의 마주 보는 변이 평행한 사각형

⑤ 사각형 : 네 개의 선분으로 이루어진 도형

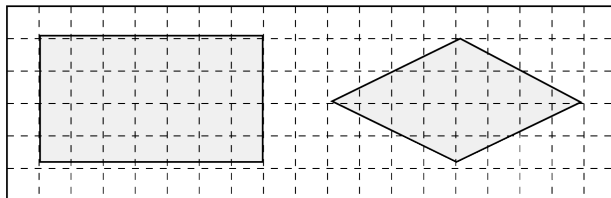
43. 다음 도형 중 마름모라고 할 수 있는 것은 어느 것인지 구하시오.

- ① 정사각형 ② 평행사변형 ③ 사다리꼴
④ 직사각형 ⑤ 사각형

해설

정사각형은 네 변의 길이가 같으므로 마름모라고 할 수 있다.

44. 다음 중에서 두 사각형의 공통점을 모두 고르시오.



- ① 두 쌍의 마주 보는 변이 각각 평행이다.
- ② 네 각의 크기가 모두 같다.
- ③ 네 변의 길이가 모두 같다.
- ④ 마주 보는 각의 크기가 각각 같다.
- ⑤ 마주 보는 변의 길이가 각각 같다.

해설

그림은 직사각형과 마름모이다.
사각형 중에서 직사각형과 마름모는
평행사변형이 될 수 있다.
평행사변형은 두 쌍의 마주 보는 변이
각각 평행하며, 길이가 같고, 마주 보는
각의 크기가 같다.
따라서 정답은 ①, ④, ⑤이다.

45. 다음 중 평행사변형의 성질과 직사각형의 성질을 모두 가지고 있는 도형을 모두 고르시오.

- ① 마름모 ② 평행사변형 ③ 사다리꼴
④ 직사각형 ⑤ 정사각형

해설

평행사변형은 마주 보는 변의 길이가 서로 같고 평행이며, 직사각형은 네 각이 모두 직각이다. 따라서, 네 각이 직각이고 마주 보는 변이 평행인 사각형은 직사각형과 정사각형이다.

46. 다음을 만족하는 도형을 모두 고르시오.

마주보는 두 쌍의 변이 서로 평행합니다.
네 변의 길이가 같습니다.
마주보는 각의 크기가 서로 같습니다.

- ① 사다리꼴 ② 평행사변형 ③ 마름모
④ 직사각형 ⑤ 정사각형

해설

마주보는 두 쌍의 변이 서로 평행하다.
-평행사변형, 마름모, 직사각형, 정사각형
네 변의 길이가 같다.
-마름모, 정사각형
마주보는 각의 크기가 서로 같다.
-평행사변형, 직사각형, 마름모, 정사각형
위의 세가지 조건을 모두 만족하는 도형은
마름모와 정사각형이다.
따라서 정답은 ③, ⑤번이다.

47. 네 각의 크기가 모두 같은 사각형을 모두 고르시오.

- ① 평행사변형 ② 사다리꼴 ③ 마름모
④ 직사각형 ⑤ 정사각형

해설

네 각이 크기가 90° 인 사각형을 찾는다.

48. 두 쌍의 마주 보는 변이 서로 평행인 도형이 아닌 것을 고르시오.

- ① 사다리꼴 ② 마름모 ③ 정사각형
④ 평행사변형 ⑤ 직사각형

해설

두 쌍의 마주 보는 변이 서로 평행인 도형
-평행사변형, 직사각형, 정사각형, 마름모
따라서 정답은 ①번이다.

해설

① 사다리꼴은 한 쌍의 마주 보는 변이
서로 평행인 사각형이다.

49. 네 변의 길이가 모두 같은 사각형을 모두 고르시오.

- ① 평행사변형 ② 마름모 ③ 사다리꼴
④ 직사각형 ⑤ 정사각형

해설

정사각형은 네 변의 길이가 모두 같으므로
마름모라고 말할 수 있다.

50. 다음 중 평행사변형이 가지는 성질을 갖는 것을 모두 고르시오.

- ① 사다리꼴 ② 사각형 ③ 정사각형
④ 마름모 ⑤ 다각형

해설

평행사변형은 두 쌍의 마주 보는 변의 길이가 같고 평행한 사각형이다. 따라서 정답은 ③, ④ 번 이다.

51. 다음 도형 중 마주 보는 두 쌍의 변이 평행하지 않은 사각형은 무엇입니까?

- ① 마름모 ② 사다리꼴 ③ 직사각형
④ 정사각형 ⑤ 평행사변형

해설

② 사다리꼴 : 마주 보는 한 쌍의 변이 평행인 사각형

52. 다음 중 마름모인 것은 어느 것입니까?

- ① 직사각형 ② 평행사변형 ③ 정사각형
④ 사다리꼴 ⑤ 다각형

해설

마름모는 네 변의 길이가 같은 사각형이다.
따라서 정답은 ③번이다.

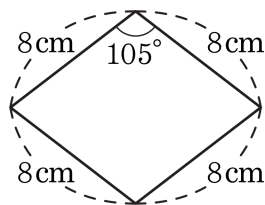
53. 다음 중 옳은 것은 어느 것입니까?

- ① 사다리꼴의 마주 보는 변의 길이는 각각 같습니다.
- ② 평행사변형의 네 변의 길이는 모두 같습니다.
- ③ 마름모는 네 각의 크기가 모두 같습니다.
- ④ 정사각형은 직사각형입니다.
- ⑤ 직사각형은 정사각형입니다.

해설

정사각형은 네 각이 모두 직각이므로 직사각형이다.

54. 다음 도형의 이름으로 옳지 않은 것을 모두 고르시오.

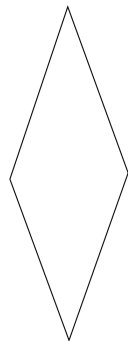


- ① 사다리꼴 ② 평행사변형 ③ 마름모
④ 정사각형 ⑤ 직사각형

해설

그림의 도형은 네 변의 길이가 같고
마주 보는 두 각의 크기가 같은 마름모이다.
마름모는 사다리꼴, 평행사변형이라 할 수 있다.
따라서 정답은 ④, ⑤번이다.

55. 다음 도형을 바르게 말한 것을 모두 고르시오.



- ① 사다리꼴 ② 직사각형 ③ 정사각형
 ④ 평행사변형 ⑤ 마름모

해설

마름모는 사다리꼴과 평행사변형이라고 할 수 있다.

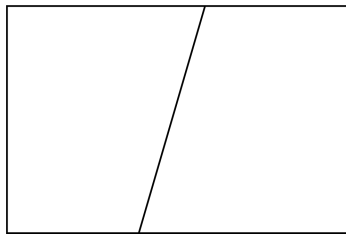
56. 직사각형이면서 마름모라고 할 수 있는 것은 어느 것입니까?

- ① 사다리꼴 ② 평행사변형 ③ 정삼각형
④ 정사각형 ⑤ 정오각형

해설

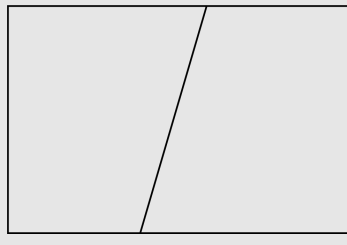
정사각형은 네 변의 길이가 같고,
네 각의 크기가 같다.

57. 다음 도형에서 찾을 수 있는 사각형의 이름을 모두 고르시오.



- ① 사다리꼴 ② 평행사변형 ③ 마름모
④ 직사각형 ⑤ 정사각형

해설



그림에서 보이는 사각형은 직사각형, 사다리꼴이다. 그러나 직사각형은 평행사변형도 될 수 있기 때문에 정답은 직사각형, 평행사변형, 사다리꼴이다. 정답은 ①, ②, ④번이다.

58. 다음 중 평행사변형이라 할 수 없는 것은 무엇인지 모두 고르시오.

- ① 직사각형 ② 정사각형 ③ 마름모
④ 사다리꼴 ⑤ 사각형

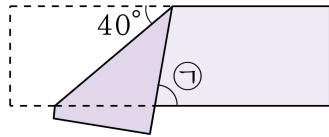
해설

평행사변형은 마주 보는 두 쌍의 변이 서로 평행인 사각형이다.

④ 사다리꼴 : 마주 보는 한 쌍의 변이 서로 평행한 사각형

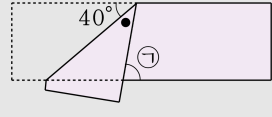
⑤ 사각형 : 네 변으로 둘러싸인 도형

59. 다음은 직사각형 모양의 종이를 접은 것입니다. 각 ㉠의 크기를 구하십시오.



- ① 40° ② 50° ③ 60° ④ 70° ⑤ 80°

해설



●은 종이가 접힌 부분으로 40° 이고,
평행선과 한 직선이 만날 때
반대쪽의 각의 크기는 같으므로 ㉠ 80° 입니다.

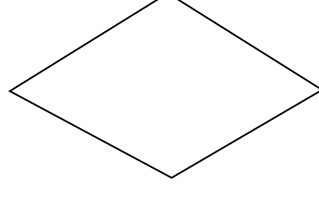
60. 다음 중 평행사변형이라고 말할 수 없는 도형을 모두 고르시오.

- ① 마름모 ② 사다리꼴 ③ 직사각형
④ 정사각형 ⑤ 정육각형

해설

평행사변형은 두 쌍의 마주보는 변이
평행인 사각형이다.

61. 다음 사각형의 이름이 아닌 것을 모두 고르시오.



- ① 정사각형 ② 직사각형 ③ 마름모
④ 평행사변형 ⑤ 사다리꼴

해설

마름모는 평행사변형, 사다리꼴이라고 할 수 있다.

62. 다음은 사각형 사이의 관계를 설명한 것입니다. 옳지 않은 것은 어느 것입니까?

- ① 직사각형은 정사각형입니다.
- ② 정사각형은 마름모입니다.
- ③ 평행사변형은 사다리꼴입니다.
- ④ 마름모는 사다리꼴입니다.
- ⑤ 정사각형은 평행사변형입니다.

해설

① 직사각형은 (네 변의 길이가 모두 같고, 네 각이 모두 직각이다.)에 맞지 않으므로, 정사각형이 아니다.

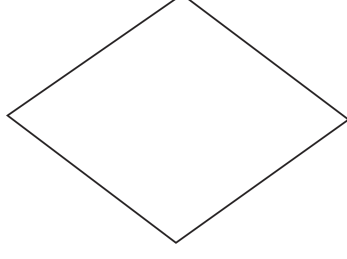
63. 다음 설명 중 옳지 않은 것은 어느 것입니까?

- ① 평행사변형은 사다리꼴입니다.
- ② 마름모는 평행사변형입니다.
- ③ 마름모는 정사각형입니다.
- ④ 직사각형은 사다리꼴입니다.
- ⑤ 정사각형은 직사각형입니다.

해설

마름모는 네 변의 길이가 같은 사각형이고,
정사각형은 네 변의 길이가 같고
네 각의 크기도 모두 같아야 하므로
마름모는 정사각형이라고 할 수 없다.

64. 다음 도형을 바르게 말한 것을 모두 고르시오.



- ① 정사각형 ② 직사각형 ③ 마름모
④ 평행사변형 ⑤ 사다리꼴

해설

주어진 도형은 마름모이다.
따라서, 마름모는 평행사변형과 사다리꼴이라고 할 수 있다.

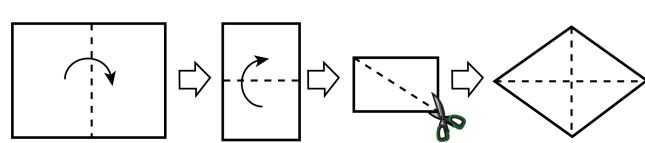
65. 다음 중 평행사변형과 마름모의 성질을 모두 만족하는 사각형은 어느 것입니까?

- ① 사다리꼴
- ② 평행사변형
- ③ 직사각형
- ④ 정사각형
- ⑤ 이등변사다리꼴

해설

평행사변형 : 두 쌍의 변이 평행하고 길이가 같은 사각형
마름모 : 네 변의 길이가 같은 사각형
따라서 정답은 ④번이다.

66. 직사각형의 종이를 다음과 같이 2 번 접어서 가위로 자르면 사각형이 1 개 생깁니다. 이 사각형과 관계 없는 것을 모두 고르시오.



- ① 정사각형
 ② 마름모
 ③ 사다리꼴
 ④ 평행사변형
 ⑤ 직사각형

해설

종이를 잘라서 마지막에 생긴 도형은 마름모이다.
 마름모는 네 변의 길이가 같고,
 두 쌍의 변이 평행하며,
 마주 보는 각의 크기가 같은 사각형이다.
 따라서, 마름모는 사다리꼴, 평행사변형
 이라 할 수 있다.

67. 아래 사각형의 이름이 아닌 것을 모두 고르시오.



- ① 평행사변형 ② 사다리꼴 ③ 직사각형
④ 마름모 ⑤ 정사각형

해설

그림의 사각형은 직사각형이다.
직사각형은 사각형 중에서 사다리꼴,
평행사변형이 될 수 있다.
따라서 정답은 ④, ⑤번이다.

68. 직사각형이면서 마름모라고 할 수 있는 도형은 어느 것입니까?

- ① 평행사변형 ② 정사각형 ③ 사다리꼴
④ 삼각형 ⑤ 오각형

해설

② 정사각형은 네 변의 길이가 모두 같고,
네 각의 크기도 모두 같다.

69. 다음 설명 중에서 바르게 말한 것의 기호를 모두 찾은 것을 고르시오.

㉠ 정삼각형은 예각삼각형입니다.
㉡ 정사각형, 마름모, 평행사변형은 마주 보는 각의 크기가 같고, 두 쌍의 마주 보는 변이 평행합니다.
㉢ 정사각형은 마름모, 평행사변형, 직사각형이라고 할 수 있습니다.

- ① ㉠, ㉡, ㉢ ② ㉠, ㉢ ③ ㉠, ㉡
④ ㉡ ⑤ ㉢

해설

정삼각형은 세 각이 같다.
정사각형은 네 변의 길이가 같고,
네 각이 직각으로 크기가 같은 사각형이다.
정사각형은 사다리꼴, 직사각형, 평행사변형,
마름모라고 할 수 있다.
따라서 모두 맞는 설명이다.

70. 다음은 사각형의 관계를 설명한 것입니다. 옳지 않은 것은 어느 것입니까?

- ① 정사각형은 마름모입니다.
- ② 직사각형은 정사각형입니다.
- ③ 평행사변형은 사다리꼴입니다.
- ④ 정사각형은 평행사변형입니다.
- ⑤ 직사각형은 사다리꼴입니다.

해설

직사각형은 항상 네 변의 길이가 같은 것이 아니므로 정사각형이라고 할 수 없다.

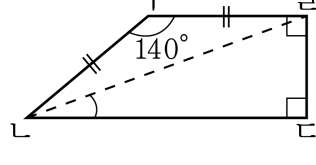
71. 네 각의 크기가 모두 같은 마름모는 어느 것입니까?

- ① 사다리꼴 ② 평행사변형 ③ 마름모
④ 직사각형 ⑤ 정사각형

해설

마름모는 네 변의 길이가 같으므로
네 변의 길이와 네 각의 크기가 같은
사각형을 찾는다.

72. 다음 사다리꼴 ABCD에서 각 C의 크기는 몇 °인지 구하시오.

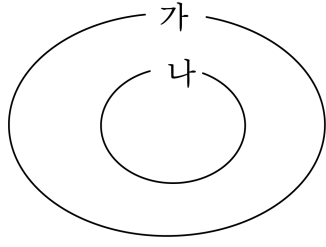


- ① 10° ② 20° ③ 30° ④ 40° ⑤ 50°

해설

삼각형 ABC는 이등변삼각형으로 양 끝 각이 20°씩입니다.
각 B는 140°입니다.
따라서 각 C는 20°가 됩니다.

73. 다음 그림은 가와 나 도형의 관계를 나타낸 것입니다. 가와 나 도형이 될 수 있는 도형끼리 차례로 짝지은 것이 아닌 것은 어느 것입니까?



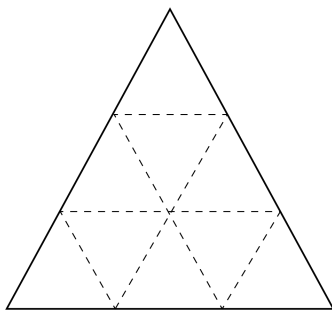
- ① 사다리꼴, 직사각형 ② 평행사변형, 마름모
- ③ 마름모, 정사각형 ④ 직사각형, 마름모
- ⑤ 사다리꼴, 마름모

해설

가와 나 두가지 도형이 될 수 있다는 것은 공통되는 성질이나 특징이 있어야 한다는 말이다. 또는 한 도형이 다른 도형의 성질을 모두 가지고 있으면 된다.

① 사다리꼴, 직사각형 : 직사각형은 사다리꼴이 될 수 있다.
 ② 평행사변형, 마름모 : 마름모는 평행사변형이 될 수 있다.
 ③ 마름모, 정사각형 : 정사각형은 마름모가 될 수 있다.
 ⑤ 사다리꼴, 마름모 : 마름모는 사다리꼴이 될 수 있다.
 따라서 정답은 ④이다.

74. 다음 도형에서 크고 작은 사다리꼴은 모두 몇 개입니까?



- ① 15개 ② 27개 ③ 30개 ④ 33개 ⑤ 36개

해설

사다리꼴은 한 쌍의 변이 평행한 사각형을 말합니다.

작은 삼각형 2개로 된 것 : 9개

작은 삼각형 3개로 된 것 : $4 \times 3 = 12$ (개)

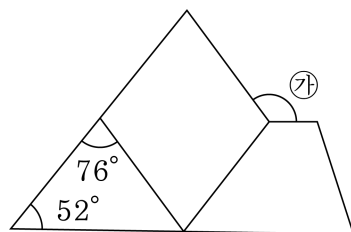
작은 삼각형 4개로 된 것 : $2 \times 3 = 6$ (개)

작은 삼각형 5개로 된 것 : $1 \times 3 = 3$ (개)

작은 삼각형 8개로 된 것 : $1 \times 3 = 3$ (개)

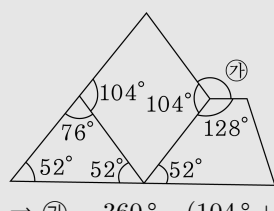
따라서 $9 + 12 + 6 + 3 + 3 = 33$ (개)입니다.

75. 다음 그림은 삼각형, 마름모, 사다리꼴을 붙여 놓은 것입니다. 각 ㉔의 크기는 몇 도입니까?



- ① 100° ② 110° ③ 118° ④ 128° ⑤ 134°

해설



$$\Rightarrow \textcircled{㉔} = 360^\circ - (104^\circ + 128^\circ) = 128^\circ$$