

1. 다음 중 이차방정식 $x^2 + 2x - 3 = 0$ 의 해는?

① -1

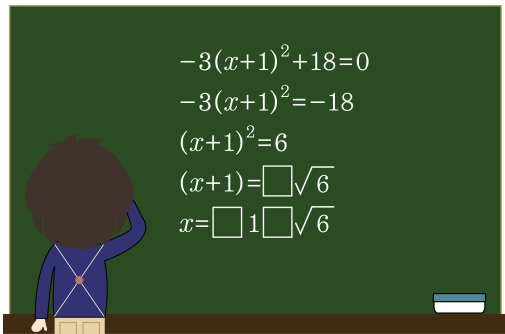
② 0

③ 1

④ 2

⑤ 3

2. 다음은 영태가 이차방정식 $-3(x+1)^2 + 18 = 0$ 의 해를 구하고 실수로 부호를 모두 지워버렸다. 에 알맞은 부호를 순서대로 써넣어라.



> 답: _____

> 답: _____

> 답: _____

3. 이차방정식 $9x^2 - 6x - 1 = 0$ 을 풀면?

① $x = \frac{1}{3}$ ($\frac{\sqrt{2}-1}{3}$)

② $x = -\frac{1}{3}$ ($\frac{\sqrt{2}-1}{3}$)

③ $x = \frac{6 \pm \sqrt{2}}{18}$

④ $x = \frac{2 \pm \sqrt{2}}{6}$

⑤ $x = \frac{1 \pm \sqrt{2}}{3}$

4. 다음 중에서 해가 $x = 2$ 또는 $x = -3$ 인 이차방정식은?

① $(x - 2)(x + 3) = 0$

② $(x + 2)(x - 3) = 0$

③ $(2x - 1)(3x + 1) = 0$

④ $(2x + 1)(3x - 1) = 0$

⑤ $(x - 2)(3x - 1) = 0$

5. 이차방정식 $-x^2 + 2x + 8 = 0$ 의 두 근의 합이 $x^2 - 2x + a = 0$ 의 근일 때, a 의 값은?

① -2

② -1

③ 0

④ 1

⑤ 2

6. x 에 관한 이차방정식 $x^2 + 10x + 25 = k - 8$ 이 중근 a 를 갖는다고 할 때, 상수 a, k 의 값은?

① $a = 5, k = 8$

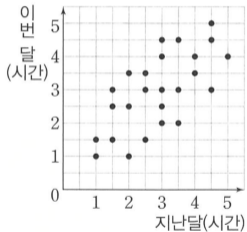
② $a = -5, k = 8$

③ $a = 5, k = -8$

④ $a = -5, k = -8$

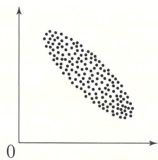
⑤ $a = 10, k = -8$

7. 수정이네 반 학생 25명의 지난달과 이번 달의 봉사 활동 시간을 조사하여 나타낸 산점도이다. 지난달과 이번 달 중에서 적어도 한 달은 봉사 활동을 3시간 30분 이상 한 학생은 몇 명인가?



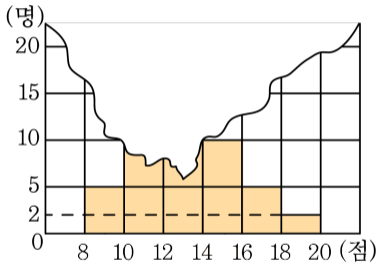
답: _____

8. 그림은 두 변량 사이의 관계를 산점도로 나타낸 것이다. 두 변량 사이의 상관관계가 그림과 같은 것은?



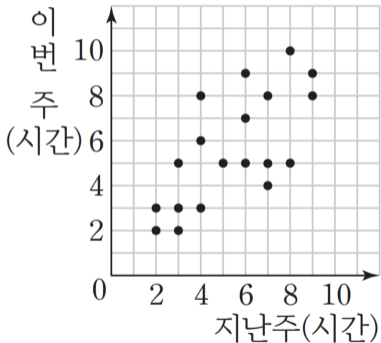
- ① 몸무게와 키
- ② 지능지수와 머리카락의 길이
- ③ 지면으로부터의 높이와 기온
- ④ 키와 가슴둘레
- ⑤ 여름철 기온과 음료수 판매량

9. 다음 히스토그램은 어느 반 학생 40 명의 미술 실기 점수를 나타낸 것인데, 일부가 찢어져 보이지 않는다. 미술 실기 점수가 10점 이상 12점 미만인 학생이 전체의 25%일 때, 전체 학생의 평균은?



- ① 13 점 ② 13.1 점 ③ 13.2 점
 ④ 13.3 점 ⑤ 13.4 점

10. 그림은 희진이네 반 학생 19명의 지난주와 이번 주 운동 시간을 조사하여 나타낸 산점도이다. 지난주와 이번 주 운동 시간의 평균이 5시간 미만인 학생 수를 구하시오.



> 답: _____