

1. $\sqrt{28-x}$ 이 자연수가 되도록 자연수 x 의 값을 모두 구하여라.

▶ 답:

▶ 답:

▶ 답:

▶ 답:

▶ 답:

▷ 정답: 27

▷ 정답: 24

▷ 정답: 19

▷ 정답: 12

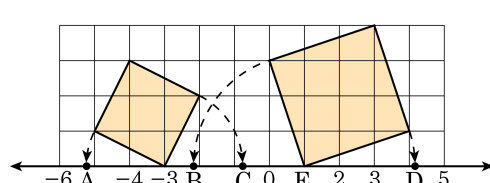
▷ 정답: 3

해설

$28-x=1, 4, 9, 16, 25$ 가 되어야 함.

$\therefore x=27, 24, 19, 12, 3$

2. 다음 그림의 수직선 위의 점 A, B, C, D 에 대응하는 수를 각각 a, b, c, d 라고 할 때, $(b+d)-(a+c)$ 값을 구하여라. (단, 모눈 한 칸은 한 변의 길이가 1 인 정사각형이다.)



▶ 답 :

▷ 정답 : 8

해설

(1) 작은 정사각형 한 변의 길이 : $\sqrt{5}$

$\therefore a = -3 - \sqrt{5}, c = -3 + \sqrt{5}$

(2) 큰 정사각형 한 변의 길이 : $\sqrt{10}$

$\therefore b = 1 - \sqrt{10}, d = 1 + \sqrt{10}$

$\therefore b + d = 1 - \sqrt{10} + 1 + \sqrt{10} = 2$

$\therefore a + c = -3 - \sqrt{5} + (-3 + \sqrt{5}) = -6$

따라서 $(b + d) - (a + c) = 2 - (-6) = 8$ 이다.

3. 두 실수 a, b 가 $a = \sqrt{7} - 6, b = \sqrt{3} + \sqrt{7}$ 일 때, 다음 중 옳은 것은?

보기

- ㉠ $b - a > 0$ ㉡ $a - b < 0$ ㉢ $ab < 0$
 ㉣ $a + 3 < 0$ ㉤ $b - \sqrt{7} < 2$

① ㉠

② ㉠, ㉡

③ ㉡, ㉣, ㉤

④ ㉠, ㉡, ㉣, ㉤

⑤ ㉠, ㉡, ㉣, ㉤, ㉥

해설

$$\begin{aligned} b - a &= \sqrt{3} + \sqrt{7} - (\sqrt{7} - 6) \\ \text{㉠} \quad &= \sqrt{3} + 6 \\ &= \sqrt{36} + \sqrt{9} > 0 \\ \therefore b - a &> 0 \\ a - b &= \sqrt{7} - 6 - (\sqrt{3} + \sqrt{7}) \\ \text{㉡} \quad &= -6 - \sqrt{3} \\ &= -\sqrt{36} - \sqrt{3} < 0 \\ \therefore a - b &< 0 \\ \text{㉢} \quad a &= \sqrt{7} - 6 = \sqrt{7} - \sqrt{36} < 0 \\ b &= \sqrt{3} + \sqrt{7} > 0 \\ \therefore ab &< 0 \\ \text{㉣} \quad a + 3 &= (\sqrt{7} - 6) + 3 = \sqrt{7} - 3 = \sqrt{7} - \sqrt{9} < 0 \\ \therefore a + 3 &< 0 \\ \text{㉤} \quad (\text{좌변}) &= b - \sqrt{7} = \sqrt{3} + \sqrt{7} - \sqrt{7} = \sqrt{3} \\ (\text{우변}) &= 2 = \sqrt{4} \\ \therefore b - \sqrt{7} &< 2 \end{aligned}$$

4. $\sqrt{(2-\sqrt{5})^2} + \sqrt{(2+\sqrt{5})^2}$ 의 식을 간단히 하면?

① $\sqrt{5}$

② 0

③ $2\sqrt{5}$

④ 4

⑤ $2\sqrt{5}+4$

해설

$\sqrt{5} > 2$ 이므로

$$\begin{aligned}\sqrt{(2-\sqrt{5})^2} + \sqrt{(2+\sqrt{5})^2} &= -2 + \sqrt{5} + 2 + \sqrt{5} \\ &= 2\sqrt{5}\end{aligned}$$

5. a 의 값의 범위가 $-2 < a < 2$ 일 때, $\sqrt{(a-2)^2} - \sqrt{(a+2)^2}$ 의 식을 간단히 하면?

① 0

② $-2a - 4$

③ -4

④ $-2a$

⑤ $2a$

해설

$$\sqrt{a^2} = \begin{cases} a \geq 0 \text{일 때, } a \\ a < 0 \text{일 때, } -a \end{cases} \text{이므로}$$

$$\sqrt{(a-2)^2} - \sqrt{(a+2)^2} = -a + 2 - a - 2 = -2a$$

6. $3 - \sqrt{2}$ 의 소수 부분은?

① $\sqrt{2} - 3$

② $2 - \sqrt{2}$

③ $\sqrt{2} - 2$

④ $-\sqrt{3} - 1$

⑤ $\sqrt{3} - 2$

해설

$1 < \sqrt{2} < 2$ 에서 $-2 < -\sqrt{2} < -1$ 이므로 $1 < 3 - \sqrt{2} < 2$ 이므로
정수 부분은 1

(소수 부분) = $(3 - \sqrt{2}) - 1 = 2 - \sqrt{2}$

7. $2 + \sqrt{5}$ 의 정수 부분을 a , 소수 부분을 b 라 할 때, $2a + b$ 의 값을 구하면?

① $4 + \sqrt{5}$

② $4 - \sqrt{5}$

③ $6 - \sqrt{5}$

④ $6 + \sqrt{5}$

⑤ $8 + \sqrt{5}$

해설

$2 < \sqrt{5} < 3$ 이고 $4 < 2 + \sqrt{5} < 5$ 이므로

정수 부분 $a = 4$

소수 부분은 $b = 2 + \sqrt{5} - 4 = \sqrt{5} - 2$

$$\begin{aligned} \therefore 2a + b &= 2 \times 4 + (\sqrt{5} - 2) \\ &= 8 + \sqrt{5} - 2 = 6 + \sqrt{5} \end{aligned}$$

8. $\sqrt{48} + \frac{2\sqrt{3}-9}{\sqrt{3}}$ 의 정수 부분을 구하면?

- ① 1 ② 2 ③ 3 ④ 4 ⑤ 5

해설

$$\begin{aligned}\sqrt{48} + \frac{2\sqrt{3}-9}{\sqrt{3}} &= 4\sqrt{3} + \frac{(2\sqrt{3}-9) \times \sqrt{3}}{\sqrt{3} \times \sqrt{3}} \\ &= 4\sqrt{3} + \frac{6-9\sqrt{3}}{3} \\ &= 4\sqrt{3} + 2 - 3\sqrt{3} = 2 + \sqrt{3}\end{aligned}$$

따라서, $1 < \sqrt{3} < 2$ 이고 $3 < 2 + \sqrt{3} < 4$ 이므로 구하는 정수부분은 3이다.

9. 9의 제곱근을 a , 20의 제곱근을 b 라고 할 때, $a^2 + b^2$ 의 값을 구하여라.

▶ 답 :

▷ 정답 : 29

해설

$$a^2 = 9, b^2 = 20$$

$$\therefore a^2 + b^2 = 9 + 20 = 29$$

10. $a < 0$ 일 때, 다음 중 옳은 것은?

① $-\sqrt{(-a)^2} = -a$

② $-\sqrt{-a^2} = -a$

③ $-\sqrt{a^2} = -a$

④ $\sqrt{(-a)^2} = -a$

⑤ $\sqrt{a^2} = a$

해설

$a < 0$ 인 경우, $\sqrt{a^2} = -a$ 이다.

① $-\sqrt{(-a)^2} = -\sqrt{a^2} = -(-a) = a$

② 음수의 제곱근은 존재하지 않는다.

③ a

⑤ $-a$

11. $\sqrt{180x}$ 가 양의 정수가 되도록 하는 가장 작은 두 자리의 자연수 x 를 구하여라.

▶ 답:

▷ 정답: $x = 20$

해설

$180x = 2^2 \times 3^2 \times 5 \times x$ 이고,
 x 는 가장 작은 두 자리의 자연수이므로
 $x = 2^2 \times 5 = 20$ 이다.

12. $12 < \sqrt{3x+40} < 15$ 일 때, $\sqrt{3x+40}$ 을 정수가 되게 하는 자연수 x 의 값을 구하여라.

▶ 답:

▶ 답:

▷ 정답: $x = 43$

▷ 정답: $x = 52$

해설

$$12 < \sqrt{3x+40} < 15$$

$$3x+40 = 13^2 = 169, x = 43$$

$$3x+40 = 14^2 = 196, x = 52$$

13. 부등식 $\sqrt{7} \leq x < 3\sqrt{6}$ 을 만족하는 짝수 x 를 구하여라.

▶ 답:

▶ 답:

▷ 정답: 4

▷ 정답: 6

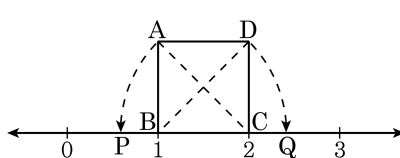
해설

$$\sqrt{7} \leq x < 3\sqrt{6} \text{ 이므로 } 7 \leq x^2 < 54$$

따라서 $x = 3, 4, 5, 6, 7$ 이다.

그러므로 이를 만족하는 짝수는 4, 6이다.

14. 다음 그림과 같이 수직선 위에 한 변의 길이가 1인 정사각형 ABCD 를 그렸다. 수직선 위의 두 점 P, Q 에 대응하는 두 좌표의 곱을 구하여라.



▶ 답:

▷ 정답: $\sqrt{2}$

해설

수직선 위의 두 점 P, Q 에 대응하는 두 점의 좌표는 다음과 같다.

$$P = 2 - \sqrt{2}$$

$$Q = 1 + \sqrt{2}$$

$$\begin{aligned} \text{(구하는 값)} &= (2 - \sqrt{2})(1 + \sqrt{2}) \\ &= 2 + 2\sqrt{2} - \sqrt{2} - 2 \\ &= \sqrt{2} \end{aligned}$$

15. 다음 보기 중 옳은 것은 모두 몇 개인지 구하여라.

보기

- ㉠ a 가 자연수 일 때, \sqrt{a} 가 유리수인 경우가 있다.
- ㉡ $\frac{\text{(정수)}}{\text{(0이 아닌 정수)}}$ 꼴로 나타낼 수 없는 수는 무리수이다.
- ㉢ 무리수에는 음수와 양수가 모두 존재 한다.
- ㉣ 근호 안의 수가 제곱수인 수는 무리수이다.
- ㉤ \sqrt{n} 이 무리수가 되는 것은 n 이 소수일 때이다.

▶ 답: 개

▷ 정답: 3개

해설

- ㉠ 근호 안의 수가 제곱수인 수는 유리수이다.
- ㉡ $\sqrt{6}$ 은 무리수이지만, 6은 소수가 아니다.

16. 다음 중 옳은 것을 고르면?

- ① 1 과 2 사이에 1 개의 유리수가 있다.
- ② $-\sqrt{5}$ 와 $-\sqrt{3}$ 사이에는 정수가 없다.
- ③ 0 과 5 사이에는 정수가 6 개 있다.
- ④ 0 과 $\sqrt{3}$ 사이에는 무수히 많은 무리수가 있다.
- ⑤ (무리수) - (무리수) = (무리수) 가 된다.

해설

- ① \times 1 과 2 사이에 무수히 많은 유리수가 있다.
- ② \times $-\sqrt{5}$ 와 $-\sqrt{3}$ 사이에는 -2 가 있다.
- ③ \times 0 과 5 사이에는 정수가 4개 있다.(1, 2, 3, 4로 4개 있다.)
- ④ \circ 0 과 $\sqrt{3}$ 사이에는 무수히 많은 무리수가 있다.
- ⑤ \times (무리수) - (무리수) 는 무리수가 될 수도 있고 유리수가 될 수도 있다.

17. $A = 2\sqrt{3} + 1$, $B = 5$, $C = 3\sqrt{2} + 1$, $D = \sqrt{15} + 1$, $E = 4\sqrt{3} - 1$ 일 때, A , B , C , D , E 를 수직선 상에 나타냈을 때, 가운데에 위치하는 것은?

- ① A ② B ③ C ④ D ⑤ E

해설

$$A = \sqrt{12} + 1 = 4. \dots$$

$$B = 5$$

$$C = 3\sqrt{2} + 1 = \sqrt{18} + 1 = 5. \dots$$

$$D = \sqrt{15} + 1 = 4. \dots$$

$$E = \sqrt{48} - 1 = 5. \dots$$

따라서 가운데에 위치하는 수는 5 이다.

18. $\sqrt{3} \times \sqrt{50} \div \sqrt{a} \times \sqrt{160} = 10\sqrt{5}$ 일 때, a 를 구하여라.

▶ 답:

▷ 정답: $a = 48$

해설

$$\sqrt{3} \times \sqrt{50} \times \frac{1}{\sqrt{a}} \times \sqrt{160} = 10\sqrt{5}$$

$$\sqrt{a} = \frac{\sqrt{3} \times \sqrt{50} \times \sqrt{160}}{10\sqrt{5}}$$

$$\sqrt{a} = \sqrt{\frac{3 \times 50 \times 160}{10 \times 10 \times 5}}$$

$$\sqrt{a} = \sqrt{48}$$

$$\therefore a = 48$$

19. $\sqrt{2} = a$, $\sqrt{3} = b$ 일 때, $\sqrt{54}$ 를 a, b 에 관한 식으로 나타낸 것은?

① $a + b$

② $a + b^3$

③ a^2b^3

④ ab^3

⑤ a^3b

해설

$$\sqrt{54} = \sqrt{2 \times 3 \times 3 \times 3} = \sqrt{2}(\sqrt{3})^3 = ab^3$$

20. $\sqrt{3} = a$, $\sqrt{5} = b$ 일 때, $\sqrt{0.008} + \sqrt{300}$ 을 a , b 를 이용하여 나타내면?

- ① $5a + \frac{1}{10}b$ ② $5a + \frac{1}{20}b$ ③ $10a + \frac{1}{15}b$
④ $10a + \frac{1}{25}b$ ⑤ $15a + \frac{1}{20}b$

해설

$$\begin{aligned}\sqrt{0.008} &= \sqrt{\frac{80}{10000}} = \frac{\sqrt{80}}{100} \\ &= \frac{\sqrt{2^4 \times 5}}{100} = \frac{4\sqrt{5}}{100} = \frac{1}{25}b \\ \sqrt{300} &= \sqrt{3 \times 100} = 10\sqrt{3} = 10a \\ \therefore \sqrt{0.008} + \sqrt{300} &= 10a + \frac{1}{25}b\end{aligned}$$

21. $x = \frac{\sqrt{3} + \sqrt{2}}{3}$, $y = \frac{\sqrt{3} - \sqrt{2}}{3}$ 일 때, $\frac{x-y}{\sqrt{2}} + \frac{x+y}{\sqrt{3}}$ 를 구하여라.

▶ 답:

▷ 정답: $\frac{4}{3}$

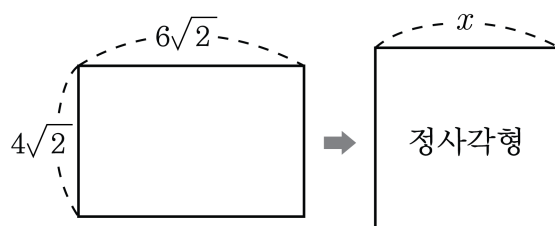
해설

$$x+y = \frac{\sqrt{3} + \sqrt{2}}{3} + \frac{\sqrt{3} - \sqrt{2}}{3} = \frac{2\sqrt{3}}{3}$$

$$x-y = \frac{\sqrt{3} + \sqrt{2}}{3} - \frac{\sqrt{3} - \sqrt{2}}{3} = \frac{2\sqrt{2}}{3}$$

$$\begin{aligned}\therefore (\text{준식}) &= \frac{1}{\sqrt{2}} \left(\frac{2\sqrt{2}}{3} \right) + \frac{1}{\sqrt{3}} \left(\frac{2\sqrt{3}}{3} \right) \\ &= \frac{2}{3} + \frac{2}{3} \\ &= \frac{4}{3}\end{aligned}$$

22. 가로 길이가 $6\sqrt{2}$ 이고, 세로 길이가 $4\sqrt{2}$ 인 직사각형과 넓이가 같은 정사각형의 한 변의 길이 x 를 $a\sqrt{b}$ 의 꼴로 나타내면? (단, b 는 제곱인 인수가 없는 자연수)



- ① $2\sqrt{3}$ ② $3\sqrt{3}$ ③ $4\sqrt{3}$ ④ $5\sqrt{3}$ ⑤ $6\sqrt{3}$

해설

직사각형의 넓이는 $6\sqrt{2} \times 4\sqrt{2} = 48$ 이다.
따라서 $x^2 = 48$ 이므로 정사각형의 한 변의 길이는 $\sqrt{48} = 4\sqrt{3}$ 이다.

23. $\sqrt{2} = a$, $\sqrt{6} = b$ 일 때, $\sqrt{0.96} + \sqrt{200}$ 을 a , b 를 이용하여 나타내면?

- ① $5a + \frac{1}{10}b$ ② $5a + \frac{1}{20}b$ ③ $10a + \frac{2}{5}b$
④ $10a + \frac{1}{25}b$ ⑤ $15a + \frac{1}{20}b$

해설

$$\sqrt{0.96} = \sqrt{\frac{96}{100}} = \frac{\sqrt{2^4 \times 6}}{10} = \frac{4\sqrt{6}}{10} = \frac{2}{5}b$$

$$\sqrt{200} = \sqrt{2 \times 100} = 10\sqrt{2} = 10a$$

$$\therefore \sqrt{0.96} + \sqrt{200} = 10a + \frac{2}{5}b$$

24. $\frac{2\sqrt{2}}{3} - \frac{\sqrt{3}}{2} - \frac{\sqrt{2}}{6} + \frac{\sqrt{3}}{3} = a\sqrt{2} + b\sqrt{3}$ 일 때, 유리수 a, b 에 대하여 $a+b$ 의 값을 구하여라.

▶ 답:

▷ 정답: $a+b = \frac{1}{3}$

해설

$$\begin{aligned} & \frac{2\sqrt{2}}{3} - \frac{\sqrt{3}}{2} - \frac{\sqrt{2}}{6} + \frac{\sqrt{3}}{3} \\ &= \frac{4\sqrt{2}}{6} - \frac{\sqrt{2}}{6} - \frac{3\sqrt{3}}{6} + \frac{2\sqrt{3}}{6} \\ &= \frac{\sqrt{2}}{2} - \frac{\sqrt{3}}{6} \end{aligned}$$

따라서 $a = \frac{1}{2}$, $b = -\frac{1}{6}$ 이므로 $a+b = \frac{1}{2} - \frac{1}{6} = \frac{1}{3}$ 이다.

25. $\sqrt{27} + \sqrt{2} \left(\frac{\sqrt{3}}{\sqrt{2}} - \sqrt{6} \right) - \sqrt{18} = a\sqrt{2} + b\sqrt{3}$ 일 때, $a + b$ 의 값을 구하여라.

▶ 답:

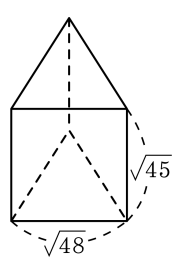
▷ 정답: $a + b = -1$

해설

$$\begin{aligned} & \sqrt{27} + \sqrt{2} \left(\frac{\sqrt{3}}{\sqrt{2}} - \sqrt{6} \right) - \sqrt{18} \\ &= 3\sqrt{3} + \sqrt{3} - 2\sqrt{3} - 3\sqrt{2} \\ &= -3\sqrt{2} + 2\sqrt{3} \\ &\therefore a = -3, b = 2 \\ &\text{따라서 } a + b = -3 + 2 = -1 \text{ 이다.} \end{aligned}$$

26. 다음 정삼각기둥의 모서리의 길이의 합은?

- ① $12\sqrt{3} + 5\sqrt{5}$ ② $12\sqrt{3} + 9\sqrt{5}$
③ $24\sqrt{3} + 5\sqrt{5}$ ④ $24\sqrt{3} + 9\sqrt{5}$
⑤ $24\sqrt{3} + 18\sqrt{5}$



해설

정삼각기둥의 모서리의 길이의 합은 $\sqrt{48} \times 6 + \sqrt{45} \times 3 = 24\sqrt{3} + 9\sqrt{5}$ 이다.

27. 제곱근표에서 $\sqrt{2} = 1.414$, $\sqrt{6} = 2.449$ 일 때, $\sqrt{0.02} + \sqrt{0.06}$ 의 제곱근의 값은?

① 3.863

② 38.63

③ 386.3

④ 0.3863

⑤ 0.03863

해설

$$\begin{aligned}\sqrt{0.02} + \sqrt{0.06} &= \sqrt{\frac{2}{100}} + \sqrt{\frac{6}{100}} \\ &= \frac{\sqrt{2}}{10} + \frac{\sqrt{6}}{10} = 0.1414 + 0.2449 \\ &= 0.3863\end{aligned}$$

28. $\sqrt{7}$ 의 정수 부분을 a , 소수 부분을 b 라고 할 때, $2a+b$ 를 구하여라.

▶ 답:

▷ 정답: $2 + \sqrt{7}$

해설

$a = 2$ 이므로, $b = \sqrt{7} - 2$ 가 된다.
 $2a + b = 2 \times 2 + (\sqrt{7} - 2) = 2 + \sqrt{7}$

29. $7 + \sqrt{3}$ 의 정수 부분을 a , 소수 부분을 b 라고 할 때, a, b 를 차례대로 구하여라.

▶ 답:

▶ 답:

▷ 정답: 8

▷ 정답: $-1 + \sqrt{3}$

해설

$\sqrt{3} = 1.\text{xxx}$ 이므로 $7 + \sqrt{3} = 8.\text{xxx}$ 이다.

$\therefore a = 8, b = 7 + \sqrt{3} - 8 = -1 + \sqrt{3}$

30. $\sqrt{5}$ 의 정수 부분을 a , 소수부분을 b 라고 할 때, $a(\sqrt{5}-b)$ 의 값을 구하면?

- ① 2 ② $\sqrt{5}$ ③ 4 ④ $2\sqrt{5}$ ⑤ 10

해설

$\sqrt{5}$ 의 정수부분 $a=2$, 소수 부분 $b=\sqrt{5}-2$ 이다.

$$\begin{aligned}(\text{준식}) &= 2\{\sqrt{5} - (\sqrt{5}-2)\} \\ &= 2(\sqrt{5} - \sqrt{5} + 2) \\ &= 2 \times 2 \\ &= 4\end{aligned}$$

31. $a * b = (a + b)^2$ 으로 정의할 때, $2x * (-y) + x * 2y$ 를 간단히 하면??

① $2x^2 + 2y^2$

② $3x^2 + 3y^2$

③ $4x^2 + 4y^2$

④ $5x^2 + 5y^2$

⑤ $6x^2 + 6y^2$

해설

$$\begin{aligned} & (2x - y)^2 + (x + 2y)^2 \\ &= 4x^2 - 4xy + y^2 + x^2 + 4xy + 4y^2 \\ &= 5x^2 + 5y^2 \end{aligned}$$

32. $\left(x - \frac{A}{3}\right)^2$ 을 전개한 식이 $x^2 + Bx + \frac{1}{9}$ 일 때, $A^2 + 9B^2$ 의 값을 구하여라. (단, A, B 는 상수)

- ① $\frac{1}{9}$ ② $\frac{1}{3}$ ③ 1 ④ 3 ⑤ 5

해설

$$x^2 - 2 \times x \times \frac{A}{3} + \left(\frac{A}{3}\right)^2 = x^2 - \frac{2}{3}Ax + \frac{A^2}{9}$$

$$A^2 = 1, B^2 = \frac{4}{9}A^2$$

$$\therefore A^2 + 9B^2 = 1 + 9 \times \frac{4}{9} = 5$$

33. 다음 중 $(-a+2b)^2$ 과 전개식이 같은 것은?

① $-(a-2b)^2$ ② $-(a+2b)^2$ ③ $(-a-2b)^2$

④ $(a-2b)^2$ ⑤ $(a+2b)^2$

해설

$$(-a+2b)^2 = a^2 - 4ab + 4b^2$$

$$\textcircled{1} -(a-2b)^2 = -a^2 + 4ab - 4b^2$$

$$\textcircled{2} -(a+2b)^2 = -a^2 - 4ab - 4b^2$$

$$\textcircled{3} (-a-2b)^2 = a^2 + 4ab + 4b^2$$

$$\textcircled{4} (a-2b)^2 = a^2 - 4ab + 4b^2$$

$$\textcircled{5} (a+2b)^2 = a^2 + 4ab + 4b^2 \quad (-a+2b)^2 = \{-(a-2b)\}^2 =$$

$$(a-2b)^2$$

34. $(x+2y)^2 - (2x-y)^2$ 을 전개하면?

- ① $-3x^2 + 3y^2$ ② $-3x^2 + 8xy + 3y^2$
③ $x^2 + 2xy + y^2$ ④ $3x^2 - 8xy + 3y^2$
⑤ $x^2 - 3xy + y^2$

해설

$$\begin{aligned} & (x+2y)^2 - (2x-y)^2 \\ &= (x^2 + 4xy + 4y^2) - (4x^2 - 4xy + y^2) \\ &= -3x^2 + 8xy + 3y^2 \end{aligned}$$

35. $(4x-a)\left(3x+\frac{1}{3}\right)$ 의 전개식에서 x 의 계수와 상수항이 서로 같을 때, 상수 a 의 값은?

- ① $-\frac{1}{3}$ ② $\frac{1}{12}$ ③ $\frac{1}{3}$ ④ $\frac{1}{2}$ ⑤ 1

해설

$$(4x-a)\left(3x+\frac{1}{3}\right) = 12x^2 + \left(-3a + \frac{4}{3}\right)x - \frac{1}{3}a$$

$$-3a + \frac{4}{3} = -\frac{1}{3}a$$

$$\therefore a = \frac{1}{2}$$

36. $(2x+a)(bx-3) = 8x^2 + cx - 9$ 일 때, 상수 a, b, c 의 합 $a+b+c$ 의 값은?

- ① 11 ② 12 ③ 13 ④ 14 ⑤ 15

해설

$$2bx^2 + (ab - 6)x - 3a = 8x^2 + cx - 9$$

$$-3a = -9 \Rightarrow a = 3$$

$$2b = 8 \Rightarrow b = 4$$

$$c = ab - 6 \Rightarrow c = 6$$

$$\therefore a + b + c = 13$$

37. $(2x + ay)^2 = bx^2 + cxy + 9y^2$ 일 때, $a - b + c$ 의 값을 구하여라. (단, $a > 0$)

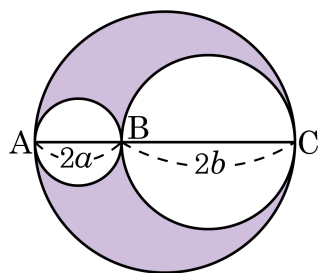
▶ 답 :

▷ 정답 : 11

해설

$$\begin{aligned}(2x + ay)^2 &= 4x^2 + 4axy + a^2y^2 \\ 4x^2 + 4axy + a^2y^2 &= bx^2 + cxy + 9y^2 \\ \therefore b &= 4 \\ a^2 &= 9 \\ \therefore a &= 3 (\because a > 0) \\ 4a &= c \\ \therefore c &= 12 \\ a - b + c &= 3 - 4 + 12 = 11\end{aligned}$$

38. 다음 그림에서 \overline{AC} 는 큰 원의 지름이고 나머지 원의 지름은 각각 $\overline{AB} = 2a$, $\overline{BC} = 2b$ 일 때, 색칠한 부분의 넓이 S 를 a , b 에 관한 식으로 나타내면?

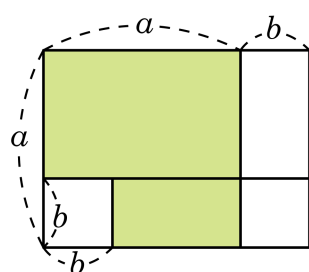


- ① $S = \pi ab$ ② $S = 2\pi ab$ ③ $S = 4\pi ab$
 ④ $S = 8\pi ab$ ⑤ $S = 16\pi ab$

해설

$$\begin{aligned}
 & \text{(색칠한 부분의 넓이)} \\
 & = (\text{큰 원의 넓이}) - (\text{작은 두 원의 넓이}) \\
 & = \pi \left(\frac{2a + 2b}{2} \right)^2 - (\pi a^2 + \pi b^2) \\
 & = \pi(a + b)^2 - \pi(a^2 + b^2) \\
 & = \pi(a^2 + 2ab + b^2 - a^2 - b^2) \\
 & = 2\pi ab
 \end{aligned}$$

39. 다음 그림에서 색칠한 부분의 넓이는?

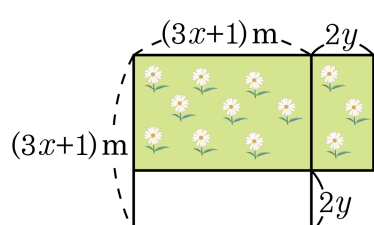


- ① $(a+b)^2 = a^2 + 2ab + b^2$
 ② $(a-b)^2 = a^2 - 2ab + b^2$
 ③ $(a+b)(a-b) = a^2 - b^2$
 ④ $(x+a)(x+b) = x^2 + (a+b)x + ab$
 ⑤ $(ax+b)(cx+d) = acx^2 + (ad+bc)x + bd$

해설

$$\begin{aligned}
 & \text{(색칠한 부분의 넓이)} \\
 & = \text{(전체의 넓이)} - \text{(색칠이 안 된 부분 넓이)} \\
 & = (a+b) \times a - (ab + b^2) \\
 & = a^2 + ab - ab - b^2 \\
 & = a^2 - b^2
 \end{aligned}$$

40. 철호네 가족은 다음 그림과 같이 한 변의 길이가 $(3x+1)m$ 인 정사각형의 꽃밭을 가로 길이는 $2ym(3x > y)$ 늘이고, 세로 길이는 $2ym$ 줄여서 새로운 꽃밭을 만들기로 하였다. 꽃밭의 넓이는?



- ① $9x^2 + 1 + 4y^2 + 6x + 4y + 12xy(m^2)$
 ② $9x^2 + 1 + 4y^2 + 6x - 4y - 12xy(m^2)$
 ③ $9x^2 + 6x + 1 - 4y^2(m^2)$
 ④ $6x^2 + 6x + 1 - 4y^2(m^2)$
 ⑤ $9x^2 + 1 + 4y^2(m^2)$

해설

변화된 꽃밭의 가로 길이는 $\{(3x+1) + 2y\}m$, 세로 길이는 $\{(3x+1) - 2y\}m$ 이다.
 따라서 변화된 꽃밭의 넓이는
 $\{(3x+1) + 2y\} \{(3x+1) - 2y\}$
 $= (3x+1)^2 - 4y^2$
 $= 9x^2 + 6x + 1 - 4y^2(m^2)$

41. $(x-1)(x-2)(x+2)(x+3)$ 을 전개했을 때 x 의 계수를 구하여라.

▶ 답:

▷ 정답: -8

해설

$$\begin{aligned} & (x-1)(x+2)(x-2)(x+3) \\ &= (x^2+x-2)(x^2+x-6) \\ & \quad x^2+x=t \text{라 하면} \\ & (x^2+x-2)(x^2+x-6) \\ &= (t-2)(t-6) \\ &= t^2-8t+12 \\ &= (x^2+x)^2-8(x^2+x)+12 \\ &= x^4+2x^3+x^2-8x^2-8x+12 \\ &= x^4+2x^3-7x^2-8x+12 \\ & \Rightarrow x \text{의 계수: } -8 \end{aligned}$$

42. $(x+y+3)(x+y-2) = Ax^2 + By^2 + Cxy + x + y - 6$ 이 성립할 때, $A+B+C$ 의 값은? (단, A, B, C 는 상수)

- ① -12 ② -6 ③ 0 ④ 4 ⑤ 8

해설

$x+y = t$ 로 치환하면

$$(t+3)(t-2) = t^2 + t - 6$$

$t = x+y$ 를 대입하면

$$(x+y)^2 + (x+y) - 6$$

$$= x^2 + 2xy + y^2 + x + y - 6$$

$$A = 1, B = 1, C = 2$$

$$\therefore A + B + C = 4$$

43. $(x-4-2y)(x-2y+3)$ 을 전개하면?

- ① $x^2 - 4xy + 4y^2 - x + 2y - 12$
- ② $x^2 - 4xy + 4y^2 - x + y - 12$
- ③ $x^2 - 2xy + 4y^2 - x + y - 12$
- ④ $x^2 - 2xy + 4y^2 - x + 2y - 12$
- ⑤ $x^2 - xy + 4y^2 - x + 2y - 12$

해설

$$\begin{aligned} & (x-4-2y)(x-2y+3) \text{에서 } x-2y=t \text{로 치환하면} \\ & (t-4)(t+3) = t^2 - t - 12 \\ & t = x-2y \text{를 대입하면} \\ & (x-2y)^2 - (x-2y) - 12 \\ & = x^2 - 4xy + 4y^2 - x + 2y - 12 \end{aligned}$$

44. $(3x+1)(3x-1) - 2(3x-1)^2$ 를 전개하면 $Ax^2 + Bx + C$ 일 때, C 의 값을 구하여라.

▶ 답:

▷ 정답: $C = -3$

해설

$$\begin{aligned}(\text{준식}) &= (3x-1)(3x+1-6x+2) \\ &= (3x-1)(-3x+3) \\ &= -9x^2 + 9x + 3x - 3 \\ &= -9x^2 + 12x - 3 \\ &= Ax^2 + Bx + C\end{aligned}$$

$$\therefore C = -3$$

45. 두 다항식 $x^2 - ax - 15$, $2x^2 - 9x + b$ 의 공통인 인수가 $x - 3$ 일 때, $a + b$ 의 값을 구하여라.

▶ 답:

▷ 정답: $a + b = 7$

해설

$$x^2 - ax - 15 = (x - 3)(x + 5)$$

$$-a = -3 + 5, a = -2$$

$$2x^2 - 9x + b = (x - 3)(2x + q)$$

$$q - 6 = -9, q = -3$$

$$b = -3 \times (-3), b = 9$$

$$\therefore a + b = 7$$

46. $(2x+5)(2x+9)+k$ 가 완전제곱식이 될 때, 상수 k 의 값을 구하여라.

▶ 답:

▷ 정답: $k = 4$

해설

$$4x^2 + 28x + 45 + k = (2x + 7)^2$$

$$\therefore k = 4$$

47. $(x+6)(x+2)+k$ 가 완전 제곱식이 될 때, 상수 k 의 값을 구하여라.

▶ 답:

▷ 정답: $k = 4$

해설

$$x^2 + 8x + 12 + k = 0$$

$$(x+4)^2 = 0$$

$$\therefore k = 4$$

48. $(2x - a)^2 = 4x^2 - (b - 5)x + 49$ 일 때, $a + b$ 의 값을 구하여라. (단, $a > 0$)

▶ 답:

▷ 정답: $a + b = 40$

해설

$$(2x - a)^2 = 4x^2 - 4ax + a^2$$

$$4x^2 - 4ax + a^2 = 4x^2 - (b - 5)x + 49 \text{ 이므로}$$

$$a^2 = 49 \quad \therefore a = 7$$

$$-(b - 5) = -4a, a = 7 \text{ 을 대입하면}$$

$$-(b - 5) = -28 \quad \therefore b = 33$$

$$\therefore a + b = 7 + 33 = 40$$

49. $0 < x < 7$ 일 때, $\sqrt{x^2 - 16x + 64} - \sqrt{x^2 + 10x + 25}$ 를 간단히 하면?

① $-2x + 3$

② $2x + 1$

③ $-2x - 5$

④ $3x - 1$

⑤ $-3x + 1$

해설

$$\begin{aligned} & \sqrt{x^2 - 16x + 64} - \sqrt{x^2 + 10x + 25} \\ &= \sqrt{(x-8)^2} - \sqrt{(x+5)^2} \\ &= |x-8| - |x+5| \\ &= -x+8 - x-5 = -2x+3 \end{aligned}$$

50. $-3 < x < -2$ 일 때, $\sqrt{x^2+6x+9} - 2\sqrt{x^2+4x+4} + \sqrt{x^2}$ 을 구하면?

① $-2x-1$

② $2x+7$

③ -1

④ $4x+7$

⑤ $4x-1$

해설

$$\begin{aligned} & \sqrt{(x+3)^2} - 2\sqrt{(x+2)^2} + \sqrt{x^2} \\ &= |x+3| - 2|x+2| + |x| \\ &= x+3 + 2x+4 - x \\ &= 2x+7 \end{aligned}$$

51. $\left(-\frac{1}{2}x - \frac{3}{5}y\right)^2$ 을 전개하면?

① $\frac{1}{2}x^2 + \frac{3}{5}xy + \frac{3}{20}y^2$

② $\frac{1}{2}x^2 + \frac{3}{5}xy + \frac{3}{5}y^2$

③ $\frac{1}{4}x^2 + \frac{3}{5}xy + \frac{9}{25}y^2$

④ $\frac{1}{4}x^2 + 3xy + \frac{3}{20}y^2$

⑤ $\frac{1}{4}x^2 + 9xy + \frac{9}{20}y^2$

해설

$$\begin{aligned}\left(-\frac{1}{2}x - \frac{3}{5}y\right)^2 &= \left(\frac{1}{2}x + \frac{3}{5}y\right)^2 \\ &= \left(\frac{1}{2}x\right)^2 + 2 \times \frac{1}{2}x \times \frac{3}{5}y + \left(\frac{3}{5}y\right)^2 \\ &= \frac{1}{4}x^2 + \frac{3}{5}xy + \frac{9}{25}y^2\end{aligned}$$

52. 다음 중에서 전개하였을 때의 전개식이 $(-x+y)^2$ 과 같은 것은?

- ① $(x-y)^2$ ② $(x+y)^2$ ③ $-(x-y)^2$
④ $-(x+y)^2$ ⑤ $(-x-y)^2$

해설

$$(-x+y)^2 = x^2 - 2xy + y^2$$

$$\textcircled{1} (x-y)^2 = x^2 - 2xy + y^2$$

$$\textcircled{2} (x+y)^2 = x^2 + 2xy + y^2$$

$$\textcircled{3} -(x-y)^2 = -x^2 + 2xy - y^2$$

$$\textcircled{4} -(x+y)^2 = -x^2 - 2xy - y^2$$

$$\textcircled{5} (-x-y)^2 = x^2 + 2xy + y^2 \quad (-x+y)^2 = \{-(x-y)\}^2 = (x-y)^2$$

53. $(1-y)(1+y)(1+y^2)(1+y^4)$ 을 간단히 하면?

① $1+y^{32}$

② $1+y^2$

③ $1-y^2$

④ $1-y^4$

⑤ $1-y^8$

해설

$$\begin{aligned}(1-y^2)(1+y^2)(1+y^4) &= (1-y^4)(1+y^4) \\ &= 1-y^8\end{aligned}$$

54. $\left(x - \frac{1}{5}\right)\left(x - \frac{1}{7}\right) = x^2 + ax + b$ 일 때, 상수 a, b 의 합 $a + b$ 의 값은?

- ① $-\frac{5}{7}$ ② $-\frac{11}{35}$ ③ $-\frac{12}{35}$ ④ $\frac{13}{35}$ ⑤ $\frac{16}{35}$

해설

$$\begin{aligned} & \left(x - \frac{1}{5}\right)\left(x - \frac{1}{7}\right) \\ &= x^2 + \left(-\frac{1}{5} - \frac{1}{7}\right)x + \left(-\frac{1}{5}\right) \times \left(-\frac{1}{7}\right) \\ &= x^2 - \frac{12}{35}x + \frac{1}{35} \\ &= x^2 + ax + b \\ &x \text{의 계수는 } -\frac{12}{35} \text{ 이고,} \\ &\text{상수항은 } \frac{1}{35} \text{ 이므로} \\ &a + b \text{ 는 } \left(-\frac{12}{35}\right) + \frac{1}{35} = -\frac{11}{35} \text{ 이다.} \end{aligned}$$

55. 다음 중 안에 들어갈 수가 나머지 넷과 다른 것은?

① $(x-4)(x+2) = x^2 - \square x - 8$

② $(-x+2y)(x+\square y) = -x^2 + 4y^2$

③ $(a+2)(3a-4) = 3a^2 + \square a - 8$

④ $(2x+1)^2 = 4x^2 + \square x + 1$

⑤ $(x+y-2)(x+y+2) = x^2 + \square xy + y^2 - 4$

해설

①, ②, ③, ⑤ : 2

④ : 4

56. 다음 전개식 중에서 옳지 않은 것은?

① $(-x-y)^2 = x^2 + 2xy + y^2$

② $(2x+y)(y-2x) = -4x^2 + y^2$

③ $(x-3)(x+5) = x^2 + 2x - 15$

④ $(2x+3y)(-5x+4y) = -10x^2 + 7xy + 12y^2$

⑤ $(3x-2)(x-y) = 3x^2 - 3xy - 2x + 2y$

해설

$$\begin{aligned} \text{④ } & (2x+3y)(-5x+4y) \\ &= -10x^2 + 8xy - 15xy + 12y^2 \\ &= -10x^2 - 7xy + 12y^2 \end{aligned}$$

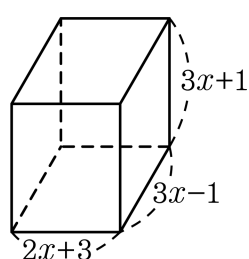
57. 세 모서리의 길이가 각각 $x+1$, $2x+1$, $2x-1$ 인 직육면체의 겉넓이를 나타낸 식은?

- ① $16x^2 + 8x - 2$ ② $16x^2 + 8x + 2$
③ $16x^2 - 12x + 4$ ④ $16x^2 + 12x - 4$
⑤ $16x^2 - 8x + 8$

해설

$$\begin{aligned} & 2 \times \{(x+1)(2x+1) + (2x+1)(2x-1) + (2x-1)(x+1)\} \\ &= 2(8x^2 + 4x - 1) \\ &= 16x^2 + 8x - 2 \end{aligned}$$

58. 다음 그림과 같이 세 모서리의 길이가 각각 $2x+3$, $3x-1$, $3x+1$ 인 직육면체의 겉넓이는?



- ① $18x^2 + 36x + 3$ ② $36x^2 + 18x + 3$
 ③ $42x^2 + 18x - 2$ ④ $42x^2 + 24x - 2$
 ⑤ $42x^2 + 36x - 2$

해설

$$\begin{aligned}
 & \text{(직육면체의 겉넓이)} \\
 &= (\text{옆면의 넓이}) + (\text{밑면의 넓이}) \times 2 \\
 &= 2(2x+3+3x-1)(3x+1) + 2(2x+3)(3x-1) \\
 &= 2(5x+2)(3x+1) + 2(6x^2+7x-3) \\
 &= 30x^2+22x+4+12x^2+14x-6 \\
 &= 42x^2+36x-2
 \end{aligned}$$

59. $(x+1+2y)(x+1-2y)$ 를 전개한 것은?

① $x^2 - 2y - 4y^2 + 1$

② $x^2 - 4xy + 1$

③ $x^2 - 2xy - 4y^2 + 1$

④ $x^2 + 2x - 4y^2 + 1$

⑤ $x^2 - 2x + 4y^2 + 1$

해설

$$\begin{aligned}x+1 &= t \text{라 하면} \\(x+1+2y)(x+1-2y) &= (t+2y)(t-2y) \\&= t^2 - 4y^2 \\&= (x+1)^2 - 4y^2 \\&= x^2 + 2x - 4y^2 + 1\end{aligned}$$

60. $x(x-1)(x+2)(x-3) = x^4 + ax^3 + bx^2 + cx$ 에서 상수 a, b, c 의 합 $a+b+c$ 의 값은?

- ① -3 ② -1 ③ 2 ④ 3 ⑤ 6

해설

$$\begin{aligned} & x(x-1)(x+2)(x-3) \\ &= \{x(x-1)\}\{(x+2)(x-3)\} \\ &= (x^2-x)(x^2-x-6) \\ & x^2-x = t \text{로 치환하면 } t(t-6) = t^2-6t \\ & t = x^2-x \text{를 대입하여 정리하면 } x^4 - 2x^3 - 5x^2 + 6x \\ & \text{따라서 } a+b+c = -2-5+6 = -1 \text{이다.} \end{aligned}$$

61. 다음 중 주어진 수의 계산을 간편하게 하기 위하여 이용할 수 있는 곱셈 공식으로 적절하지 않은 것은?

① $91^2 \rightarrow (a+b)^2 = a^2 + 2ab + b^2$

② $597^2 \rightarrow (a-b)^2 = a^2 - 2ab + b^2$

③ $103^2 \rightarrow (a+b)^2 = a^2 + 2ab + b^2$

④ $84 \times 75 \rightarrow (a+b)(a-b) = a^2 - b^2$

⑤ $50.9 \times 49.1 \rightarrow (a+b)(a-b) = a^2 - b^2$

해설

④ $84 \times 75 = (80+4)(80-5)$

$(x+a)(x+b) = x^2 + (a+b)x + ab$

62. 다음 중 주어진 수의 계산을 간편하게 하기 위하여 이용되는 곱셈 공식을 가장 바르게 나타낸 것은? (단, 문자는 자연수)

① $201^2 \Rightarrow (a-b)^2$

② $499^2 \Rightarrow (a+b)^2$

③ $997^2 \Rightarrow (a+b)(a-b)$

④ $103 \times 97 \Rightarrow (ax+b)(cx+d)$

⑤ $104 \times 105 \Rightarrow (x+a)(x+b)$

해설

① $201^2 = (200+1)^2 \Rightarrow (a+b)^2$

② $499^2 = (500-1)^2 \Rightarrow (a-b)^2$

③ $997^2 = (1000-3)^2 \Rightarrow (a-b)^2$

④ $103 \times 97 = (100+3)(100-3) \Rightarrow (a+b)(a-b)$

63. $(3x - 2y - z)^2$ 의 전개식에서 xy 의 계수는?

- ① -12 ② -6 ③ 1 ④ 4 ⑤ 9

해설

$(3x - 2y - z)^2$
에서 $3x - 2y = A$ 로 치환하면
 $(A - z)^2$
 $= A^2 - 2zA + z^2$
 $= (3x - 2y)^2 - 2z(3x - 2y) + z^2$
위 식에서 xy 의 항이 나오는 경우는
 $2 \times 3x \times -2y = -12xy$ 이므로
 xy 의 계수는 -12 이다.

64. $x - y = 5$, $x^2 + y^2 = 9$ 일 때, xy 의 값은?

- ① -5 ② -8 ③ -10 ④ -12 ⑤ -14

해설

$$(x - y)^2 + 2xy = x^2 + y^2$$

$$25 + 2xy = 9$$

$$2xy = -16$$

$$\therefore xy = -8$$

65. $x + y = 5$, $x^2 + y^2 = 13$ 일 때, xy 의 값은?

- ① -6 ② -12 ③ 4 ④ 6 ⑤ 12

해설

$$(x + y)^2 = x^2 + 2xy + y^2$$

$$25 = 13 + 2xy$$

$$2xy = 12$$

$$\therefore xy = 6$$

66. $x + y = 3$, $xy = -4$ 일 때, $(x - y)^2$ 의 값은?

- ① 20 ② 25 ③ 7 ④ 5 ⑤ 10

해설

$$(x - y)^2 = (x + y)^2 - 4xy = 3^2 - 4 \times (-4) = 25$$

67. $x + y = 3$, $xy = -4$ 일 때, $x^2 + y^2 - xy$ 의 값은?

- ① 18 ② 19 ③ 20 ④ 21 ⑤ 22

해설

$$\begin{aligned}x^2 - xy + y^2 &= (x + y)^2 - 3xy \\ &= 3^2 - 3 \times (-4) \\ &= 21\end{aligned}$$

68. $x^2 - 3x + 1 = 0$ 일 때, $x(x+1) + \frac{1}{x}\left(\frac{1}{x} + 1\right)$ 의 값을 구하여라.

▶ 답:

▷ 정답: 10

해설

$x^2 - 3x + 1 = 0$ 의 양변을 x 로 나누면 $x - 3 + \frac{1}{x} = 0$ 이다.

$$\therefore x + \frac{1}{x} = 3$$

주어진 식을 정리하면

$$x(x+1) + \frac{1}{x}\left(\frac{1}{x} + 1\right) = x^2 + x + \frac{1}{x^2} + \frac{1}{x} = x^2 + \frac{1}{x^2} + \left(x + \frac{1}{x}\right)$$

이므로

$$x^2 + \frac{1}{x^2} = \left(x + \frac{1}{x}\right)^2 - 2 = 3^2 - 2 = 9,$$

$$\therefore x(x+1) + \frac{1}{x}\left(\frac{1}{x} + 1\right) = \left(x^2 + \frac{1}{x^2}\right) + \left(x + \frac{1}{x}\right) = 9 + 3 = 12$$

69. $x + y = 1$, $xy = -3$ 일 때, $x^4 + y^4$ 의 값을 구하여라.

▶ 답:

▷ 정답: 31

해설

$x + y = 1$, $xy = -3$ 이므로

$$\begin{aligned}x^2 + y^2 &= (x + y)^2 - 2xy \\ &= 1^2 - 2 \times (-3) \\ &= 7\end{aligned}$$

$$\begin{aligned}\therefore x^4 + y^4 &= (x^2 + y^2)^2 - 2x^2y^2 \\ &= 7^2 - 2 \times (-3)^2 \\ &= 31\end{aligned}$$

70. $a + b = 6$, $ab = 8$ 일 때, $a^2 + b^2$ 의 값은?

- ① 0 ② 10 ③ 15 ④ 18 ⑤ 20

해설

$$a^2 + b^2 = (a + b)^2 - 2ab \text{ 이므로, } 6^2 - 2 \times 8 = 36 - 16 = 20$$

71. 다음 보기 중 $a^2(x-y) + 2ab(y-x)$ 의 인수를 모두 고른 것은?

보기

㉠ $a(y+x)$

㉡ $a(x-y)(a-b)$

㉢ $a(a-2b)$

㉣ $x(a-2b)$

㉤ $x-y$

㉥ $(x-y)(a-2b)$

① ㉠,㉢,㉤

② ㉡,㉣,㉤

③ ㉢,㉣,㉤

④ ㉢,㉣,㉥

⑤ ㉣,㉤,㉥

해설

$$\begin{aligned} a^2(x-y) + 2ab(y-x) &= a^2(x-y) - 2ab(x-y) \\ &= a(x-y)(a-2b) \end{aligned}$$

72. $-9a^3b + 6a^2b$ 의 인수가 아닌 것은?

① a^2b

② ab^2

③ $-3b$

④ $-3ab$

⑤ $3a - 2$

해설

$$-9a^3b + 6a^2b = -3a^2b(3a - 2)$$

73. 다음 중 인수분해를 바르게 한 것은?

① $ma + mb - m = m(a + b)$

② $64a^2 + 32ab + 4b^2 = (8a + 2b)^2$

③ $-4a^2 + 9b^2 = (2a + 3b)(2a - 3b)$

④ $x^2 - 5x - 6 = (x - 2)(x - 3)$

⑤ $2x^2 - 5xy + 3y^2 = (x - 3y)(2x - y)$

해설

① $ma + mb - m = m(a + b - 1)$

③ $-4a^2 + 9b^2 = -(2a + 3b)(2a - 3b)$

④ $x^2 - 5x - 6 = (x - 6)(x + 1)$

⑤ $2x^2 - 5xy + 3y^2 = (2x - 3y)(x - y)$

74. 다음 중 인수분해를 바르게 한 것은?

① $ma + mb - m = m(a + b)$

② $64a^2 + 32ab + 4b^2 = (8a + 2b)^2$

③ $-4a^2 + 9b^2 = (2a + 3b)(2a - 3b)$

④ $x^2 - 5x - 6 = (x - 2)(x - 3)$

⑤ $2x^2 - 5xy + 3y^2 = (x - 3y)(2x - y)$

해설

① $ma + mb - m = m(a + b - 1)$

③ $-4a^2 + 9b^2 = -(2a + 3b)(2a - 3b)$

④ $x^2 - 5x - 6 = (x - 6)(x + 1)$

⑤ $2x^2 - 5xy + 3y^2 = (2x - 3y)(x - y)$

75. $12ax^2 - 12axy + 3ay^2$ 을 인수분해하면?

- ① $12(ax - ay)^2$ ② $6a(x - y)^2$ ③ $(6ax - ay)^2$
④ $3a(x - y)^2$ ⑤ $3a(2x - y)^2$

해설

$$\begin{aligned} 12ax^2 - 12axy + 3ay^2 &= 3a(4x^2 - 4xy + y^2) \\ &= 3a(2x - y)^2 \end{aligned}$$

76. $\sqrt{7}$ 의 소수 부분을 a 라 할 때, $3(a - \sqrt{7})$ 의 값을 구하여라.

▶ 답:

▷ 정답: -6

해설

$$2 < \sqrt{7} < 3 \text{ 이므로 } a = \sqrt{7} - 2$$

$$3(a - \sqrt{7}) = 3(\sqrt{7} - 2 - \sqrt{7}) = -6$$