



1. 다음을 계산하시오.

$$24 + 37 - 43$$

 답: \_\_\_\_\_

2. 다음을 계산하시오.

$$36 \div 6 \times 7$$

 답: \_\_\_\_\_

3. 한 묶음이 21 권인 공책 13묶음이 있습니다. 학생 39명에게 나누어 주면 한 사람이 몇권씩 받겠습니까?


▶ 답: \_\_\_\_\_ 권

4. 3학년 12명은 6명씩 모둠을 만들고, 4학년 9명은 3명씩 모둠을 만들었습니다. 만든 모둠은 모두 몇 모둠입니까?

▶ 답: \_\_\_\_\_ 모둠

5. ○안에 >, =, < 를 알맞게 써넣으시오.

$$24 + (14 - 8) \quad \bigcirc \quad 54 + 12 - 25$$

 답: \_\_\_\_\_

6. 식이 성립하도록 ( )를 넣어야 할 부분은 다음 중 어느 것입니까?

$$53 - 12 + 24 - 7 = 10$$

- ①  $53 - 12$                       ②  $12 + 24$                       ③  $24 - 7$   
④  $53 - 12 + 24$                   ⑤  $12 + 24 - 7$

7. 서연이네 반 학생들은 모두 버스와 전철을 타고 코엑스 몰에 놀러갔습니다. 버스를 타고 온 학생수가 29명인데, 이수는 전철을 타고 도착한 학생수의 2배보다 5명이 많은 수입니다. 서연이네 반 전체 학생 수는 몇 명입니까?

▶ 답: \_\_\_\_\_ 명