

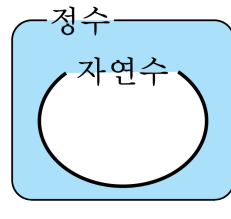
1. 다음 중 음수로 나타낼 수 있는 것을 모두 고르면?(정답 2개)

- ① 수면 아래 1500m
- ② 키 110cm
- ③ 3000 원 지출
- ④ 해발 1965m
- ⑤ 영상 25°C

해설

수면 아래는 음의 부호로 나타내고, 수면 위는 양의 부호로 나타낸다. 키는 양의 부호를 가진다.
온도는 영상과 영하로 나누어질 수 있는데 0°C 를 기준으로 영상이면 양의 부호를, 영하이면 음의 부호로 나타낼 수 있다.

2. 다음 그림의 색칠한 부분에 속하는 수를 바르게 구한 것은?



- ① $-1, 0, 1$ ② $0, 1, 2$ ③ $+1, +2, +3$
④ $-2, -1, +1$ ⑤ $-3, -1, 0$

해설

색칠한 부분은 0 과 음의 정수이다.

3. 수직선 위에서 -5 와 2 를 나타내는 점의 한가운데에 있는 점을 나타내는 수는?

① -3 ② -2.5 ③ -1.5 ④ 0 ⑤ 0.5

해설

-5 와 2 를 나타내는 점의 한가운데에 있는 점은 $\frac{(-5) + (+2)}{2} = -\frac{3}{2}$ 이다. 따라서 ③이다.

4. 절댓값이 $\frac{12}{5}$ 이하인 정수가 아닌 것은?

- ① 0 ② -1 ③ +1 ④ -2 ⑤ +2.4

해설

절댓값이 $\frac{12}{5}$ 이하인 정수이고 $\frac{12}{5} = 2.4$ 이므로 절댓값이 0, 1, 2 인 정수는 0, 1, -1, 2, -2이다. 따라서 절댓값이 $\frac{12}{5}$ 이하인 정수가 아닌 것은 +2.4이다.

5. 수직선에서 두 정수 사이의 거리가 10 이고, 절댓값이 같고 부호가 다른 두 정수 중 큰 정수는?

① -10 ② -5 ③ 0 ④ 5 ⑤ 10

해설

두 정수의 절댓값이 같고 두 정수 사이의 거리가 10 이므로 원점에서 두 정수까지의 거리는 5 이다.
따라서 큰 수는 5, 작은 수는 -5 이다.

6. 절댓값이 3이하인 유리수 중 정수의 개수는?

- ① 3개 ② 4개 ③ 5개 ④ 6개 ⑤ 7개

해설

절댓값이 3이하인 유리수 중 정수는 $-3, -2, -1, 0, 1, 2, 3$ 이다.

7. x 의 절댓값이 13, y 의 절댓값이 4이다. $x \times y > 0$ 일 때, xy 의 값은?

- ① -52 ② 2 ③ 5 ④ 25 ⑤ 52

해설

x 의 절댓값이 13이므로 x 는 13, -13
 y 의 절댓값이 4이므로 y 는 4, -4
 $x \times y > 0$ 일 때는 $x = 13, y = 4$ 또는 $x = -13, y = -4$ 이므로
 $xy = 13 \times 4 = 52$ 또는 $xy = (-13) \times (-4) = 52$ 이다.

8. 다음 \square 안에 들어갈 부등호의 방향이 나머지 넷과 다른 하나는?

① $-12 \square -10$

② $-0.7 \square 1.3$

③ $-1.2 \square -\frac{1}{5}$

④ $\frac{5}{2} \square -\frac{4}{3}$

⑤ $-\frac{3}{5} \square \frac{5}{7}$

해설

① $-12 < -10$

② $-0.7 < 1.3$

③ $-1.2 < -\frac{1}{5}$

④ $\frac{5}{2} > -\frac{4}{3}$

⑤ $-\frac{3}{5} < \frac{5}{7}$

9. 다음 수들에 대한 설명으로 옳은 것은?

보기

3.4, -3, $\frac{2}{7}$, 0, -0.4, $-\frac{2}{9}$, 4

- ① 음수 : 2 개 ② 음의 정수 : 2 개
③ 양의 유리수 : 3 개 ④ 유리수 : 6 개
⑤ 정수 : 2 개

해설

- ① 음수는 3 개이다.
② 음의 정수는 1 개이다.
④ 유리수는 7 개이다.
⑤ 정수는 3 개이다.

10. 다음 중 옳은 것은?

- ① 0은 유리수가 아니다.
- ② 가장 작은 유리수는 0이다.
- ③ 유리수는 분자가 0이 아닌 정수이고, 분모는 정수로 나타낼 수 있는 수이다.
- ④ 서로 다른 두 유리수 사이에는 무수히 많은 유리수가 존재한다.
- ⑤ 유리수는 양의 유리수와 음의 유리수로 되어있다.

해설

- ① 0은 유리수이다.
- ② 0은 가장 작은 유리수가 아니다.
- ③ 유리수는 분자가 정수이고, 분모가 0이 아닌 정수로 나타낼 수 있는 수이다.
- ⑤ 유리수는 정수와 정수가 아닌 유리수로 되어있다.

11. 다음 중 옳은 것을 고른 것은?

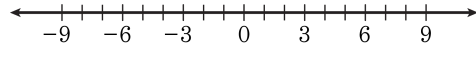
- ㉠ 유리수는 분자가 정수이고, 분모는 정수로 나타낼 수 있는 수이다.
- ㉡ 0은 유리수가 아니다.
- ㉢ 서로 다른 두 유리수 사이에는 유리수가 존재하지 않는다.
- ㉣ 유리수는 정수와 정수가 아닌 유리수로 되어 있다.

① ㉠ ② ㉡ ③ ㉢ ④ ㉣ ⑤ ㉢,㉣

해설

- ㉠ 유리수는 분자가 정수이고, 분모가 0이 아닌 정수로 나타낼 수 있는 수이다.
- ㉡ 0은 유리수이다.
- ㉢ 서로 다른 두 유리수 사이에는 무수히 많은 유리수가 존재한다.

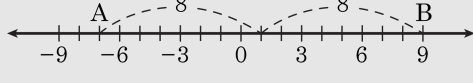
12. A는 -5보다 2작은 수이고 B는 4보다 5큰 수이다. 이때, 두 점 A, B에서 같은 거리에 있는 점을 아래 수직선에서 찾으시오?



- ① -3 ② -2 ③ -1 ④ 0 ⑤ 1

해설

-5보다 2작은 수는 -5로부터 왼쪽으로 2만큼 이동한 수이므로 -7이다.
 4보다 5큰 수는 +4로부터 오른쪽으로 5만큼 이동한 수이므로 +9이다.
 따라서 A, B가 나타내는 수는 각각 -7, 9이고, A, B에서 같은 거리에 있는 점을 수직선을 이용하여 구하면, 다음과 같다.



13. 다음 수를 수직선 위에 나타내었을 때, 원점과 가장 멀리 떨어져 있는 것은?

- ① -5 ② 7 ③ -1 ④ 11 ⑤ $-\frac{12}{2}$

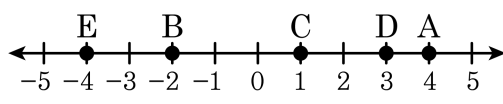
해설

수직선 위에 나타내었을 때, 원점에서 가장 멀리 떨어져 있는 수는 절댓값이 가장 큰 수를 의미한다. 각 수의 절댓값은 다음과 같다.

- ① 5
② 7
③ 1
④ 11
⑤ 6

따라서 절댓값이 가장 큰 수는 ④이다.

14. 다음 수직선 위에 표시된 수의 절댓값을 잘못 표시한 것은?

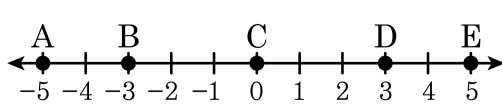


- ① A : 4 ② B : -2 ③ C : 1
④ D : 3 ⑤ E : 4

해설

A의 좌표는 4 이므로 절댓값은 4 를 의미한다.
B의 좌표는 -2 이므로 절댓값은 2 를 의미한다.
C의 좌표는 1 이므로 절댓값은 1 을 의미한다.
D의 좌표는 3 이므로 절댓값은 3 을 의미한다.
E의 좌표는 -4 이므로 절댓값은 4 를 의미한다.

15. 다음 수직선 위에 표시된 수의 절댓값을 잘못 표시한 것은? (정답 2개)



- ① A : -5 ② B : -3 ③ C : 0
④ D : 3 ⑤ E : 5

해설

A의 좌표는 -5 이므로 절댓값은 5 를 의미한다.
B의 좌표는 -3 이므로 절댓값은 3 를 의미한다.
C의 좌표는 0 이므로 절댓값은 0 을 의미한다.
D의 좌표는 3 이므로 절댓값은 3 을 의미한다.
E의 좌표는 5 이므로 절댓값은 5 를 의미한다.

16. 수직선 위에 다음 수들이 대응할 때, 원점에서 가장 가까운 수는 ?

- ① -7 ② $+3$ ③ $+6$ ④ -2 ⑤ -8

해설

원점에서 가장 가까운 수는 절댓값이 가장 작은 수이다.

① -7 의 절댓값은 7 이다.

② $+3$ 의 절댓값은 3 이다.

③ $+6$ 의 절댓값은 6 이다.

④ -2 의 절댓값은 2 이다.


⑤ -8 의 절댓값은 8 이다.

17. 다음 수들을 수직선 위에 나타내었을 때, 가장 왼쪽에 있는 점에 대응하는 수는?

- ① -9 ② 17 ③ -21 ④ +5 ⑤ -13

해설

주어진 수를 수직선 위에 나타내면 다음과 같다.



따라서 가장 왼쪽에 있는 수는 -21 이다.

18. 다음 중 대소 관계가 옳은 것은?

① $+1 < -2$

② $3.5 < -4$

③ $-\frac{1}{3} > 0$

④ $|-6.6| > |-7|$

⑤ $+\frac{3}{5} < \left|-\frac{11}{15}\right|$

해설

① $+1 > -2$

② $3.5 > -4$

③ $-\frac{1}{3} < 0$

④ $|-6.6| = 6.6 < 7 = |-7|$

⑤ $+\frac{3}{5} = +\frac{9}{15} < \frac{11}{15} = \left|-\frac{11}{15}\right|$

19. 다음에 주어진 수를 직선에 나타낼 때, 왼쪽에서 두 번째에 위치하는 수는?

$$-1.1, 2, -\frac{5}{2}, 0, \frac{5}{2}$$

- ① -1.1 ② 2 ③ $-\frac{5}{2}$ ④ 0 ⑤ $\frac{5}{2}$

해설

음수 < 0 < 양수
음수는 절댓값이 클수록 작다.

$$-\frac{5}{2} < -1.1 < 0 < 2 < \frac{5}{2}$$

20. 절댓값이 3.7이하인 정수가 아닌 것은?

- ① 0 ② -3 ③ +4 ④ -2 ⑤ -1

해설

절댓값이 3.7이하인 정수이므로 절댓값이 0, 1, 2, 3인 정수가 아닌 것을 구하면 $|+4| = 4$ 이다.

21. 다음 보기를 보고 옳지 않은 것을 모두 고르면?

보기

- ㉠ -4.3 ㉡ 9 ㉢ $+\frac{2}{7}$ ㉣ $-\frac{18}{3}$ ㉤ 0
㉥ -2

- ① 정수는 모두 4개이다.
② 유리수는 모두 4개이다.
③ 양수는 모두 2개이다.
④ 음수는 모두 3개이다.
⑤ 정수가 아닌 유리수는 3개이다.

해설

- ① 정수는 $9, -\frac{18}{3}, 0, -2$ 의 4개이다.
② 유리수는 $-4.3, 9, +\frac{2}{7}, -\frac{18}{3}, 0, -2$ 의 6개이다.
③ 양수는 $9, +\frac{2}{7}$ 의 2개이다.
④ 음수는 $-4.3, -\frac{18}{3}, -2$ 의 3개이다.
⑤ 정수가 아닌 유리수는 $-4.3, +\frac{2}{7}$ 의 2개이다.

22. 다음 수에 대한 설명이다. 옳지 않은 것을 모두 고르면?

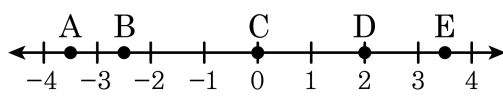
$-5.5, 4, +\frac{1}{3}, -\frac{5}{4}, 0, -3$

- ① 정수는 모두 3 개다.
- ② 유리수는 모두 3 개다.
- ③ 양의 유리수는 모두 2 개다.
- ④ 음의 유리수는 모두 2 개다.
- ⑤ 자연수는 1 개다.

해설

- ① 정수 : 4, 0, -3(3개)
- ② 유리수는 모두 (6 개)
- ③ 양의 유리수는 4, $+\frac{1}{3}$ (2개)
- ④ 음의 유리수는 -5.5, $-\frac{5}{4}$, -3(4개)
- ⑤ 자연수는 4 (1 개)

23. 수직선 위의 점 A, B, C, D, E가 나타내는 수로 옳지 않은 것은?

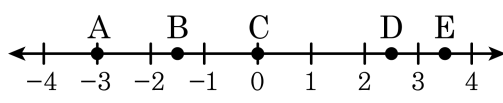


- ① 점 A가 나타내는 점은 $-3\frac{1}{2}$ 이다.
- ② 점 B가 나타내는 점은 $-\frac{5}{2}$ 이다.
- ③ 유리수를 나타내는 점은 모두 5개이다.
- ④ 음의 정수를 나타내는 점은 모두 2개이다.
- ⑤ 점 A가 나타내는 수와 점 E가 나타내는 수의 절댓값이 같다.

해설

음의 정수는 자연수에 음의 부호를 붙인 수이므로 음의 정수를 나타내는 점은 0개이다.

24. 수직선 위의 점 A, B, C, D, E 가 나타내는 수로 옳지 않은 것은?



- ① 점 A 가 나타내는 수는 -3 이다.
- ② 점 B 가 나타내는 수는 $-\frac{3}{2}$ 이다.
- ③ 유리수를 나타내는 점은 모두 5 개 이다.
- ④ 음의 정수를 나타내는 점은 모두 1 개 이다.
- ⑤ 점 A 가 나타내는 수와 점 E 가 나타내는 수는 절댓값이 같다.

해설

⑤ 점 A 가 나타내는 수는 -3 , 점 B 가 나타내는 수는 3.5 이므로 절댓값은 다르다.

25. 수직선 위에서 -6 과 대응하는 점과 +2 에 대응하는 점에서 같은 거리에 있는 수를 구하면?

- ① -3 ② -2 ③ -1 ④ 0 ⑤ 1

해설

-6 과 +2 사이의 거리는 8 이므로

$$\frac{8}{2} = 4 \text{에서}$$

-6 에서 오른쪽으로 4 만큼 간 수 -2 이다.

26. 다음 설명 중 옳은 것은?

- ① 절댓값은 항상 0 보다 크다.
- ② 음의 정수끼리는 절댓값이 큰 수가 크다.
- ③ 부호가 다른 두 수의 합의 부호는 두 수 중 절댓값이 큰 수의 부호와 같다.
- ④ -4의 절댓값이 +4의 절댓값보다 작다.
- ⑤ 절댓값이 같다면 부호는 항상 같다.

해설

- ① 절댓값은 항상 0 과 같거나 크다.
- ② 음의 정수끼리는 절댓값이 큰 수가 더 작다.
- ④ $|-4| = 4 = |+4|$
- ⑤ 0 을 제외하고, 항상 절댓값이 같은 두 수가 존재한다.

27. 절댓값이 같은 두 정수 a, b 에 대하여 $a > b$ 이고, a 와 b 사이의 거리가 22 일 때, a, b 의 값을 바르게 구한 것을 고르면?

① $a = 22, b = 0$

② $a = -11, b = 0$

③ $a = 0, b = -22$

④ $a = -11, b = 11$

⑤ $a = 11, b = -11$

해설

a, b 의 절댓값이 같으므로 두 수는 원점으로부터 반대방향으로 같은 거리에 있다.

두 수 사이의 거리가 22 이므로 원점에서 a, b 까지의 거리는 각각 $22 \div 2 = 11$ 이다.

$a > b$ 이므로 $a = 11, b = -11$

28. 두 수 a, b 는 절댓값이 같고 부호가 반대인 수이다. b 가 a 보다 30만큼 작을 때, $a+b$ 의 값을 구하면?

- ① -4 ② $+4$ ③ -2 ④ $+2$ ⑤ 0

해설

두 수는 원점으로부터 같은 거리에 있고, 차가 30, $b < a$ 이므로 $a = 15, b = -15$ 따라서 $a + b = 0$ 이다.

29. 다음 중 옳은 것은?

- ① a 가 음수일 때, a 의 절댓값은 a 이다.
- ② $a < b$ 이면 a 의 절댓값이 b 의 절댓값보다 작다.
- ③ $a < b < 0$ 이면 a 의 절댓값이 b 의 절댓값보다 크다.
- ④ 절댓값이 가장 작은 정수는 1이다.
- ⑤ a 가 유리수일 때, 절댓값이 a 인 수는 항상 2개이다.

해설

- ① a 가 음수일 때, a 의 절댓값은 $-a$ 이다.
- ② 반례 : $-3 < -2$ 이지만, -3 의 절댓값이 -2 보다 크다.
- ④ 절댓값이 가장 작은 정수는 0이다.
- ⑤ 반례 : 0은 유리수이지만 절댓값이 0인 수는 0 하나 뿐이다.

30. $\square + 2$ 의 절댓값이 7일 때, \square 의 값에 해당하는 수를 더한 것으로
바른 것은?

- ① -4 ② -2 ③ 2 ④ 4 ⑤ 6

해설

절댓값이 7인 두 수는 +7, -7이다.

$$\square + 2 = +7 \text{ 일 때, } \square = +5$$

$$\square + 2 = -7 \text{ 일 때, } \square = -9$$

$$+5 + (-9) = -4$$