

1. 다음 중에서 계산 결과가 가장 큰 것은 어느 것입니까?

① $72 \div 6 \times 3$

② $80 \div (5 \times 2)$

③ $24 \times 2 \div 6$

④ $3 \times (45 \div 9)$

⑤ $5 \times (18 \div 3)$

2. 다음식을 보고, 12 과 36 의 최대공약수를 구하려고 합니다.
안에 알맞은 수를 차례대로 써넣으시오.

$$12 = 2 \times 2 \times 3$$

$$36 = 2 \times 2 \times 3 \times 3$$

$$\rightarrow 12 \text{ 과 } 36 \text{ 의 최대공약수} : 2 \times 2 \times \square = \square$$

 답: _____

 답: _____

3. 어떤 두 수의 최대공약수가 45 일 때, 다음 중 두 수의 공약수가 아닌 것은 어느 것인가?

① 2

② 3

③ 5

④ 9

⑤ 45

4. 서로 다른 두 자연수를 다음과 같이 곱셈식으로 나타내었습니다. 두 수의 최소공배수를 구하는 식으로 알맞은 것은 어느 것입니까?

$$A = 2 \times 2 \times 3 \times 7 \quad B = 2 \times 3 \times 7 \times 7$$

- ① 2×3
- ② $2 \times 3 \times 7$
- ③ $2 \times 3 \times 7 \times 2 \times 7$
- ④ $2 \times 3 \times 7 \times 2 \times 3 \times 7$
- ⑤ $2 \times 2 \times 2 \times 3 \times 3 \times 7 \times 7 \times 7$

5. 다음 중 $61 \times 9 + 61 \times 2$ 의 계산 결과와 같은 것은 어느 것입니까?

① $9 + 2$

② $61 \times (9 - 2)$

③ $61 \times (9 + 2)$

④ $(61 \times 61) + (9 + 2)$

⑤ $(61 + 9) \times (61 + 2)$

6. $\left(\frac{11}{14}, \frac{1}{6}\right)$ 을 통분하려고 합니다. 공통분모가 될 수 없는 것은 어느 것입니까?

① 42

② 84

③ 110

④ 126

⑤ 168

7. 다음 등식이 성립하도록 괄호로 묶어야 하는 부분을 고르시오.

$$6 \times 24 - 12 \div 6 + 4 \times 7 = 40$$

① $24 - 12$

② 6×24

③ $12 \div 6$

④ $6 + 4$

⑤ 4×7

8. 공책 45 권과 연필 63 자루를 될 수 있는 한 많은 사람에게 남김없이 똑같이 나누어 주려고 합니다. 한 사람이 받게 될 공책의 수와 연필의 수를 각각 순서대로 구하시오.

 답: _____ 권

 답: _____ 자루

9. 가로 6 cm, 세로 15 cm인 직사각형 모양의 종이를 여러 장 늘어놓아 될 수 있는 대로 가장 작은 정사각형을 만들려고 합니다. 이때 직사각형 모양의 종이는 모두 몇 장이 필요합니까?



답:

장

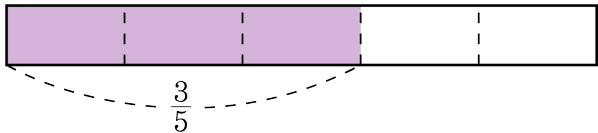
10. 혜진이는 600원짜리 공책 몇 권과 400원짜리 연습장 몇 권을 합해 모두 12권을 사는 데 6200원을 썼습니다. 혜진이가 산 공책은 몇 권입니까?



답:

_____ 권

11. 다음 막대에서 색칠한 부분은 전체의 $\frac{3}{5}$ 입니다. 이 막대를 15 등분한다면 색칠한 부분은 얼마인지 분수로 나타내시오.



- ① $\frac{3}{15}$ ② $\frac{6}{15}$ ③ $\frac{8}{15}$ ④ $\frac{9}{15}$ ⑤ $\frac{12}{15}$

12. 같은 크기의 피자 두 판을 각각 사 와서 고운이는 똑같이 4 조각, 용훈이는 똑같이 8 조각으로 나누었습니다. 고운이가 3 조각을 먹었다면 용훈이는 몇 조각을 먹어야 같은 양을 먹게 됩니까?



답:

_____ 조각

13. 다음 중 $\frac{5}{9}$ 와 크기가 같은 분수는 모두 몇 개인지 구하시오.

$$\frac{5}{6}, \frac{9}{12}, \frac{10}{18}, \frac{14}{20}, \frac{10}{12}, \frac{15}{27}, \frac{24}{32}, \frac{20}{36}$$



답:

개

14. 영수네 집에서 학교까지의 거리는 $3\frac{4}{5}$ km 입니다. 영수가 학교에 가는데 집에서 출발하여 $1\frac{5}{12}$ km 를 갔습니다. 학교까지 가려면 몇 km 를 더 가야 합니까?

① $2\frac{2}{5}$ km

② $2\frac{23}{60}$ km

③ $3\frac{11}{20}$ km

④ $4\frac{23}{60}$ km

⑤ $5\frac{13}{60}$ km

15. 형진이와 혜영이는 함께 딸기를 따습니다. 형진이는 $\frac{7}{9}$ kg을 따고, 혜영이는 $\frac{3}{5}$ kg을 따습니다. 두 사람이 딴 딸기 중에서 $\frac{8}{15}$ kg을 팔았다면 남은 딸기는 몇 kg입니까?

① $\frac{1}{15}$ kg

② $\frac{11}{45}$ kg

③ $\frac{38}{45}$ kg

④ $1\frac{1}{15}$ kg

⑤ $1\frac{17}{45}$ kg

16. 둘레의 길이가 각각 36 cm 와 68 cm 인 정사각형이 있습니다. 두 정사각형의 한 변의 길이의 차는 얼마입니까?

① 4 cm

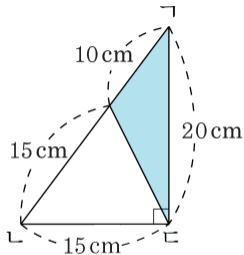
② 5 cm

③ 6 cm

④ 7 cm

⑤ 8 cm

17. 다음 삼각형에서 색칠한 부분의 넓이는 몇 cm^2 인가요?



답:

 cm^2

18. 영희는 어느 정사각형의 각 변의 중점을 이어 마름모를 만들었습니다. 영희가 만든 마름모의 넓이가 72cm^2 이면, 처음 정사각형의 한 변의 길이는 몇 cm 인지 구하시오.



답:

_____ cm

19. 2, 3, 5, 7은 약수가 1 과 자기 자신 밖에 없는 수입니다. 10 에서 20
까지의 자연수 중에서 이와 같은 수는 몇 개입니까?



답:

개

20. 어떤 수로 55와 79를 나누면 나머지가 모두 7입니다. 어떤 수 중에서 가장 큰 수를 구하시오.



답: _____

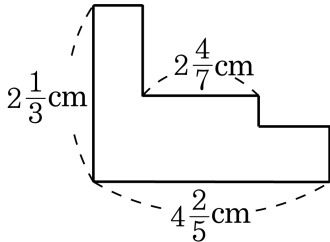
21. 숙희는 1분에 80 m를 걸어가고, 오빠는 자전거로 1분에 200 m를 간다고 합니다. 숙희가 집을 떠난 지 6분 뒤에 오빠가 자전거를 타고 숙희를 만나기 위해 뒤따라갔습니다. 오빠는 출발한 지 몇 분 뒤에 숙희를 만나겠습니까?



답:

분

22. 다음 도형의 둘레의 길이를 구하시오.



답:

_____ cm

23. 2L 들이의 그릇에 물이 $\frac{4}{5}$ L 있었는데요 0.75 L 를 썼습니다. $1\frac{7}{10}$ L 의 물을 다시 부었다면, 앞으로 몇 L 의 물을 더 부어야 가득 차겠습니까?

① $\frac{1}{4}$ L

② $\frac{1}{3}$ L

③ $\frac{1}{2}$ L

④ $\frac{2}{3}$ L

⑤ $\frac{3}{4}$ L

24. 평행사변형의 넓이가 84 cm^2 이고, 밑변의 길이와 높이가 5 cm 보다 큰 자연수라고 할 때, 가능한 밑변의 길이가 아닌 것을 고르시오.

① 6 cm

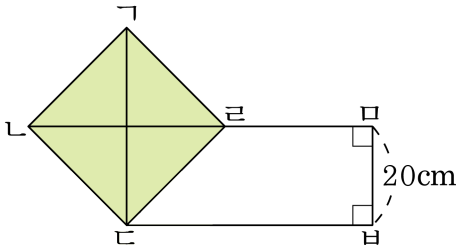
② 7 cm

③ 10 cm

④ 12 cm

⑤ 14 cm

25. 정사각형 $ㄱㄴㄷㄹ$ 과 사다리꼴 $ㄴㄷㅁㅂ$ 의 넓이가 같습니다. 선분 $ㄷㅁ$ 의 길이와 선분 $ㄹㅂ$ 의 길이의 차는 몇 cm인지 구하시오.



답: _____

cm