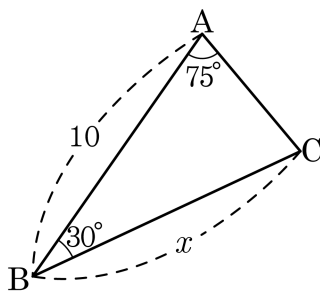
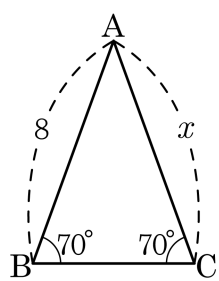


1. 다음 두 그림에서 x 의 길이의 합은?

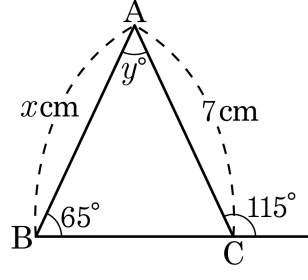


- ① 14 ② 15 ③ 16 ④ 18 ⑤ 19

해설

왼쪽의 $\triangle ABC$ 에서
 $\angle ABC = \angle ACB$ 이므로 $\triangle ABC$ 는 이등변삼각형이다.
 $\therefore x = 8$
또, 오른쪽의 $\triangle ABC$ 에서
 $\angle BCA = 180^\circ - (30^\circ + 75^\circ) = 75^\circ$ 이므로 $\triangle ABC$ 는 이등변삼각형이다.
 $\therefore x = 10$
 $\therefore (x \text{의 길이의 합}) = 8 + 10 = 18$

2. 다음 그림과 같이 $\triangle ABC$ 가 주어졌을 때, x, y 의 값은?

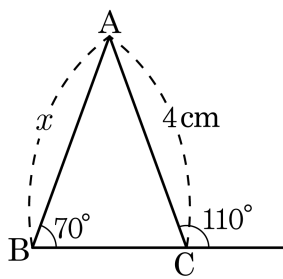


- ① $x = 6, y = 50^\circ$ ② $x = 7, y = 45^\circ$
③ $x = 7, y = 50^\circ$ ④ $x = 7, y = 65^\circ$
⑤ $x = 8, y = 50^\circ$

해설

$\angle ACB = 65^\circ$ 이므로 $\triangle ABC$ 는 이등변삼각형이다.
 $\therefore x = 7$
그리고 $y = 180^\circ - 65^\circ \times 2 = 50^\circ$

3. 다음 그림에서 x 의 길이를 구하여라.



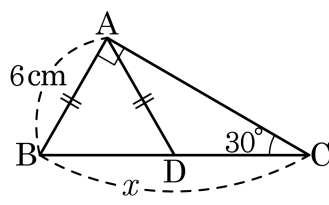
▶ 답: cm

▷ 정답: 4 cm

해설

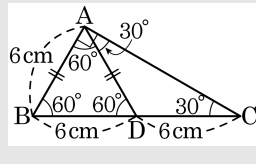
$\angle ACB = 70^\circ$ 이므로 $\triangle ABC$ 는 이등변삼각형이다.
 $\therefore x = 4(\text{cm})$

4. 다음 직각삼각형 ABC 에서 $\overline{AD} = \overline{CD}$, $\overline{AB} = 6\text{cm}$ 이고, $\angle ACB = 30^\circ$ 일 때, x 의 길이는?



- ① 4cm ② 6cm ③ 8cm ④ 10cm ⑤ 12cm

해설

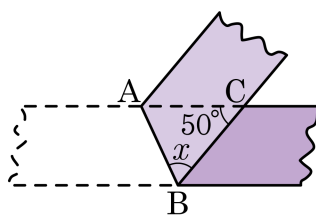


$\triangle DCA$ 에서 이등변삼각형이면 두 밑각의 크기가 같으므로 $\angle DCA = \angle DAC = 30^\circ$ 이다.

$\angle ADB = 60^\circ$, $\angle DAB = 60^\circ$, $\angle ABD = 60^\circ$ 이므로 $\triangle ABD$ 는 정삼각형이다.

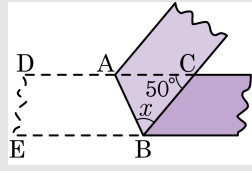
따라서 $\overline{AB} = \overline{BD} = \overline{AD} = 6\text{cm}$ 이므로 $\overline{DC} = 6\text{cm}$ 이다. 따라서 $x = 12\text{cm}$ 이다.

5. 다음 그림과 같이 폭이 일정한 종이 테이프를 접었다. $\angle ACB = 50^\circ$ 일 때, $\angle x$ 의 크기는?



- ① 45° ② 50° ③ 55° ④ 60° ⑤ 65°

해설



종이 테이프를 접으면 $\angle ABE = \angle ABC = \angle x$ 이고

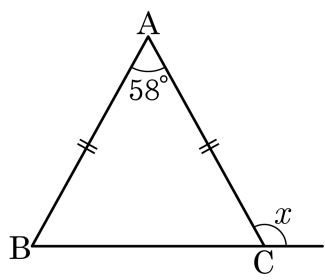
$\angle ABE = \angle BAC = \angle x$ (엇각)

$\triangle ABC$ 의 내각의 합은 180° 이므로

$$\therefore 2\angle x + 50^\circ = 180^\circ$$

$$\angle x = 65^\circ$$

6. 다음 그림과 같이 $\overline{AB} = \overline{AC}$ 인 이등변삼각형 ABC 에서 $\angle A = 58^\circ$ 일 때, $\angle x$ 의 크기는?



- ① 118° ② 119° ③ 120° ④ 121° ⑤ 122°

해설

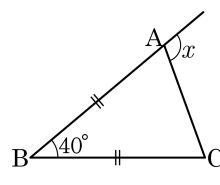
$\triangle ABC$ 는 이등변삼각형이므로

$$\angle ACB = \frac{1}{2}(180^\circ - 58^\circ) = 61^\circ$$

$$\therefore \angle x = 180^\circ - 61^\circ = 119^\circ$$

7. 다음 그림에서 $\angle x$ 의 크기를 구한 것은?

- ① 80° ② 90° ③ 100°
④ 110° ⑤ 120°



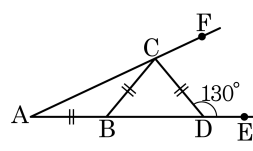
해설

$$\angle BAC = (180^\circ - 40^\circ) \div 2 = 70^\circ$$

$$\therefore \angle x = 180^\circ - 70^\circ = 110^\circ$$

9. 다음 그림에서 $\overline{AB} = \overline{BC} = \overline{CD}$ 이고
 $\angle CDE = 130^\circ$ 일 때, $\angle CAB$ 의 크기는?

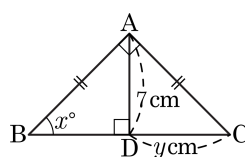
- ① 15° ② 20° ③ 25°
 ④ 30° ⑤ 35°



해설

$$\begin{aligned} \angle CBD = \angle CDB &= 50^\circ, \\ \angle ABC &= 180^\circ - 50^\circ = 130^\circ \\ \therefore \angle CAB &= (180^\circ - 130^\circ) \div 2 = 25^\circ \end{aligned}$$

10. 다음 그림과 같이 $\triangle ABC$ 는 $\overline{AB} = \overline{AC}$ 이고 $\angle A = 90^\circ$ 인 직각이등변삼각형이다. 이때, x, y 의 값을 구하여라.



▶ 답:

▶ 답:

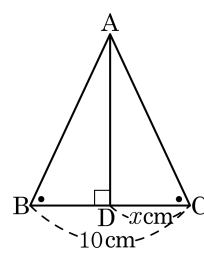
▷ 정답: $x = 45$

▷ 정답: $y = 7$

해설

$\triangle ABC$ 는 직각이등변삼각형이므로 $\angle x = 45^\circ$ 이므로 $x = 45$
 $\triangle ADB \cong \triangle ADC$ (RHS 합동)이므로
 $\overline{BD} = \overline{CD} = y$ 이다.
 $\triangle ADB, \triangle CDA$ 가 직각이등변삼각형이므로
 $\overline{CD} = \overline{BD} = \overline{AD} = 7$ (cm)이므로 $y = 7$ 이다.

11. 다음 그림과 같은 $\triangle ABC$ 에서 $\angle B = \angle C$ 일 때,
 x 의 값은?

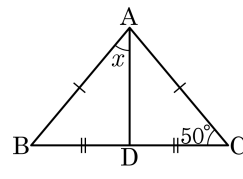


- ① 3.5 ② 4 ③ 4.5 ④ 5 ⑤ 5.5

해설

$\triangle ABC$ 는 이등변삼각형이고 \overline{AD} 는 \overline{BC} 를 수직이등분하므로
 $x = \frac{1}{2} \times 10 = 5$

12. 다음 그림의 $\triangle ABC$ 에서 $\overline{AB} = \overline{AC}$, $\overline{BD} = \overline{CD}$ 일 때, $\angle x$ 의 크기는?

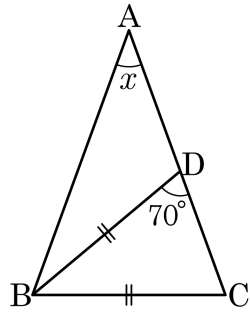


- ① 35° ② 40° ③ 45° ④ 50° ⑤ 55°

해설

$\triangle ABC$ 는 이등변삼각형이므로
 $\angle BAC = 180^\circ - 2 \times 50^\circ = 80^\circ$
 또 \overline{AD} 는 \overline{BC} 를 이등분하므로 \overline{AD} 는 $\angle BAC$ 를 이등분하고 \overline{BC} 와 수직 (이등변삼각형의 각의 이등분선의 성질)
 따라서 $x = \frac{1}{2} \times 80^\circ = 40^\circ$

13. $\overline{AB} = \overline{AC}$ 인 이등변삼각형에서 $\overline{BC} = \overline{BD}$ 가 되도록 AC 위에 점 D 를 잡을 때, $\angle x$ 의 값은?

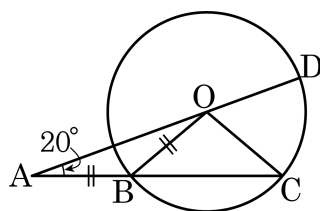


- ① 20° ② 30° ③ 40° ④ 50° ⑤ 60°

해설

$\triangle BCD$ 에서 $\overline{BC} = \overline{BD}$ 이므로 이등변삼각형
 $\angle BDC = \angle BCD = 70^\circ$
 $\triangle ABC$ 는 $\overline{AB} = \overline{AC}$ 인 이등변삼각형이므로
 $\angle ABC = \angle ACB = 70^\circ$
 따라서 $\angle x + \angle ABC + \angle ACB = 180^\circ$ 이므로
 $\angle x + 70^\circ + 70^\circ = 180^\circ$
 $\angle x + 140^\circ = 180^\circ$
 $\therefore \angle x = 40^\circ$

14. 다음 그림에서 $\overline{AB} = \overline{BO}$ 이고 $\angle OAB = 20^\circ$ 일 때, $\angle COD$ 의 크기를 구하여라.



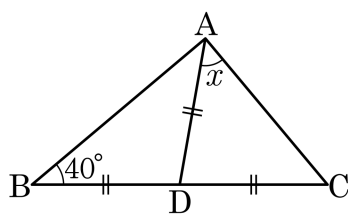
▶ 답: °

▷ 정답: 60°

해설

$\angle OBC = \angle OCB = 40^\circ$ 이므로 $\angle BOC = 100^\circ$
 $\angle COD = 180^\circ - (20^\circ + 100^\circ) = 60^\circ$

15. 다음 그림에서 $\overline{AD} = \overline{BD} = \overline{CD}$ 이고 $B = 40^\circ$ 일 때, $\angle x$ 의 크기는?



- ① 40° ② 45° ③ 50° ④ 55° ⑤ 60°

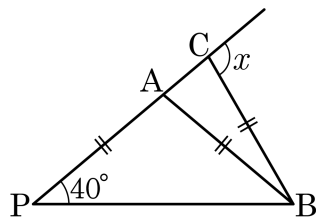
해설

$\angle B = \angle BAD = 40^\circ$ 이므로

$\angle ADC = 40^\circ + 40^\circ = 80^\circ$

$\therefore \angle x = \frac{1}{2}(180^\circ - 80^\circ) = 50^\circ$

16. 다음 그림에서 $\angle P = 40^\circ$ 일 때, $\angle x$ 의 크기는? (단, $\overline{AP} = \overline{AB} = \overline{BC}$)

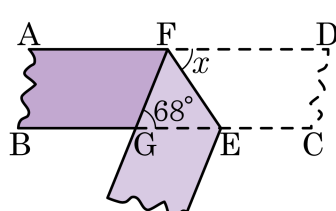


- ① 90° ② 95° ③ 100° ④ 105° ⑤ 110°

해설

$\triangle APB$ 는 이등변삼각형이므로
 $\angle P = \angle ABP = 40^\circ$
 $\angle BAC = 40^\circ + 40^\circ = 80^\circ$
 $\triangle ABC$ 는 이등변삼각형이므로
 $\angle BAC = \angle BCA = 80^\circ$
 $\therefore \angle x = 180^\circ - 80^\circ = 100^\circ$

17. 다음 그림과 같이 폭이 일정한 종이 테이프를 접었다. $\angle FGE = 68^\circ$ 일 때, $\angle x$ 의 크기는?

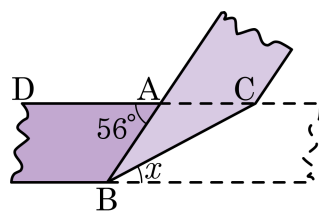


- ① 36° ② 42° ③ 50° ④ 56° ⑤ 60°

해설

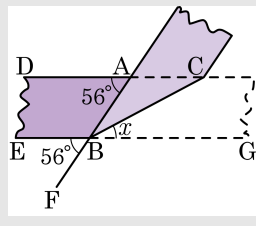
$\angle DFE = \angle EFG = \angle x$ (종이 접은 각)
 $\angle DFE = \angle FEG = \angle x$ (엇각)
 $\therefore \angle EFG = \angle FEG = \angle x$
 따라서 $\triangle EFG$ 는 밑각의 크기가 같고, $\overline{GF} = \overline{EG}$ 인 이등변삼각형이다.
 $\therefore \angle x = \frac{1}{2}(180^\circ - 68^\circ) = 56^\circ$

18. 다음 그림과 같이 폭이 일정한 종이 테이프를 접었다. $\angle BAD = 56^\circ$ 일 때, $\angle x$ 의 크기는?



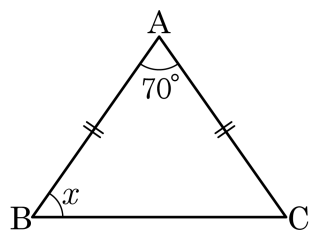
- ① 20° ② 22° ③ 24° ④ 26° ⑤ 28°

해설



$\angle DAB = \angle EBF = 56^\circ$ (동위각)
 $\angle EBF = \angle ABG = 56^\circ$ (맞꼭지각)
 (또는 $\angle DAB = \angle ABG = 56^\circ$ (엇각))
 $\angle ABC = \angle CBG = \frac{1}{2} \times 56^\circ = 28^\circ$ (종이 접은 각)
 $\therefore \angle x = 28^\circ$

20. 다음 그림과 같은 이등변삼각형에서 $\angle x$ 의 크기는?

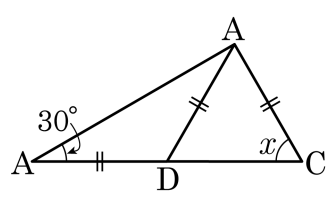


- ① 40° ② 45° ③ 50° ④ 55° ⑤ 60°

해설

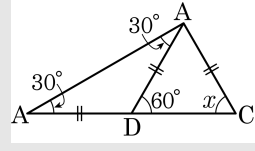
$$\angle x = (180^\circ - 70^\circ) \div 2 = 55^\circ$$

21. 다음 그림에서 $\angle x$ 의 크기를 바르게 구한 것은?



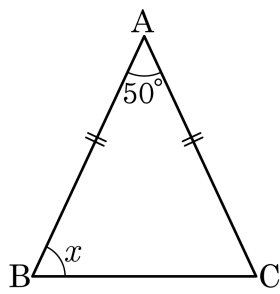
- ① 30° ② 45° ③ 50° ④ 60° ⑤ 65°

해설



$\angle ADC = 60^\circ$ 이므로 $\triangle DAC$ 에서
 $\angle x = (180^\circ - 60^\circ) \div 2 = 60^\circ$

22. 다음 그림과 같이 $\overline{AB} = \overline{AC}$ 인 이등변삼각형 ABC 에서 $\angle A = 50^\circ$ 일 때, $\angle x$ 의 크기를 구하여라.



▶ 답: $\quad \quad \quad \circ$

▷ 정답: 65°

해설

$$\angle x = (180^\circ - 50^\circ) \div 2 = 65^\circ$$

