

1. 갑이 300 m 가는 동안 을은 200 m 가는 속력으로 2 km의 거리를 서로 마주 보고 걸어서 만나는데 20분이 걸렸다. 갑과 을의 속력의 합을 구하여라.

 답: _____ m/min

2. 갑이 60m 를 걷는 동안 을은 40m 를 걷는 속력으로 1000m 떨어진 두 지점에서 갑과 을이 서로 마주보고 걷기 시작하였다. 만날 때까지 10 분이 걸렸다면 갑의 속력을 구하여라.

▶ 답: _____ m/min

3. 다음 연립방정식 중 해가 무수히 많은 것은?

$$\textcircled{1} \begin{cases} x - y = 3 \\ 2x - 2y = 6 \end{cases}$$


$$\textcircled{3} \begin{cases} 2x + y = 5 \\ x + 2y = 4 \end{cases}$$

$$\textcircled{5} \begin{cases} 6x - 2y = 4 \\ 3x - y = -2 \end{cases}$$

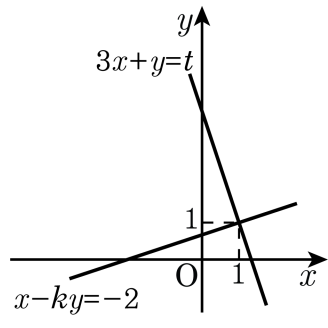
$$\textcircled{2} \begin{cases} 2x - y = 1 \\ 4x = 2y - 2 \end{cases}$$

$$\textcircled{4} \begin{cases} x = y + 2 \\ 3x - 3y = 4 \end{cases}$$

4. 연립방정식 $\begin{cases} x + 2y = 3a \cdots \text{㉠} \\ 4x - y = 3 \cdots \text{㉡} \end{cases}$ 을 만족하는 y 의 값이 5 일 때, a 의 값을 구하여라.

 답: $a =$ _____

5. 다음 그래프는 연립방정식 $\begin{cases} x - ky = -2 \\ 3x + y = t \end{cases}$ 를 풀기 위하여 그린 것이다. kt 의 값을 구하여라.



▶ 답: _____

6. 어느 공장에서 지난 달에 갑, 을 두 제품을 합하여 1000 개를 생산하였다. 이 달에 생산한 양은 지난 달에 비해 갑은 2% 증가하였고, 을은 3% 증가하여 전체로는 24 개가 증가하였다. 이 달의 갑 제품의 생산량은?

① 315 개

② 451 개

③ 600 개

④ 612 개

⑤ 704 개

7. 연립방정식 $\begin{cases} 4x + 6y = -2 \\ ax + 3y = 2 \end{cases}$ 의 해가 존재하지 않을 때, a 의 값은?

- ① 1 ② 2 ③ 3 ④ 4 ⑤ 5

8. x, y 에 대한 연립방정식 (가), (나)의 해가 같을 때, $a + b$ 의 값은?

$$(가) \begin{cases} 5x + 3y = 7 \\ ax + by = 13 \end{cases} \quad (나) \begin{cases} ax - 2by = -2 \\ 4x - 7y = 15 \end{cases}$$

- ① -1 ② 0 ③ 1 ④ 2 ⑤ 3


9. 연립방정식 $\begin{cases} x-y=3 \\ 2x-3y=4 \end{cases}$ 의 해가 연립방정식

$\begin{cases} (a+1)x-2y=6 \\ 2x-by=4 \end{cases}$ 를 만족시킬 때 $a+b$ 의 값은?

- ① 2 ② 3 ③ 4 ④ 5 ⑤ 6

10. 연립방정식 $\begin{cases} 2x - ay = a + 1 & \dots \textcircled{1} \\ 2x - 4y = 3 & \dots \textcircled{2} \end{cases}$ 을 만족하는 x 와 y 의 비가 $3 : 2$


일 때, a 의 값을 구하여라.

 답: _____

11. 연립방정식 $\begin{cases} x = y - 2 \\ ax + 2y = 9 \end{cases}$ 를 만족하는 x 와 y 의 값의 비가 $1 : 3$ 일 때, 상수 a 의 값은?

- ① -3 ② -2 ③ 1 ④ 3 ⑤ 4

12. 연립방정식 $\begin{cases} 2x - 3y = -10 \\ 2x - 25y = 34 \end{cases}$ 의 해를 $x = a, y = b$ 라 할 때, $a^2 + b^2$ 의 값을 구하여라.

 답: _____

13. 연립방정식 $\begin{cases} 4x + 5y = 2 \cdots \textcircled{A} \\ 3x - 4y = 6 \cdots \textcircled{B} \end{cases}$ 을 가감법을 이용하여 풀 때, 다음

중 미지수 x 를 소거하기 위한 방법은?

① $\textcircled{A} \times 3 - \textcircled{B} \times 4$

② $\textcircled{A} \times 4 - \textcircled{B} \times 3$

③ $\textcircled{A} \times 3 + \textcircled{B} \times 4$

④ $\textcircled{A} \times 4 + \textcircled{B} \times 3$

⑤ $\textcircled{A} \times 3 + \textcircled{B} \times 3$

14. 연립방정식 $\begin{cases} 2x+3y=1 & \cdots \textcircled{A} \\ 4x-y=-5 & \cdots \textcircled{B} \end{cases}$ 을 가감법으로 풀 때, x 를 소거하

기 위한 식과 y 를 소거하기 위한 식을 차례로 나열 한 것은?

① $2 \times \textcircled{A} - \textcircled{B}, \textcircled{A} - \textcircled{B} \times 3$ ② $\textcircled{A} + \textcircled{B} \times 2, \textcircled{A} + 3 \times \textcircled{B}$

③ $2 \times \textcircled{A} - \textcircled{B}, \textcircled{A} + 3 \times \textcircled{B}$ ④ $\textcircled{B} \times 2 + \textcircled{A}, \textcircled{A} + \textcircled{B} \times 2$

⑤ $\textcircled{A} \times 2 + \textcircled{B}, \textcircled{A} + 3 \times \textcircled{B}$

15. 둘레의 길이가 1.2km 되는 오금공원 주변에 산책로가 있다. 같은 지점에서 출발하여 종혁이와 혜진이 두 사람이 서로 반대 방향으로 가면 10 분 만에 처음 만나고, 같은 방향으로 가면 1 시간 만에 종혁이가 혜진을 처음으로 따라 잡는다. 종혁이와 혜진이 두 사람의 속력을 각각 차례대로 구하여라.

▶ 답: _____ m/min

▶ 답: _____ m/min

16. 400m 트랙을 A , B 가 같은 방향으로 돌면 15 분 후에 만나고 반대 방향으로 돌면 3 분 후에 만난다. A 가 B 보다 빠르다고 할 때, A 의 속력은?

① 40m /분

② 50m /분

③ 60m /분

④ 70m /분

⑤ 80m /분

17. 4km 의 거리를 가는 데 처음에는 시속 3km 로 걷다가 나중에는 시속 9km 로 뛰어서 40 분 걸렸다. 뛰어간 시간은?

- ① 20 분 ② 25 분 ③ 30 분 ④ 35 분 ⑤ 36 분

18. 연립방정식 $4x - 7y - 8 = 5x + 3y = 7$ 의 해가 일차방정식 $3x + 2y = k$ 을 만족할 때 k 의 값은?

- ① 4 ② 6 ③ 7 ④ 8 ⑤ 9

19. 연립방정식 $\begin{cases} 0.2x + 0.4y = 0.4 \\ 0.4x + 0.6y = 0.7 \end{cases}$ 을 풀면?

① $x = 1, y = -\frac{1}{2}$

③ $x = -1, y = \frac{1}{2}$

⑤ $x = -1, y = -\frac{1}{2}$

② $x = 1, y = \frac{1}{2}$

④ $x = 1, y = 1$

20. $-3(x - 2y) = -8x + 7$, $2(x + 4y) - 3 = 4y + 3$ 에 대하여 다음 중
연립방정식의 해는?

① $\{(2, 1)\}$


② $\{(12, -1)\}$

③ $\{(3, 2)\}$

④ $\{(-2, 3)\}$

⑤ $\{(-1, 2)\}$

21. 연립방정식 $\begin{cases} y = -3x - 2 \\ mx - 3y = 4m \end{cases}$ 의 해가 일차방정식 $4x = -2y - 6$ 을 만족시킬 때, m 의 값을 구하여라.

 답: _____

22. 연립방정식 $\begin{cases} 6x + ay = 2 \\ ax - by = 1 \end{cases}$ 의 해가 $x = 2, y = -2$ 일 때, $a + b$ 의 값은?

- ① $\frac{1}{3}$ ② $\frac{1}{2}$ ③ 1 ④ 2 ⑤ $\frac{9}{2}$

23. 일차방정식 $-3x + 4y - 2 = 5$ 의 한 해가 $(3k, 2k)$ 일 때, k 의 값은?

- ① -5 ② -7 ③ 1 ④ 7 ⑤ 5

24. 준호와 범수가 같이 하면 15 일 만에 끝마칠 수 있는 일이 있다. 이 일을 준호가 먼저 14 일간 일하고, 남은 일은 범수가 18 일 동안 작업하여 끝마쳤다고 한다. 준호가 혼자서 일하면 며칠 만에 끝낼 수 있겠는가?

- ① 10 일 ② 15 일 ③ 20 일 ④ 25 일 ⑤ 30 일

25. 연립방정식 $\begin{cases} 4x + 3y = 11 \\ x + ay = -1 \end{cases}$ 의 해가 방정식 $2x + y = 7$ 을 만족할 때, 상수 a 의 값은?

- ① -2 ② -1 ③ 0 ④ 1 ⑤ 2