

1. 다음에서 등식인 것을 고르면?

① $-3 = 10 - 13$

② $3x - 5$

③ $x < 10$

④ $2a + 4 = 12$

⑤ $4 \geq 3$

2. 다음 중 등식으로 나타낼 수 없는 것은?

- ① 200 원짜리 지우개 1 개와 300 원짜리 연필 x 개의 가격이 1800 원이다.
- ② 한 변의 길이가 x 인 정삼각형의 둘레의 길이는 21 이다.
- ③ x 의 3 배는 8 보다 크다.
- ④ 시속 30km 로 x 시간 동안 달린 거리는 120km 이다.
- ⑤ 20% 의 소금물 x g 에 녹아 있는 소금의 양은 30g 이다.

3. 다음 등식 중에서 x 에 관한 항등식인 것은?

① $x + 3x = 5x - 2x$

② $2x + 1 = 2$

③ $4(x - 2) = 4x - 8$

④ $2x + 2 = 2(x - 3) + 2$

⑤ $3x + 4 - x = 2(x - 1) + 3$

4. $3x + a = 5x - 2(x - 4)$ 이 항등식일 때, a 의 값은?

- ① -5 ② -3 ③ 3 ④ 5 ⑤ 8

5. 다음 중 옳지 않은 것을 골라라.

㉠ $a = b$ 이면 $a + 5 = b + 5$

㉡ $a = b$ 이면 $a - 10 = 10 - b$

㉢ $a = b$ 이면 $-4a = -4b$

㉣ $a = 2b$ 이면 $2a = 4b$

㉤ $3a = 3b$ 이면 $a = b$

▶ 답: _____

6. 다음 방정식의 풀이에서 이용된 등식의 성질을 바르게 나타낸 것은?(단, c 는 자연수)

$$\begin{aligned} \text{(가)} \quad & \frac{x}{2} + 1 = 2 \\ & \frac{x}{2} = 1 \\ \text{(나)} \quad & x = 2 \end{aligned}$$

- ① (가) $a = b$ 이면 $a + c = b + c$
(나) $a = b$ 이면 $a - c = b - c$
- ② (가) $a = b$ 이면 $a - c = b - c$
(나) $a = b$ 이면 $ac = bc$
- ③ (가) $a = b$ 이면 $ac = bc$
(나) $a = b$ 이면 $a + c = b + c$
- ④ (가) $a = b$ 이면 $a + c = b + c$
(나) $a = b$ 이면 $ac = bc$
- ⑤ (가) $a = b$ 이면 $\frac{a}{c} = \frac{b}{c} (c \neq 0)$
(나) $a = b$ 이면 $a^2 = b^2$

7. 방정식 $2x - 3 = 4$ 에서 좌변의 -3 을 이항한다는 것과 같은 뜻은?

- ① 양변에 -3 을 더한다.
- ② 양변에서 3 을 뺀다.
- ③ 양변에 3 을 더한다.
- ④ 양변에서 -3 을 곱한다.
- ⑤ 양변을 3 으로 나눈다.

8. 다음 중에서 일차방정식을 모두 골라라.

㉠ $4x - 8 = 0$

㉡ $6x - 5$

㉢ $x^2 - 3 = 2x$

㉣ $\frac{1}{2}x - 3 = 5$

답: _____

답: _____

9. 다음 방정식 중에서 해가 다른 하나는?

① $2x + 4 = 0$

② $5 - 2x = 2x - 4$

③ $3x = x - 4$

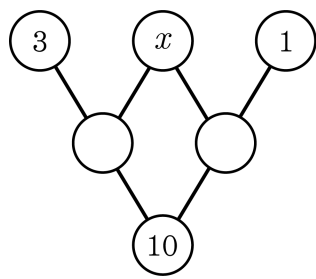
④ $2(x - 2) = x - 6$

⑤ $3(x - 2) = 5x - 2$

10. 방정식 $\frac{3}{5}(x+1) = \frac{1}{3}(2x-5)$ 의 해를 a , 방정식 $0.7(y+7) = 0.1y+1.3$ 의 해를 b 이라 할 때, $a-b$ 의 값을 구하면?

- ① 34 ② 6 ③ 28 ④ 40 ⑤ 44

11. 다음 그림에서 동그라미 안의 식은 바로 위의 양 옆의 동그라미 안의 숫자나 식의 합이다. 이 때 x 의 값을 구하여라.



▶ 답: _____

12. 방정식 $2(x-8) : 7 = (x-3) : 4$ 의 해는?

① 39

② 41

③ 43

④ 45

⑤ 47

13. 방정식 $3x - 5 = 2.8 - 3x$ 의 해가 $x = a$ 일 때, x 에 관한 일차방정식 $ax + \frac{3}{5} = -2$ 의 해를 구하면?

- ① $-\frac{13}{10}$ ② $-\frac{13}{5}$ ③ -2 ④ -5 ⑤ -11

14. 방정식 $-2x = 14 + \frac{1}{3}x$ 의 해가 $4 - 2y = a(3 + 3y)$ 의 해의 3 배일 때,

a 의 값은?

- ① $-\frac{8}{3}$ ② $-\frac{5}{3}$ ③ 0 ④ $\frac{5}{3}$ ⑤ $\frac{8}{3}$

15. x 에 관한 일차방정식 $5x + b = ax - 2$ 가 한 개의 해를 가질 조건은?

- ① $b \neq -2$ ② $a = 5, b \neq -2$ ③ $a \neq 5$
④ $a \neq 5, b \neq -2$ ⑤ $a \neq 5, b = -2$

16. ‘어떤 수 x 보다 3 만큼 큰 수는 x 의 2 배보다 2 가 작다’를 방정식으로 바르게 나타낸 것은?

① $x + 3 = 2x - 2$

② $x + 3 = 2x + 2$

③ $x + 2 = 2x - 3$

④ $2x - 3 = x + 1$

⑤ $2x + 1 = x - 3$

17. 연속하는 두 짝수의 합이 36 이다. 큰 수를 x 라 할 때, x 를 구하기 위한 식으로 옳은 것은?

① $x + (x + 2) = 36$


② $x + 2x = 36$

③ $x + (x + 1) = 36$

④ $(x - 2) + x = 36$

⑤ $x \times 2x = 36$

18. 두 자리의 자연수가 있다. 일의 자리의 숫자는 7 이고, 이 자연수는 각 자리의 숫자의 합의 4 배보다 3 이 작다고 한다. 이 자연수를 구하여라.

 답: _____

19. 아들에게 나이를 물어 보았더니 아버지 연세의 $\frac{1}{2}$ 보다 7살이 적다고 한다. 또 아버지께 연세를 여쭙어 보았더니, 아들 나이의 4 배보다 12살이 적다고 한다. 아버지의 연세는?

- ① 32 세 ② 34 세 ③ 36 세 ④ 38 세 ⑤ 40 세

20. 앞집에 사는 네 자매는 우애가 좋기로 동네에 소문이 나 있다. 이들 네 자매의 나이는 각각 2살 터울이라고 한다. 가장 큰 언니의 나이가 막내 나이의 2배보다 10살이 적다고 할 때, 셋째의 나이를 구하여라.

▶ 답: _____ 세


21. 가로 길이가 8cm, 세로 길이가 x cm인 직사각형의 둘레의 길이가 28cm이다. 이 때 세로의 길이 x 를 구하여라.

▶ 답: $x =$ _____ cm

22. 작년 어느 학교의 학생 수가 500명 이었다. 올해 남학생의 수는 8% 감소하였고 여학생은 5% 증가하여 전체적으로는 2.8% 감소하였다. 올해 남학생 수를 구하여라.

▶ 답: _____ 명

23. 시와 문장을 좋아하는 우리 조상은 수학 문제도 마치 시처럼 서술하였다. 조선 시대에 널리 사용되던 수학책인 '산법통종'에는 다음 그림과 같은 시구가 있다.



이처럼 옛날 우리나라에도 방정식 문제가 있었다. 위의 시구를 읽고 여관을 하는 이씨의 집에 온 손님이 모두 몇 명인지 일차방정식을 이용하여 구하여라.

▶ 답: _____ 명

24. 어떤 일을 완전히 끝마치는데 A 혼자 일하면 10 일 걸리고 B 혼자 일하면 15 일 걸린다고 한다. A가 4 일 일한 후 B가 나머지 일을 끝마쳤다면 B가 일한 일수는?

- ① 5 일 ② 6 일 ③ 7 일 ④ 8 일 ⑤ 9 일

25. 두 지점 A, B 사이를 왕복하는데 A에서 B로 갈 때에는 시속 4km로 걸어가고, B에서 A로 되돌아 올 때에는 시속 6km로 자전거를 타고 와서 왕복 5시간이 걸렸다. A에서 B사이의 거리를 x km 라 할 때, x 에 관한 식으로 옳은 것은?

- ① $6x + 4x = 5x$ ② $6x + 4x = 5$ ③ $\frac{x}{6} + \frac{x}{5} = 4$
④ $\frac{x}{4} + \frac{x}{6} = 5$ ⑤ $5 = \frac{6}{4}x$