

1. 7에 대한 15의 비를 잘못 나타낸 것은 어느 것입니까?

① 7 : 15

② 15와 7의 비

③ 15 : 7

④ 15대 7

⑤ 15의 7에 대한 비

해설

7에 대한 15의 비는 15 : 7이고 7이 기준입니다.
7 : 15는 15가 기준이 되므로 틀린 답은 ①번입니다.

2. 다음 비에서 기준량을 찾아 밑줄을 그은 것입니다. 바르지 못한 것은 어느 것입니까?

- ① ★ 대 ■
- ② 빨간 구슬에 대한 파란구슬의 비
- ③ 6의 10에 대한 비
- ④ 용돈에 대한 저금한 돈의 비
- ⑤ 직사각형의 가로의 길이에 대한 세로의 길이의 비

해설

용돈의 대한 저금한 돈의 비 에서 용돈이 기준량입니다.

3. 다음의 비의 값을 분수로 바르게 나타낸 것을 고르시오.

18에 대한 7의 비

- ① $\frac{11}{7}$ ② $\frac{7}{11}$ ③ $\frac{18}{7}$ ④ $\frac{7}{18}$ ⑤ $\frac{18}{25}$

해설

$$18\text{에 대한 }7\text{의 비} \Rightarrow 7 : 18 = \frac{7}{18}$$

4. 소수 0.871을 백분율로 바르게 나타낸 것은 어느 것입니까?

① 8.71%

② 0.871%

③ 0.0871%

④ 87.1%

⑤ 8.701%

해설

$$0.871 \times 100 = 87.1(\%)$$

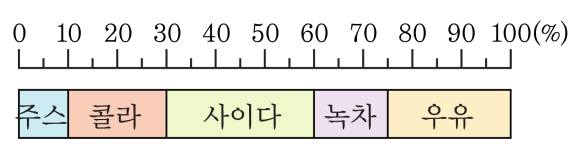
5. 비 3:5에 대한 설명이 잘못된 것은 어느 것입니까?

- ① 외항은 5입니다. ② 전항은 3입니다.
③ 비의 값은 $\frac{3}{5}$ 입니다. ④ 5에 대한 3의 비입니다.
⑤ 비의 항은 3, 5입니다.

해설

비에서 앞에 있는 항을 전항, 뒤에 있는 항을 후항 이라고 합니다.
비 3:5에서 전항은 3이고 후항은 5입니다. 또한 $3:5 = \frac{3}{5}$ 이고
5에 대한 3의 비입니다.

6. 정아네 반 학생들이 주로 마시는 음료를 조사한 띠그래프입니다. 아래 띠그래프에서 사이다는 주스의 몇 배입니까?



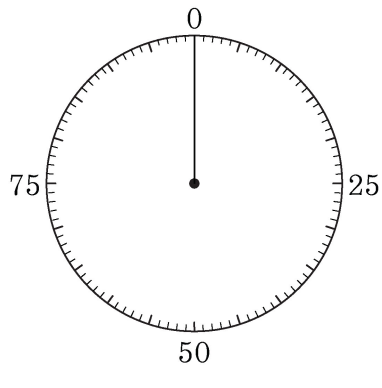
- ① 6배 ② 5배 ③ 4배 ④ 3배 ⑤ 2배

해설

사이다 30%, 주스 10%이므로
사이다는 주스의 3배입니다.

7. 다음 표는 쌀의 성분을 백분율로 나타낸 것입니다. 이 표를 아래와 같이 전체를 100등분한 원그래프로 나타낼 때, 수분은 몇 칸을 차지합니까?

성분	탄수화물	수분	단백질	기타
백분율	77%	16%	6%	1%

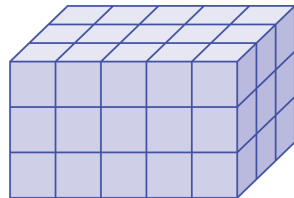


- ① 1칸 ② 8칸 ③ 12칸 ④ 16칸 ⑤ 77칸

해설

$$100 \times \frac{16}{100} = 16(\text{칸})$$

8. 쌓기나무 한 개의 부피가 1cm^3 라고 할 때, 다음 입체도형의 부피는 얼마입니까?



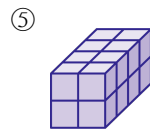
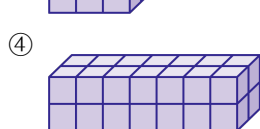
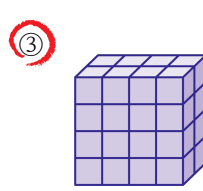
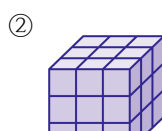
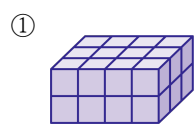
- ① 45cm^3 ② 48cm^3 ③ 52cm^3
④ 57cm^3 ⑤ 60cm^3

해설

$$(5 \times 3) \times 3 = 45(\text{개})$$

$$1 \times 45 = 45(\text{cm}^3)$$

9. 한 개의 부피가 1cm^3 인 쌓기나무로 다음과 같이 직육면체를 쌓았습니다. 부피가 가장 큰 것은 어느 것입니까?



해설

①의 부피는 $4 \times 3 \times 2 = 24(\text{cm}^3)$ 입니다.

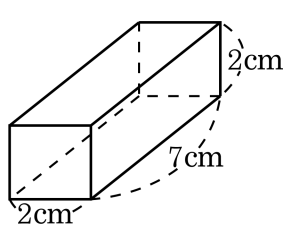
②의 부피는 $3 \times 3 \times 3 = 27(\text{cm}^3)$ 입니다.

③의 부피는 $4 \times 2 \times 4 = 32(\text{cm}^3)$ 입니다.

④의 부피는 $7 \times 2 \times 2 = 28(\text{cm}^3)$ 입니다.

⑤의 부피는 $2 \times 4 \times 2 = 16(\text{cm}^3)$ 입니다.

10. 다음 입체도형의 부피를 구하시오.



- ① 24 cm^3 ② 25 cm^3 ③ 28 cm^3
④ 30 cm^3 ⑤ 34 cm^3

해설

$$\begin{aligned} \text{(직육면체의 부피)} &= (\text{가로}) \times (\text{세로}) \times (\text{높이}) \\ &= 2 \times 7 \times 2 = 28(\text{cm}^3) \end{aligned}$$

11. 다음 입체도형 중에서 그 부피가 가장 큰 것은 어느 것입니까?

- ① 가로 5 cm, 세로 5 cm, 높이 5 cm 인 정육면체
- ② 가로 9 cm, 세로 4 cm, 높이 3 cm 인 직육면체
- ③ 가로 5.5 cm, 세로 6 cm, 높이 4 cm 인 직육면체
- ④ 가로 4 cm, 세로 4 cm, 높이 6 cm 인 직육면체
- ⑤ 가로 12 cm, 세로 3 cm, 높이 2.5 cm 인 직육면체

해설

- ① $5 \times 5 \times 5 = 125(\text{cm}^3)$
- ② $9 \times 4 \times 3 = 108(\text{cm}^3)$
- ③ $5.5 \times 6 \times 4 = 132(\text{cm}^3)$
- ④ $4 \times 4 \times 6 = 96(\text{cm}^3)$
- ⑤ $12 \times 3 \times 2.5 = 90(\text{cm}^3)$

12. 다음 중 부피가 가장 작은 도형은 어느 것입니까?

- ① 6 m^3
- ② 5.3 m^3
- ③ 900000 cm^3
- ④ 한 모서리의 길이가 1.2 m 인 정육면체의 부피
- ⑤ 가로가 1 m 이고 세로가 0.5 m , 높이가 2 m 인 직육면체의 부피

해설

부피를 m^3 로 고쳐서 비교합니다.

- ① 6 m^3
- ② 5.3 m^3
- ③ $900000\text{ cm}^3 = 0.9\text{ m}^3$
- ④ $1.2 \times 1.2 \times 1.2 = 1.728\text{ m}^3$
- ⑤ $1 \times 0.5 \times 2 = 1\text{ m}^3$

13. 다음은 어느 지방의 땅 넓이를 용도별로 나타낸 피그레프입니다. 도로가 차지하는 넓이는 논이 차지하는 넓이의 몇 % 인니까? (반올림하여 소수 둘째 자리까지 나타내시오.)

용도별 땅넓이 (전체:3200km²)


논 (32%)	밭 (26%)	주거지 (16%)	도로 (11%)	기타
------------	------------	--------------	-------------	----

- ① 약 34.37% ② 약 34.38% ③ 약 34.39%
 ④ 약 34.41% ⑤ 약 34.42%

해설

(구하는 비율) = $11 \div 32 \times 100 = 34.375(\%)$ 이므로
 소수 셋째 자리에서 반올림하면 약 34.38% 이 됩니다.

14. 정아네 학교에서 회장선거에서 후보자별 득표율을 나타낸 것입니다. 아래 그림의 원그래프에서 민우가 얻은 표와 종철이가 얻은 표의 차를 구하여라.(단, 전체 학생수는 200명입니다.)

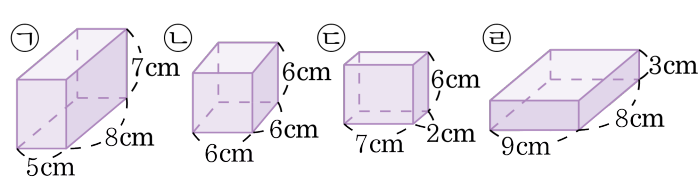


- ① 20표 ② 30표 ③ 40표 ④ 50표 ⑤ 60표

해설

전체 200의 학생 중
민우가 얻은 표 : $200 \times 0.3 = 60$ (표)
종철이 얻은 표 : $200 \times 0.1 = 20$ (표)
민우와 종철이의 득표 차 : $60 - 20 = 40$ (표)

15. 다음 직육면체 중에서 부피가 같은 것끼리 연결된 것은 어느 것입니까?

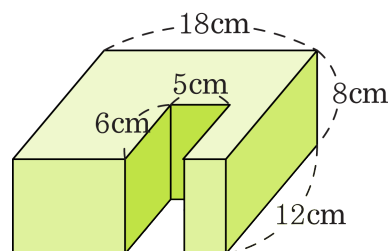


- ① ㉠-㉡ ② ㉠-㉢ ③ ㉡-㉢
 ④ ㉡-㉣ ⑤ ㉢-㉣

해설

- ㉠ $5 \times 8 \times 7 = 280(\text{cm}^3)$
- ㉡ $6 \times 6 \times 6 = 216(\text{cm}^3)$
- ㉢ $7 \times 2 \times 6 = 84(\text{cm}^3)$
- ㉣ $9 \times 8 \times 3 = 216(\text{cm}^3)$

16. 다음 입체도형의 부피를 구한 것을 고르시오.

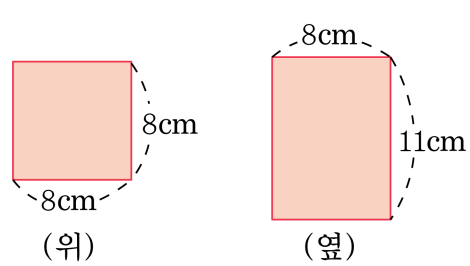


- ① 864 cm³ ② 576 cm³ ③ 240 cm³
④ 1488 cm³ ⑤ 1728 cm³

해설

$$\begin{aligned} & (18 \times 12) \times 8 - (5 \times 6) \times 8 \\ &= 1728 - 240 \\ &= 1488(\text{cm}^3) \end{aligned}$$

17. 다음은 직육면체를 위와 옆에서 본 모양입니다. 이 직육면체의 겉넓이를 구하시오.

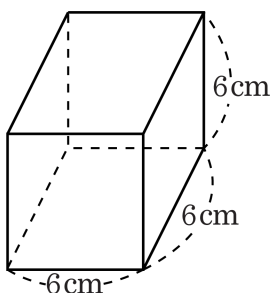


- ① 240 cm^2 ② 300 cm^2 ③ 360 cm^2
④ 420 cm^2 ⑤ 480 cm^2

해설

$$\begin{aligned} &(\text{위에서 본 모양})=(\text{밑넓이}) \\ &(\text{옆에서 본 모양})=(\text{옆면}) \\ &(\text{겉넓이})=(8 \times 8) \times 2 + (8 \times 4) \times 11 \\ &= 128 + 352 \\ &= 480(\text{ cm}^2) \end{aligned}$$

18. 다음 정육면체의 겉넓이를 바르게 구하지 못한 것은 어느 것입니까?



- ① $(6+6) \times 2 \times 4$
- ② $6 \times 6 \times 6$
- ③ $(6 \times 6) \times 2 + (6 \times 6) \times 4$
- ④ $(6 \times 6 + 6 \times 6 + 6 \times 6) \times 2$
- ⑤ $6 \times 6 + 6 \times 6 + 6 \times 6 + 6 \times 6 + 6 \times 6 + 6 \times 6 + 6 \times 6$

해설

정육면체의 겉넓이 구하는 방법

- ① 여섯 면의 넓이의 합
- ② (밑넓이) $\times 2$ +(옆넓이)

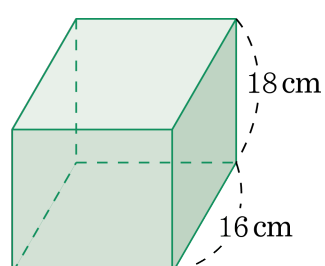
19. 어떤 물건을 20000 원에 사서 20%의 이익을 붙여 정가를 정했다가, 팔 때는 정가의 20%를 할인하여 팔았습니다. 결과적으로 몇 %의 손해 또는 이익이 생겼습니까?

- ① 5% 이익
- ② 5% 손해
- ③ 4% 이익
- ④ 4% 손해
- ⑤ 이익도 손해도 없습니다.

해설

정가 : $20000 + 20000 \times 0.2 = 24000$ (원)
할인가 : $24000 - 24000 \times 0.2 = 19200$ (원)
 $20000 - 19200 = 800$ (원)의 손해
 $\frac{800}{20000} \times 100 = 4(\%)$ 의 손해

20. 다음 도형의 겉넓이를 이용하여 부피를 구하시오.



겉넓이 : 1936 cm^2

- ① 5760 cm^3
 ② 5400 cm^3
 ③ 5216 cm^3
 ④ 4924 cm^3
 ⑤ 4866 cm^3

해설

가로 16 cm, 세로 18 cm인 직사각형을 밑면으로 하여 높이를 구해 봅시다.

$$16 \times 18 \times 2 + (16 + 18 + 16 + 18) \times \square = 1936$$

$$576 + 68 \times \square = 1936$$

$$\square = (1936 - 576) \div 68 = 20(\text{cm})$$

$$(\text{부피}) = 16 \times 18 \times 20 = 5760(\text{cm}^3)$$