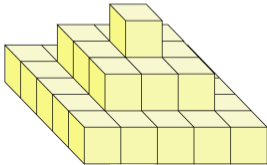


1. 다음 그림을 보고, 2층에 대한 3층의 개수 비를 바르게 나타낸 것은 어느 것입니까?



① 9와 1의 비

② 1 : 9

③ 1에 대한 9의 비

④ 9의 1에 대한 비

⑤ 25대 9

2. 다음 중 100의 약수의 개수와 72의 약수의 개수에 대한 비를 바르게 나타낸 것은 어느 것입니까?

① $3 : 5$

② $9 : 12$

③ $8 : 10$

④ $8 : 12$

⑤ $72 : 100$

3. 다음을 표현했을 때 나머지 것과 다른 하나는 어느 것입니까?

① 4와 5의 비

② 4대 5

③ 4의 5에 대한 비

④ 4에 대한 5의 비

⑤ 5에 대한 4의 비

4. 안에 알맞은 수를 차례대로 써넣으시오.

$4:9 \rightarrow$ 에 대한 의 비

 답: _____

 답: _____

5. 다음 중 다른 하나는 어느 것입니까?

① 8 : 5

② 8에 대한 5의 비

③ 8 대 5

④ 8의 5에 대한 비

⑤ 5에 대한 8의 비

6. 비율을 분수와 소수로 나타낸 것으로 올바른 것을 고르시오.

$$3 : 8$$

① $\frac{11}{8}$, 0.625

② $\frac{3}{8}$, 0.625

③ $\frac{3}{8}$, 0.625

④ $\frac{3}{8}$, 0.375

⑤ $\frac{3}{8}$, 0.375

7. 표의 빈 칸에 들어갈 수를 알맞게 나열한 것을 고르시오.

비율비	분수	소수	백분율
1대 5	$\frac{1}{5}$	(1)	20%
25에 대한 8의 비	(2)	0.32	
3의 1000에 대한 비	$\frac{3}{1000}$		(3)

① $0.5, \frac{32}{100}, 3\%$

② $0.5, \frac{8}{25}, 3\%$

③ $0.2, \frac{32}{100}, 3\%$

④ $0.2, \frac{8}{25}, 3\%$

⑤ $0.2, \frac{8}{25}, 0.3\%$

8. 태현이네 반 학생들은 모두 40 명이고, 그 중에서 24 명은 남학생이고, 여학생 중 5 명이 안경을 썼다고 합니다. 여학생 수에 대한 안경을 쓴 여학생 수의 비의 값을 분수로 나타내시오.



답: _____

9. 100 이하의 수 중에서 3과 4의 공배수의 개수와 9의 배수의 개수의 비의 값을 분수로 구하시오.

① $\frac{11}{8}$

② $\frac{8}{11}$

③ $\frac{8}{12}$

④ $\frac{9}{12}$

⑤ $\frac{9}{11}$

10. 다음 두 비율을 비교하여 비율이 더 낮은 것을 고르시오.

가. $13 : 20$ 나. $14 : 25$



답: _____

11. 주머니 안에 공이 40 개 들어 있습니다. 그 중 14 개가 노란 공이라면, 노란 공은 전체의 몇 %입니까?



답:

_____ %

12. 보라는 엄마와 동생과 함께 피자를 시켜 먹기로 했습니다. 피자를 8 조각 내서 그 중 보라는 2 조각을 먹었습니다. 전체에 대한 보라가 먹은 피자의 비의 값을 백분율로 나타내시오.



답: _____

%

13. 4°C 의 물 420 g에 소금 60 g을 녹여 소금물을 만들었습니다. 소금물의 무게에 대한 소금의 무게의 비율은 몇 %입니까?



답: _____

%

14. 승명이네 학교의 6학년 500명 중에서 아파트에 사는 사람은 240명이
고, 그 외는 단독 주택에 산다. 단독 주택에 사는 학생은 전체의 몇 %
인가?



답:

_____ %

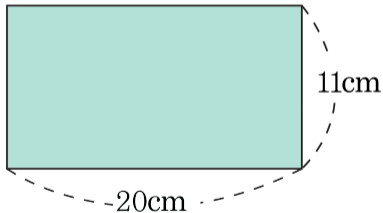
15. 꽃바구니에 꽃이 40송이가 있습니다. 그 중에 30송이가 백합꽃입니다.
백합꽃은 전체의 몇 %입니까?



답:

_____ %

16. 다음 그림을 보고, 가로 길이에 대한 세로 길이의 비를 백분율로 나타내시오.



답: _____

%

17. 안에 들어갈 수가 큰 것부터 차례로 기호를 쓰시오.

가. $0.61 \rightarrow$ %

나. $\frac{1}{4} \rightarrow$ %

다. $48\% \rightarrow \frac{\text{}{25}$

라. $117\% \rightarrow$

 답: _____

 답: _____

 답: _____

 답: _____

18. 비율의 크기를 비교하여 ○ 안에 $>$, $=$, $<$ 를 써넣으시오.

7의 9에 대한 비 ○ 3과 4의 비



답: _____

19. 다음 중 비교하는 양이 기준량보다 큰 경우를 모두 찾아 기호를 쓰시오.

㉠ 89%

㉡ 92.5%

㉢ $1\frac{6}{8}$

㉣ 409%

㉤ 0.15

㉥ 250%

 답: _____

 답: _____

 답: _____

20. 80 L 들이의 물통이 있습니다. 이 물통에 30% 의 물을 채웠다면 몇 L 를 더 넣어야 물통에 물이 가득 차겠습니까?

① 24 L

② 30 L

③ 42 L

④ 50 L

⑤ 56 L

21. 윤희는 200 쪽짜리 동화책을 어제에는 15%를 읽었고, 오늘은 30%를 읽었습니다. 아직 읽지 않은 동화책의 쪽수를 구하시오.



답: _____

쪽

22. 영이네 학교의 6학년 학생 수는 400명입니다. 그 중에서 여학생 수는 30%이고, 여학생 중 15%는 영이네 반이라고 합니다. 영이네 반 여학생은 몇명입니까?

① 32명

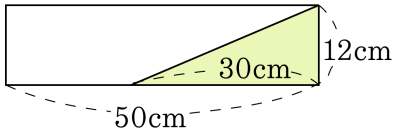
② 28명

③ 26명

④ 22명

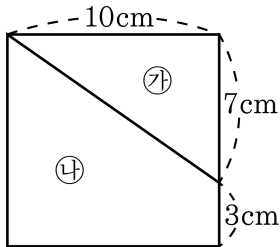
⑤ 18명

23. 다음 직사각형의 넓이에 대한 삼각형의 넓이의 비를 가장 간단한 자연수의 비로 나타내시오.



답: _____

24. 다음 그림과 같이 한 변이 10cm인 정사각형을 ㉠, ㉡ 두 부분으로 나누었습니다. ㉡의 넓이에 대한 ㉠의 넓이의 비의 값을 구하시오.



- ① 1 ② $\frac{1}{4}$ ③ $\frac{1}{3}$ ④ $\frac{7}{30}$ ⑤ $\frac{7}{13}$

25. 한 변의 길이가 20 cm 인 정사각형이 있습니다. 이 정사각형의 가로와 세로를 각각 25% 씩 줄인다면 넓이는 몇 cm^2 가 되겠습니까?



답:

_____ cm^2