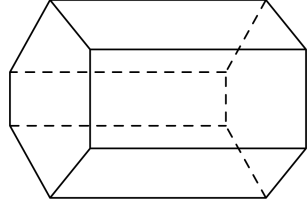


1. 다음 중 각기둥에 대해 잘못 말한 것은 어느 것인지 고르시오.

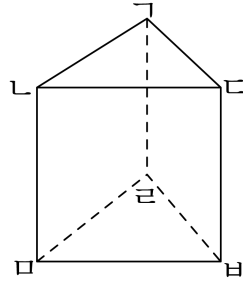
- ① 밑면과 옆면은 수평입니다.
- ② 옆면은 직사각형이다.
- ③ 두 밑면끼리는 평행합니다.
- ④ 모서리의 수는 밑면의 변의 수의 3 배입니다.
- ⑤ 옆면의 수는 밑면의 모양에 따라 달라집니다.

2. 각기둥의 이름을 쓰시오.



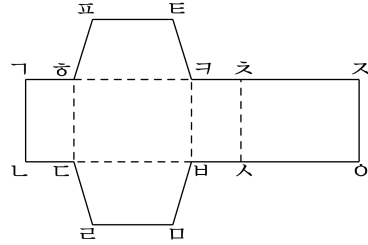
▶ 답: _____

3. 다음 각기둥에서 높이를 나타내는 선분이 아닌 것을 모두 고르시오.



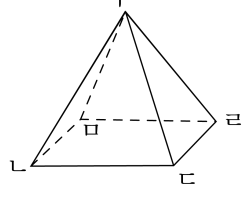
- ① 선분 GL ② 선분 LM ③ 선분 MB
- ④ 선분 DB ⑤ 선분 GL

4. 다음 전개도로 사각기둥을 만들었을 때, 변 가와 맞닿는 변은 어느 것인지 고르시오.



- ① 변 나다 ② 변 가하 ③ 변 하다
 ④ 변 자오 ⑤ 변 리라

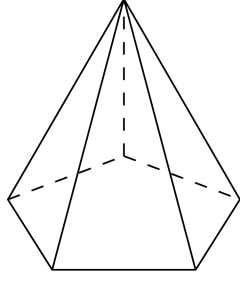
5. 다음 그림을 보고 각뿔의 이름과 각뿔의 꼭짓점의 기호를 차례대로 쓰시오.



▶ 답: _____

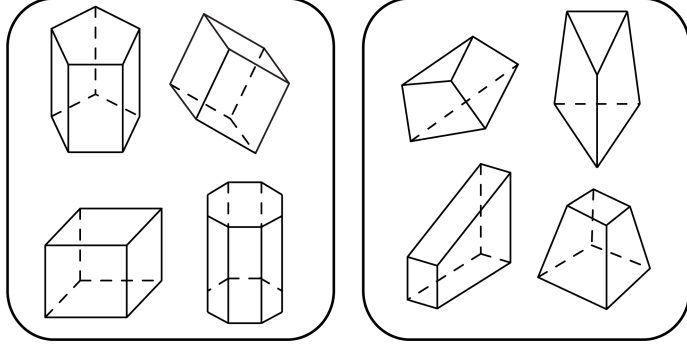
▶ 답: 점 _____

6. 각꼴의 면의 수는 몇 개입니까?



▶ 답: _____ 개

7. 다음은 어떤 기준에 의해 도형들을 분류한 것입니다. 이 기준은 무엇인지 고르시오.



- ① 각기둥과 각뿔
- ② 입체도형과 각기둥
- ③ 입체도형과 각뿔
- ④ 원기둥과 각기둥
- ⑤ 각기둥과 각기둥이 아닌 것

8. 다음 중 각기둥에서 개수가 가장 적은 것은 어느 것인지 고르시오.

① 옆면

② 모서리

③ 면

④ 밑면

⑤ 꼭짓점

9. 각기둥에서 개수가 가장 많은 것은 어느 것입니까?

① 꼭짓점

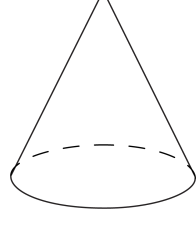
② 면

③ 모서리

④ 밑면

⑤ 옆면

10. 다음 입체도형이 각뿔이 아닌 이유를 모두 고르시오.



- ① 고깔모양입니다.
- ② 밑면이 없습니다.
- ③ 각뿔의 꼭짓점이 한 개입니다.
- ④ 밑면이 다각형이 아닙니다.
- ⑤ 옆면이 삼각형이 아닙니다.

11. 다음 중 각뿔의 옆면의 모양으로 알맞은 것은 어느 것입니까?

- ① 삼각형 ② 사각형 ③ 오각형
- ④ 육각형 ⑤ 칠각형

12. 괄호 안에 들어갈 수를 알맞게 연결한 것을 고르시오.


	면의 수	꼭짓점의 수	모서리의 수
육각기둥	(1)	(2)	
팔각뿔	(3)	(4)	(5)

- ① (1) - 7개 ② (2) - 18개 ③ (3) - 10개
④ (4) - 9개 ⑤ (5) - 24개

13. 다음 중 틀린 것은 어느 것인지 고르시오.

- ① 각기둥은 밑면과 옆면이 수직으로 만납니다.
- ② 각뿔의 옆면은 모두 직사각형입니다.
- ③ 각기둥의 높이는 두 밑면 사이의 거리입니다.
- ④ 각뿔의 옆면을 이루는 모든 삼각형의 공통인 꼭짓점을 각뿔의 꼭짓점이라고 합니다.
- ⑤ 각기둥과 각뿔의 이름은 밑면의 모양에 따라 결정됩니다.

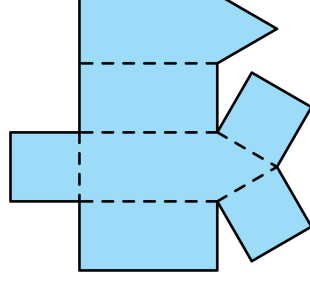
14. 모서리의 수가 16개인 각꼴의 이름을 구하시오.

 답: _____

15. 한 밑면이 둘레가 48cm이며, 전체모서리가 152cm인 팔각기둥이 있습니다. 이 입체도형의 높이는 몇 cm 입니까?

- ① 5 cm ② 6 cm ③ 7 cm ④ 8 cm ⑤ 9 cm

16. 다음은 어떤 입체도형의 전개도입니까?

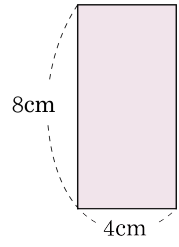


▶ 답: _____

17. 모든 모서리의 길이가 4cm 이고, 밑면이 정육각형인 각기둥이 있습니다. 이 각기둥의 전개도의 둘레의 길이는 몇 cm인지 구하십시오.

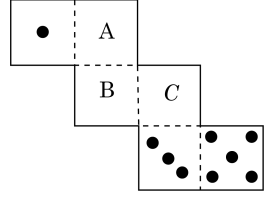
▶ 답: _____ cm

18. 다음과 같은 직사각형 6개의 옆면으로 둘러싸여 있는 각기둥의 모서리 길이의 합은 몇 cm입니까?



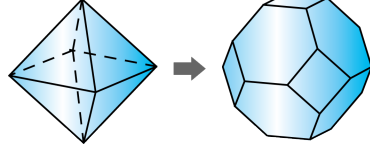
- ① 9.6 cm
- ② 196 cm
- ③ 69 cm
- ④ 96 cm
- ⑤ 960 cm

19. 다음 주사위의 전개도에서 A,B,C의 눈의 수로 바른 것은 어느 것입니까?(단, 주사위의 평행인 눈의 합은 7입니다.)



- ① A=2 ② B=6 ③ B=2 ④ C=2 ⑤ C=4

20. 왼쪽 도형은 합동인 정삼각형 8개로 이루어진 정팔면체이고, 오른쪽 도형은 이 정팔면체를 각 모서리의 3등분 점을 지나게 모든 꼭짓점을 자른 것입니다. 이 입체도형을 깎인 정팔면체라고 할 때, 깎인 정팔면체의 면, 모서리, 꼭짓점의 수를 각각 차례대로 구하십시오.



▶ 답: 면 _____ 개

▶ 답: 모서리 _____ 개

▶ 답: 꼭짓점 _____ 개