

1. 다음 중 밑줄 친 숫자가 나타내는 수가 가장 큰 것은 어느 것입니까?

① 48549

② 64800

③ 90213

④ 30000

⑤ 25084

2. 다음을 <보기>와 같이 나타내시오.

보기

삼천오백이십일만 칠천팔 ⇒ 3521만 7008

이천팔십만 사백 ⇒

400 ▶ 답: _____ 만

400

3. 안에 알맞은 수를 넣은 것은 어느 것입니까?

(1) 18273660 는 만이 , 일이 인 수입니다.

(2) 96820261 는 만이 , 일이 인 수입니다.

① (1) 1827, 3660 (2) 9682, 0261

② (1) 1827, 3660 (2) 9682, 261

③ (1) 8273, 3660 (2) 9682, 261

④ (1) 1827, 366 (2) 9682, 261

⑤ (1) 1827, 3660 (2) 968, 261

4. () 안에 알맞은 수를 차례대로 고른 것은 어느 것입니까?

8463252536545290은
조가 ()
억이 ()
만이 3654
일이()인수입니다.

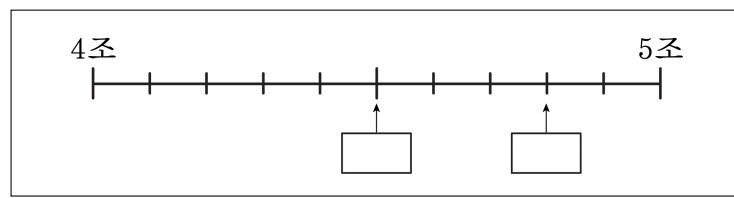
- ① 8463,5253,5290 ② 84632,5253,5290
- ③ 8463,3252,5290 ④ 846,2525,5290
- ⑤ 8463,2525,5290

5. 다음을 숫자로 쓰면 0 을 모두 몇 개 쓰게 되겠습니까?

삼억 육백만 칠십오


▶ 답: _____ 개

6. 안에 알맞은 수를 차례대로 쓴 것은 어느 것입니까?




- ① 4조 5천억, 4조 8천억 ② 4조 5천억, 4조 9천억
- ③ 4조 6천억, 4조 9천억 ④ 4조 4천억, 4조 7천억
- ⑤ 4조 6천억, 4조 8천억

7. 어떤 수의 1000배는 80000 입니다. 어떤 수는 얼마입니까?

 답: _____

8. 다음은 ㉠회사와 ㉡회사의 1년 동안의 수출액을 나타낸 것입니다.
어느 회사의 수출액이 더 적습니까?

㉠회사 : 8조 700억
㉡회사 : 8007009743260

 답: _____

9. 하은이는 저금통에 만 원짜리 5장, 천 원짜리 14장, 백 원짜리 32개, 십 원짜리 23 개를 모았습니다. 저금통에 모은 돈은 모두 얼마인지 구하시오.

▶ 답: _____ 원

10. 다음 수에서 ㉠의 자리의 수는 ㉡의 자리의 수의 몇 배입니까?

59459201 ㉠ ㉡

▶ 답: _____ 배

11. 2에서 8까지의 숫자를 한 번씩 써서 일곱 자리의 수를 만들었습니다.
그 중에서 가장 큰 수와 가장 작은 수의 합을 구하시오.

▶ 답: _____

12. 다음 중 숫자 5 가 나타내는 수가 가장 큰 것은 어느 것입니까?


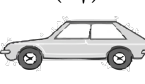

- ① 82 억 5 ② 4356000000 ③ 173 억 4560 만
④ 30850000000 ⑤ 15 억 2800 만

13. 다음의 수가 1조가 되도록 안에 알맞은 수를 차례대로 쓴 것은 어느 것입니까?

1조 → 9000억+
1조 → 1000억의 배
1조 → 1억의 배

- ① (1) 100억 (2) 10 (3) 10000
- ② (1) 1000억 (2) 10 (3) 10000
- ③ (1) 1000억 (2) 100 (3) 10000
- ④ (1) 1000억 (2) 10 (3) 1000
- ⑤ (1) 1000억 (2) 100 (3) 1000

14. 상희의 아버지는 중고차의 가격을 알아보았습니다. 가격을 비교하여 에 알맞은 수를 순서대로 쓴 것을 고르시오.

(가)	(나)	(다)
		
9400000원	12750000원	11950000원

(1) (가) 자동차의 가격은 자리 수이고 (나) 자동차의 가격은 자리 수이므로, 자동차가 더 비쌉니다.
 (2) (나) 자동차와 (다) 자동차의 가격은 모두 자리 수입니다. 하지만 위의 자리부터 비교하면, 자동차가 만의 자리 숫자가 더 크므로 더 비쌉니다.

- ① (1) 7, 8, 가 (2) 8, 나, 백 ② (1) 7, 8, 나 (2) 8, 다, 십
 ③ (1) 7, 8, 나 (2) 8, 나, 백 ④ (1) 7, 9, 나 (2) 9, 나, 백
 ⑤ (1) 7, 9, 나 (2) 9, 나, 십

15. 다음 수에서 ㉠이 나타내는 수는 ㉡이 나타내는 수의 몇 배입니까?

$$\frac{126127695}{\text{㉠} \quad \text{㉡}}$$

▶ 답: _____ 배

16. 482조 6500억에서 2000억씩 4번 뛰어서 센 수를 쓰시오.

 답: _____

17. 다음 중 가장 큰 수는 어느 것입니까?

- ① 890억보다 1조 큰 수
- ② 이천억을 1000배 한 수
- ③ 82조 5700억
- ④ 3630089485400
- ⑤ 사조 구천팔억 사천만 팔십

18. 두 수의 크기를 비교하여 >, <, =로 바르게 나타낸 것은 어느 것입니까?

(1) 3727 만 + 1903 만 ○ 27373627 + 27373262 (2) 1039 만 + 1737 만 ○ 10000000 + 12847367
--

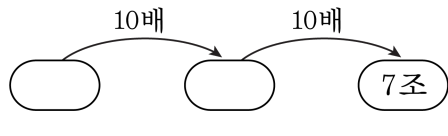
- ① >, < ② >, = ③ >, > ④ <, < ⑤ =, <

19. 안에는 0 에서 9 까지 어느 숫자를 넣어도 됩니다. 큰 수부터 차례로 기호를 쓴 것은 어느 것입니까?

- | | |
|-----------------------------------|-----------------------------------|
| ㉠ 720 <input type="text"/> 043259 | ㉡ 72 <input type="text"/> 9948027 |
| ㉢ 7209 <input type="text"/> 47656 | |

- ① ㉠, ㉡, ㉢ ② ㉡, ㉢, ㉣ ③ ㉠, ㉣, ㉤
④ ㉠, ㉢, ㉣ ⑤ ㉢, ㉣, ㉤

20. 빈 곳에 알맞은 수를 차례대로 고른 것은 어느 것입니까?



- ① 70억, 7000억 ② 70억, 700억 ③ 700억, 7000억
④ 7억, 700억 ⑤ 7억, 70억