

1. 영철이는 친구들과 닭싸움 경기를 19 번 하였습니다. 비긴 경기는 없고 이긴 경기가 진 경기보다 5 번 더 많다면, 영철이는 몇 번 이겼는지 알아보시오.

 답: _____ 번

2. 사탕 27 개를 형과 동생이 나누어 가지려고 합니다. 형이 동생보다 5 개를 더 많이 가지려면, 형은 사탕을 몇 개 갖게 되는지 구하시오.

형의 사탕 수(개)	12	13	14	15	16	17
동생의 사탕 수(개)						


▶ 답: _____ 개

3. 2 병에 1300 원인 음료수가 있습니다. 7000 원으로 이 음료수를 몇 병까지 살 수 있습니까?

▶ 답: _____ 병


4. 다음 대응표에서 \square 가 9일 때, Δ 는 얼마입니까?

\square	2	3	4	5	6
Δ	14	21	28	35	42

 답: _____

5. 다음 대응표에서 ★의 값이 51일 때, ○의 값은 얼마입니까?

○	2	4	6	8	10	12
★	6	12	18	24	30	36

 답: _____

6. 다음 대응표에서 ○의 값이 15 일 때, □의 값은 얼마입니까?

□	3	4	5	6	7
○	9	10	11	12	13

▶ 답: _____

7. 다음은 형과 동생의 나이를 나타낸 표입니다. 형과 동생의 나이 관계를 식으로 바르게 나타낸 것은 어느 것입니까?

형의 나이(\square)	6	7	8	9	10	11
동생의 나이(Δ)	5	6	7		9	

- ① $\Delta = \square + 1$ ② $\Delta = \square + 2$ ③ $\Delta = \square - 1$
④ $\Delta = \square - 2$ ⑤ $\Delta = \square - 3$

8. 다음은 책상의 수와 이에 필요한 의자의 수를 표로 나타낸 것입니다. 책상과 의자의 수의 관계를 식으로 나타내시오.

책상의 수 (□)	1	2	3	4	5	6
의자의 수 (Δ)	2	4		8		

- ① $\Delta = \square + 1$ ② $\Delta = \square + 2$ ③ $\Delta = \square - 1$
④ $\Delta = \square - 2$ ⑤ $\Delta = \square \times 2$

9. 다음 중 틀린 것을 고르시오.

\square	1	2	3	4	5	
Δ	4		6		8	9

- ① \square 가 4일 때, Δ 는 7입니다.
- ② Δ 는 \square 보다 3만큼 더 큽니다.
- ③ 아래줄 왼쪽에서 첫 번째 빈 칸에 들어갈 수는 3입니다.
- ④ 아래줄 왼쪽에서 두 번째 빈 칸에 들어갈 수는 7입니다.
- ⑤ 윗줄 맨 끝 빈 칸에 들어갈 수는 6입니다.


10. 다음 대응표에서 낙타 다리 수가 56 개일 때, 낙타는 모두 몇 마리입니까?

낙타 수 (마리)	1	2	3	4	5	6	...
낙타 다리 수 (개)	4	8	12	16	20	24	...

▶ 답: _____ 마리

11. 다음 대응표에서 \square 가 12일 때, Δ 는 얼마입니까?

\square	2	3	6	7	9
Δ	12	18	36	42	54

 답: _____

12. 다음 형과 동생의 나이 관계를 식으로 나타내시오.

형(□)	8	9	10	11	
동생(△)	5	6		8	9

① $\Delta = \square + 1$

② $\Delta = \square + 2$

③ $\Delta = \square - 1$

④ $\Delta = \square - 2$

⑤ $\Delta = \square - 3$

13. 가위바위보를 하였습니다. 영준이는 13번, 상훈이는 12번을 이겼습니다. 영은이가 이긴 횟수는 영준이와 상훈이가 이긴 합보다 12번 적습니다. 영은이는 몇 번을 이겼습니까?

▶ 답: _____ 번

14. 현주네 반은 여학생이 남학생보다 4명 적다고 합니다. 반 학생 수가 모두 48명이라면 여학생은 몇 명입니까?

▶ 답: _____ 명

15. 희진은 빨간 색종이와 파란 색종이를 40장 가지고 있습니다. 빨간 색종이를 파란 색종이보다 6장 더 가지고 있다면 파란 색종이는 몇 장입니까?

▶ 답: _____ 장

16. 언니의 나이는 16 살이고, 동생의 나이는 9 살입니다. 동생이 15 살이 되면, 언니는 몇 살이 되겠습니까?

▶ 답: _____ 살