

1. 12 개의 내각의 크기가 모두 같고, 12 개의 변의 길이가 모두 같은 다각형은?

① 육각형

② 정육각형

③ 팔각형

④ 십이각형

⑤ 정십이각형

해설

변의 길이가 모두 같고, 내각의 크기가 모두 같은 다각형을 정다각형이라고 한다.

변과 내각이 모두 12 개이므로 정십이각형이다.

2. 십오각형의 한 꼭짓점에서 그을 수 있는 대각선의 개수를 x 개, 팔각형의 한 꼭짓점에서 그을 수 있는 대각선의 개수를 y 개라고 할 때, xy 의 값은?

① 50

② 55

③ 60

④ 65

⑤ 70

해설

십오각형의 한 꼭짓점에서 그을 수 있는 대각선의 개수는

$$x = 15 - 3 = 12$$

팔각형의 한 꼭짓점에서 그을 수 있는 대각선의 개수는

$$y = 8 - 3 = 5$$

$$\therefore xy = 12 \times 5 = 60$$

3. 다음 중 어느 다각형의 한 꼭짓점에서 그을 수 있는 대각선의 개수를 a , 이 때 생기는 삼각형의 개수를 b 라 할 때, $b - a$ 의 값은?

① 0

② 1

③ 2

④ 3

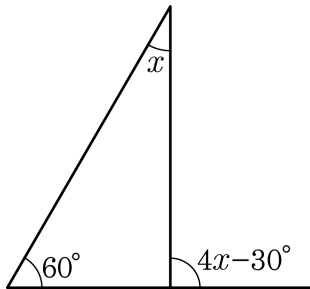
⑤ 4

해설

정 n 각형의 한 꼭짓점에서 그을 수 있는 대각선의 수는 n 개의 꼭짓점 중 자신과 양 옆의 꼭짓점을 제외한 $(n-3)$ 개이고, 이때, 생기는 삼각형의 개수는 대각선의 개수보다 하나 많은 $(n-2)$ 개다.

따라서, $b = n - 2$, $a = n - 3$ 이므로 $b - a = 1$

4. 다음 그림에서 x 의 크기를 구하면?



① 10°

② 20°

③ 30°

④ 40°

⑤ 50°

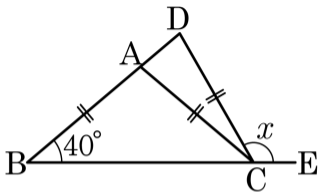
해설

$$x + 60^\circ = 4x - 30^\circ$$

$$3x = 90^\circ$$

$$x = 30^\circ$$

5. 다음 그림에서 $\overline{AB} = \overline{AC} = \overline{CD}$ 일 때, $\angle x$ 의 크기는?



① 100°

② 120°

③ 150°

④ 160°

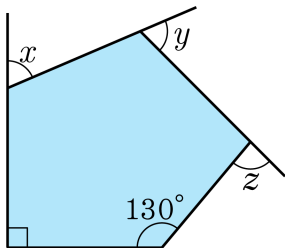
⑤ 165°

해설

$$2\angle ABC = \angle DAC, \angle DCE = 3\angle ABC$$

$$\angle x = 3 \times 40^\circ = 120^\circ$$

6. 다음 그림에서 $\angle x + \angle y + \angle z$ 의 크기는?



① 110°

② 180°

③ 220°

④ 240°

⑤ 300°

해설

x 의 외각 :

$$360^\circ = x + y + z + 50^\circ + 90^\circ$$

$$x + y + z = 220^\circ$$

7. 다음 중 팔각형의 내각의 크기의 합과 외각의 크기의 합을 바르게 나타낸 것은?

① $1080^\circ, 180^\circ$

② $1080^\circ, 360^\circ$

③ $1260^\circ, 180^\circ$

④ $1260^\circ, 360^\circ$

⑤ $1440^\circ, 360^\circ$

해설

팔각형의 내각의 합은 $180^\circ \times (8 - 2) = 180^\circ \times 6 = 1080^\circ$ 이다.
또한, 외각의 합은 360° 이다.

8. 내각의 크기의 합이 2340° 인 정다각형의 한 외각의 크기는?

① 22.5°

② 24°

③ 30°

④ 36°

⑤ 45°

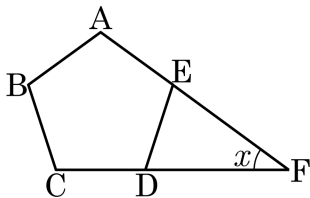
해설

$$180^\circ(n - 2) = 2340^\circ$$

$$\therefore n = 15$$

따라서 한 외각의 크기는 $\frac{360^\circ}{15} = 24^\circ$ 이다.

9. 다음 그림과 같이 정오각형 ABCDE 에서 변 AE, CD 의 연장선이 만나서 생기는 $\angle x$ 의 크기는?



① 28°

② 30°

③ 32°

④ 34°

⑤ 36°

해설

정오각형의 한 외각의 크기는 $\frac{360^\circ}{5} = 72^\circ$ 이므로

$\triangle EDF$ 에서 $\angle F = 180^\circ - 72^\circ - 72^\circ = 36^\circ$ 이다.

10. 다음 보기의 정십오각형에 대한 설명 중 옳은 것을 모두 고르면?

보기

- ㉠ 대각선의 총 개수는 30 개이다.
- ㉡ 한 내각의 크기는 156° 이다.
- ㉢ 한 꼭짓점에서 대각선을 그어 만들어지는 삼각형은 13 개이다.
- ㉣ 한 외각의 크기는 20° 이다.

① ㉠, ㉡, ㉢

② ㉠, ㉢

③ ㉡, ㉢, ㉣

④ ㉡, ㉢

⑤ ㉢, ㉣

해설

㉠ 대각선의 총 개수는 $\frac{n(n-3)}{2} = \frac{15(15-3)}{2} = 90$ (개)

㉣ 다각형의 외각의 크기의 합은 360° 이므로 한 외각의 크기는 $\frac{360^\circ}{15} = 24^\circ$