

1. $a < b$ 일 때, 다음 중 부등호가 틀린 것은?

① $a + 4 < b + 4$

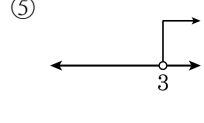
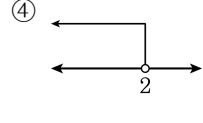
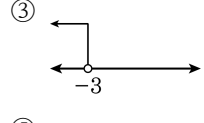
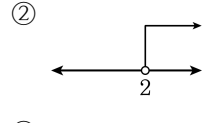
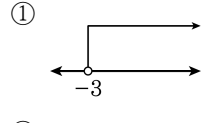
② $-5 + a < -5 + b$

③ $3a - 1 < 3b - 1$

④ $\frac{1}{5}a < \frac{1}{5}b$

⑤ $-3a < -3b$

2. 일차부등식 $3x - 5 > 4$ 의 해를 수직선 위에 바르게 나타낸 것은?



3. 다음 중 일차함수 $f(x) = -2x + 1$ 의 함숫값으로 옳은 것은?

① $f(0) = 2$ ② $f(1) = 3$ ③ $f(2) = -1$

④ $f(-1) = 1$ ⑤ $f(-2) = 5$

4. 두 직선 $y = 2x + 5$, $y = -x + 2$ 의 그래프는 점 A 에서 만난다. 점 A 의 좌표는?

① $(-1, 3)$

② $(3, -1)$

③ $(1, -1)$

④ $(-3, 1)$

⑤ $(1, -3)$

5. $\frac{5}{144} \times A$ 를 소수로 나타내면 유한소수가 될 때, A 의 값 중 가장 작은 자연수는?

- ① 3 ② 6 ③ 9 ④ 18 ⑤ 36

6. 다음 식 $\frac{1}{4}a(2a-3)$ 을 간단히 하면?

① $-\frac{1}{4}a^2 - \frac{3}{4}a$ ② $-\frac{1}{4}a^2 - \frac{1}{4}a$ ③ $\frac{1}{2}a^2 - \frac{3}{4}a$
④ $\frac{1}{2}a^2 + \frac{3}{4}a$ ⑤ $\frac{1}{2}a^2 - \frac{3}{4}$

7. 부등식 $\frac{6x+9}{3} - \frac{2x+6}{2} < a$ 를 만족하는 자연수 x 의 개수가 6개일 때, 자연수 a 의 값은?

- ① 5 ② 6 ③ 7 ④ 8 ⑤ 9

8. 어느 공연의 입장료는 8000 원이고, 60 명 이상의 단체에 대하여는 입장료의 30% 를 할인해 준다고 한다. 몇 명 이상일 때, 60 명의 단체로 입장하는 것이 더 유리한가?

- ① 40 명 ② 41 명 ③ 42 명 ④ 43 명 ⑤ 44 명

9. 자연수 x, y 에 대하여 $2x + y = 5$, $x + y = 4$ 일 때, 연립방정식의 해를 구하면?

① (2, 1)

② (1, 2)

③ (1, 3)

④ (3, 1)

⑤ (2, 2)

10. 연립방정식 $\begin{cases} 2x - y = 6 \\ 15x - 16 + y = 3(x - y) \end{cases}$ 의 해는?

① $x = 1, y = 1$

② $x = 1, y = -1$

③ $x = 2, y = 2$

④ $x = 2, y = -2$

⑤ $x = -2, y = -2$

11. 일차함수 $y = ax + 3$ 의 그래프는 일차함수 $y = -3x + 1$ 과 평행하다고 한다. 이때, 상수 a 의 값은?

- ① -3 ② -2 ③ -1 ④ 1 ⑤ 3

12. x, y 가 자연수일 때, 미지수가 2 개인 일차방정식 $4x+y=20$ 에 대한 설명으로 옳지 않은 것은?

- ① 해는 4 쌍이다.
- ② $(4, 12)$ 는 해이다.
- ③ 그래프는 제 1, 2, 4 사분면 위에 나타내어 진다.
- ④ $y=8$ 일 때, $x=3$ 이다.
- ⑤ 점 $(1, 16)$ 은 그래프 위의 한 점이다.

13. 유리수 $\frac{14}{2 \times 5 \times a}$ 를 소수로 나타내면 유한소수가 될 때, a 의 값이 될 수 없는 것은?

- ① 2 ② 3 ③ 5 ④ 7 ⑤ 14

14. 다음 중 옳지 않은 것은?

① $0.\dot{0}9 = 0.1$

② $0.1\dot{2}\dot{3} = \frac{61}{495}$

③ $\frac{42}{2^2 \times 3 \times 5 \times 7}$ 은 무한소수이다.

④ $11.356356356\cdots = 11.\dot{3}5\dot{6}$

⑤ $0.6\dot{2}9$ 의 순환마디는 29 이다.

15. $a = 5^{x+1}, b = 2^{x-2}$ 일 때, 10^x 을 a, b 를 이용하여 나타내면?

- ① $\frac{2ab}{5}$ ② $\frac{4ab}{5}$ ③ ab ④ $\frac{5ab}{4}$ ⑤ $\frac{5ab}{2}$

16. 다음 부등식을 풀 것으로 틀린 것은?

① $\frac{2}{3}x + \frac{3}{4} > \frac{2}{4}x + \frac{5}{3} \Rightarrow x > \frac{11}{2}$

② $\frac{3}{4}x + \frac{2}{5} < \frac{1}{5}x + \frac{3}{2} \Rightarrow x < 2$

③ $(0.4x + 0.7) > 0.3(x + 5) \Rightarrow x > 8$

④ $-(0.5x + 0.4) > 0.2(x + 3) \Rightarrow x < -\frac{10}{7}$

⑤ $0.7x - \frac{2}{5} < -\frac{x-4}{2} \Rightarrow x > 2$

17. A 지점에서 3000 m 떨어진 B 지점까지 갈 때, 처음에는 1 분에 100 m의 속력으로 뛰어가다가 나중에는 1 분에 50 m의 속력으로 걸어서 40 분 이내에 도착하려고 한다. 뛰어간 거리에 해당되는 것을 모두 고르면?

① 300 m

② 500 m

③ 1000 m

④ 2000 m

⑤ 2500 m

18. 연립방정식 $\begin{cases} ax + 2y = 6 \\ 4x - y = 6 \end{cases}$ 의 해가 없을 때, a 의 값은?

- ① -8 ② -4 ③ 4 ④ 6 ⑤ 8

19. 일차함수 $y = 2x + 1$ 의 그래프를 y 축 방향으로 -5 만큼 평행 이동한 그래프의 기울기를 p , x 절편을 r 이라 할 때, $p+r$ 의 값은?

- ① 1 ② -1 ③ 4 ④ 5 ⑤ 6

20. 두 점 $(-4, 5)$, $(1, 0)$ 을 지나는 직선과 평행하고, y 절편이 -2 인 직선을 그래프로 하는 일차함수의 식을 $y = f(x)$ 라 할 때, $f(1) - f(-1)$ 의 값은?

- ① -3 ② -2 ③ -1 ④ 0 ⑤ 1