

1. $\sqrt{81}$ 의 양의 제곱근을 a , $(-4)^2$ 의 음의 제곱근을 b 라고 할 때, $a - b$ 의 값은?

① -7

② -1

③ 1

④ 7

⑤ 13

2. 다음 수의 제곱근 중 근호가 없는 수로 나타낼 수 있는 것은?

① 2

② 5

③ 10

④ $\sqrt{16}$

⑤ 20

3. $\sqrt{50-x}$ 의 값이 자연수가 되도록 하는 가장 작은 자연수 x 는?

① 1

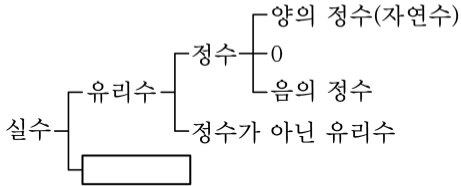
② 3

③ 5

④ 10

⑤ 14

4. 다음 중 안의 수에 해당하지 않는 것은?



① $\sqrt{5} + 1$

② $-\frac{\pi}{2}$

③ $\sqrt{0.9}$

④ $-\sqrt{2.89}$

⑤ $0.1234\dots$

5. 다음 중 대소 관계가 바르지 않은 것은?

① $\sqrt{11} < 2\sqrt{3}$

② $\sqrt{6} + \sqrt{8} > \sqrt{8} + 2$

③ $\sqrt{13} + 1 > 4$

④ $-\sqrt{18} < -4$

⑤ $5\sqrt{6} + \sqrt{7} > \sqrt{7} + 6\sqrt{5}$

6. $A = 5\sqrt{2} - 2$, $B = 3\sqrt{2} + 1$, $C = 4\sqrt{3} - 2$ 일 때, 다음 중 대소 관계가 옳은 것은?

① $A > B > C$

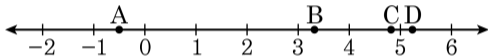
② $A > C > B$

③ $B > A > C$

④ $B > C > A$

⑤ $C > A > B$

7. 다음 수직선 위의 점 A, B, C, D에 대응하는 수는 $4\sqrt{3}-2$, $2\sqrt{5}-5$, $10-3\sqrt{5}$, $\sqrt{27}$ 이다. 점 A에 대응하는 수를 a , 점 B에 대응하는 수를 b 라 할 때, $a+b$ 의 값을 구하면?



① $3\sqrt{3} - 3\sqrt{5} + 10$

② $4\sqrt{3} + 2\sqrt{5} - 7$

③ $3\sqrt{3} + 2\sqrt{5} - 5$

④ $5 - \sqrt{5}$

⑤ $\sqrt{3} - 2$

8. $\sqrt{48} - 2\sqrt{3} - \frac{3}{\sqrt{27}}$ 을 간단히 하면?

① $-\frac{2}{3}\sqrt{3}$

② $-\frac{3}{4}\sqrt{3}$

③ $\frac{3}{4}\sqrt{3}$

④ $\frac{2}{3}\sqrt{3}$

⑤ $\frac{5}{3}\sqrt{3}$

9. $\frac{\sqrt{5} - \sqrt{6}}{\sqrt{2}} - \frac{\sqrt{2} - \sqrt{15}}{\sqrt{5}} = a\sqrt{3} + b\sqrt{10}$ 일 때, 유리수 a, b 에 대하여

$a + b$ 의 값은?

① $-\frac{17}{10}$

② 0

③ $\frac{3}{10}$

④ $\frac{13}{10}$

⑤ $\frac{23}{10}$

10. $\sqrt{3}$ 의 정수 부분을 a , 소수 부분을 b 라 할 때, $2a + b$ 의 값은 얼마인가?

① $\sqrt{3}$

② $1 + \sqrt{3}$

③ $2 + \sqrt{3}$

④ 5

⑤ $2 + 2\sqrt{3}$

11. 다음 그림과 같은 밑변의 길이가 $\frac{\sqrt{3}}{\sqrt{2}}$ cm, 높이가 $2\sqrt{5}$ cm 인 삼각형의 넓이는?

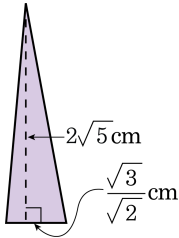
① $\frac{\sqrt{30}}{5}$ cm²

② $\frac{\sqrt{30}}{3}$ cm²

③ $\frac{\sqrt{30}}{2}$ cm²

④ $2\sqrt{30}$ cm²

⑤ $4\sqrt{30}$ cm²



12. $\left(\frac{5}{2}x + \frac{1}{4}y\right)^2 = ax^2 + bxy + cy^2$ 일 때, 상수 a, b 에 대하여 $4(a + b)$

의 값은?

① 25

② 30

③ 35

④ 40

⑤ 45

13. $(x-4)(x+4)(x^2 + \square) = x^4 - 256$ 에서 \square 안에 알맞은 수는?

① -4

② 4

③ 8

④ 12

⑤ 16

14. 다음 중 식을 전개한 것 중 옳은 것은?

① $(x + 3)^2 = x^2 + 9$

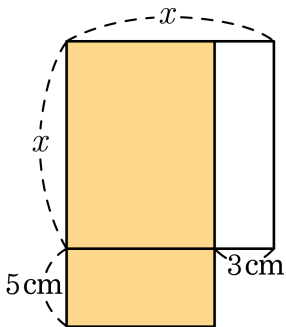
② $\left(x - \frac{1}{2}\right)^2 = x^2 - \frac{1}{2}x + \frac{1}{4}$

③ $(3x + 1)^2 - 2(x + 1)(x - 3) = 7x^2 + 10x + 7$

④ $\left(a + \frac{1}{3}\right)\left(a - \frac{1}{3}\right) = a^2 + \frac{1}{9}$

⑤ $(3x + 5)(2x - 7) = 6x^2 + 31x - 35$

15. 다음 그림과 같은 색칠한 도형의 넓이는?



① $x^2 + 2x + 15$

② $x^2 + 2x - 15$

③ $x^2 - 2x - 15$

④ $x^2 + 3x - 15$

⑤ $x^2 - 3x - 15$