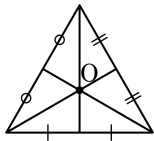
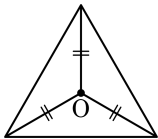


1. 다음 중 점 O가 삼각형의 외심에 해당하는 것을 모두 고르면?

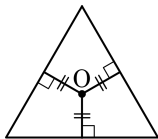
①



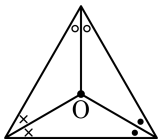
②



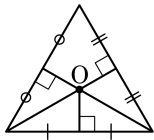
③



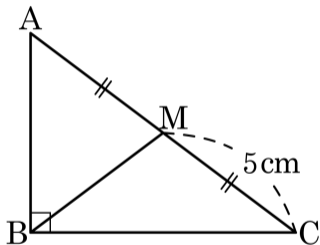
④



⑤

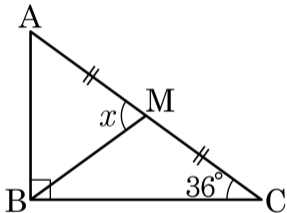


2. 다음 그림과 같은 직각삼각형 ABC 에서 $\overline{CM} = 5\text{cm}$ 이고 점 M이 삼각형의 외심일 때, \overline{BM} 의 길이는?



- ① 1cm ② 2cm ③ 3cm ④ 4cm ⑤ 5cm

3. 다음 그림과 같은 직각삼각형 ABC 에서 빗변 AC 의 중점은 M 이고 $\angle ACB = 36^\circ$ 일 때 $\angle AMB$ 의 크기는?



① 62°

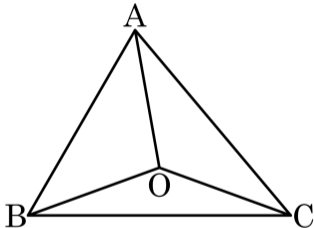
② 64°

③ 68°

④ 70°

⑤ 72°

4. 다음 그림의 $\triangle ABC$ 에서 점 O 는 외심이고 $\angle AOB : \angle COA : \angle BOC = 5 : 6 : 7$ 일 때, $\angle ACB$ 의 크기를 구하면?



① 40°

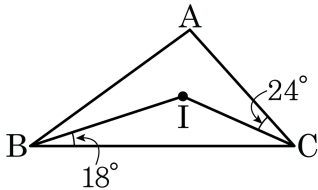
② 50°

③ 60°

④ 70°

⑤ 80°

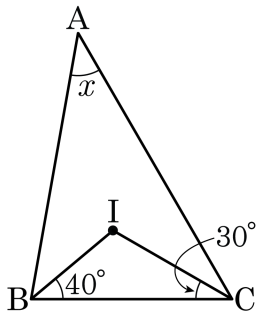
5. 다음 그림에서 점 I는 $\triangle ABC$ 의 내심이다. $\angle A$ 의 크기를 구하여라.



답:

_____°

6. 다음 그림에서 점 I가 삼각형의 내심일 때, $\angle x$ 의 크기는?



① 20°

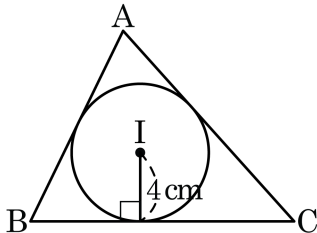
② 30°

③ 40°

④ 50°

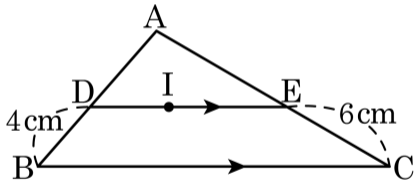
⑤ 60°

7. 다음 그림에서 점 I는 $\triangle ABC$ 의 내심일 때, $\triangle ABC$ 의 넓이가 40cm^2 이다. 이 때, $\overline{AB} + \overline{BC} + \overline{AC}$ 의 값을 구하면?



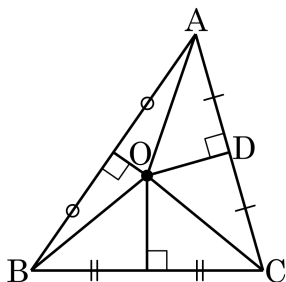
- ① 17cm ② 18cm ③ 19cm ④ 20cm ⑤ 21cm

8. 다음 그림에서 점 I가 $\triangle ABC$ 의 내심이고, $\overline{DE} \parallel \overline{BC}$ 이다. $\overline{DB} = 4(\text{cm})$, $\overline{EC} = 6\text{cm}$ 일 때, \overline{DE} 의 길이를 구하여라.



 답: _____ cm

9. 다음은 「삼각형의 세 변의 수직이등분선은 한 점에서 만난다.」를 증명하는 과정이다. □ 안에 들어갈 알맞은 것은?



위 그림과 같이 $\triangle ABC$ 에서 \overline{AB} , \overline{BC} 의 수직이등분선의 교점을 O 라 하고,

점 O 에서 \overline{AC} 에 내린 수선의 발을 D 라 하자.

점 O 는 \overline{AB} 의 수직이등분선 위에 있으므로 $\overline{OA} = \overline{OB}$ ㉠

또, 점 O 는 \overline{BC} 의 수직이등분선 위에 있으므로 $\overline{OB} = \overline{OC}$ ㉡

㉠, ㉡에서 $\overline{OA} = \square$

$\triangle AOD$ 와 $\triangle COD$ 에서 $\angle ADO = \angle CDO = 90^\circ$

$\overline{OA} = \square$

\overline{OD} 는 공통

$\therefore \triangle AOD = \triangle COD$ (RHS 합동)

따라서, $\overline{AD} = \overline{CD}$ 이므로 \overline{OD} 는 \overline{AC} 의 수직이등분선이 된다.

즉, $\triangle ABC$ 의 세 변의 수직이등분선은 한 점 O 에서 만난다.

① \overline{OC}

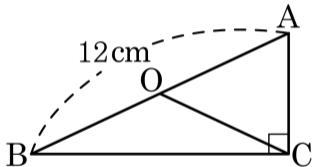
② \overline{OD}

③ \overline{OA}

④ \overline{AD}

⑤ \overline{CD}

10. 다음 그림과 같이 직각삼각형 ABC에서 점 O는 $\triangle ABC$ 의 외심이다.
 $\overline{AB} = 12\text{cm}$ 일 때, \overline{OC} 의 길이를 구하여라.



답:

_____ cm

11. 다음 그림에서 점 O 는 $\triangle ABC$ 의 외심이다.
 $\angle OAB = 25^\circ$, $\angle OBC = 40^\circ$ 일 때, $\angle C$ 의 크
 기는?

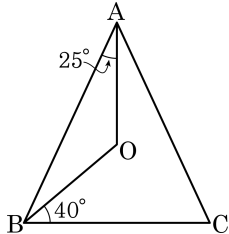
① 45°

② 50°

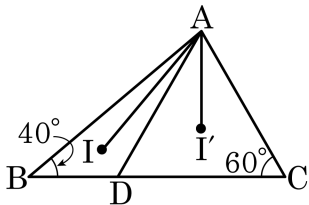
③ 55°

④ 60°

⑤ 65°



12. 다음 그림에서 점 I, I' 는 각각 $\triangle ABD$, $\triangle ADC$ 의 내심이다. $\angle B = 40^\circ$, $\angle C = 60^\circ$ 일 때, $\angle IAI'$ 의 크기는?



① 20°

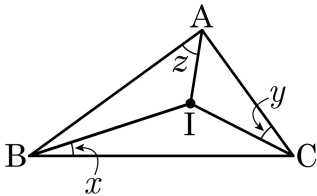
② 30°

③ 40°

④ 50°

⑤ 60°

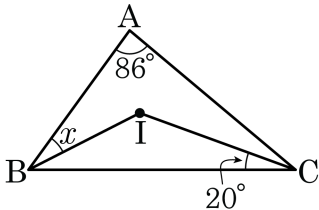
13. 다음 그림의 $\triangle ABC$ 에 대하여 점 I는 내심이고, $x : y : z = 2 : 3 : 5$ 이다. 이때, $\angle y + \angle z$ 값을 구하여라.



답: _____

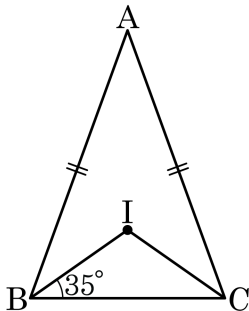
°

14. 다음 그림에서 점 I는 $\triangle ABC$ 의 내심이고, $\angle A = 86^\circ$ 일 때, $\angle ABI =$ () $^\circ$ 이다. () 안에 알맞은 수를 구하여라.



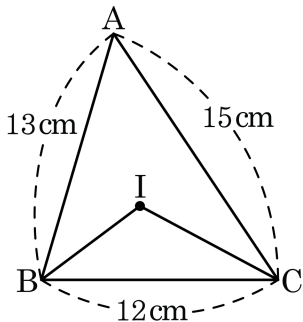
답: _____

15. 다음 그림과 같은 $\triangle ABC$ 에서 점 I는 내심이고, $\angle IBC = 35^\circ$ 일 때, $\angle BIC$ 의 크기는?



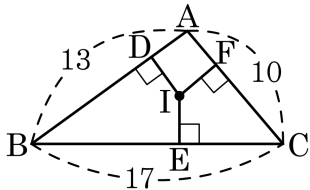
- ① 108° ② 109° ③ 110° ④ 111° ⑤ 112°

16. 다음 $\triangle ABC$ 의 넓이가 80 cm^2 일 때, $\triangle IBC$ 의 넓이를 구하여라. (단, 점 I 는 $\triangle ABC$ 의 내심이다.)



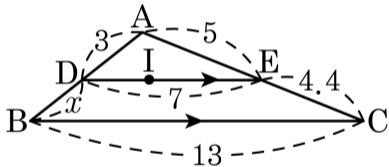
➤ 답: _____ cm^2

17. 다음 그림에서 점 I는 $\triangle ABC$ 의 내심이다. \overline{CE} 의 길이는 얼마인지 구하여라.



답: _____

18. 다음 그림에서 점 I는 $\triangle ABC$ 의 내심이고 $\overline{DE} \parallel \overline{BC}$ 일 때, x 의 값을 구하여라.

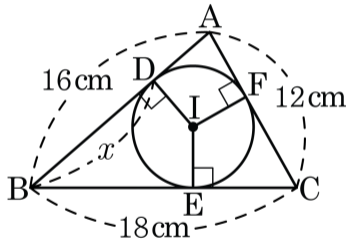


답: _____

19. 다음 중 삼각형의 내심과 외심에 대한 설명으로 옳지 않은 것은?

- ① 내심에서 세 변에 이르는 거리가 같다.
- ② 외심은 항상 삼각형의 외부에 있다.
- ③ 내심은 항상 삼각형의 내부에 있다.
- ④ 이등변삼각형의 외심과 내심은 꼭지각의 이등분선 위에 있다.
- ⑤ 외심에서 세 꼭짓점에 이르는 거리가 같다.

20. 다음 그림에서 점 I는 $\triangle ABC$ 의 내심이다. 이 때, \overline{BD} 의 길이 x 를 구하여라.



답: _____

cm