

1. $(-13) + (-7) + (+13)$ 을 덧셈의 두 가지 계산 법칙을 사용하여 다음과 같이 풀었을 때,
계산 과정에서 사용한 계산 법칙을 순서대로 나열하여라.

$$\begin{aligned} & (-13) + (-7) + (+13) \\ &= (-7) + (-13) + (+13) \\ &= (-7) + \{(-13) + (+13)\} \\ &= (-7) + 0 \\ &= -7 \end{aligned}$$

▶ 답 :

▶ 답 :

▷ 정답 : 덧셈의 교환법칙

▷ 정답 : 덧셈의 결합법칙

해설

$$\begin{aligned} & (-13) + (-7) + (+13) = (-7) + (-13) + (+13) : \text{교환법칙} \\ &= (-7) + \{(-13) + (+13)\} : \text{결합법칙} \\ &= -7 \end{aligned}$$

2. 다음 계산 과정 중 덧셈에 대한 교환법칙이 사용된 곳을 구하여라.

$$\begin{aligned} & (-1) + \{(+3) + (-8)\} && \text{㉠} \\ & = (-1) + \{(-8) + (+3)\} && \text{㉡} \\ & = \{(-1) + (-8)\} + (+3) && \text{㉢} \\ & = -(1+8) + (+3) && \text{㉣} \\ & = (-9) + (+3) && \text{㉤} \\ & = -6 && \text{㉥} \end{aligned}$$

▶ 답:

▷ 정답: ㉠

해설

두 정수 a, b 에 대하여 덧셈의 교환법칙은 $a + b = b + a$ 이므로 ㉠이다.

3. 다음 수를 구한 것은?

-15보다 10 작은 수

① -15

② -20

③ -25

④ -30

⑤ -35

해설

$$-15 - 10 = (-15) - (+10) = (-15) + (-10) = -25$$

4. 다음 중 잘못 계산한 것은?

① $(+4) \times (+5) = 20$

② $(-3) \times (-3) = 9$

③ $(-2) \times 1 \times (-1) = 2$

④ $(-2) \times (-5) \times 1 = -10$

⑤ $(-1) \times (-2) \times (-3) = -6$

해설

④ $(-2) \times (-5) \times 1 = +10$

5. 다음 중 계산 결과가 다른 것은? (단, n 은 짝수이다.)

① $(-1)^{n+1}$

② $-(-1)^n$

③ -1^n

④ $-(-1)^{n+2}$

⑤ $(-1)^n$

해설

① $(-1)^{n+1} = -1$

② $-(-1)^n = -1$

③ $-1^n = -1$

④ $-(-1)^{n+2} = -1$

⑤ $(-1)^n = 1$

6. 다음 중 옳지 않은 것은?

① $(-1)^3 \times (-1)^2 = -1$

② $(-1^2) \times (+1)^2 = -1$

③ $(+2^2) \times (-1^2) = -2$

④ $(+2)^2 \times (+2)^3 = 32$

⑤ $(-3)^2 \times (+1)^2 = 9$

해설

③ $(+2^2) \times (-1^2) = 4 \times (-1) = -4$

7. 다음 중 두 수가 서로 역수관계인 것은?

① $3, -\frac{1}{3}$

② $-7, -\frac{7}{1}$

③ $0.5, 2$

④ $4, -\frac{4}{1}$

⑤ $-5, \frac{1}{5}$

해설

③ $0.5 \times 2 = 1$

8. $-\frac{9}{10}$ 의 역수는 a , $+3.5$ 의 역수를 b 라고 할 때, $a \div b$ 의 값을 구하여라.

▶ 답 :

▷ 정답 : $-\frac{35}{9}$

해설

$$-\frac{9}{10} \text{ 의 역수 } a = -\frac{10}{9}$$

$$+3.5 \text{ 의 역수 } b = \frac{10}{35} = \frac{2}{7}$$

$$a \div b = a \times \frac{1}{b} = -\frac{10}{9} \times \frac{7}{2} = -\frac{35}{9}$$

9. 다음 중 계산 결과가 다른 하나는?

① $(-2) \div \left(-\frac{3}{4}\right) \times (-3)$

② $(+12) \div (-4) \times \frac{8}{3}$

③ $\left(-\frac{9}{2}\right) \times \frac{20}{3} \div 5$

④ $(-4) \div \frac{1}{6} \times \frac{1}{3}$

⑤ $(-14) \div \left(-\frac{7}{8}\right) \times \left(-\frac{1}{2}\right)$

해설

① $(+6) \div \left(-\frac{3}{4}\right) = (+6) \times \left(-\frac{4}{3}\right) = -8$

② $(+12) \div (-4) \times \frac{8}{3} = (-3) \times \frac{8}{3} = -8$

③ $\left(-\frac{9}{2}\right) \times \frac{20}{3} \div 5 = (-30) \div 5 = -6$

④ $(-4) \div \frac{1}{6} \times \frac{1}{3} = (-4) \times 6 \times \frac{1}{3} = -8$

⑤ $(+7) \div \left(-\frac{7}{8}\right) = (+7) \times \left(-\frac{8}{7}\right) = -8$

10. 다음 중 계산 결과가 옳은 것은?

① $(-2) - (-5) = -2$

② $(-11) - (-9) = -1$

③ $(+7) - (-5) = +11$

④ $(+4) - (-3) = +7$

⑤ $(+3) - (-7) = +7$

해설

④ $(+4) + (+3) = +7$

11. $(+7.6) + (-5) - \left(-\frac{1}{2}\right) - (+2.6)$ 을 계산하면?

① -3.6

② -1

③ 0.5

④ 2

⑤ 8

해설

$$\begin{aligned}(\text{준식}) &= (+7.6) - (+2.6) - \left(-\frac{1}{2}\right) + (-5) \\ &= \{(+7.6) - (+2.6) + (+0.5)\} + (-5) \\ &= (+5.5) + (-5) \\ &= 0.5\end{aligned}$$

12. 다음 중 옳은 것은?

① -1 보다 4 만큼 큰 수 $\Rightarrow -1 + (-4)$

② 2 보다 -4 만큼 작은 수 $\Rightarrow 2 + (-4)$

③ 2 보다 -6 만큼 큰 수 $\Rightarrow 2 + 6$

④ 0 보다 1 만큼 작은 수 $\Rightarrow 0 - 1$

⑤ -1 보다 -3 만큼 큰 수 $\Rightarrow -1 - (-3)$

해설

① -1 보다 4 만큼 큰 수 $\Rightarrow -1 + 4$

② 2 보다 -4 만큼 작은 수 $\Rightarrow 2 - (-4)$

③ 2 보다 -6 만큼 큰 수 $\Rightarrow 2 + (-6)$

⑤ -1 보다 -3 만큼 큰 수 $\Rightarrow -1 + (-3)$

13. 두 수 a , b 가 다음을 만족할 때, $a + b$ 의 값을 구하여라.

$$a - \left(-\frac{15}{2}\right) = 5.4$$

$$b + (-16.2) = -8$$

▶ 답 :

▷ 정답 : 6.1

해설

$$a - \left(-\frac{15}{2}\right) = 5.4 \text{ 에서}$$

$$\begin{aligned} a &= 5.4 + \left(-\frac{15}{2}\right) \\ &= 5.4 + (-7.5) \\ &= -2.1 \end{aligned}$$

$$b + (-16.2) = -8 \text{ 에서}$$

$$b = (-8) - (-16.2) = (-8) + (+16.2) = 8.2$$

$$\therefore a + b = (-2.1) + 8.2 = 6.1$$

14. 다음 곱셈에서 ㉠, ㉡, ㉢ 에 쓰인 계산 법칙을 순서대로 적어라.

$$\begin{aligned}
 & \left(-\frac{10}{7}\right) \times (-5) \times \left(+\frac{21}{20}\right) \times \left(-\frac{1}{3}\right) \quad \left. \begin{array}{l} \text{㉠} \\ \text{㉡} \end{array} \right\} \\
 & = (-5) \times \left(-\frac{10}{7}\right) \times \left(+\frac{21}{20}\right) \times \left(-\frac{1}{3}\right) \\
 & = (-5) \times \left\{ \left(-\frac{10}{7}\right) \times \left(+\frac{21}{20}\right) \right\} \times \left(-\frac{1}{3}\right) \\
 & = (-5) \times \left(-\frac{3}{2}\right) \times \left(-\frac{1}{3}\right) \quad \left. \begin{array}{l} \text{㉢} \\ \text{㉡} \end{array} \right\} \\
 & = (-5) \times \left\{ \left(-\frac{3}{2}\right) \times \left(-\frac{1}{3}\right) \right\} \\
 & = (-5) \times \left(+\frac{1}{2}\right) = -\frac{5}{2}
 \end{aligned}$$

▶ 답 :

▶ 답 :

▶ 답 :

▷ 정답 : 교환법칙

▷ 정답 : 결합법칙

▷ 정답 : 결합법칙

해설

㉠ 교환법칙을 이용하여 $\left(-\frac{5}{7}\right)$ 과 $(+3)$ 이 자리를 바꾼다.

㉡ 결합법칙을 이용하여 $(+3) \times \left(-\frac{5}{7}\right)$ 보다 $\left(-\frac{5}{7}\right) \times \left(+\frac{14}{15}\right)$ 을 먼저 계산한다.

㉢ 결합법칙을 이용하여 $(-5) \times \left(-\frac{3}{2}\right)$ 보다 $\left(-\frac{3}{2}\right) \times \left(-\frac{1}{3}\right)$ 을 먼저 계산한다.

15. 다음 보기 중에서 세 수를 뽑아 곱한 수 중 가장 큰 수를 A , 가장 작은 수를 B 라고 할 때, $A \div B$ 의 값을 구하시오.

$$-\frac{3}{2}, \quad 2, \quad -3, \quad -\frac{2}{3}$$

▶ 답 :

▷ 정답 : -3

해설

$$A = \left(-\frac{3}{2}\right) \times 2 \times (-3) = 9$$

$$B = (-3) \times \left(-\frac{3}{2}\right) \times \left(-\frac{2}{3}\right) = -3$$

$$\therefore A \div B = -3$$

16. 다음 식에서 계산 순서 중 맨 마지막에 해야 될 것은?

$$2 + \frac{3}{5} \times \{(18 - 15 \div 5) \times 2\}$$

↓ ↓ ↓ ↓ ↓
ㄱ ㄴ ㄷ ㄹ ㅁ

① ㄱ

② ㄴ

③ ㄷ

④ ㄹ

⑤ ㅁ

해설

곱셈과 나눗셈을 덧셈과 나눗셈보다 먼저 하며, ()를 먼저하고 { }를 계산한다.

17. 두 유리수 a, b 가 $a \times b > 0, b \times c < 0$ 일 때, 다음 중 항상 양수인 것은?

- ① $b - a$ ② $a - b$ ③ $-\frac{c}{b}$ ④ $a - c$ ⑤ $a \times c$

해설

a, b 는 부호가 같고, b, c 는 부호가 다르므로

$$\textcircled{3} \quad -\frac{c}{b} > 0$$

18. 세 수 a, b, c 에 대해 항상 성립한다고 볼 수 없는 것은?

① $a + b = b + a$

② $a - b = b - a$

③ $a \times b = b \times a$

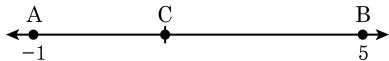
④ $(a + b) + c = a + (b + c)$

⑤ $a \times (b + c) = a \times b + a \times c$

해설

② $a - b \neq b - a$

19. 다음 수직선 위에서 선분 AB 를
2 : 3 으로 나누는 점 C 의 좌표
를 구하면?



① $-\frac{12}{5}$

② $-\frac{9}{5}$

③ $\frac{6}{5}$

④ $\frac{7}{5}$

⑤ $\frac{12}{5}$

해설

A 와 B 사이의 거리 : 6

$$\text{A 와 C 사이의 거리 : } 6 \times \frac{2}{5} = \frac{12}{5}$$

$$\text{C 의 좌표 : } (-1) + \frac{12}{5} = \frac{7}{5}$$

20. 두 수 a, b 에 대하여 $a \diamond b = a - b$, $a \circ b = a \div b$ 로 정의할 때,
 $\frac{1}{8} \circ \left(\frac{1}{2} \diamond \frac{1}{16} \right)$ 을 계산하여라.

▶ 답 :

▷ 정답 : $\frac{2}{7}$

해설

$$\frac{1}{2} \diamond \frac{1}{16} = \frac{1}{2} - \frac{1}{16} = \frac{7}{16}$$

$$\frac{1}{8} \circ \frac{7}{16} = \frac{1}{8} \div \frac{7}{16} = \frac{2}{7}$$

21. a 의 절댓값이 3이고, b 의 절댓값이 5일 때, $a+b$ 의 값이 될 수 있는 수 중 가장 큰 수를 구하여라.

▶ 답:

▷ 정답: +8

해설

$$a = 3, a = -3, b = 5, b = -5$$

$$a + b = 3 + 5 = 8$$

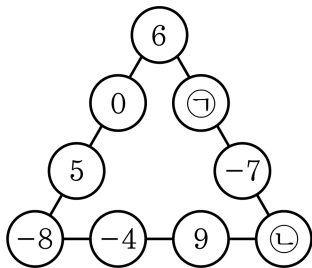
$$a + b = -3 + 5 = 2$$

$$a + b = 3 + (-5) = -2$$

$$a + b = (-3) + (-5) = -8$$

따라서 가장 큰 수는 +8이다.

22. 다음 그림에서 세 변에 놓인 네 수의 합이 모두 같도록 하는 $\textcircled{\ominus}$, $\textcircled{\textcircled{L}}$ 으로 알맞게 짝지워진 것은?



- ① $\textcircled{\ominus} : -2, \textcircled{\textcircled{L}} : 6$ ② $\textcircled{\ominus} : 2, \textcircled{\textcircled{L}} : 6$ ③ $\textcircled{\ominus} : -2, \textcircled{\textcircled{L}} : 0$
 ④ $\textcircled{\ominus} : -5, \textcircled{\ominus} : 3$ ⑤ $\textcircled{\ominus} : 5, \textcircled{\ominus} : 3$

해설

$$6 + 0 + 5 + (-8) = 3 \text{ 이므로}$$

$$-8 - 4 + 9 + \textcircled{\textcircled{L}} = 3, \textcircled{\textcircled{L}} = 6,$$

$$6 + \textcircled{\ominus} + (-7) + 6 = 3, \textcircled{\ominus} = -2$$

23. 두 정수 $|a| = 4$, $|b| = 7$ 일 때, $a - b$ 가 될 수 있는 값 중 가장 큰 것은?

① 3

② 5

③ 7

④ 9

⑤ 11

해설

$a = 4, -4, b = 7, -7$ 이므로

$a - b$ 가 가질 수 있는 가장 큰 값은 a 가 양수, b 가 음수일 때,
즉 $a = 4, b = -7$ 일 때의 값을 구하면 된다.

$$\therefore a - b = 4 - (-7) = 11$$

해설

$a = 4, -4, b = 7, -7$ 이므로 $a - b$ 를 모두 구해 보면

$$4 - 7 = -3, 4 - (-7) = 11, -4 - 7 = -11, -4 - (-7) = 3$$

이 중에서 가장 큰 값은 11 이다.

24. -4 보다 -2 만큼 큰 수를 a , $\frac{1}{3}$ 보다 3 만큼 작은 수를 b 라 할 때, $a + b$ 의 값을 구하여라.

▶ 답:

▷ 정답: $-\frac{26}{3}$

해설

$$a = (-4) + (-2) = -6$$

$$b = \left(+\frac{1}{3}\right) - (+3)$$

$$= \left(+\frac{1}{3}\right) + (-3)$$

$$= \left(+\frac{1}{3}\right) + \left(-\frac{9}{3}\right)$$

$$= -\frac{8}{3}$$

$$a + b = (-6) + \left(-\frac{8}{3}\right) = -\frac{26}{3}$$

25. 세 수 a, b, c 에 대하여 $a \times b = 5$, $a \times (b + c) = 3$ 일 때, $a \times c$ 의 값은?

- ① 2 ② $-\frac{5}{3}$ ③ $-\frac{3}{5}$ ④ -2 ⑤ -8

해설

$$a \times (b + c) = a \times b + a \times c = 3,$$

$$5 + a \times c = 3$$

$$\therefore a \times c = -2$$

26. $\frac{b}{a}$ 라는 식에서, a 값이 될 수 있는 수는 10보다 작은 소수이며, b 값이 될 수 있는 수는 $-\frac{1}{3}, \frac{1}{2}, \frac{4}{3}, \frac{7}{3}$ 이다. 위 식의 값 중 가장 작은 수를 구하여라.

▶ 답:

▶ 정답: $-\frac{1}{6}$

해설

$a \Rightarrow$ 10보다 작은 소수 = 2, 3, 5, 7

b 의 값이 될 수 있는 수 중 음수가 $-\frac{1}{3}$ 뿐이고, a 의 값이 될 수 있는 수 중 가장 작은 수가 2 이므로,

따라서 $\frac{b}{a}$ 식의 값 중 가장 작은 수는 $-\frac{1}{3} \div 2 = -\frac{1}{6}$ 이다.

27. 어떤 정수에 -6 을 곱해야 할 것을 잘못하여 -6 을 빼었더니 0 이 되었다. 바르게 계산한 것은?

① -36

② 36

③ -12

④ 12

⑤ 0

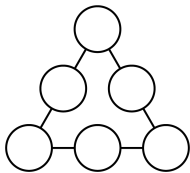
해설

어떤 정수를 \square 라 하자.

$$\square - (-6) = \square + (+6) = 0 \quad \therefore \square = -6$$

바르게 계산하면 $(-6) \times (-6) = 36$ 이다.

28. 다음 그림과 같은 삼각형 모양이 있다. ○ 안에 -2 부터 3 까지의 숫자를 한 번씩 넣는데, 삼각형의 한 변에 해당하는 세 수의 합이 모두 같게 하려고 한다. 삼각형의 한 변의 합이 가장 클 때와 가장 작을 때의 합을 구하여라.



▶ 답:

▷ 정답: 3

해설

한 변의 합이 가장 작은 경우는 꼭짓점에 있는 세수가 가장 작을 때이므로 꼭짓점이 -2 , -1 , 0 을 차례로 넣고 빈칸을 차례로 채우면 한 변의 합이 0 이 된다. 또, 한 변의 합이 가장 큰 경우는 꼭짓점에 있는 세 수가 가장 클 때이므로 꼭짓점에 1 , 2 , 3 을 차례로 넣고 빈칸을 채우면 한 변의 합이 3 이 된다.

29. a, b, c, d 는 서로 다른 정수이다. 다음 보기의 내용을 보고 a, b, c, d 를 큰 것부터 나열한 것으로 옳은 것은?

보기

- ㉠ a, b, c, d 중 가장 큰 수는 b 이다.
- ㉡ c 는 수직선에서 원점의 오른쪽에 있다.
- ㉢ b 와 d 가 나타내는 점은 수직선에서 원점으로 부터의 거리가 서로 같다.
- ㉣ a 는 d 보다 작다.

① b, d, a, c

② b, d, c, a

③ b, c, d, a

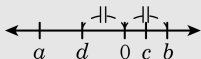
④ b, a, c, d

⑤ b, a, d, c

해설

㉠, ㉡에서 b 는 네 수 중에서 가장 큰 수이고 c 는 원점의 오른쪽에 있으므로 $0 < c < b$ 이고,

㉢, ㉣에서 b 와 d 의 절댓값이 같고 a 는 d 보다 작으므로 $a < d < 0$ 이다.



$\therefore a < d < c < b$

30. $\langle x \rangle$ 는 -3 보다 크고 $x+3$ 보다 크지 않은 정수의 개수를 나타낸다고 할 때, 다음을 구하여라.

$$\langle 7 \rangle - \langle -1 \rangle + \langle 2 \rangle$$

▶ 답:

▷ 정답: 16

해설

$\langle 7 \rangle$ 은 -3 보다 크고 10 보다 크지 않은 정수의 개수이므로 $-2, -1, 0, \dots, 10$ 의 13 개이다.

$\langle -1 \rangle$ 은 -3 보다 크고 2 보다 크지 않은 정수의 개수이므로 $-2, -1, 0, 1, 2$ 의 5 개이다.

$\langle 2 \rangle$ 는 -3 보다 크고 5 보다 크지 않은 정수의 개수이므로 $-2, -1, 0, \dots, 5$ 의 8 개이다.

$$\therefore \langle 7 \rangle - \langle -1 \rangle + \langle 2 \rangle = 13 - 5 + 8 = 16$$