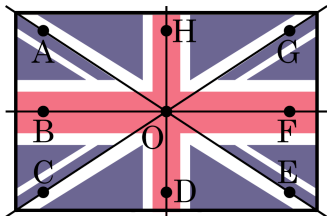


1. 다음 그림에서 영국 국기는 직사각형을 4 개의 직선으로 나누는 모양이다. 4 개의 직선이 한 점에서 만날 때 생기는 맞꼭지각은 모두 몇 쌍인가?



- ① 6 쌍 ② 8 쌍 ③ 10 쌍 ④ 12 쌍 ⑤ 14 쌍

해설

$\angle AOB$ 와 $\angle EOF$, $\angle BOC$ 와 $\angle FOG$, $\angle COD$ 와 $\angle GOH$, $\angle DOE$ 와 $\angle AOH$,
 $\angle AOC$ 와 $\angle EOG$, $\angle BOD$ 와 $\angle FOH$, $\angle COE$ 와 $\angle AOG$, $\angle DOF$ 와 $\angle BOH$,
 $\angle AOD$ 와 $\angle EOH$, $\angle BOE$ 와 $\angle AOF$, $\angle COF$ 와 $\angle BOG$, $\angle DOG$ 와 $\angle COH$ 의 12 쌍이다.

2. 다음 보기 중 옳지 않은 것을 모두 골라라.

보기

- ㉠ 한 점을 지나는 직선은 무수히 많이 그을 수 있다.
- ㉡ 서로 다른 두 점을 지나는 직선은 하나 뿐이다.
- ㉢ 한 평면 위에는 무수히 많은 직선이 있다.
- ㉣ 직선의 길이는 반직선의 길이의 2배이다.
- ㉤ 직선 위에 점이 하나 뿐이다.

▶ 답 :

▶ 답 :

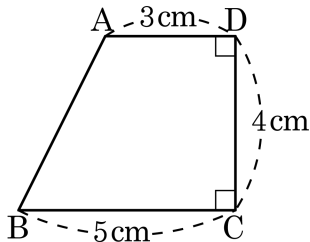
▷ 정답 : ㉢

▷ 정답 : ㉣

해설

- ㉢ 직선의 길이는 반직선의 길이의 2배가 아니다.
- ㉣ 직선위에 점이 무수히 많다.

3. 다음 그림의 사다리꼴 ABCD 에서 다음 중 옳지 않은 것은?

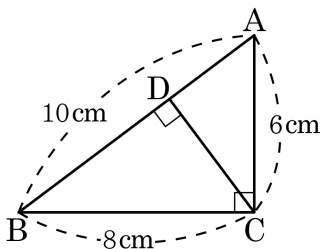


- ① 점 A 와 \overline{BC} 사이의 거리는 4cm 이다.
- ② 점 B 와 \overline{CD} 사이의 거리는 5cm 이다.
- ③ 점 B 에서 \overline{CD} 에 내린 수선의 발은 점 C 이다.
- ④ \overline{CD} 의 수선은 \overline{AB} 이다.
- ⑤ \overline{BC} 는 \overline{CD} 와 직교한다.

해설

\overline{CD} 의 수선은 \overline{AD} , \overline{BC} 이다.

4. 다음 그림과 같이 세 변의 길이가 각각 6cm, 8cm, 10cm 이고 $\overline{AB} \perp \overline{CD}$, $\overline{AC} \perp \overline{BC}$ 일 때, 점 C와 \overline{AB} 사이의 거리를 구하여라.



▶ 답 : cm

▷ 정답 : 4.8cm

해설

$$\begin{aligned} \triangle ABC \text{의 넓이} &= \frac{1}{2} \times \overline{BC} \times \overline{AC} \\ &= \frac{1}{2} \times \overline{AB} \times \overline{CD} \end{aligned}$$

$$\therefore \frac{1}{2} \times 8 \times 6 = \frac{1}{2} \times 10 \times \overline{CD}$$

$$\overline{CD} = \frac{48}{10} = 4.8(\text{cm})$$

점 C와 \overline{AB} 사이의 거리는 \overline{CD} 와 같으므로 $\overline{CD} = 4.8(\text{cm})$ 이다.

5. $\overline{AB} = 12\text{cm}$, \overline{AB} 위에 $\overline{AP} = 2\overline{PB}$ 인 점 P 를 잡고, \overline{AB} 의 연장선 위에 $\overline{AQ} = 2\overline{BQ}$ 인 점 Q 를 잡았다. \overline{AB} 의 중점을 M, \overline{PQ} 의 중점을 N 이라 할 때, \overline{MN} 의 길이는?

① 6cm

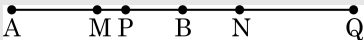
② 7cm

③ 8cm

④ 9cm

⑤ 10cm

해설

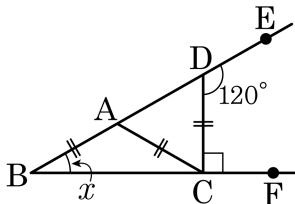


$$\overline{PB} = 4, \overline{MB} = 6$$

$$\overline{PN} = 8$$

$$\therefore \overline{MN} = \overline{MB} + \overline{BN} = 6 + (8 - 4) = 10(\text{cm})$$

6. 다음 그림에서 $\angle CDE = 120^\circ$ 이고 $\angle BCD = 90^\circ$ 일 때, $\angle x$ 의 크기를 구하여라.



▶ 답: $\underline{\hspace{1cm}}^\circ$

▶ 정답: 30°

해설

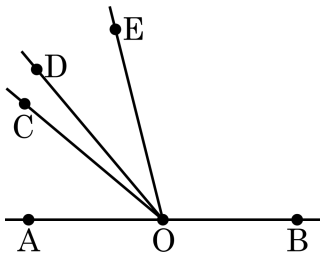
$\angle CAD = \angle ADC = 60^\circ$, $\angle BAC = 120^\circ$,

삼각형의 세 내각의 합은 180° 이므로

$$2x + 120^\circ = 180^\circ$$

$$\therefore \angle x = 30^\circ$$

7. 다음 그림에서 $\angle AOC = 4\angle COD$, $\angle DOB = 5\angle DOE$ 일 때, $\angle COE$ 의 크기를 구하여라.



▶ 답 : $\quad \quad \quad \circ$

▷ 정답 : $36\circ$

해설

$\angle AOC = 4\angle COD$ 이므로 $\angle AOD = 5\angle COD$ 이다.

$$\begin{aligned} \angle AOD + \angle DOB &= 5\angle COD + 5\angle DOE \\ &= 5(\angle COD + \angle DOE) \\ &= 5\angle COE = 180^\circ \end{aligned}$$

$$\therefore \angle COE = 180^\circ \div 5 = 36^\circ$$

8. 다음 그림에서 $\angle x + \angle y$ 의 크기는?

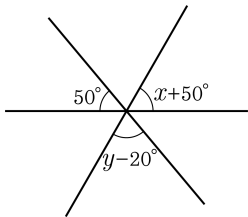
① 60°

② 80°

③ 100°

④ 150°





⑤ 120°



해설

$50^\circ + \angle y - 20^\circ + \angle x + 50^\circ = 180^\circ$ 이므로 $\angle x + \angle y = 100^\circ$ 이다.

9. 다음은 서로 다른 몇 개의 직선을 그어서 만들 수 있는 교점의 최대 개수이다. 그렇다면 직선 10 개를 이용하여 만들 수 있는 교점의 최대 개수는 몇 개인가?

직선의 수	1	2	3	4	...	10
그림					...	?
최대 교점의 개수	0	1	3	6	...	?

- ① 40 개 ② 45 개 ③ 50 개 ④ 55 개 ⑤ 60 개

해설

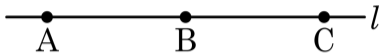
한 개의 직선은 교점이 없으므로 0 개, 두 개의 직선으로 만들 수 있는 교점의 개수는 1 개이다.

3 개의 직선으로 그릴 수 있는 교점의 최대의 개수는 이미 그려진 교점 하나와 두 직선이 만나서 생기는 교점 2 개를 더하면 $(1+2)$ 개이다.

4 개의 직선으로 그릴 수 있는 교점의 최대의 개수는 이미 그려진 3 개와 세 직선이 만나서 생기는 교점 3 개를 더하면 $(1+2+3)$ 개이다.

따라서 이런 방법으로 10 개의 직선으로 그릴 수 있는 최대교점의 개수는 $1+2+3+4+\dots+9=45(\text{개})$ 이다.

10. 다음 그림과 같이 직선 l 위에 있는 세 점 A, B, C 중에서 두 점을 골라 만들 수 있는 직선, 반직선, 선분의 개수를 각각 a, b, c 라 할 때, $a - b + c$ 의 값을 구하여라.



▶ 답:

▷ 정답: 0

해설

직선은 l 의 1개 이므로 $a = 1$, 반직선은 $\overrightarrow{AB}, \overrightarrow{BC}, \overrightarrow{BA}, \overrightarrow{CB}$ 의 4개
이므로 $b = 4$, 선분은 $\overline{AB}, \overline{AC}, \overline{BC}$ 의 3개 이므로 $c = 3$

$$\therefore a - b + c = 1 - 4 + 3 = 0$$