

1. 분수의 합이 1 보다 큰 것을 찾으시오.

보기

(가) $\frac{1}{4} + \frac{3}{4}$

(나) $\frac{10}{12} + \frac{7}{12}$

(다) $\frac{3}{5} + \frac{1}{5}$

① (가)

② (나)

③ (다)

④ (가), (나)

⑤ (나), (다)

2. 안에 기호를 알맞게 넣은 것은 어느 것인지 고르시오.

$$\frac{8}{7} \square \frac{3}{7} \square \frac{4}{7} = \frac{9}{7}$$

① -, +

② -, -

③ +, +

④ +, -

⑤ -, ×

3. 분수의 뺄셈을 계산하시오.

$$3 - \frac{2}{9}$$

① $1\frac{2}{9}$

② $2\frac{2}{9}$

③ $2\frac{7}{9}$

④ $3\frac{4}{9}$

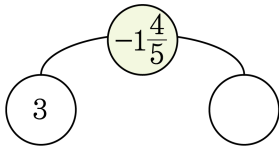
⑤ $3\frac{7}{9}$

4. 어떤 수에 $3\frac{1}{13}$ 를 더해야 할 것을 잘못하여 빼었더니 $5\frac{2}{13}$ 이 되었습니다. 이 때 어떤수를 구하시오.



답: _____

5. 빈 칸에 알맞은 분수를 구하시오.



① $2\frac{1}{5}$

② $1\frac{3}{5}$

③ $1\frac{1}{5}$

④ $\frac{3}{5}$

⑤ $\frac{1}{5}$

6. 다음을 계산 결과가 큰 순서대로 나열한 것은 무엇입니까?

$$\textcircled{\text{㉠}} 5 - 1\frac{7}{13}$$

$$\textcircled{\text{㉡}} 7 - 3\frac{1}{13}$$

$$\textcircled{\text{㉢}} 10 - 5\frac{11}{13}$$

$$\textcircled{1} \textcircled{\text{㉠}}, \textcircled{\text{㉡}}, \textcircled{\text{㉢}}$$

$$\textcircled{2} \textcircled{\text{㉠}}, \textcircled{\text{㉢}}, \textcircled{\text{㉡}}$$

$$\textcircled{3} \textcircled{\text{㉡}}, \textcircled{\text{㉠}}, \textcircled{\text{㉢}}$$

$$\textcircled{4} \textcircled{\text{㉢}}, \textcircled{\text{㉠}}, \textcircled{\text{㉡}}$$

$$\textcircled{5} \textcircled{\text{㉢}}, \textcircled{\text{㉡}}, \textcircled{\text{㉠}}$$

7. 유란이는 1시간 동안 걸어서 $2\frac{4}{5}$ km를 갔고, 현수는 1시간 동안 걸어서 $3\frac{1}{5}$ km를 갔습니다. 한 시간 동안 누가 얼마나 더 갔는지 구하시오.

① 현수, $1\frac{2}{5}$ km

② 유란, $1\frac{2}{5}$ km

③ 현수, $\frac{2}{5}$ km

④ 유란, $\frac{2}{5}$ km

⑤ 같다.

8. 빈 식용유통의 무게는 $\frac{7}{9}$ kg 이고 식용유를 넣은 통의 무게는 $5\frac{3}{9}$ kg
입니다. 식용유만의 무게는 몇 kg 인지 구하시오.

① $3\frac{5}{9}$ kg

② $3\frac{8}{9}$ kg

③ $4\frac{2}{9}$ kg

④ $4\frac{3}{9}$ kg

⑤ $4\frac{5}{9}$ kg

9. 길이가 $3\frac{10}{12}$ m와 $4\frac{8}{12}$ m인 두 끈을 묶어서 길이를 재었더니 $5\frac{7}{12}$ m였습니다. 묶은 후의 길이는 묶기 전의 두 길이의 합보다 얼마나 줄었는지 구하시오.

① $1\frac{2}{12}$ m

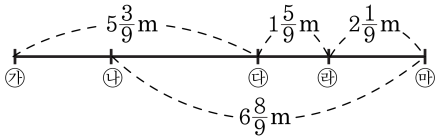
② $1\frac{7}{12}$ m

③ $2\frac{1}{12}$ m

④ $2\frac{7}{12}$ m

⑤ $2\frac{11}{12}$ m

10. ㉠에서 ㉡까지의 거리를 구
하십시오.



① $2\frac{2}{9}\text{ (m)}$

② $\frac{1}{9}\text{ (m)}$

③ $4\frac{7}{9}\text{ (m)}$

④ $2\frac{1}{9}\text{ (m)}$

⑤ $3\frac{5}{9}\text{ (m)}$

11. 영진의 몸무게는 가희의 몸무게보다 $4\frac{9}{22}$ kg 더 무겁고, 지영이의 몸무게는 영진의 몸무게보다 $3\frac{8}{22}$ kg 가볍습니다. 가희의 몸무게가 $30\frac{11}{22}$ kg이면, 지영이의 몸무게는 몇 kg인지 구하시오.

① $29\frac{2}{22}$ kg

② $34\frac{20}{22}$ kg

③ $37\frac{8}{22}$ kg

④ $31\frac{12}{22}$ kg

⑤ $24\frac{12}{22}$ kg

12. 유진이가 공부하고 있는데 정전이 되어서 초에 불을 붙였습니다. 3분 후 초를 보았더니 처음 길이의 $\frac{9}{10}$ 가 남았습니다. 그로부터 9분 후에 전등이 켜졌다면 초는 전체 길이의 얼마가 남아 있는지 구하시오.



답: _____

13. 분모가 9 인 분수 중에서 $2\frac{6}{9}$ 보다 크고 3 보다 작은 대분수를 모두 합하면 얼마인지 구하시오.

① $5\frac{6}{9}$

② $5\frac{8}{9}$

③ $7\frac{1}{9}$

④ $7\frac{3}{9}$

⑤ $7\frac{7}{9}$

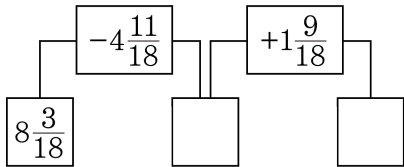
14. 두 수의 크기를 비교하여 ○ 안에 >, < 또는 =를 써 넣으시오.

$$8\frac{5}{9} - 1\frac{4}{9} \bigcirc 2\frac{6}{9} + 5\frac{4}{9}$$



답: _____

15. 빈 칸에 알맞은 수를 차례대로 쓴 것은 어느 것입니까?



① $4\frac{10}{18}$, 7

② $4\frac{10}{18}$, 6

③ $4\frac{8}{18}$, $6\frac{16}{18}$

④ $3\frac{10}{18}$, $5\frac{1}{18}$

⑤ $3\frac{8}{18}$, $5\frac{17}{18}$

16. 1, 4, 5, 7, 7, 8 를 모두 한 번씩 사용하여 분모가 같은 두 대분수를 만들었습니다. 대분수의 차가 가장 큰 경우 그 차이가 $\boxed{(1)}\frac{\boxed{(2)}}{\boxed{(3)}}$ 일 때,

(1) + (2) - (3) 의 값을 구하시오.



답: _____

17. 다음과 같이 규칙적으로 늘어놓은 분수들의 합을 구하시오.

$$1\frac{1}{10} + 2\frac{2}{10} + \cdots + 8\frac{8}{10} + 9\frac{9}{10}$$



답: _____

18. 영민이는 자전거로 한 시간에 $4\frac{4}{9}$ km 를 간다고 합니다. 같은 빠르기로 3시간 30분 동안 간다면 영민이가 간 거리는 몇 km 입니까?



답:

_____ km

19. $1\frac{3}{9}$ 에 어떤 분수를 더하였더니 $4\frac{8}{9}$ 이 되었습니다. 어떤 분수와 $1\frac{8}{9}$ 의 차는 얼마인지 구하시오.

① $5\frac{6}{9}$

② $2\frac{5}{9}$

③ $3\frac{5}{9}$

④ $1\frac{8}{9}$

⑤ $1\frac{6}{9}$

20. 지은, 해수, 송이 세 사람의 키를 재었습니다. 지은이와 해수의 키의 합은 $4\frac{1}{6}$ m, 지은이와 송이의 키의 합은 $4\frac{4}{6}$ m, 해수와 송이의 키의 합은 $4\frac{3}{6}$ m 입니다. 세 사람의 키의 합을 구하시오.



답:

_____ m