


1. 16의 약수의 개수를 구하여라.

 답: _____ 개

2. 150 에 가장 가까운 9 의 배수를 구하여라.

 답: _____

3. 다음 수 중에서 합성수의 개수를 구하여라.

1 3 5 15 31 35 53

▶ 답: _____ 개

4. 다음 설명 중 옳은 것은?

- ① 소수는 약수의 개수가 2 개이다.
- ② 소수는 모두 홀수이다.
- ③ 가장 작은 소수는 1 이다.
- ④ 모든 자연수는 약수의 개수가 2 개 이상이다.
- ⑤ 자연수에는 소수와 합성수가 있다.

5. 다음 중 240 을 바르게 소인수분해한 것은?

① $2^4 \times 3 \times 5$

② $2^3 \times 3 \times 7$

③ $2^2 \times 3^2 \times 5^2$

④ $2^3 \times 3 \times 5^2$


⑤ $2^2 \times 3^2 \times 5$

6. 다음은 나예빠가 닌멧저에게 보낸 암호문이다. 아래 네모 칸에 쓰여진 수 중에서 $2^4 \times 3^3$ 의 약수를 모두 찾아 색칠하면 나예빠와 닌멧저가 만나는 시간이 나타난다. 나예빠와 닌멧저가 몇 시에 만나는지 구하여라.

2×3	12	$2^2 \times 3$
11	$2 \times 3^3 \times 5^2$	$2^4 \times 3^3$
$2^3 \times 3^2$	2×3^3	1
$3^2 \times 11$	100	2×3^2
8	3^3	$2^3 \times 3$

▶ 답: _____ 시

7. 소인수분해를 이용하여 24의 약수의 개수를 써라.

 답: _____

8. 어떤 수 A 를 5 로 나누었더니 몫이 7 이고, 나머지가 2 이었다. 어떤 수 A 를 구하여라.

▶ 답: _____

9. 어떤 수를 5로 나누었더니 몫이 6이고, 나머지가 2이었다. 이 수를 3으로 나누었을 때의 나머지를 구하여라.

▶ 답: _____

10. 100 이하의 13 의 배수는 모두 몇 개인지 구하여라.

▶ 답: _____ 개

11. 다음 중 옳지 않은 것은?

- ① 9는 9의 약수이다.
- ② 8은 8의 배수이다.
- ③ 1은 모든 자연수의 배수이다.
- ④ 276은 6의 배수이다.
- ⑤ 364는 7의 배수이다.

12. 다음 중 옳은 것은 모두 몇 개인가?

$$\textcircled{㉠} 7 \times 7 \times 7 \times 7 \times 7 = 7 \times 5$$

$$\textcircled{㉡} x \times x \times y \times x \times y = x^2 \times y^3$$

$$\textcircled{㉢} 4 \times 4 = 2^4$$

$$\textcircled{㉣} 2 \times 3 \times 3 \times 3 \times 2 = 2^2 + 3^3$$

$$\textcircled{㉤} \frac{1}{5} \times 3 \times \frac{1}{5} \times \frac{1}{5} = 3 \times \frac{3}{5^3}$$

- ① 0개 ② 1개 ③ 3개 ④ 4개 ⑤ 5개

13. 다음 중 옳지 않은 것을 모두 고르면?(정답 2 개)

① $2 \times 2 \times 4 \times 4 \times 7 = 2^2 \times 4^2 \times 7$


② $\frac{1}{3 \times 3 \times 3 \times 3} = \frac{4}{3^3}$

③ $\frac{1}{2 \times 2 \times 5 \times 5} = \frac{1}{2^2 \times 5^2}$

④ $\frac{1}{3^2 \times 3^4} = \frac{1}{3^8}$

⑤ $a \times a \times a \times b \times b = a^3 \times b^2$

14. $3^a = 81$, $5^b = 625$ 일 때, $a + b$ 의 값을 구하여라.

 답: _____

15. 다음 중 가장 큰 수와 가장 작은 수의 차를 구하면?

$$2 \times 3^2, 5^3, 2^3 \times 5, 3^2 \times 7$$

- ① 22 ② 23 ③ 45 ④ 107 ⑤ 143

16. $2 \times 2 \times 3 \times 3 \times 3 \times 2 \times 2 \times 5 \times 5$ 를 $2^x \times 3^y \times 5^z$ 라 할 때, $x + y + z$ 의 값을 구하여라.

▶ 답: _____

17. 다음 중 소수가 아닌 것은?

- ① 7 ② 11 ③ 13 ④ 19 ⑤ 21

18. 다음 중 옳지 않은 것은?

- ① 3은 소수이다.
- ② 1과 그 수 자신만의 약수를 가지는 자연수를 소수라 한다.
- ③ 가장 작은 소수는 1이다.
- ④ 2의 배수 중 소수는 1개이다.
- ⑤ 소수는 약수가 2개이다.

19. 다음 중 소인수분해를 바르게 한 것은?

① $30 = 2^2 \times 3 \times 5$

② $140 = 2^2 \times 3^2 \times 5$

③ $80 = 2^8 \times 10$

④ $60 = 2^2 \times 3 \times 5$

⑤ $200 = 2 \times 10^2$

20. 다음 <보기> 중 소인수분해가 옳지 않은 것을 모두 고르면?

보기

㉠ $52 = 13 \times 5$

㉡ $20 = 2^2 \times 5$

㉢ $80 = 2^4 \times 5$

㉣ $120 = 2^3 \times 3 \times 5$

㉤ $84 = 2^2 \times 3^3$

① ㉠, ㉢

② ㉡, ㉣

③ ㉡, ㉣

④ ㉢, ㉣

⑤ ㉠, ㉢, ㉣


21. $600 = a^x \times b^y \times c^z$ 로 소인수분해될 때, $(a+b+c) \times (x+y+z)$ 의 값은? (단, $a < b < c$)

- ① 12 ② 24 ③ 36 ④ 48 ⑤ 60

22. 다음 중 910의 소인수를 모두 고르면?

- ① 1 ② 3 ③ 5 ④ 11 ⑤ 13

23. 25의 소인수의 개수와 156의 소인수의 개수의 합을 구하여라.

 답: _____

24. 75 에 가능한 한 작은 자연수 x 로 나누어서 어떤 자연수 y 의 제곱이 되게 하려고 한다. y 의 값은?

- ① 1 ② 3 ③ 5 ④ 9 ⑤ 15

25. 120 에 자연수 x 를 곱하여 어떤 자연수의 제곱이 되게 하려고 한다.
다음 중 x 의 값이 될 수 없는 것은?

① $2 \times 3 \times 5$

② $2^3 \times 3 \times 5$

③ $2 \times 3^3 \times 5$

④ $2 \times 3 \times 5 \times 7^2$

⑤ $2^2 \times 3 \times 5$

26. $2^3 \times 3^2 \times 5$ 에 어떤 자연수를 곱하여 자연수의 제곱이 되게 하려고 할 때, 곱할 수 있는 수 중에서 가장 작은 자연수는?

- ① 3 ② 5 ③ 3×5 ④ 5^2 ⑤ 10

27. 720 을 자연수로 나누어 어떤 자연수의 제곱이 되도록 할 때, 나눌 수 있는 가장 작은 자연수를 구하여라.

▶ 답: _____

28. $3^3 \times 5^2$ 의 약수가 아닌 것은?

① 3

② 5

③ $3^2 \times 5$

④ $3^2 \times 5^2$

⑤ 3×5^3

29. 다음 중 약수의 개수가 가장 적은 것은?

① $2^4 \times 3^2$

② $2^3 \times 5^3$

③ $2^2 \times 5^2$

④ $2 \times 3 \times 5^3$

⑤ 3^4

30. 자연수 $A = 2^2 \times 3^n$ 의 약수의 개수가 24 일 때, n 의 값을 구하면?

- ① 2 ② 5 ③ 7 ④ 8 ⑤ 12


31. $3^2 \times 5 \times 7^x$ 의 약수의 개수가 72 의 약수의 개수와 같을 때, 자연수 x 의 값은?

- ① 1 ② 2 ③ 3 ④ 4 ⑤ 5


32. 자연수 240 과 $2^3 \times 5^n$ 의 약수의 개수가 같을 때, 자연수 n 의 값을 구하여라.

▶ 답: _____

33. $2^4 \times \square$ 의 약수의 개수가 15 개일 때, \square 안에 들어갈 수 있는 가장 작은 자연수를 구하여라.

 답: _____

34. $2 \times 3 \times \square$ 는 어떤 수를 소인수분해한 식이고 이 수는 약수의 개수가 8 개인 가장 작은 수이다. \square 안에 알맞은 수를 구하여라.

 답: _____

35. 1 부터 50 까지의 자연수 중에서 약수의 개수가 3 개인 자연수의 개수를 구하여라.

▶ 답: _____ 개