

1. A 지점에서 B 지점까지 왕복을 하는데, 갈 때는 시속 2km 로, 올 때는 간 길보다 3km 더 짧은 길을 시속 3km 로 걸어 총 4 시간이 걸렸다. 올 때의 거리는 몇 km 인지 구하여라.

▶ 답: km

▷ 정답: 3km

해설

갈 때의 거리 x km , 올 때의 거리 y km

$$\begin{cases} y = x - 3 \cdots \textcircled{1} \\ \frac{x}{2} + \frac{y}{3} = 4 \cdots \textcircled{2} \end{cases} \quad \text{에서 } \textcircled{2} \times 6 \text{ 을 한 후 } \textcircled{1} \text{ 을 대입하면}$$

$$3x + 2(x - 3) = 24$$

$$\therefore x = 6, y = 3$$

2. 다음 중 부등호를 사용하여 나타낸 식이 옳지 않은 것은?

① x 는 $-3x - 15$ 보다 크지 않다. $\Rightarrow x \leq -3x - 15$

② $2x$ 와 -12 의 합은 음수이다. $\Rightarrow 2x - 12 < 0$

③ x 와 8 의 곱은 5 이하이다. $\Rightarrow 8x \leq 5$

④ $3x$ 와 $\frac{2}{3}$ 의 곱은 0 이거나 양수이다 $\Rightarrow \left(3x \times \frac{2}{3}\right) > 0$

⑤ $-2x$ 와 $2y$ 의 합은 $-\frac{1}{2}$ 이상이다. $\Rightarrow -2x + 2y \geq -\frac{1}{2}$

해설

④ $\left(3x \times \frac{2}{3}\right) \geq 0$

3. x 의 값이 $-2, -1, 0, 1, 2, 3$ 일 때, 부등식 $2x + 1 < -x + 7$ 를 만족하는 x 값들의 합을 구하여라.

▶ 답 :

▷ 정답 : -2

해설

$2x + 1 < -x + 7$ 에 대입했을 때 참이 되는 x 값은 $-2, -1, 0, 1$ 이므로 그 합은 -2 이다.

4. $a \leq b$ 일 때, 다음 중 옳지 않은 것은?

① $3a \leq 3b$

② $\frac{a}{2} \leq \frac{b}{2}$

③ $a - 5 \leq b - 5$

④ $2a - 1 \leq 2b - 1$

⑤ $-\frac{a}{2} + 6 \leq -\frac{b}{2} + 6$

해설

$$a \leq b \rightarrow \frac{a}{2} \leq \frac{b}{2} \rightarrow -\frac{a}{2} \geq -\frac{b}{2}$$

$$\therefore -\frac{a}{2} + 6 \geq -\frac{b}{2} + 6$$

5. $a < b$ 일 때, 다음 중 틀린 것은?

① $a + 2 < b + 2$

② $\frac{2}{5}a - 1 < \frac{2}{5}b - 1$

③ $a - 6 < b - 6$

④ $-7a - 1 < -7b - 1$

⑤ $3a + 1 < 3b + 1$

해설

④ $a < b$ 일 때 양변에 음수를 곱하거나 나누면 부등호의 방향은 바뀐다.

6. $a > b$ 일 때, 다음 중 옳지 않은 것은?

① $a + 8 > b + 8$

② $-a + 9 > -b + 9$

③ $\frac{a}{2} - 4 > \frac{b}{2} - 4$

④ $a - \frac{1}{4} > b - \frac{1}{4}$

⑤ $(-a) \div (-2) > (-b) \div (-2)$

해설

$$a > b \Rightarrow -a < -b \Rightarrow -a + 9 < -b + 9$$

(양변에 음수를 곱하면 부등호의 방향이 바뀐다)

7. $-3 < a \leq 7$ 일 때, $A \leq -4a - 1 < B$ 라고 한다. 이 때, $A + B$ 의 값은?

① 10

② -10

③ 18

④ -18

⑤ 21

해설

$-3 < a \leq 7$ 의 각각의 변에 -4 를 곱하면 $-28 \leq -4a < 12$,
각각의 변에 1 을 빼면 $-29 \leq -4a - 1 < 11$ 이다.

따라서 $A = -29$, $B = 11$ 이므로 $A + B = (-29) + 11 = -18$
이다.

8. 일차부등식 $-4 \leq 2x + 2 < 6$ 을 풀면?

① $x \geq -3$

② $x < 2$

③ $-3 \leq x < 2$

④ $-2 \leq x < 3$

⑤ $2 \leq x < 3$

해설

$$-4 \leq 2x + 2 < 6$$

각 변에서 2 를 빼면 $-4 - 2 \leq 2x < 6 - 2$

$$-6 \leq 2x < 4$$

각 변을 2 로 나누면 $-3 \leq x < 2$

9. 다음 부등식을 풀면?

$$3(x - 1) \geq -2(x - 6)$$

① $x \geq \frac{9}{5}$

② $x \geq -\frac{7}{5}$

③ $x \leq -3$

④ $x \leq 3$

⑤ $x \geq 3$

해설

$$3(x - 1) \geq -2(x - 6)$$

$$3x - 3 \geq -2x + 12$$

$$5x \geq 15$$

$$x \geq 3$$

10. 다음 안에 들어가는 부등호의 방향이 나머지 넷과 다른 하나는?

① $a > b$ 일 때, $\frac{1}{2}a + 5$ $\frac{1}{2}b + 5$

② $a < b$ 일 때, $\frac{1}{6} - 4a$ $\frac{1}{6} - 4b$

③ $a - 5 > b - 5$ 일 때, a b

④ $-\frac{3}{7}a < -\frac{3}{7}b$ 일 때, a b

⑤ $-2 - a > -2 - b$ 일 때, a b

해설

부등식의 양변에 음수를 곱하거나 나누면 부등호의 방향이 바뀐다.

①, ②, ③, ④ : >

⑤ : <

11. 일차부등식 $\frac{x-2}{3} - \frac{5x-3}{4} < 1$ 을 풀면?

① $x > -1$

② $x < -1$

③ $x > 1$

④ $x < 1$

⑤ $x > -\frac{29}{11}$

해설

$$\frac{x-2}{3} - \frac{5x-3}{4} < 1$$

양변에 분모의 최소공배수 12를 곱하면

$$4x - 8 - 15x + 9 < 12$$

$$-11x < 11$$

$$\therefore x > -1$$

12. 부등식 $0.3(2x + 1) \geq x - 1.1$ 을 만족시키는 최대의 정수를 구하면?

① 0

② 1

③ 2

④ 3

⑤ 4

해설

양변에 10을 곱하면

$$3(2x + 1) \geq 10x - 11$$

$$6x + 3 \geq 10x - 11$$

$$-4x \geq -14$$

$$x \leq \frac{7}{2}$$

따라서 가장 큰 정수는 3이다.

13. 다음 부등식을 푼 것으로 틀린 것은?

① $a > 0$ 일 때, $-ax > 7a \Rightarrow x < -7$

② $a < 0$ 일 때, $-ax > 7a \Rightarrow x > -7$

③ $a > 4$ 일 때, $(a-4)x > (a-4) \Rightarrow x > 1$

④ $a < 4$ 일 때, $(a-4)x > (a-4) \Rightarrow x < 1$

⑤ $a < 4$ 일 때, $(a-4)x > -(a-4) \Rightarrow x > -1$

해설

⑤ $a < 4$

$$(a-4) < 0$$

$(a-4)x > -(a-4)$ 에서 양변을 $(a-4)$ 로 나누어 주면 부등호의 방향이 바뀐다. 따라서 $x < -1$ 이다.

14. 다음 중 부등식을 풀 것으로 틀린 것은?

① $a > 0$ 일 때, $ax > 3 \Rightarrow x > \frac{3}{a}$

② $a > 0$ 일 때, $ax - 4 > 0 \Rightarrow x > \frac{4}{a}$

③ $a < 0$ 일 때, $ax - 4 > 0 \Rightarrow x < \frac{4}{a}$

④ $a > 0$ 일 때, $ax + 3 > 0 \Rightarrow x > -\frac{3}{a}$

⑤ $a < 0$ 일 때, $ax + 3 > 0 \Rightarrow x < \frac{3}{a}$

해설

⑤ $ax + 3 > 0$ 은 $ax > -3$ 이고, $a < 0$ 이므로 $\frac{1}{a} < 0$ 이고, $\frac{1}{a}$ 를

양변에 곱하면 부등호의 방향이 바뀐다. 즉, $x < -\frac{3}{a}$ 이다.

15. 한 개에 4500 원인 상자에 한 개에 700 원인 사탕과 한 개에 1300 원인 초콜릿 10 개를 넣으려고 한다. 전체 금액이 30000 원 이하가 되게 하려면 사탕을 최대 몇 개 까지 살 수 있는지 구하면?

① 15 개

② 16 개

③ 17 개

④ 18 개

⑤ 19 개

해설

사탕의 개수를 x 개라고 하자.

$$700x + (1300 \times 10) + 4500 \leq 30000$$

$$700x \leq 12500$$

$$x \leq \frac{125}{7}$$

따라서, 사탕은 최대 17 개 까지 살 수 있다.

16. A 도서 대여점에서 책을 빌리는데 4 권까지는 4000 원을 받지만, 추가로 더 빌릴 때에는 한 권당 600 원을 받는다고 한다. 추가로 몇 권 이상을 더 빌려야 전체적으로 빌리는 값이 권당 700 원 이하가 되는가?

① 10권

② 11권

③ 12권

④ 13권

⑤ 14권

해설

추가로 더 빌리는 책의 수를 x 권으로 놓는다.

$$4000 + 600x \leq 700(x + 4)$$

$$40 + 6x \leq 7x + 28$$

$$\therefore x \geq 12$$

17. 현재까지 형은 30000 원, 동생은 10000 원을 저금하였다. 매월 형은 3000 원씩, 동생은 2000 원씩 저금한다면 형의 저금액이 동생의 저금액의 2배보다 적어지는 것은 몇 개월째부터인지 구하여라.

▶ 답 : 개월

▶ 정답 : 11 개월

해설

x 개월 후에 형의 저금액이 동생의 저금액의 2배보다 적어지게 된다면

$$30000 + 3000x < 2(10000 + 2000x)$$

$$\therefore x > 10$$

18. A, B 두 회사의 한 달 전화요금에 다음과 같다. 몇 분 이상 통화할 때 A 회사의 요금제를 선택하는 것이 유리할지 구하여라.

	기본요금	추가요금
A	20,000원	없음
B	5,000원 (20분 통화 무료)	1분에 120원 (20분 초과 시)

▶ **답:** 분이상

▷ **정답:** 146분이상

해설

통화시간을 x 분이라 할 때

$$20000 < 5000 + 120(x - 20)$$

$$x > 145$$

따라서 146 분 이상 통화할 때 A 회사의 요금제가 유리하다.

20. 등산을 하는 데 올라갈 때는 시속 3km, 내려올 때는 같은 거리를 시속 4km로 걸어서 전체 걸리는 시간을 4시간 이내로 하려고 한다. 이때, 최고 몇 km까지 올라갔다 내려오면 되겠는가?

▶ 답: km

▷ 정답: $\frac{48}{7}$ km

해설

거리: x km

$$\frac{x}{3} + \frac{x}{4} \leq 4$$

$$4x + 3x \leq 48$$

$$7x \leq 48$$

$$\therefore x \leq \frac{48}{7}$$

21. 다음을 읽고 부등식으로 나타낸 것 중 바른 것을 고르면?

8% 소금물 200g 에서 물을 증발시켰더니 농도가 12% 이상이 되었다.

① $\frac{8}{200+x} \times 100 \geq 12$

② $\frac{16}{200+x} \times 100 \geq 12$

③ $\frac{8}{200-x} \times 100 \geq 12$

④ $\frac{16}{200-x} \times 100 \geq 12$

⑤ $\frac{16-x}{200-x} \times 100 \geq 12$

해설

물을 증발시켰으므로 물의 양은 줄어들고 소금의 양은 그대로 남아있다.

8%의 소금물 200g에 녹아있는 소금의 양은

$$\begin{aligned}(\text{소금}) &= (\text{농도}) \times \frac{(\text{소금물})}{100} \\ &= 8 \times \frac{200}{100} = 16(\text{g})\end{aligned}$$

농도로 식을 세우면, $\frac{16}{200-x} \times 100 \geq 12$

22. 15% 의 소금물 200g 에 물을 x g 을 넣어서 소금물의 농도가 6% 의 이하가 되었다고 한다. x 의 범위는?

① $x \leq 100$

② $x \geq 100$

③ $x \leq 300$

④ $x \geq 300$

⑤ $x \leq 400$

해설

15% 의 소금물 200g 에 들어있는 소금의 양은 $\frac{15}{100} \times 200 = 30$ (g)

이다. 물을 x g 을 더 넣어도 소금의 양은 변하지 않는다. 소금물

의 농도는 $\frac{30}{200+x} \times 100$ (%) 이다. 소금물의 농도는 6% 이하이

므로

$$\frac{30}{200+x} \times 100 \leq 6$$

$$\frac{3000}{6} \leq 200+x$$

$$-x \leq 200 - 500$$

$$x \geq 300$$

23. 두 자리의 자연수에서 십의 자리를 x , 일의 자리를 y 라고 할 때, 십의 자리의 숫자와 일의 자리의 숫자를 바꾼 자연수는 처음 수보다 45 가 크다고 한다. 이를 미지수가 2 개인 일차방정식으로 나타내면?

① $10y + x = (10x + y) - 45$

② $10y + x = (10x + y) + 45$

③ $10y + x + 45 = (10x + y)$

④ $10x + y = (10y + x) + 45$

⑤ $10y + x = (10x + y) \times 45$

해설

처음 수의 십의 자리 숫자를 x , 일의 자리 숫자를 y 라 하면 처음 수는 $10x+y$, 나중 수는 $10y+x$ 이다. 따라서 $10y+x = (10x+y)+45$ 이다.

25. 어느 중학교에서 어느 안건을 의결에 대한 찬반 투표를 했다. 이 날 투표한 학생 수가 전교생의 $\frac{1}{5}$ 이었는데, 이것은 남학생의 $\frac{1}{4}$ 과 여학생의 $\frac{1}{6}$ 이 투표를 한 것이다. 이 학교의 학생 수가 총 1000 명일 때, 여학생 수를 구하여라.

▶ 답: 명

▷ 정답: 600 명

해설

남학생 수를 x 명, 여학생 수를 y 명이라 하면

$$\begin{cases} x + y = 1000 \\ \frac{1}{4}x + \frac{1}{6}y = 1000 \times \frac{1}{5} \end{cases}$$

$$\text{즉 } \begin{cases} x + y = 1000 \\ 3x + 2y = 2400 \end{cases}$$

$$\therefore x = 400, y = 600$$

26. A , B 두 사람이 가위바위보를 하여 이긴 사람은 3 계단씩 올라가고, 진 사람은 1 계단씩 내려가기로 하였다. A 는 처음보다 10 계단을, B 는 2 계단을 올라갔을 때, A 가 이긴 횟수는? (단, 비기는 경우는 없다.)

① 1번

② 2번

③ 3번

④ 4번

⑤ 5번

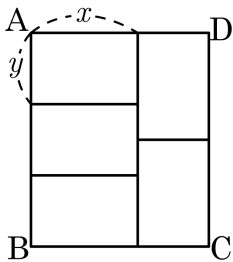
해설

A 가 이긴 횟수를 x , 진 횟수를 y 라 하면, B 가 이긴 횟수는 y , 진 횟수는 x 이다.

$$\begin{cases} 3x - y = 10 \\ 3y - x = 2 \end{cases}$$

연립해서 풀면 $x = 4$, $y = 2$ 이다.

27. 다음 그림과 같이 합동인 작은 직사각형 5 개로 넓이가 120cm^2 인 큰 직사각형을 만들었다. y 의 값을 구하여라.



▶ 답 : cm

▷ 정답 : 4 cm

해설

직사각형의 긴 변의 길이를 x , 짧은 변의 길이를 y 라 하면
 $5xy = 120$ 이므로 $xy = 24 \dots \textcircled{1}$

$$2x = 3y$$

$$y = \frac{2}{3}x \dots \textcircled{2} \text{ 이므로}$$

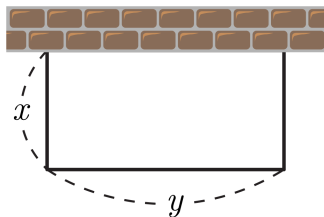
②를 ①에 대입하면

$$x \times \frac{2}{3}x = 24$$

$$2x^2 = 72, x^2 = 36 = 6 \times 6$$

$$\therefore x = 6\text{cm}, y = 4\text{cm}$$

28. 다음 그림과 같이 가로 길이가 세로 길이보다 4 배보다 8m 짧은 모양의 철조망이 만들어져 있다. 철조망의 둘레의 길이는 세로의 길이의 4 배라고 할 때, 가로의 길이는?



① 4m

② 6m

③ 8m

④ 10m

⑤ 12m

해설

$$\begin{cases} y = 4x - 8 \\ 2x + y = 4x \end{cases},$$

$$\text{즉 } \begin{cases} y = 4x - 8 & \dots (1) \\ -2x + y = 0 & \dots (2) \end{cases}$$

연립하여 풀면 $x = 4(\text{m})$, $y = 8(\text{m})$ 이다.

29. 어느 학교의 금년의 학생 수는 작년에 비하여 남학생은 15% 늘고 여학생은 10% 줄어서, 전체 학생 수는 20 명이 늘어나 620 명이 되었다고 한다. 금년의 남학생 수와 여학생 수를 각각 구하면?

- ① 남학생 : 368 명, 여학생 : 252 명
 ② 남학생 : 366 명, 여학생 : 254 명
 ③ 남학생 : 364 명, 여학생 : 256 명
 ④ 남학생 : 362 명, 여학생 : 258 명
 ⑤ 남학생 : 360 명, 여학생 : 260 명

해설

작년의 남학생 수를 x 명, 여학생 수를 y 명이라고 하면

$$\begin{cases} x + y = 620 - 20 \\ \frac{15}{100}x - \frac{10}{100}y = 20 \end{cases} \rightarrow \begin{cases} x + y = 600 \\ 3x - 2y = 400 \end{cases}$$

$$\therefore x = 320, y = 280$$

따라서 금년의 남학생 수는 $320 + 320 \times \frac{15}{100} = 368(\text{명})$, 여학생

수는 $280 - 280 \times \frac{10}{100} = 252(\text{명})$ 이다.

30. 작년도 학생 수는 1200 명이고 금년에는 작년보다 남학생은 4% 감소하고 여학생은 4% 증가하여 전체 학생 수는 8 명이 감소했다. 금년의 여학생 수는 몇 명인지 고르면?

① 400 명

② 520 명

③ 420 명

④ 500 명

⑤ 516 명

해설

작년 남학생 수: x 명, 작년 여학생 수: y 명

$$\begin{cases} x + y = 1200 \\ -0.04x + 0.04y = -8 \end{cases}$$

정리하면,

$$\begin{cases} x + y = 1200 & \dots \text{①} \\ x - y = 200 & \dots \text{②} \end{cases}$$

① + ②을 하면, $x = 700$, $y = 500$

따라서 금년의 여학생 수는 520 (명) 이다.

31. 준호와 범수가 같이 하면 15 일 만에 끝마칠 수 있는 일이 있다. 이 일을 준호가 먼저 14 일간 일하고, 남은 일은 범수가 18 일 동안 작업하여 끝마쳤다고 한다. 준호가 혼자서 일하면 며칠 만에 끝낼 수 있겠는가?

① 10 일

② 15 일

③ 20 일

④ 25 일

⑤ 30 일

해설

준호가 하루에 일하는 양을 x 라 하고, 범수가 하루에 일하는

양을 y 라 하고 전체 일의 양을 1 로 두면
$$\begin{cases} 15(x + y) = 1 \\ 14x + 18y = 1 \end{cases}$$

두 식을 연립하여 풀면 $x = \frac{1}{20}$, $y = \frac{1}{60}$

따라서 준호가 혼자서 일하면 20 일 걸린다.

32. 배로 강을 30km 거슬러 올라가는데 3 시간, 같은 거리만큼 내려오는데 1 시간이 걸렸다. 배의 속력은?

① 5km /시

② 10km /시

③ 15km /시

④ 20km /시

⑤ 40km /시

해설

배의 속력을 x km/시, 강물의 속력을 y km/시 라 하면

$$\begin{cases} 3(x - y) = 30 \\ x + y = 30 \end{cases}$$

두 식을 연립하여 풀면

$$\therefore x = 20$$

33. 배를 타고 40km 길이의 강을 강물이 흐르는 방향으로 가는데는 1 시간, 반대 방향으로 거슬러 가는데는 2 시간이 걸렸다. 강물이 흐르는 속력은?

① 시속 1km

② 시속 4km

③ 시속 5km

④ 시속 10km

⑤ 시속 20km

해설

강물의 속력 : x km/h , 배의 속력 : y km/h

$$\begin{cases} 1 \times (x + y) = 40 \\ 2(y - x) = 40 \end{cases}$$

$$x = 10, y = 30$$

$$\therefore x = 10(\text{km/h})$$

35. 4%의 소금물과 6%의 소금물을 섞은 후 물을 더 부어 3%의 소금물 120g을 만들었다. 4%의 소금물과 더 부은 물의 양의 비가 1:3이라 할 때, 더 부은 물의 양을 구하여라.

▶ 답: g

▷ 정답: 54g

해설

4%의 소금물의 양을 x g, 6%의 소금물의 양을 y g이라 하면
더 부은 물의 양은 $3x$
g 이므로

$$x + y + 3x = 120 \quad \dots \textcircled{1}$$

$$\frac{4}{100}x + \frac{6}{100}y = \frac{3}{100} \times 120 \quad \dots \textcircled{2}$$

①, ②를 연립하여 풀면 $x = 18, y = 48$

\therefore 더 부은 물의 양 : 54g

36. 10%의 소금물과 물을 섞어서 6%의 소금물 1000g을 만들려고 한다. 이때 소금물과 물을 각각 몇 g씩 섞으면 되는지 차례대로 구하여라.

▶ 답 : g

▶ 답 : g

▷ 정답 : 600g

▷ 정답 : 400g

해설

10%의 소금물의 양을 xg , 물의 양을 yg 이라 하면

$$x + y = 1000, \frac{10}{100}x = \frac{6}{100} \times 1000 \text{ 이므로}$$

$x = 600, y = 400$ 이다.

40. 정재네 집에서 학교까지는 1.5km 이다. 어느 날 정재는 등교하는데 매분 60m 로 걷다가 늦을 것 같아서 매분 200m 의 속력으로 뛰어갔더니 18 분 만에 학교에 도착하였다. 이때, 뛰어간 거리를 구하여라.

▶ 답: m

▷ 정답: 600 m

해설

걸어간 거리를 x m , 뛰어간 거리를 y m 라 하면

$$\begin{cases} x + y = 1500 & \dots \textcircled{1} \\ \frac{x}{60} + \frac{y}{200} = 18 & \dots \textcircled{2} \end{cases}$$

②의 양변에 600 을 곱하면 $10x + 3y = 10800 \dots \textcircled{3}$

③ - ① $\times 3$ 하면 $7x = 6300$

$$x = 900$$

$x = 900$ 을 ① 에 대입하면 $y = 600$

\therefore 뛰어간 거리 : 600m

41. 지영이는 집에서 2km 떨어진 학교를 가는데, 시속 4km 로 걷다가, 시속 10km 로 뛰어서 21 분이 걸렸다. 걸어 간 거리와 뛰어 간 거리는?

- ① 뛰어 간 거리 0.7km , 걸어 간 거리 1.3km
- ② 뛰어 간 거리 0.8km , 걸어 간 거리 1.2km
- ③ 뛰어 간 거리 0.9km , 걸어 간 거리 1.1km
- ④ 뛰어 간 거리 1km , 걸어 간 거리 1km
- ⑤ 뛰어 간 거리 1.1km , 걸어 간 거리 0.9km

해설

걸은 거리를 x km , 뛰어간 거리를 y km 라 하면

$$\begin{cases} x + y = 2 & \cdots (1) \\ \frac{x}{4} + \frac{y}{10} = \frac{21}{60} & \cdots (2) \end{cases}$$

(2)의 양변에 20을 곱하면 $5x + 2y = 7 \cdots (3)$

(3) - (1) $\times 2$ 하면 $3x = 3$

$$x = 1$$

$x = 1$ 을 (1)에 대입하면 $y = 1$

\therefore 걸은 거리 : 1km, 뛰어간 거리 : 1km

42. 어느 공원의 산책로 길이 11km 이다. 이 길을 처음에는 시속 3km 로 걷다가 도중에 시속 12km 로 뛰었더니 총 2 시간 40 분이 걸렸다. 이 때, 뛰 거리를 구하여라.

▶ 답: km

▷ 정답: 4 km

해설

시속 3km 로 걸어 간 거리 x km , 시속 12km 로 달려 간 거리 y km 라고 하면,

$$\begin{cases} x + y = 11 \\ \frac{x}{3} + \frac{y}{12} = \frac{160}{60} \end{cases} \Rightarrow \begin{cases} x + y = 11 & \dots \textcircled{㉠} \\ 4x + y = 32 & \dots \textcircled{㉡} \end{cases}$$

에서 $\textcircled{㉡} - \textcircled{㉠}$ 을 하면 $x = 7$ 이다. x 를 $\textcircled{㉠}$ 에 대입하면 $y = 4$ 이다. 따라서 달린 거리는 4km 이다.

43. 미지수가 2 개인 일차방정식 $3x + y = -5$ 를 $ax + by + c = 0$ 의 꼴로 고칠 때, $a + b + c$ 의 값은? (단, $a < 0$)

① -1

② -3

③ -5

④ -7

⑤ -9

해설

$$3x + y = -5 \text{ 는 } -3x - y - 5 = 0 \text{ 이므로 } a = -3, b = -1, c = -5$$

$$\therefore a + b + c = -3 - 1 - 5 = -9$$

44. 5%의 설탕물 200g에 최소 몇 g의 물을 넣으면 설탕물의 농도가 4% 이하가 되겠는가?

① 20g

② 40g

③ 50g

④ 60g

⑤ 80g

해설

넣어야 할 물의 양을 x g이라 하면

$$\frac{5}{100} \times 200 \leq \frac{4}{100} \times (200 + x)$$

$$1000 \leq 800 + 4x$$

$$\therefore x \geq 50$$

45. 인혜는 10%의 소금물 200g에 실수로 20%의 소금물 x g을 부어서 18% 이하의 소금물을 만들었다고 한다. 인혜가 실수로 부은 소금물의 양의 범위를 구하여라.

▶ 답 :

▷ 정답 : $x \leq 800$

해설

10%의 소금물 200g에 들어있는 소금의 양은 $\frac{10}{100} \times 200 = 20$ (g)

이다.

20%의 소금물 x g에 들어있는 소금의 양은 $\frac{20}{100} \times x = \frac{x}{5}$ (g)

이다.

10%의 소금물 200g과 20%의 소금물 x g을 섞어 18%의 소금물

이 만들어졌다면 여기에 들어있는 소금의 양은 $\frac{18}{100} \times (200+x)$ (g)

이 된다.

$$20 + \frac{x}{5} \leq \frac{18(200+x)}{100}$$

$$2000 + 20x \leq 3600 + 18x$$

$$2x \leq 1600$$

$$x \leq 800$$

x 는 800g 이하이다.

46. $-1 \leq a < 4$ 이고 $A = -3a - 2$ 일 때, A 의 값의 범위를 구하면?

① $-14 \leq A < 1$

② $-14 < A \leq 1$

③ $-1 < A \leq 14$

④ $-5 \leq A < 10$

⑤ $-5 < A \leq 10$

해설

$a = -1$ 일 때, $A = 1$ 이고 $a = 4$ 일 때, $A = -14$ 이다.

따라서 $-14 < A \leq 1$ 이다.

47. $x < 4$ 일 때, $-2x + 1$ 의 값의 범위는?

① $-2x + 1 < -7$

② $-2x + 1 > -7$

③ $-2x + 1 < 7$

④ $-2x + 1 > 7$

⑤ $-2x + 1 \leq 7$

해설

$x < 4$ 의 양변에 -2 를 곱한 후 1 을 더한다.(부등호 방향에 주의한다.)

$$-2x + 1 > -7$$

48. 다음 부등식을 만족하는 가장 작은 정수를 구하여라.

$$\frac{5-3x}{4} \leq \frac{2-x}{3} + 2$$

▶ 답:

▷ 정답: -3

해설

$\frac{5-3x}{4} \leq \frac{2-x}{3} + 2$ 의 양변에 12 를 곱한다.

$$3(5-3x) \leq 4(2-x) + 24$$

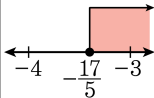
$$15-9x \leq 8-4x+24$$

$$-9x+4x \leq 32-15$$

$$-5x \leq 17$$

$$\therefore x \geq -\frac{17}{5}$$

따라서 가장 작은 정수는 -3 이다.



49. $-1 \leq x < 4$ 일 때 $-2x + 3$ 의 범위는?

① $-5 < -2x + 3 \leq 5$

② $-5 \leq -2x + 3 < 5$

③ $-6 \leq -2x + 3 < 6$

④ $-5 < -2x + 3 \leq 6$

⑤ $-5 < -2x + 3 \leq 7$

해설

$-1 \leq x < 4$ 의 각각의 변에 -2 를 곱하면 $-8 < -2x \leq 2$, 각각의 변에 3 을 더하면 $-5 < -2x + 3 \leq 5$ 이다.

50. $-1 < 3x + 2 < 5$ 일 때, x 의 값의 범위는?

① $0 < x < 1$

② $-1 < x < 2$

③ $\frac{1}{3} < x < 1$

④ $-1 < x < 1$

⑤ $1 < x < 2$

해설

$$-1 < 3x + 2 < 5$$

$$-1 - 2 < 3x < 5 - 2$$

$$-3 < 3x < 3$$

$$\therefore -1 < x < 1$$

51. $-6 \leq 4 - 2x < 10$ 일 때, x 의 값의 범위는?

① $x > 1$

② $x \leq -3$

③ $-1 < x \leq 4$

④ $-4 < x \leq 1$

⑤ $-3 < x \leq 5$

해설

$$-6 \leq 4 - 2x < 10 \text{에서}$$

$$-6 - 4 \leq -2x < 10 - 4,$$

$$-10 \leq -2x < 6$$

$$\therefore -3 < x \leq 5$$

52. 400m 트랙을 A , B 가 같은 방향으로 돌면 15 분 후에 만나고 반대 방향으로 돌면 3 분 후에 만난다. A 가 B 보다 빠르다고 할 때, A 의 속력은?

① 40m /분

② 50m /분

③ 60m /분

④ 70m /분

⑤ 80m /분

해설

A , B 의 속력을 각각 x m/분, y m/분 이라 하면

같은 방향으로 돌 때 : $15(x - y) = 400$

반대 방향으로 돌 때 : $3(x + y) = 400$

연립방정식을 풀면 $x = 80$ 이다.

53. 어느 학교의 작년 전체 학생 수는 800 명이었다. 금년에 남학생이 5% 감소하고 여학생은 10% 증가하여 14 명이 늘었다. 작년의 남학생의 수와 여학생의 수를 구하는 방정식은? (단, x 는 작년의 남학생의 수, y 는 작년의 여학생의 수)

$$\textcircled{1} \begin{cases} x + y = 800 \\ -\frac{5}{100}x + \frac{10}{100}y = -14 \end{cases}$$

$$\textcircled{2} \begin{cases} x + y = 800 \\ \frac{5}{100}x - \frac{10}{100}y = 14 \end{cases}$$

$$\textcircled{3} \begin{cases} x + y = 800 \\ -\frac{105}{100}x + \frac{110}{100}y = 786 \end{cases}$$

$$\textcircled{4} \begin{cases} x + y = 800 \\ \frac{105}{100}x - \frac{110}{100}y = 814 \end{cases}$$

$$\textcircled{5} \begin{cases} x + y = 800 \\ -\frac{5}{100}x + \frac{10}{100}y = 14 \end{cases}$$

해설

작년의 학생 수가 800 명이므로 $x + y = 800$ 이다.

남학생이 5% 감소하고 여학생은 10% 증가하여 14 명이 늘었으

므로 $-\frac{5}{100}x + \frac{10}{100}y = 14$ 이다.

$$\begin{cases} x + y = 800 \\ -\frac{5}{100}x + \frac{10}{100}y = 14 \end{cases}$$

54. 어느 공장에서 지난 달에 갑, 을 두 제품을 합하여 1000 개를 생산하였다. 이 달에 생산한 양은 지난 달에 비해 갑은 2% 증가하였고, 을은 3% 증가하여 전체로는 24 개가 증가하였다. 이 달의 갑 제품의 생산량은?

① 315 개

② 451 개

③ 600 개

④ 612 개

⑤ 704 개

해설

지난 달에 생산된 갑 제품을 x 개, 을 제품을 y 개라고 하면

$$\begin{cases} x + y = 1000 \\ \frac{2}{100}x + \frac{3}{100}y = 24 \end{cases}, \quad \text{즉} \quad \begin{cases} x + y = 1000 \\ 2x + 3y = 2400 \end{cases}$$

$$\therefore x = 600, y = 400$$

따라서 이 달의 갑 제품의 생산량은

$$600 + 600 \times \frac{2}{100} = 612(\text{개}) \text{ 이다.}$$

55. 연립방정식 $\begin{cases} -2x - 5y = x - 3y + 3 \\ ax + 2y = b \end{cases}$ 의 해가 없을 조건을 구하여

라.

▶ 답:

▶ 답:

▷ 정답: $a = 3$

▷ 정답: $b \neq -3$

해설

$$\begin{cases} -2x - 5y = x - 3y + 3 & \dots \textcircled{㉠} \\ ax + 2y = b & \dots \textcircled{㉡} \end{cases} \text{에서 } \textcircled{㉠} \text{을 간단히 하면 } 3x +$$

$$2y + 3 = 0$$

x, y 의 계수는 같아야 하고, 상수항은 달라야 한다.

$$\therefore a = 3, b \neq -3$$

56. 다음 연립방정식 중 해가 무수히 많은 것은?

$$\textcircled{1} \begin{cases} x - y = 3 \\ 2x - 2y = 6 \end{cases}$$

$$\textcircled{3} \begin{cases} 2x + y = 5 \\ x + 2y = 4 \end{cases}$$

$$\textcircled{5} \begin{cases} 6x - 2y = 4 \\ 3x - y = -2 \end{cases}$$

$$\textcircled{2} \begin{cases} 2x - y = 1 \\ 4x = 2y - 2 \end{cases}$$

$$\textcircled{4} \begin{cases} x = y + 2 \\ 3x - 3y = 4 \end{cases}$$

해설

두 방정식의 미지수의 계수와 상수항이 각각 같을 때 해가 무수히 많다.

따라서

$$\textcircled{1} \begin{cases} x - y = 3 & \dots \textcircled{㉠} \\ 2x - 2y = 6 & \dots \textcircled{㉡} \end{cases} \quad 2 \times \textcircled{㉠} = \textcircled{㉡} \text{ 이므로 해가 무수히 많다.}$$

② 해가 없다.

③ 1쌍의 해가 있다.

④ 해가 없다.

⑤ 해가 없다.

57. 연립방정식 $\begin{cases} 5x - 2y = 3 \\ ax + y = -3 \end{cases}$ 을 만족하는 x 와 y 의 값의 비가 $1 : 2$

일 때, 상수 a 의 값은?

- ① -3 ② -2 ③ 1 ④ 3 ⑤ 4

해설

$x : y = 1 : 2$ 이므로 $y = 2x$ 를 $5x - 2y = 3$ 에 대입하면 $x = 3$,
 $y = 6$ 이 나오고, $ax + y = -3$ 에 대입하면 $a = -3$ 이 된다.

58. 올라가고 내려오는데 총 18km 의 거리를 등산하는 데, 올라갈 때는 시속 3km 의 속력으로 걷고, 내려올 때는 시속 4km 의 속력으로 걸어서 5 시간 20 분이 걸렸다. 내려온 거리는?

① 4km

② 5.2km

③ $\frac{5}{6}$ km

④ 8km

⑤ 10km

해설

올라간 거리를 x km , 내려온 거리를 y km 라 하면

$$\begin{cases} x + y = 18 \\ \frac{x}{3} + \frac{y}{4} = 5\frac{1}{3} \end{cases} \Rightarrow \begin{cases} x + y = 18 \\ 4x + 3y = 64 \end{cases}$$

방정식을 풀면 $x = 10$, $y = 8$

\therefore 내려온 거리는 8km

59. 연립방정식 $\begin{cases} y = -2x + 2 \\ px + 3y = 9 \end{cases}$ 의 해가 $3x + y = 1$ 을 만족시킬 때, p 의 값을 구하여라.

▶ 답:

▷ 정답: 3

해설

$y = -2x + 2$ 를 $3x + y = 1$ 에 대입하면

$$3x + (-2x + 2) = 1 \text{에서}$$

$$x = -1, y = 2 + 2 = 4,$$

$x = -1, y = 4$ 를 $px + 3y = 9$ 에 대입하면

$$-p + 12 = 9$$

$$-p = -3$$

$$p = 3$$

60. 길동이는 도로를 따라 산책하려고 한다. 갈 때에는 시속 6km, 돌아올 때에는 시속 4km로 걸어서 2시간 이내로 산책을 끝내려면 길동이는 집으로부터 몇 km까지 산책할 수 있는가?

① 3km 이내

② 4km 이내

③ 4.8km 이내

④ 6.5km 이내

⑤ 7km 이내

해설

집으로부터 산책할 수 있는 거리를 x 라 하면

$$\frac{x}{6} + \frac{x}{4} \leq 2, 2x + 3x \leq 24$$

$$\therefore x \leq \frac{24}{5} \text{ (km)}$$

따라서 4.8km 이내에서 산책을 할 수 있다.

61. A 지점에서 3000 m 떨어진 B 지점까지 갈 때, 처음에는 1 분에 100 m의 속력으로 뛰어가다가 나중에는 1 분에 50 m의 속력으로 걸어서 40 분 이내에 도착하려고 한다. 뛰어간 거리에 해당되는 것을 모두 고르면?

① 300 m

② 500 m

③ 1000 m

④ 2000 m

⑤ 2500 m

해설

뛰어난 거리를 x 라고 하면

걸어간 거리는 $3000 - x$ 라 쓸 수 있다.

$\left(\frac{\text{거리}}{\text{속력}}\right) = (\text{시간})$ 이므로 식을 세우면

(뛰어난 시간) + (걸어간 시간) \leq (40분) 이므로

$$\frac{x}{100} + \frac{3000 - x}{50} \leq 40 \text{ 이라 쓸 수 있다.}$$

양변에 100 을 곱해 정리하면

$$x + 2(3000 - x) \leq 4000$$

$$\therefore x \geq 2000$$

\therefore 뛰어난 거리 : 2000 m 이상

63. 사다리꼴의 윗변의 길이와 아랫변의 길이는 각각 30cm, 20cm, 높이는 $(x+10)$ cm 이다. 이 사다리꼴의 넓이가 1500cm^2 이상이 되게 하려고 한다. x 의 값의 최솟값을 구하여라.

▶ 답 :

▶ 정답 : 50

해설

(사다리꼴의 넓이) =

$$\frac{1}{2} \times \{(\text{밑변의 길이}) + (\text{윗변의 길이})\} \times (\text{높이})$$

$$\frac{1}{2} \times (30 + 20) \times (x + 10) \geq 1500$$

$$25(x + 10) \geq 1500$$

$$x + 10 \geq 60$$

$$x \geq 50$$

x 의 최솟값은 50 이 된다.

64. 집 앞 가게에서 1봉지에 800 원에 살 수 있는 과자를 왕복 1000 원의 차비를 들여 대형마트에 가서 사면 1봉지에 600 원에 살 수 있다고 한다. 과자를 몇 봉지 이상 사는 경우에 대형마트에 가는 것이 유리한지 구하여라.

▶ 답: 봉지

▷ 정답: 6봉지

해설

과자 봉지를 x 라 할 때

$$800x > 600x + 1000$$

$$200x > 1000$$

$$x > 5$$

∴ 6봉지 이상

66. 500 원짜리 사과와 700 원짜리 오렌지를 사려고 한다. 사과를 오렌지보다 4 개 더 많이 사고 전체를 12000 원 이하로 산다면 오렌지는 최대 몇 개까지 살 수 있는지 구하여라.

▶ 답: 개

▷ 정답: 8 개

해설

오렌지를 x 개, 사과를 $x + 4$ 개 산다면

$$500(x + 4) + 700x \leq 12000$$

$$5(x + 4) + 7x \leq 120$$

$$12x \leq 100$$

$$\therefore x \leq \frac{25}{3}$$

67. 어떤 정수의 2 배에 3을 빼었더니 17 보다 큰 수가 되었다. 이와 같은 정수 중에서 가장 작은 수를 구하여라.

▶ 답:

▷ 정답: 11

해설

$$2x - 3 > 17$$

$$2x > 20$$

$$\therefore x > 10$$

따라서 $x > 10$ 을 만족하는 것 중 가장 작은 수는 11 이다.

68. 부등식 $-5x - a \leq -6x$ 를 만족하는 자연수 x 의 개수가 4개일 때, 상수 a 의 값의 범위는?

① $2 \leq a < 3$

② $3 \leq a < 4$

③ $4 \leq a < 5$

④ $5 \leq a < 6$

⑤ $6 \leq a < 7$

해설

$-5x - a \leq -6x$ 를 정리하면 $5x + a \geq 6x$, $x \leq a$

만족하는 범위 내의 자연수는 1, 2, 3, 4 뿐이어야 하므로 $4 \leq a < 5$ 이 되어야 한다.

69. 부등식 $6x - a \leq 3 + 4x$ 를 만족하는 자연수 x 의 개수가 4개일 때, 상수 a 의 값의 범위는?

① $5 < a < 7$

② $5 \leq a < 7$

③ $4 \leq a < 7$

④ $4 < a \leq 7$

⑤ $4 < a \leq 7$

해설

$$6x - a \leq 3 + 4x$$

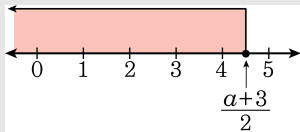
$$6x - 4x \leq 3 + a$$

$$2x \leq 3 + a$$

$$\therefore x \leq \frac{3+a}{2}$$

x 는 자연수이고, 개수가 4개이므로 x 가 될 수 있는 숫자는 1, 2, 3, 4이다.

$\frac{3+a}{2}$ 의 범위는 $4 \leq \frac{3+a}{2} < 5$ 이어야 하므로 $5 \leq a < 7$ 이다.



70. 부등식 $3x \leq 2x + a$ 를 만족하는 자연수 x 의 개수가 3개일 때, 상수 a 의 값의 범위를 구하여라.

▶ 답:

▷ 정답: $3 \leq a < 4$

해설

$3x \leq 2x + a$ 를 정리하면 $x \leq a$

만족하는 범위 내의 자연수는 1, 2, 3이므로

$3 \leq a < 4$ 가 되어야 한다.

71. $a < -3$ 일 때, $2a - (a + 3)x < -6$ 의 해를 구하면?

① $x < 0$

② $x < 1$

③ $x < 2$

④ $x > 1$

⑤ $x > 2$

해설

$$2a - (a + 3)x < -6$$

$$-(a + 3)x < -2a - 6$$

$$(a + 3)x > 2a + 6$$

$$\therefore x < 2 \quad (\because a + 3 < 0)$$

72. 다음 부등식을 풀 것으로 틀린 것을 모두 고르면? (정답 2개)

① $a > 0$ 일 때, $ax + 1 > 3 \Rightarrow x > \frac{2}{a}$

② $a > 0$ 일 때, $-ax + 2 > 4 \Rightarrow x < -\frac{2}{a}$

③ $a < 0$ 일 때, $-ax + 2 > 4 \Rightarrow x > \frac{2}{a}$

④ $a > 0$ 일 때, $-ax + 4 > 2 \Rightarrow x > \frac{2}{a}$

⑤ $a < 0$ 일 때, $-ax + 4 > 2 \Rightarrow x > \frac{2}{a}$

해설

③ $-ax + 2 > 4$

$$-ax > 2$$

$a < 0$ 이므로 $-a > 0$, 양변을 $-a$ 로 나누어도 부등호의 방향은 바뀌지 않는다.

$$\therefore x > -\frac{2}{a}$$

④ $-ax + 4 > 2$

$$-ax > -2$$

$a > 0$ 이므로 $-a < 0$, 양변을 $-a$ 로 나누어 주면 부등호의 방향이 바뀌어야 한다.

$$\therefore x < \frac{2}{a}$$

73. $a > 0$ 일 때, x 에 대한 일차부등식 $ax \geq -1$ 의 해는?

① $x \leq \frac{1}{a}$

② $x \geq \frac{1}{a}$

③ $x \leq -\frac{1}{a}$

④ $x \geq -\frac{1}{a}$

⑤ 해가 없다.

해설

$a > 0$ 이므로 양변을 나누어도 부등호의 방향은 바뀌지 않는다.

$$\therefore x \geq -\frac{1}{a}$$

74. $a > 0$ 일 때, $-ax < 2a$ 의 해를 구하여라.

▶ 답:

▷ 정답: $x > -2$

해설

$a > 0$ 이므로 $-a$ 로 양변을 나누면 부등호의 방향은 바뀐다.

$$\therefore x > -2$$

75. 일차부등식 $3x - \left(\frac{3x-3}{2}\right) \leq 3$ 을 만족시키는 가장 큰 정수를 구하여라.

▶ 답:

▷ 정답: 1

해설

$$3x - \left(\frac{3x-3}{2}\right) \leq 3$$

$$6x - (3x-3) \leq 6$$

$$3x \leq 3$$

따라서 $x \leq 1$ 이므로
만족하는 가장 큰 정수는 1 이다.

76. 앞마당에 있는 오리와 토끼를 본 영심이가 수를 세어보니 머리가 250 개, 다리가 710 개였다. 오리가 몇 마리인지 구하여라.

▶ 답: 마리

▷ 정답: 145 마리

해설

오리를 x 마리, 토끼를 y 마리라고 하면

$$\begin{cases} x + y = 250 \\ 2x + 4y = 710 \end{cases}$$

연립하여 풀면 $x = 145$, $y = 105$ 이다.

77. 해진이와 소희가 가게에서 감과 사과를 샀다. 해진은 감 2 개, 사과 1 개를 700 원에 샀고, 소희는 감 3 개와 사과 2 개를 1200 원에 샀다. 감 1 개의 값을 x 원, 사과 1 개의 값을 y 원이라고 할 때, $x + y$ 의 값은?

① 100

② 300

③ 500

④ 700

⑤ 900

해설

감 한 개의 가격을 x 원, 사과 한 개의 가격을 y 원이라고 하면

$$\begin{cases} 2x + y = 700 & \cdots(1) \\ 3x + 2y = 1200 & \cdots(2) \end{cases}$$

(1) $\times 2 -$ (2) 하면 $x = 200$

이를 (1)에 대입하면 $400 + y = 700$

$$y = 300$$

$$\therefore x + y = 200 + 300 = 500(\text{원})$$

78. 두 자리의 자연수가 있다. 십의 자리의 숫자와 일의 자리의 숫자의 합은 11이고, 십의 자리의 숫자와 일의 자리의 숫자를 바꾼 수는 처음 수보다 27만큼 커진다고 한다. 처음 수를 구하여라.

▶ 답:

▷ 정답: 47

해설

십의 자리의 숫자를 x , 일의 자리의 숫자를 y 라고 하면

$$\begin{cases} x + y = 11 \\ 10y + x = 10x + y + 27 \end{cases}$$

$$\Rightarrow \begin{cases} x + y = 11 & \cdots \textcircled{A} \\ x - y = -3 & \cdots \textcircled{B} \end{cases} \text{에서}$$

\textcircled{A} , \textcircled{B} 을 연립하여 풀면 $x = 4$, $y = 7$ 이다.
처음 수는 47이다.

79. 연립방정식 $\begin{cases} 4x - y = 6 \\ x : y = 3 : 2 \end{cases}$ 에서 x 의 값을 구하여라.

① $\frac{1}{5}$

② $\frac{3}{5}$

③ 1

④ $\frac{7}{5}$

⑤ $\frac{9}{5}$

해설

$$\begin{cases} 4x - y = 6 & \dots \text{①} \\ 3y = 2x & \dots \text{②} \end{cases}$$

② $\times 2$ 를 ①에 대입하면

$$5y = 6$$

$$\therefore y = \frac{6}{5}, x = \frac{9}{5}$$

80. 연립방정식 $\begin{cases} 0.4x - 0.5y = 10 \\ \frac{x}{2} + \frac{y}{3} = 1 \end{cases}$ 의 해가 $x = a, y = b$ 일 때, $a + b$

의 값은?

① 10

② -10

③ 4

④ -4

⑤ -2

해설

$$\begin{cases} 0.4x - 0.5y = 10 & \dots \textcircled{㉠} \\ \frac{x}{2} + \frac{y}{3} = 1 & \dots \textcircled{㉡} \end{cases} \text{에서 } \textcircled{㉠} \times 10, \textcircled{㉡} \times 6 \text{ 을 하면}$$

$$\begin{cases} 4x - 5y = 100 & \dots \textcircled{㉢} \\ 3x + 2y = 6 & \dots \textcircled{㉣} \end{cases} \text{에서 } \textcircled{㉢} \times 2 + \textcircled{㉣} \times 5 \text{ 를 하면}$$

$$8x - 10y = 200$$

$$+) \underline{15x + 10y = 30}$$

$$23x = 230$$

$$\therefore x = 10, y = -12$$

$$\text{따라서, } 10 + (-12) = -2$$

81. 연립방정식 $\begin{cases} 2x - y = 6 \\ 15x - 16 + y = 3(x - y) \end{cases}$ 의 해는?

① $x = 1, y = 1$

② $x = 1, y = -1$

③ $x = 2, y = 2$

④ $x = 2, y = -2$

⑤ $x = -2, y = -2$

해설

$$\begin{cases} 2x - y = 6 & \dots \textcircled{㉠} \\ 15x - 16 + y = 3(x - y) & \dots \textcircled{㉡} \end{cases}$$

㉠, ㉡식을 정리하면

$$y = 2x - 6 \dots \textcircled{㉢}, 3x + y = 4 \dots \textcircled{㉣}$$

㉢을 ㉣에 대입하면

$$3x + (2x - 6) = 4, x = 2$$

$$x = 2 \text{를 } \textcircled{㉢} \text{식에 대입하여 } y = -2$$

$$\therefore x = 2, y = -2$$

82. 연립방정식 $\begin{cases} ax - 5y = 10 \\ -\frac{x}{5} + \frac{y}{2} = 2 \end{cases}$ 의 해가 $x = 5$, $y = b$ 일 때, $a - 2b$ 의

값을 구하여라.

▶ 답:

▶ 정답: $a - b = -4$

해설

$$-\frac{x}{5} + \frac{y}{2} = 2 \text{ 에 } x = 5 \text{ 를 대입하면 } -1 + \frac{y}{2} = 2$$

$$\therefore y = 6 = b$$

$x = 5$, $y = 6$ 을 $ax - 5y = 10$ 에 대입하면

$$5a - 30 = 10$$

$$5a = 40$$

$$a = 8$$

$$\therefore a - 2b = 8 - 2 \times 6 = -4$$

83. 연립방정식 $\begin{cases} \frac{1}{x} + \frac{1}{y} = 5 \\ \frac{x}{2} + \frac{y}{3} = 13 \end{cases}$ 을 풀어라.

▶ 답:

▶ 답:

▷ 정답: $x = \frac{1}{2}$ 또는 0.5

▷ 정답: $y = \frac{1}{3}$

해설

$$\begin{cases} \frac{1}{x} + \frac{1}{y} = 5 & \dots \textcircled{1} \\ \frac{x}{2} + \frac{y}{3} = 13 & \dots \textcircled{2} \end{cases}$$

으로 놓고 ①×2 - ②를 하면

$$-\frac{1}{y} = -3, y = \frac{1}{3}, x = \frac{1}{2}$$

84. 가로와 세로의 길이가 5cm 더 긴 직사각형이 있다. 둘레의 길이가 18cm 일 때, 이 직사각형의 세로의 길이를 x cm, 가로의 길이를 y cm 라 한다면, x 와 y 사이의 관계를 연립방정식으로 나타낸 것은?

$$\textcircled{1} \begin{cases} x = y + 5 \\ 2x + y = 18 \end{cases}$$

$$\textcircled{3} \begin{cases} x = y + 5 \\ x + y = 18 \end{cases}$$

$$\textcircled{5} \begin{cases} y = x + 5 \\ x + y = 18 \end{cases}$$

$$\textcircled{2} \begin{cases} x = y + 5 \\ 2(x + y) = 18 \end{cases}$$

$$\textcircled{4} \begin{cases} y = x + 5 \\ 2(x + y) = 18 \end{cases}$$

해설

$$\begin{cases} y = x + 5 \\ 2(x + y) = 18 \end{cases}$$

85. 순서쌍 $(a, a+1)$ 이 $5x - 2y + 8 = 0$ 의 한 해일 때, 상수 a 의 값은?

① -3

② -2

③ -1

④ 1

⑤ 2

해설

$x = a, y = a + 1$ 을 주어진 식에 대입하면 $5a - 2(a + 1) + 8 = 0$

$$3a = -6$$

$$\therefore a = -2$$

86. 다음 부등식 중 $x = 4$ 일 때, 참인 것은?

- ① $-x + 4 > -3$ ② $-3x \geq -x - 3$ ③ $-2x + 3 \geq -2$
④ $x - 3 < -1$ ⑤ $2x + 1 < x + 4$

해설

$x = 4$ 를 대입하여 부등식이 성립하는 것이 참이다.

- ① $0 > -3 \quad \therefore$ 참
② $-12 \geq -7 \quad \therefore$ 거짓
③ $-5 \geq -2 \quad \therefore$ 거짓
④ $1 < -1 \quad \therefore$ 거짓
⑤ $9 < 8 \quad \therefore$ 거짓

87. 다음 중 부등호를 사용하여 나타낸 식이 옳지 않은 것은?

① x 는 $2x + 5$ 보다 크다. $\Rightarrow x > 2x + 5$

② x 와 -6 의 곱은 양수이다. $\Rightarrow -6x > 0$

③ x 와 12 의 합은 -2 이하이다. $\Rightarrow x + 12 \leq -2$

④ x 와 2 의 합의 4 배는 0 이거나 음수이다 $\Rightarrow 4(x + 2) \leq 0$

⑤ x 와 $x + 3$ 의 합은 9 이상이다. $\Rightarrow x + (x + 3) > 9$

해설

⑤ $x + (x + 3) \geq 9$