

1. 나눗셈의 몫을 분수로 나타내시오.

$$24 \div 13$$

- ① $\frac{13}{24}$ ② $\frac{12}{13}$ ③ $1\frac{9}{13}$ ④ $1\frac{11}{13}$ ⑤ $2\frac{7}{13}$

2. 다음 중 계산을 바르게 한 것을 고르시오.

① $8 \div 3 = 2\frac{2}{3}$

② $\frac{3}{5} \div 2 = 1\frac{1}{5}$

③ $11 \div 14 = \frac{14}{11}$

④ $3 \div 5 = 1\frac{2}{3}$

⑤ $\frac{4}{7} \div 5 = \frac{5}{9}$

3. 안에 알맞은 수를 차례대로 써넣으시오.

$$1\frac{3}{7} \div 2 \div 5 = \left(\frac{\square}{7} \times \frac{1}{\square} \right) \div 5 = \frac{\square}{7} \times \frac{1}{\square} = \frac{1}{7}$$

▶ 답: _____

▶ 답: _____

▶ 답: _____

▶ 답: _____

4. 길이가 $7\frac{3}{5}$ cm 인 철사를 모두 사용하여 크기가 똑같은 정삼각형 모양 2 개를 만들었습니다. 정삼각형의 한 변의 길이는 몇 cm 인지 구하십시오.

① $1\frac{1}{15}$ cm

② $1\frac{2}{15}$ cm

③ $1\frac{4}{15}$ cm

④ $1\frac{7}{15}$ cm

⑤ $1\frac{8}{15}$ cm

5. 다음 중 각기둥에 대해 잘못 말한 것은 어느 것인지 고르시오.

- ① 밑면과 옆면은 수평입니다.
- ② 옆면은 직사각형이다.
- ③ 두 밑면끼리는 평행합니다.
- ④ 모서리의 수는 밑면의 변의 수의 3 배입니다.
- ⑤ 옆면의 수는 밑면의 모양에 따라 달라집니다.

6. 다음 중 모서리의 개수가 가장 적은 입체도형은 어느 것인지 고르시오.

① 팔각기둥

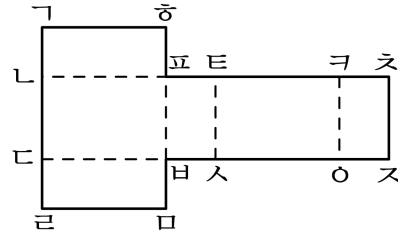
② 삼각뿔

③ 삼각기둥

④ 십삼각뿔

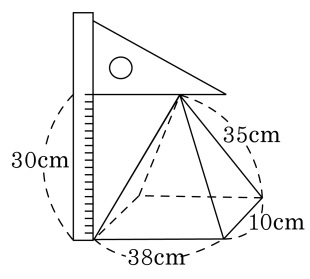
⑤ 십오각기둥

7. 다음은 사각기둥의 전개도입니다. 점 ㉑과 겹쳐지는 점은 어느 것입니까?



- ① 점 ㉒ ② 점 ㉓ ③ 점 ㉔ ④ 점 ㉙ ⑤ 점 ㉚

8. 각뿔의 높이는 몇 cm인지 구하시오.



▶ 답: _____ cm

9. 각꼴의 구성요소에 대한 식으로 틀린 것을 고르시오.

① (모서리의 수)=(밑면의 변의 수)+1

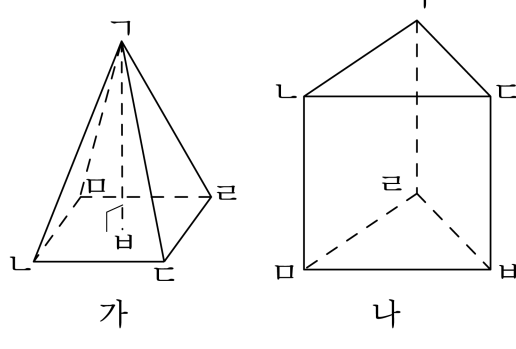
② (옆면의 수)=(밑면의 변의 수)

③ (면의 수)=(꼭짓점의 수)

④ (꼭짓점의 수)=(밑면의 변의 수)+1

⑤ (밑면의 수) = 1

10. 입체도형 가의 선분 ΓB 에 해당하는 것을 입체도형 나에서 모두 찾아 쓰시오.



- ① 선분 ΓL ② 선분 ΓC ③ 선분 LM
 ④ 선분 MB ⑤ 선분 CB

11. 안에 알맞은 수를 찾아 기호를 써넣으시오.

$$2 \div 5 = 2 \times \boxed{}$$

- $\frac{1}{5}$ $\frac{1}{4}$ $\frac{1}{7}$ $\frac{1}{3}$

답: _____

12. 나눗셈을 하시오.

$$\frac{9}{5} \div 21$$

① $\frac{1}{35}$

② $\frac{2}{35}$

③ $\frac{3}{35}$

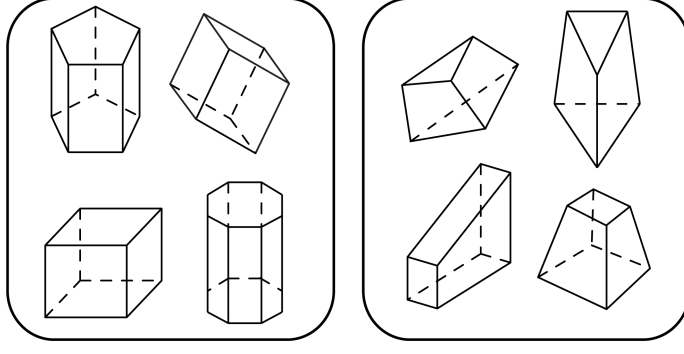
④ $\frac{4}{35}$

⑤ $\frac{6}{35}$

13. 어떤 수를 3 으로 나누어야 할 것을 5 로 나누었더니 $1\frac{1}{20}$ 이 되었습니다. 바르게 계산한 답은 얼마인지 구하시오.

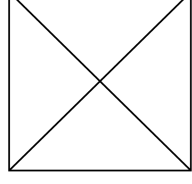
- ① $1\frac{3}{4}$ ② $2\frac{1}{4}$ ③ $3\frac{3}{4}$ ④ $5\frac{1}{4}$ ⑤ 7

14. 다음은 어떤 기준에 의해 도형들을 분류한 것입니다. 이 기준은 무엇인지 고르시오.

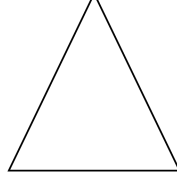


- ① 각기둥과 각뿔
- ② 입체도형과 각기둥
- ③ 입체도형과 각뿔
- ④ 원기둥과 각기둥
- ⑤ 각기둥과 각기둥이 아닌 것

15. 다음 그림은 어떤 입체도형을 위와 옆에서 본 모양입니다. 이 도형의 설명으로 바른 것은 어느 것인지 고르시오.



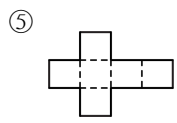
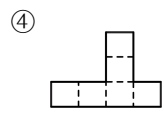
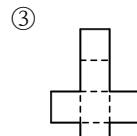
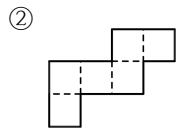
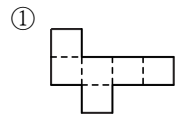
(위)



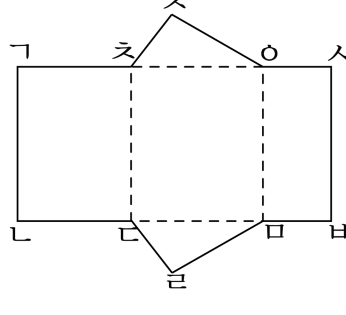
(옆)

- ① 면의 수는 6개입니다.
- ② 모서리의 수는 7개입니다.
- ③ 면의 수+모서리의 수= 16
- ④ 사각기둥입니다.
- ⑤ 모서리의 수 - 꼭짓점의 수= 3

16. 다음 중 사각기둥의 전개도가 아닌 것은 어느 것인지 고르시오.

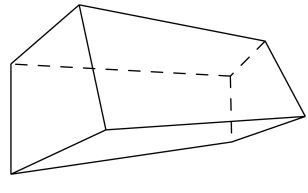


17. 다음 각기둥의 전개도는 잘못된 것입니다. 잘못된 이유를 모두 고르시오.



- ① 높이가 모두 다릅니다.
- ② 변 ㄴㄷ과 변 ㄷㅁ의 길이가 다릅니다.
- ③ 변 ㄱㄷ과 변 ㄷㅁ의 길이가 같습니다.
- ④ 각기둥을 이루고 있는 면의 개수가 5개입니다.
- ⑤ 변 ㄴㅁ과 변 ㅁㅂ의 길이가 다릅니다.

18. 다음 입체도형을 각뿔이라고 할 수 없는 이유를 모두 고르시오.

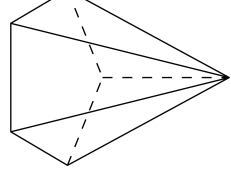


- ① 밑면이 한 개가 아닙니다.
- ② 꼭짓점이 4개입니다.
- ③ 모서리가 10개입니다.
- ④ 옆면이 삼각형이 아닙니다.
- ⑤ 면의 수가 8개입니다.

19. 다음 중 각뿔의 옆면의 모양으로 알맞은 것은 어느 것입니까?

- ① 삼각형 ② 사각형 ③ 오각형
- ④ 육각형 ⑤ 칠각형

20. 다음 각꼴의 면, 꼭짓점, 모서리의 수 중에서 가장 많은 것은 어느 것인지 쓰시오.



▶ 답: _____


21. 이십사각뿔의 면의 수, 꼭짓점의 수, 모서리의 수를 각각 구하여 차례대로 쓰시오.

▶ 답: _____ 개

▶ 답: _____ 개

▶ 답: _____ 개

22. 어느 각뿔의 꼭짓점의 수와 모서리의 수를 합하였더니 25였습니다. 각뿔의 이름을 말하시오.

 답: _____

23. 어떤 각뿔의 모서리의 수를 세어 보니 24개였습니다. 이 각뿔의 이름은 무엇인지 구하시오.

▶ 답: _____

24. 다음 중 몫이 가장 큰 것은 어느 것입니까?

① $3\frac{1}{4} \div 6$

② $5\frac{1}{6} \div 6$

③ $1\frac{6}{7} \div 3$

④ $4\frac{2}{5} \div 5$

⑤ $2\frac{5}{8} \div 6$

25. 직선거리로 $4\frac{2}{7}$ km 인 도로에 일정한 간격으로 7 개의 교통 표지판을 설치하려고 합니다. 표지판의 간격은 몇 km 으로 해야 하나까? (단, 도로의 양 끝에 반드시 표지판을 설치해야 합니다.)

① $\frac{1}{7}$ km

② $\frac{3}{7}$ km


③ $\frac{5}{7}$ km

④ $1\frac{1}{7}$ km

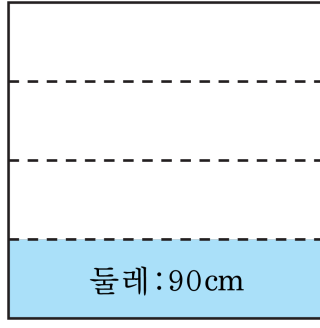
⑤ $1\frac{2}{7}$ km

26. 다음을 계산하여 기약분수로 나타낼 때, 분자끼리의 합을 구하시오.

$\textcircled{\text{㉠}} \frac{5}{9} \times 12 \div 8$	$\textcircled{\text{㉡}} 2\frac{1}{10} \times 14 \div 6$
---	---

 답: _____

27. 다음 그림과 같이 정사각형을 합동인 4 개의 직사각형으로 나누었습니다. 색칠한 직사각형의 둘레가 90 cm 라면, 정사각형의 둘레는 몇 cm 인지 구하시오.



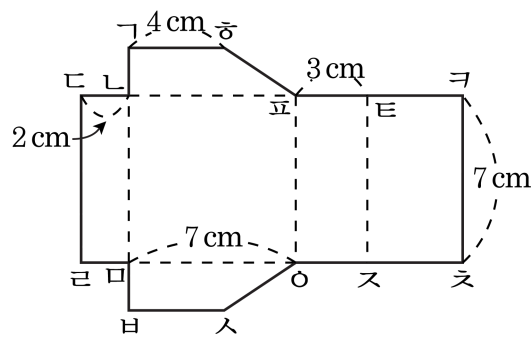
▶ 답: _____ cm

28. 다음을 계산하여보고 답이 가장 큰 것을 고르시오.

㉠ $\frac{1}{3} \times 7 \div 5$	㉡ $\frac{3}{8} \times 5 \div 4$	㉢ $1\frac{2}{7} \times 3 \div 8$
㉣ $2\frac{3}{4} \times 5 \div 7$	㉤ $1\frac{2}{9} \times 4 \div 3$	㉥ $3\frac{1}{6} \times 5 \div 11$

▶ 답: _____

29. 어떤 입체도형의 전개도가 다음 그림과 같을 때, 전개도를 이용해서 만든 입체도형의 두 밑면의 넓이의 합을 구하시오.



▶ 답: _____ cm^2

30. 다음 각기둥의 이름은 무엇입니까?

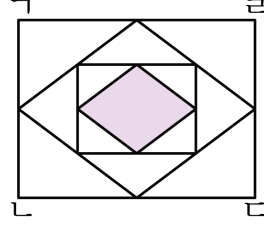
$$(꼭짓점 수) + (모서리 수) + (면의 수) = 38$$

- ① 삼각기둥 ② 사각기둥 ③ 오각기둥
④ 육각기둥 ⑤ 칠각기둥

31. 사과를 수확하는 데 3 명이 5 일 동안 전체 일의 $\frac{1}{4}$ 을 하였다면 앞으로 며칠을 더 일해야 끝낼 수 있는지 구하시오.

▶ 답: _____ 일

32. 다음 직사각형 ABCD의 넓이는 $8\frac{4}{5} \text{ cm}^2$ 입니다. 그림과 같이 각 변의 가운데를 연결하여 사각형을 만들어 나갈 때, 색칠한 사각형의 넓이를 구하시오.



▶ 답: _____

33. 어떤 수에서 $2\frac{3}{5}$ 을 뺀 후 10 을 곱했더니 $30\frac{1}{3}$ 이 되었습니다. 어떤 수를 구하면 자연수 부분은 얼마인지 구하시오.

▶ 답: _____