

1. 다음을 보기와 같이 나타내시오.

보기

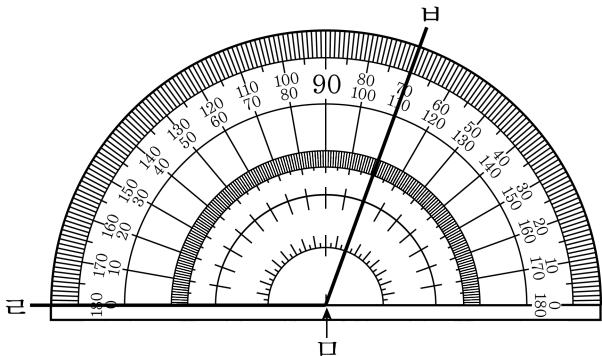
삼천오백칠십억 이천일만 사백일  
⇒ 3570억 2001만 401

→ 오천이백이십팔억 삼천칠백사십육만 육천삼백삼십칠



답: \_\_\_\_\_

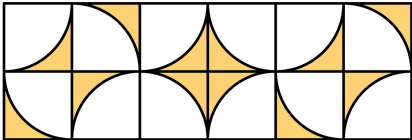
2. 각 크기를 읽어 보시오.



답: \_\_\_\_\_

°

3. 오른쪽 무늬는 왼쪽 무늬를 어떻게 하여 만든 것입니까?



답: \_\_\_\_\_

4.  안에 알맞은 수를 써 넣은 것은 어느 것입니까?

10000은

- 9000보다  큰 수
- 9900보다  큰 수
- 9990보다  큰 수
- 9999보다  큰 수

① 1000.10.100.1

② 10000.1000.100.1

③ 1.10.100.1000

④ 1000, 100, 10, 1

⑤ 10000, 1000, 100, 10

5. 계산결과가 바르게 짝지어진 것은 어느 것인지 고르시오.

①  $273 \times 36$  • ㉠ 11430

②  $187 \times 54$  • ㉡ 10098

③  $635 \times 18$  • ㉢ 9828

① ①-㉠, ②-㉡, ③-㉢

② ①-㉠, ②-㉢, ③-㉡

③ ①-㉡, ②-㉠, ③-㉢

④ ①-㉢, ②-㉠, ③-㉡

⑤ ①-㉢, ②-㉡, ③-㉠

6. 나머지가 같은 식끼리 연결한 것은 어느 것입니까?

(1)  $152 \div 20$  •      • ㉠  $136 \div 30$

(2)  $322 \div 90$  •      • ㉡  $532 \div 60$

(3)  $176 \div 40$  •      • ㉢  $492 \div 80$

① (1)-㉠, (2)-㉡, (3)-㉢

② (1)-㉡, (2)-㉢, (3)-㉠


③ (1)-㉠, (2)-㉢, (3)-㉡

④ (1)-㉡, (2)-㉠, (3)-㉢

⑤ (1)-㉢, (2)-㉡, (3)-㉠

7. 광일이네 학교 4학년 학생 중 영어 말하기 대회에 참가한 반별 학생 수를 조사하여 나타낸 막대 그래프입니다.

〈영어 말하기 대회에 참가한 반별 학생 수〉



영어 말하기 대회에 참가한 학생 수가 가장 많은 반부터 차례대로 쓰면 어느 것입니까?

- ① 4반-1반-3반-2반                      ② 4반-2반-1반-3반  
 ③ 1반-3반-2반-4반                      ④ 1반-2반-3반-4반  
 ⑤ 3반-2반-1반-4반

8. 몫의 크기를 비교하여 ○ 안에 >, < 를 알맞게 써넣으시오.

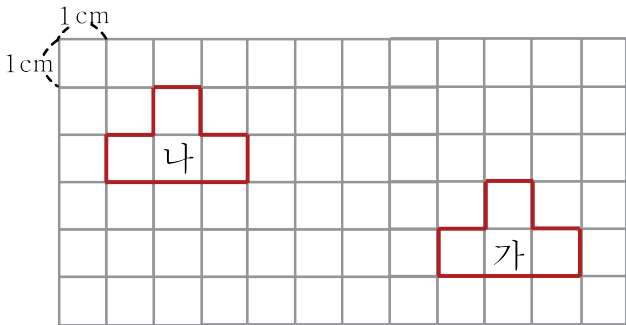
$$680 \div 40 \bigcirc 750 \div 50$$



답: \_\_\_\_\_

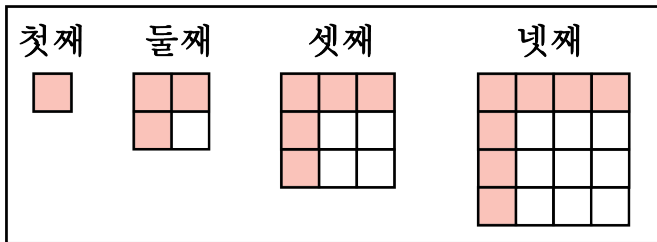


9. 가 도형에 대한 설명으로 옳은 것은 어느 것입니까?



- ① 나 도형을 오른쪽으로 4 cm 민 도형입니다.
- ② 나 도형을 아래쪽으로 2 cm 민 도형입니다.
- ③ 나 도형을 오른쪽으로 4 cm, 아래쪽으로 2 cm 민 도형입니다.
- ④ 나 도형을 오른쪽으로 7 cm, 아래쪽으로 2 cm 민 도형입니다.
- ⑤ 나 도형을 왼쪽으로 7 cm, 위쪽으로 4 cm 민 도형입니다.

10. 도형의 배열에 대한 설명 중 옳지 않은 것은 어느 것입니까?



- ① 둘째 도형의 빨간색 사각형은 3개입니다.
- ② 넷째 도형의 흰색 사각형은 9개입니다.
- ③ 빨간색 사각형은 1개에서 시작하여 2개씩 늘어납니다.
- ④ 흰색 사각형은 1개에서 시작하여 2개, 3개, 4개, ...씩 늘어납니다.
- ⑤ 여덟째 도형의 빨간색 사각형은 15개입니다.