

1. 사각형의 네 각의 크기의 합과 같은 것은 어느 것인지 고르시오.

① 180°

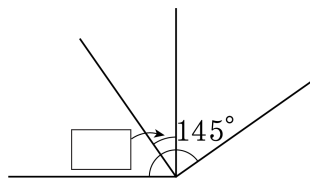
② 4 직각

③ 2 직각

④ 1 직각

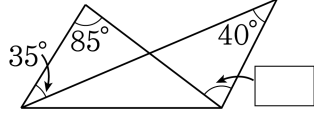
⑤ 3 직각

2. 다음은 2 개의 직각을 포개놓은 모양입니다. 안에 알맞은 각의 크기는 몇 도인지 고르시오.



- ① 15° ② 25° ③ 35° ④ 45° ⑤ 55°

3. 다음 그림에서 안에 알맞은 각도는 얼마입니까?



- ① 35° ② 40° ③ 50° ④ 75° ⑤ 80°

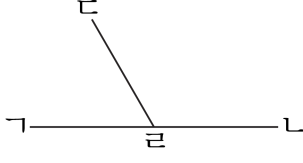
4. 다음 중 시계의 시침과 분침이 이루는 작은 각이 예각인 시각은 어느 것입니까?

- ① 5시 ② 8시 ③ 9시 ④ 10시 ⑤ 6시

5. 시계의 시침과 분침이 이루는 작은 쪽의 각이 예각인 것은 어느 것입니까?

- ① 1시 ② 4시 ③ 5시 ④ 8시 ⑤ 9시

6. 다음 그림을 보고 1 직각보다 크고, 2 직각보다 작은 각은 어느 것인지 고르시오.



- ① 각 b라c ② 각 가라c ③ 각 나라c
④ 각 다라a ⑤ 각 가다a

7. 주어진 식이 참이 되게 하는 □안에 알맞은 한 자리의 숫자는 모두 몇 개입니까?

$$2674556008 < 26745 \square 7023$$

- ① 3개 ② 4개 ③ 5개 ④ 6개 ⑤ 7개

8. 다음을 가장 작은 수부터 차례로 번호를 쓴 것은 어느 것입니까?

㉠ 132만의 100배	㉡ 10억 7200만의 $\frac{1}{10}$
㉢ 12만 5001의 1000배	㉣ 91억 670만의 $\frac{1}{1000}$

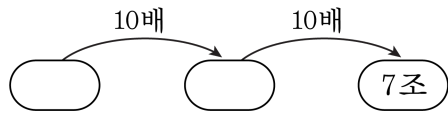
- ① ㉡, ㉢, ㉣, ㉠ ② ㉡, ㉣, ㉢, ㉠ ③ ㉠, ㉣, ㉢, ㉡
④ ㉢, ㉣, ㉠, ㉡ ⑤ ㉡, ㉠, ㉢, ㉣

9. 다음을 가장 큰 수부터 차례로 나타낸 것은 어느 것입니까?

㉠ 235만의 100배	㉡ 6억 7200만의 $\frac{1}{100}$
㉢ 38만 5001의 1000배	㉣ 41억 6700만의 $\frac{1}{1000}$

- ① ㉠, ㉢, ㉡, ㉣ ② ㉢, ㉠, ㉣, ㉡ ③ ㉠, ㉢, ㉣, ㉡
- ④ ㉠, ㉡, ㉢, ㉣ ⑤ ㉢, ㉠, ㉡, ㉣

10. 빈 곳에 알맞은 수를 차례대로 고른 것은 어느 것입니까?



- ① 70억, 7000억 ② 70억, 700억 ③ 700억, 7000억
④ 7억, 700억 ⑤ 7억, 70억

11. 숫자 카드 1, 2, 3, 4, 5가 있습니다. 이 숫자 카드를 한 번씩만 써서 가장 큰 수를 만들 때, 숫자 3이 나타내는 수는 얼마입니까?

① 3000

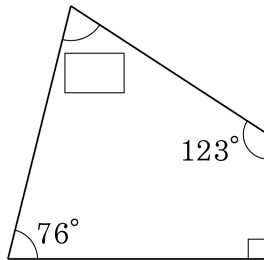
② 30

③ 3

④ 300

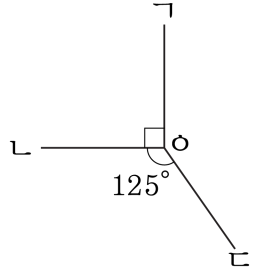
⑤ 30000

12. 안에 알맞은 각도를 고르시오.



- ① 69° ② 71° ③ 70° ④ 82° ⑤ 92°

13. 다음 그림에서 각 $\angle \text{BOC}$ 의 크기는 몇 도인지 고르시오.



- ① 125° ② 130° ③ 135° ④ 145° ⑤ 155°

14. 다음 각도 중 가장 큰 것은 어느 것입니까?

- ① $120^\circ + 35^\circ$ ② 2직각 $+15^\circ$ ③ $45^\circ + 175^\circ$
④ 3직각 -95° ⑤ 2직각 -70°

15. 각도가 가장 큰 것은 어느 것인지 고르시오.

- ① $40^\circ + 75^\circ$ ② $25^\circ + 80^\circ$ ③ $195^\circ - 50^\circ$
④ 1 직각 $+15^\circ$ ⑤ 2 직각 -55°

16. 다음 시각 중 시침과 분침이 이루는 작은 각이 예각인 것은 어느 것입니까?

- ① 11시20분 ② 9시10분 ③ 5시5분
④ 1시30분 ⑤ 4시30분

17. 다음 중 예각을 모두 고르시오.

① $55^\circ + 45^\circ$

② 89°

③ 2직각 -105°

④ 48°

⑤ 91°

19. 안에 0에서 9까지 어느 숫자를 넣어도 됩니다. 두 수의 크기를 비교하여 ○안에 >, =, <를 알맞게 넣은 것은 어느 것입니까?

(1) $689\text{□}51340 \bigcirc 680\text{□}243810$

(2) $898\text{□}3\text{□}6748621 \bigcirc 8\text{□}7654\text{□}3213\text{□}1$

- ① <, < ② <, > ③ <, = ④ >, = ⑤ >, >

20. 안에는 모든 한 자리의 수가 들어갈 수 있습니다. 가장 큰 수부터 차례로 기호를 쓴 것을 고르시오.

㉠ 620 <input type="text"/> 43 <input type="text"/> 67328	㉡ 62 <input type="text"/> 5 <input type="text"/> 7049 <input type="text"/> 35
㉢ 62 <input type="text"/> 4868 <input type="text"/> 3509	

- ① ㉠, ㉢, ㉡ ② ㉢, ㉠, ㉡ ③ ㉢, ㉡, ㉠
④ ㉡, ㉢, ㉠ ⑤ ㉡, ㉠, ㉢

21. 안에는 모든 한 자리의 수가 들어갈 수 있습니다. 가장 작은 수부터 차례로 쓴 것을 고르시오.

㉠ 457 <input type="text"/> 3 <input type="text"/> 724 <input type="text"/> 62	㉡ 45702 <input type="text"/> 85 <input type="text"/> <input type="text"/> 19
㉢ 457 <input type="text"/> 68 <input type="text"/> 327 <input type="text"/> 5	

- ① ㉠, ㉢, ㉡ ② ㉢, ㉠, ㉡ ③ ㉢, ㉡, ㉠
④ ㉡, ㉢, ㉠ ⑤ ㉡, ㉠, ㉢

22. 다음을 큰 수부터 차례로 기호를 쓴 것은 어느 것입니까? (안에는 0 에서 9 까지 어느 수를 넣어도 됩니다.)

㉠	<input type="text"/> 15332 <input type="text"/> <input type="text"/> 32	㉡	93 <input type="text"/> 64 <input type="text"/> 2542
㉢	92 <input type="text"/> 764 <input type="text"/> 640		

- ① ㉠, ㉢, ㉣ ② ㉠, ㉣, ㉤ ③ ㉣, ㉡, ㉤
 ④ ㉢, ㉡, ㉣ ⑤ ㉣, ㉢, ㉡

23. 지은이는 0부터 6까지의 숫자를 2번씩 사용하여 만들 수 있는 열 네자리 수 중 가장 큰 수를 만들었습니다.

지은이가 만든 수에서 일조의 자리 숫자는 얼마입니까?

- ① 2 ② 3 ③ 4 ④ 5 ⑤ 6

24. 만 원짜리 지폐 100장의 두께는 약 9cm라고 합니다. 1조 원을 만 원짜리 지폐로 쌓았을 때의 높이는 어느 것입니까?

① 약 9m

② 약 90m

③ 약 900m




④ 약 9km

⑤ 약 90km

25. 28430000000 에서 숫자 8 이 나타내는 수는 8130 에서 숫자 8 이 나타내는 수의 몇 배입니까?

- ① 10 배 ② 100 만 배 ③ 1000 배
④ 1 억 배 ⑤ 1000 만 배

26. 상희의 아버지는 중고차의 가격을 알아보았습니다. 가격을 비교하여 에 알맞은 수를 순서대로 쓴 것을 고르시오.

(가)	(나)	(다)
		
9400000원	12750000원	11950000원

(1) (가) 자동차의 가격은 자리 수이고 (나) 자동차의 가격은 자리 수이므로, 자동차가 더 비쌉니다.
 (2) (나) 자동차와 (다) 자동차의 가격은 모두 자리 수입니다. 하지만 위의 자리부터 비교하면, 자동차가 만의 자리 숫자가 더 크므로 더 비쌉니다.

- ① (1) 7, 8, 가 (2) 8, 나, 백 ② (1) 7, 8, 나 (2) 8, 다, 십
 ③ (1) 7, 8, 나 (2) 8, 나, 백 ④ (1) 7, 9, 나 (2) 9, 나, 백
 ⑤ (1) 7, 9, 나 (2) 9, 나, 십

27. 다음 중 8이 나타내는 수가 가장 큰 것은 어느 것인가?

① 8945억

② 4120조 8백억 4950만

③ 8675369000

④ 38723104750000

⑤ 3217895416000000

28. 다음의 수가 1조가 되도록 안에 알맞은 수를 차례대로 쓴 것은 어느 것입니까?

1조 → 9000억+	<input type="text"/>
1조 → 1000억의	<input type="text"/> 배
1조 → 1억의	<input type="text"/> 배

- ① (1) 100억 (2) 10 (3) 10000
- ② (1) 1000억 (2) 10 (3) 10000
- ③ (1) 1000억 (2) 100 (3) 10000
- ④ (1) 1000억 (2) 10 (3) 1000
- ⑤ (1) 1000억 (2) 100 (3) 1000

29. 다음 중 숫자 5 가 나타내는 수가 가장 큰 것은 어느 것입니까?

- ① 82 억 5 ② 4356000000 ③ 173 억 4560 만
④ 30850000000 ⑤ 15 억 2800 만

30. 다음 수 중에서 7이 나타내는 수가 가장 큰 것은 어느 것입니까?

① 487293

② 6698732

③ 733495

④ 12359876

⑤ 5988675

31. 다음 ()에 바르게 답한 것을 고르면 어느 것입니까?

(1) 100원짜리 동전이 10개씩 12묶음 있습니다.
모두 얼마입니까? → ()원
(2) 100원짜리 동전이 10개씩 16묶음 있습니다.
모두 얼마입니까? → ()원

① (1) 1200 (2) 16000

② (1) 12000 (2) 1600

③ (1) 12000 (2) 16000

④ (1) 120000 (2) 160000

⑤ (1) 12000 (2) 160000

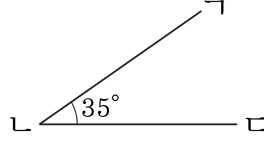
32. 다음 설명 중 잘못된 것은 어느 것입니까?

- ① 1° 는 1 직각을 똑같이 90 으로 나눈 하나입니다.
- ② $100^\circ + 90^\circ = 2$ 직각
- ③ 4 직각 = 360°
- ④ $270^\circ = 3$ 직각
- ⑤ 35 도 = 35°

33. 다음 중에서 삼각형의 세 각의 크기의 합에 대하여 바르게 설명한 것을 고르시오.

- ① 직각삼각형만 세 각의 크기의 합이 같습니다.
- ② 삼각형의 모양에 따라 세 각의 크기의 합은 다릅니다.
- ③ 삼각형의 세 각의 크기의 합은 180° 입니다.
- ④ 삼각형의 세 각의 크기의 합은 100° 에서 180° 사이입니다.
- ⑤ 삼각형의 세 각의 크기의 합은 100° 입니다.

34. 다음은 각도기를 이용하여 35° 인 각 $\angle ABC$ 를 그리는 방법입니다. 순서대로 기호를 쓴 것은 어느 것입니까?



- ㉠ 각도기의 밑금을 변 BC 에 맞춥니다.
 ㉡ 각도기에서 35° 가 되는 눈금 위에 점 A 를 찍습니다.
 ㉢ 각의 한 변 BC 을 긁습니다.
 ㉣ 각도기의 중심을 각의 꼭짓점이 될 점 B 에 맞춥니다.
 ㉤ 점 A 과 점 B 을 이어 각의 다른 한 변 BA 을 긁습니다.

① ㉢, ㉡, ㉣, ㉠, ㉤

② ㉢, ㉠, ㉣, ㉡, ㉤

③ ㉢, ㉡, ㉠, ㉣, ㉤

④ ㉡, ㉢, ㉠, ㉣, ㉤

⑤ ㉡, ㉠, ㉢, ㉣, ㉤

35. 시계에서 시침과 분침이 이루는 작은 각이 예각인 것은 어느 것입니까?

① 3시 45분

② 5시 40분

③ 2시 48분

④ 4시 55분

⑤ 7시 10분

36. 예각, 직각, 둔각의 크기를 서로 비교한 것입니다. 크기를 바르게 비교한 것은 어느 것입니까?

① 예각 < 둔각 < 직각

② 예각 < 직각 < 둔각

③ 둔각 < 직각 < 예각

④ 둔각 < 예각 < 직각

⑤ 직각 < 예각 < 둔각

37. 안에 들어갈 각도가 예각인 것을 모두 찾아 기호를 쓴 것은 어느 것입니까?

$\text{㉠ } 70 + \square = 105^\circ$	$\text{㉡ } \square + 25^\circ = 115^\circ$
$\text{㉢ } \square - 45^\circ = 60^\circ$	$\text{㉣ } 160^\circ - \square = 90^\circ$

① ㉠, ㉡, ㉣

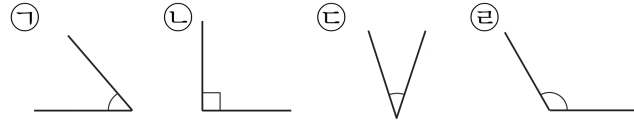
② ㉠, ㉣

③ ㉠

④ ㉡, ㉣

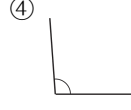
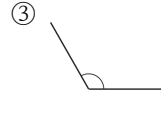
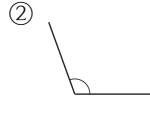
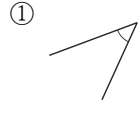
⑤ ㉣

38. 다음을 큰 각부터 차례대로 기호를 쓴 것은 어느 것인지 고르시오.



- ① ㉠, ㉡, ㉢, ㉣ ② ㉢, ㉡, ㉠, ㉣ ③ ㉣, ㉢, ㉠, ㉡
 ④ ㉡, ㉢, ㉠, ㉣ ⑤ ㉡, ㉠, ㉣, ㉢

39. 다음 중 직각보다 작은 각을 모두 고르시오.



40. 수의 크기를 비교하여 큰 수부터 차례로 기호를 쓴 것은 어느 것입니까?

㉠ 52384	㉡ 78549
㉢ 36378	㉣ 20887

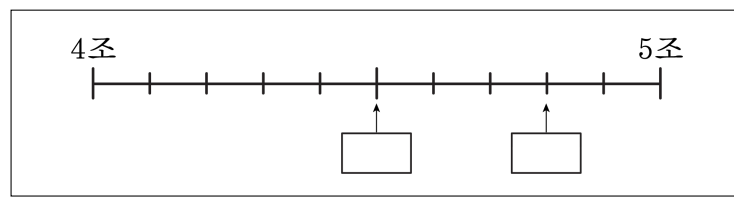
- ① ㉠, ㉡, ㉢, ㉣ ② ㉣, ㉢, ㉠, ㉡ ③ ㉡, ㉣, ㉢, ㉠
④ ㉡, ㉣, ㉠, ㉢ ⑤ ㉡, ㉠, ㉢, ㉣

41. 뛰어세기를 하여 안에 알맞은 수를 차례대로 쓴 것은 어느 것입니까?

(1)	<input type="text"/>	- 210조 -	<input type="text"/>	- 310조 -	<input type="text"/>		
(2)	<input type="text"/>	- 8000억 - 9000억 -	<input type="text"/>	-	<input type="text"/>	-	<input type="text"/>

- ① (1)150조, 250조, 350조 (2) 7000억, 1조, 1조 1000억, 1조 2000억
- ② (1)160조, 260조, 360조 (2) 7000억, 1조, 1조 1000억, 1조 2000억
- ③ (1)160조, 260조, 360조 (2) 7000억, 1조, 1조 2000억, 1조 4000억
- ④ (1)170조, 270조, 370조 (2) 7000억, 1조, 1조 1000억, 1조 2000억
- ⑤ (1)160조, 260조, 360조 (2) 7000억, 1조, 1조 2000억, 1조 4000억

42. 안에 알맞은 수를 차례대로 쓴 것은 어느 것입니까?



- ① 4조 5천억, 4조 8천억
- ② 4조 5천억, 4조 9천억
- ③ 4조 6천억, 4조 9천억
- ④ 4조 4천억, 4조 7천억
- ⑤ 4조 6천억, 4조 8천억

43. 다음 중 가장 큰 수는 어느 것입니까?

- ① 만이 270이고, 일이 5782인 수
- ② 삼백이십육만 육천오
- ③ 300000보다 10 큰 수
- ④ 3999999
- ⑤ 삼백이십육만 육천오십

44. 안에 알맞은 수를 바르게 나타낸 것은 어느 것입니까?

9408005048010736은 조가 , 억이 , 만이 , 1이 인 수입니다.

- ① 940, 50, 4801, 736
- ② 940, 50, 480, 1736
- ③ 9408, 50, 4801, 736
- ④ 9408, 504, 480, 1736
- ⑤ 9408, 504, 4801, 736

45. 안에 알맞은 수를 넣은 것은 어느 것입니까?

(1) 18273660 는 만이 , 일이 인 수입니다.

(2) 96820261 는 만이 , 일이 인 수입니다.

① (1) 1827, 3660 (2) 9682, 0261

② (1) 1827, 3660 (2) 9682, 261

③ (1) 8273, 3660 (2) 9682, 261

④ (1) 1827, 366 (2) 9682, 261

⑤ (1) 1827, 3660 (2) 968, 261

46. 안에 들어갈 알맞은 수를 고른 것은 어느 것입니까?

$$\begin{aligned} 20000 &= 19999 + \square \\ &= 19990 + \square \\ &= 19900 + \square \\ &= 19000 + \square \end{aligned}$$

- ① 1, 10, 200, 1000 ② 1, 10, 100, 1000
③ 2, 20, 200, 2000 ④ 10, 100, 1000, 10000
⑤ 2, 200, 2000, 20000

47. 각도가 가장 큰 것은 어느 것인지 고르시오.

① $30^\circ + 75^\circ$

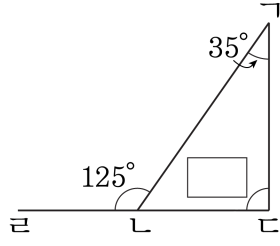
② $190^\circ - 50^\circ$

③ $45^\circ + 80^\circ$

④ 2 직각 -45°

⑤ 1 직각 $+15^\circ$

48. 다음 그림에서 각 $\angle C$ 의 크기를 구하시오.



- ① 80° ② 85° ③ 90° ④ 95° ⑤ 100°

49. 안에 들어갈 각도가 큰 것부터 차례로 기호를 쓰시오.

$$\text{㉠ } 55^\circ + \square = 115^\circ$$

$$\text{㉡ } \square + 1\text{직각} = 135^\circ$$

$$\text{㉢ } 120^\circ - \square = 35^\circ$$

$$\text{㉣ } \square - 40^\circ = 110^\circ$$

$$\text{① } \text{㉡, ㉠, ㉣, ㉢}$$

$$\text{② } \text{㉡, ㉠, ㉢, ㉣}$$

$$\text{③ } \text{㉢, ㉠, ㉡, ㉣}$$

$$\text{④ } \text{㉣, ㉢, ㉠, ㉡}$$

$$\text{⑤ } \text{㉣, ㉠, ㉢, ㉡}$$

50. 다음 중에서 직각보다 작은 각을 모두 고르시오.

