

1. 다음 중 일차부등식인 것을 모두 고르면?(정답 2개)

① $3x + 2 = 4$

② $2x(3 - x) + 1 < 2$

③ $0.5x - 2 \geq 6 - 0.3x$

④ $\frac{x}{2} + 1 < 5 + \frac{x}{2}$

⑤ $2x - \frac{2}{3} \geq -2x + \frac{2}{3}$

2. 다음 중 일차부등식인 것은?

① $2x - 3$

② $x - 7 < 0$

③ $x + 6 = 0$

④ $x^2 + 3 < 0$

⑤ $3x - 1 \leq 3(x - 1)$

3. 다음 중 일차부등식인 것은?

① $x + 4 \geq -1$

② $2x + 4 = 6$

③ $x - 5x < 3 - 4x$

④ $2 > x - x^2$

⑤ $6 + x - (1 + 3x)$

4. 다음 중 일차부등식을 모두 고르면?

① $3(1-x) \leq 3x-1$

② $2x-5 \leq -5-2x$

③ $x^2+5x > 4x-x^2$

④ $x+7-3x < 4-2x$

⑤ $2(x+3) \geq 11+2x$

5. 다음 중에서 일차부등식이 아닌 것은?

① $2x + 1 > 10$

② $x < 3x - 4$

③ $3 - x \geq 2 - x$

④ $2x^2 - x^2 < x^2 - x$

⑤ $x^2 - 2 \leq x^2 - x - 4$

6. 일차부등식 $-4 \leq 2x + 2 < 6$ 을 풀 것 을 고르면?

① $x \geq -3$

② $x < 2$

③ $-3 \leq x < 2$

④ $-2 \leq x < 3$

⑤ $2 \leq x < 3$

7. 부등식 $2 - 6x \leq -16$ 을 만족하는 x 의 값 중에서 가장 작은 정수는?

① 1

② 2

③ 3

④ 4

⑤ 5

8. 다음 일차부등식 중 해가 $3x - 2 < x + 4$ 와 같은 것은?

① $2x + 5 < 3x - 1$

② $3(x - 1) < 18$

③ $-x - 4 < -3x + 5$

④ $2 - x < x + 1$

⑤ $3 + 2x < x + 6$

9. 다음 중 부등식의 해가 $x \geq -1$ 인 것을 모두 고르면?

① $2x - 1 \geq x - 2$

② $-x + 1 \leq 2x - 2$

③ $3x + 4 \geq 5x + 6$

④ $2x - 11 \leq 7x - 16$

⑤ $4x + 7 \geq 2 - x$

10. 다음 부등식의 해가 $x > 3$ 과 같은 것은?

① $x + 8 < 5$

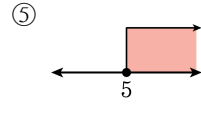
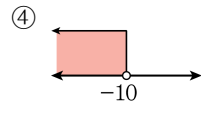
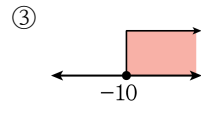
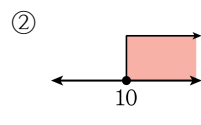
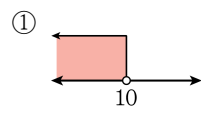
② $-2x < 6$

③ $3x > 9$

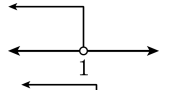

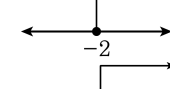
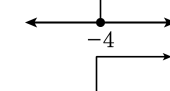
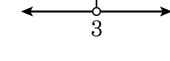
④ $2x + 5 < 5$

⑤ $x - 3 < 0$

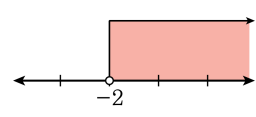
11. 일차부등식 $-\frac{1}{5}x \leq 2$ 의 해를 수직선 위에 나타내면?



12. 다음은 부등식의 해를 수직선 위에 나타낸 것이다. 옳지 않은 것은?

- ① $x + 3 < 4$ 
- ② $2x + 1 \geq 3$ 
- ③ $3x + 6 \leq 0$ 
- ④ $x + 1 \geq -3$ 
- ⑤ $2x > x + 3$ 

13. 다음은 어떤 일차부등식을 풀고 그 해를 수직선 위에 나타낸 것이다. 그 부등식은 어느 것인가?



① $2x + 6 > 2$

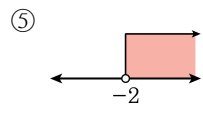
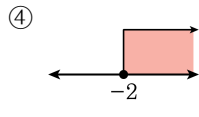
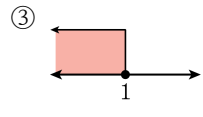
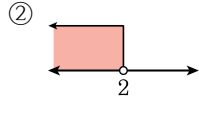
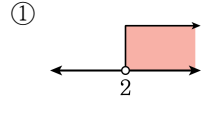
② $-3 + x \leq 2$

③ $\frac{1}{2}x > 3$

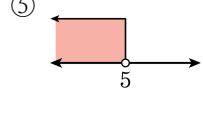
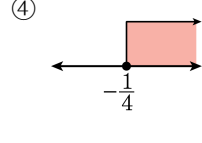
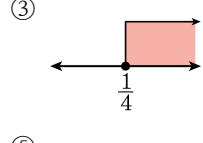
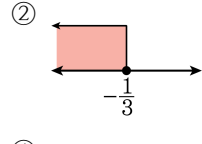
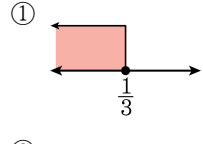
④ $-2x \geq -4$

⑤ $-4x + 1 > 9$

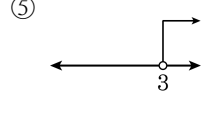
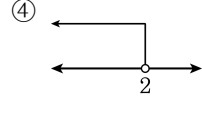
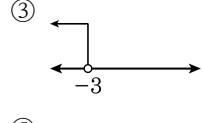
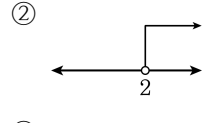
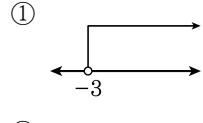
14. 부등식 $2x - 2 \leq -3x + 3$ 의 해를 수직선에 나타낸 것은?



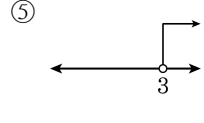
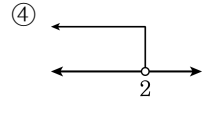
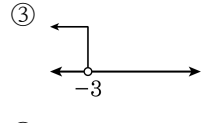
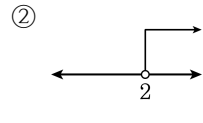
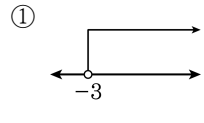
15. 부등식 $-x-1 \leq 3x-2$ 의 해를 수직선 위에 나타내면?



16. 일차부등식 $3x - 5 > 4$ 의 해를 수직선 위에 바르게 나타낸 것은?



17. 일차부등식 $2(x+1) < 6$ 의 해를 수직선 위에 바르게 나타낸 것은?



18. $a < b$ 일 때, 옳은 것을 모두 고르면?

① $2 - a < 2 - b$

② $-a + 1 > -b + 1$

③ $3a - 5 < 3b - 5$

④ $\frac{a}{2} - 7 < \frac{b}{2} - 7$

⑤ $-3a - 6 < -3b - 6$

19. 다음 중 옳은 것은?

① $a \geq b$ 일 때, $a + (-7) \leq b + (-7)$

② $a \geq b$ 일 때, $a^2 \geq b^2$

③ $a > b$ 일 때, $\frac{1}{2}a + 2 < \frac{1}{2}b + 2$

④ $a < b$ 일 때, $-5a + \frac{2}{3} > -5b + \frac{2}{3}$

⑤ $a > b$ 일 때, $\frac{1}{a} > \frac{1}{b}$ ($a \neq 0, b \neq 0$)

20. $a \geq b$ 일 때, 다음 중 부등호가 맞는 것을 모두 고르면? (정답 3개)

① $a - 3 \geq b - 3$

② $\frac{1}{3} + a \geq \frac{1}{3} + b$

③ $-a + 3 \geq -b + 3$

④ $-\frac{1}{3}a \geq -\frac{1}{3}b$

⑤ $3a - 1 \geq 3b - 1$

21. $a < b$ 일 때, 다음 중 옳은 것은?

① $3a - 2 > 3b - 2$

② $-2a + 1 < -2b + 1$

③ $-5a - 3 > -5b - 3$

④ $\frac{a}{4} - 7 > \frac{b}{4} - 7$

⑤ $2a + 1 > 2b + 1$

22. $a < b$ 일 때, 다음 중 옳은 것을 모두 고르면?

① $\frac{2}{5}a - 1 < \frac{2}{5}b - 1$

② $3 - 4a > 3 - 4b$

③ $-a + 7 < -b + 7$

④ $-2 - 2a < -2 - 2b$

⑤ $\frac{2-a}{3} > \frac{2-b}{3}$

23. $a > b$ 일 때, 다음 중 옳지 않은 것은?

① $-2a < -2b$

② $2a - 3 > 2b - 3$

③ $-\frac{a}{4} + 1 < -\frac{b}{4} + 1$

④ $\frac{a}{5} > \frac{b}{5}$

⑤ $2 - a > 2 - b$

24. $a < b$ 일 때, 다음 중 옳은 것은?

① $-2a + 5 \geq -2b + 5$

② $10 - a > 10 - b$

③ $\frac{a-1}{4} > \frac{b-1}{4}$

④ $-\frac{a}{2} < -\frac{b}{2}$

⑤ $2a - 1 > 2b - 1$

25. $a < b < c$ 일 때, 다음 중에서 항상 옳은 것을 모두 고르면?

보기

- 가. $a + c < b + c$
- 나. $a + b < b + c$
- 다. $c - a < b - a$
- 라. $ac < bc$

- ① 가 ② 가, 나 ③ 가, 다
- ④ 나, 라 ⑤ 가, 나, 다

26. $0 < b < a$ 일 때, 다음 중 성립하지 않는 것은?

① $\frac{1}{a} < \frac{1}{b}$

② $\frac{a}{c} > \frac{b}{c}$

③ $-2a < -2b$

④ $3a - 1 > 3b - 1$

⑤ $a^2 > ab$

27. $a < b$ 일 때, 다음 중 부등호가 틀린 것은?

① $a + 4 < b + 4$

② $-5 + a < -5 + b$

③ $3a - 1 < 3b - 1$

④ $\frac{1}{5}a < \frac{1}{5}b$

⑤ $-3a < -3b$

28. $x < 0 < y$ 일 때 다음 중 옳은 것을 모두 찾으시오?

보기

㉠ $x + y < 0$

㉡ $x^2 + y^2 > 0$

㉢ $-x < -y$

㉣ $\frac{1}{x} < \frac{1}{y}$

① ㉠, ㉡

② ㉡, ㉣

③ ㉢, ㉣

④ ㉠, ㉡, ㉣

⑤ ㉡, ㉢, ㉣

29. $-3 < a < 7$, $-4 < b < -1$ 일 때, $a-b$ 의 범위는?

① $-2 < a-b < 11$

② $1 < a-b < 8$

③ $-3 < a-b < 11$

④ $-7 < a-b < 8$

⑤ $-1 < a-b < 11$

30. $-2 \leq x < 3$ 일 때, $A = 4 - 3x$ 의 값의 범위는?

- ① $-5 < A \leq 10$ ② $-4 \leq A < 7$ ③ $-2 < A \leq 4$
④ $-9 < A \leq 6$ ⑤ $-1 < A \leq 11$

31. $-1 \leq x < 3$ 일 때, $-2x + 1$ 의 값의 범위에 속하는 정수의 개수는?

- ① 5 개 ② 6 개 ③ 7 개 ④ 8 개 ⑤ 9 개

32. $-11 < 3a - 5 < 7$, $-5 < 2b + 9 < -1$ 일 때, $a - b$ 의 범위는?

① $-9 < a - b < 3$

② $-3 < a - b < 3$

③ $-9 < a - b < -1$

④ $3 < a - b < 11$

⑤ $-3 < a - b < 11$

33. $1 \leq x \leq 2$, $-3 \leq y \leq 0$ 일 때, $2x - 3y$ 의 최댓값과 최솟값의 합은?

- ① -12 ② -11 ③ 11 ④ 13 ⑤ 15

34. $1 \leq 1 - 2x \leq 5$ 를 만족하는 x 의 값에 대하여 $\frac{x}{3} + 2$ 의 최댓값을 M , 최솟값을 m 이라고 할 때, $M + m$ 의 값은?

- ① $\frac{10}{3}$ ② 2 ③ $\frac{4}{3}$ ④ $\frac{2}{3}$ ⑤ $-\frac{2}{3}$

35. $-3 < x \leq 4$ 일 때, $5x + 20$ 을 만족하는 소수의 개수를 구하여라.

 답: _____ 개

36. $-3 < a \leq 7$ 일 때, $A \leq -4a - 1 < B$ 라고 한다. 이 때, $A+B$ 의 값은?

- ① 10 ② -10 ③ 18 ④ -18 ⑤ 21

37. 다음 일차부등식 중 해가 나머지 넷과 다른 하나는?

- ① $\frac{x}{3} > x - \frac{8}{3}$ ② $x - 3 > 2x - 7$ ③ $1 < -2x + 9$
④ $-2x > -8$ ⑤ $3x < x + 10$

38. 다음 보기에서 일차부등식을 모두 구하여라.

보기

㉠ $3x > -3$

㉡ $5x^2 < 2$

㉢ $-x + 1 \leq 2x - 4$

㉣ $x > 0$

㉤ $3x + 2 < 5$

㉥ $3x + 1 \geq 3x - 5$

▶ 답: _____

▶ 답: _____

▶ 답: _____

▶ 답: _____

39. 다음 중에서 일차부등식은?

① $7 > -3$

② $3x + x - 2$

③ $4x > 6$

④ $4x - 1 = 7$

⑤ $x + 5 = x^2$

40. 다음 중 일차부등식이 아닌 것은?

① $3x \geq -4 + 2x$

② $x^2 - 2 < x + x^2 + 1$

③ $\frac{3}{2} + x \geq \frac{x-1}{3}$

④ $3(1-x) > x+7$

⑤ $1 - 2(x-3) \leq 4x + 3 - 6x$

41. 다음 중 일차부등식은? [정답 2개]

① $2x + 1 < 3x$

② $x(x + 2) < x$

③ $x(x - 3) < x^2 + 2$

④ $2x(x - 1) < 3x + 2$

⑤ $2(x + 1) < 2x + 5$

42. 다음 중 일차부등식인 것은?

① $x - 4 = 0$

② $3x - 1 < 3x + 1$

③ $5(x + 1) \geq 5x + 1$

④ $4x - 2 \leq 3(x + 1) - x$

⑤ $x(x - 2) > 2x$

43. 다음 중 일차부등식인 것은?

① $x^2 - x > 2$

② $2x - 1 < 3 + 2x$

③ $-2 < 9$

④ $2x + 3 \geq x - 1$

⑤ $2x + 1 = 0$