

1. 희수네 학교 학생들이 좋아하는 음식을 조사한 표입니다.

<좋아하는 음식별 학생 수>

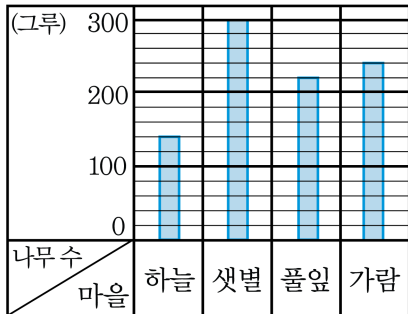
음식	떡볶이	김밥	떡국	볶음밥	합계
학생 수(명)	28	16	8	20	72

눈금 한 칸이 4명을 나타내는 막대그래프를 그린다면 떡볶이를 좋아하는 학생은 몇 칸으로 그려야 합니까?

- ① 6칸      ② 7칸      ③ 8칸      ④ 9칸      ⑤ 10칸

2. 마을별로 심은 나무의 수를 조사하여 나타낸 막대그래프입니다.

〈마을별 심은 나무의 수〉

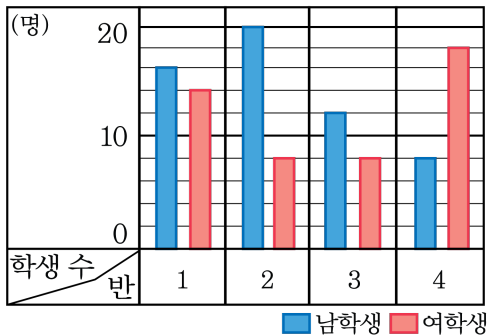


세로 눈금 한 칸은 나무 몇 그루를 의미합니까?

- ① 1그루                      ② 5그루                      ③ 10그루  
 ④ 15그루                      ⑤ 20그루

3. 어떤 초등학교 4학년 반별 교내 글짓기 대회에서 참가한 학생 수를 조사하여 나타낸 막대그래프입니다.

〈교내 글짓기 대회의 참가 학생 수〉

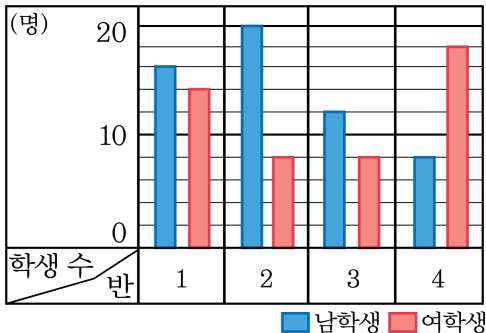


참가자수가 가장 많은 반은 몇 반입니까?

> 답: \_\_\_\_\_ 반

4. 어떤 초등학교 4학년 반별 교내 글짓기 대회에서 참가한 학생 수를 조사하여 나타낸 막대그래프입니다.

〈교내 글짓기 대회의 참가 학생 수〉



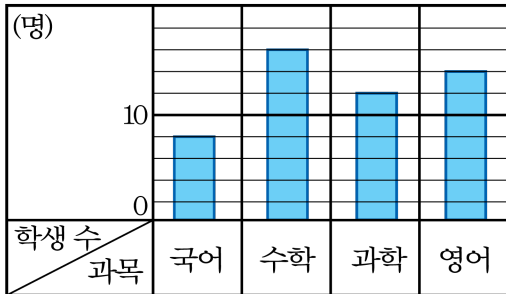
교내 글짓기 대회의 참가 학생 수가 남학생보다 여학생이 더 많은 반에서의 (여학생 수)-(남학생 수)는 얼마입니까?



답: \_\_\_\_\_

5. 수지네 반 학생들이 과목별 좋아하는 학생 수를 조사하여 나타낸 막대그래프입니다.

〈과목별 좋아하는 학생 수〉



가장 많은 학생들이 좋아하는 과목과 가장 적은 학생들이 좋아하는 과목의 학생 수의 차는 몇 명인지 구하시오.



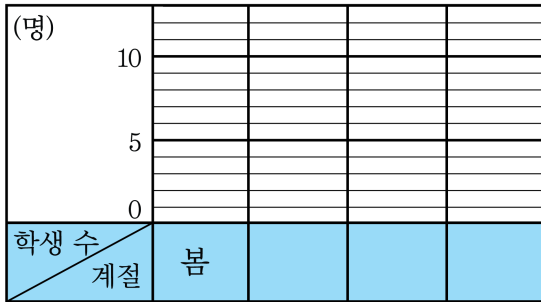
답:

명

6. 지용이네 반 학생들이 좋아하는 계절을 조사하여 나타낸 표입니다. 표를 보고 막대그래프를 그리시오.

<좋아하는 계절>

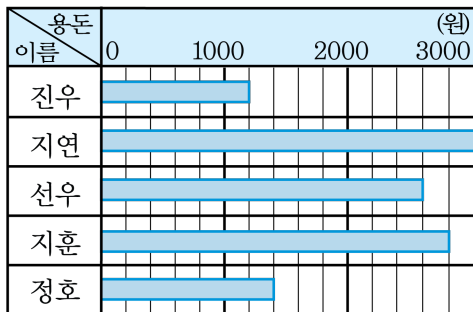
계절	봄	여름	가을	겨울	계
학생 수(명)	6	12	8	4	30



답: \_\_\_\_\_

7. 진우와 친구들의 일주일 동안의 용돈을 조사하여 나타낸 막대그래프입니다.

〈일주일 동안의 용돈〉

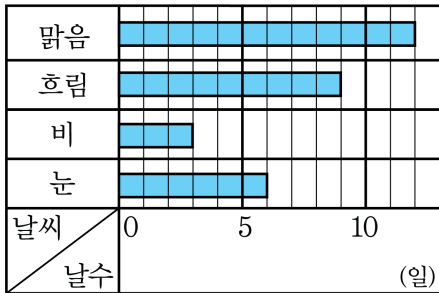


용돈을 적게 받는 순서대로 이름을 나열한 것은 어느 것입니까?

- ① 진우, 정호, 선우, 지훈, 지연
- ② 진우, 선우, 지연, 정호, 지연
- ③ 지연, 선우, 지훈, 정호, 진우
- ④ 지연, 지훈, 선우, 정호, 진우
- ⑤ 지연, 선우, 지훈, 진우, 정호

8. 어느 달의 날씨를 조사하여 나타낸 막대그래프입니다.

〈어느 달의 날씨〉



맑은 날은 눈온 날의 몇 배인지 쓰시오.



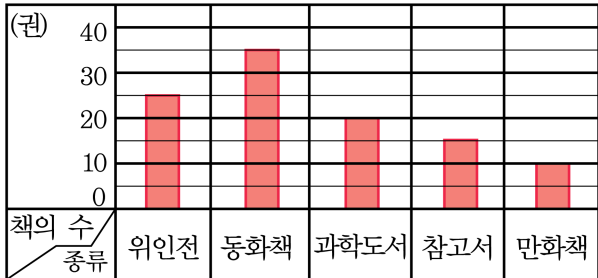
답:

배



9. 명수네 반 학급 문고에 있는 책을 종류별로 조사하여 막대그래프로 나타낸 것입니다.

〈학급 문고 책의 수〉



세로 눈금 한 칸은 몇 권을 나타내는지 구하시오.



답:

권

\_\_\_\_\_

10. 칠봉이네 학교의 4학년 학예회에 참여한 남학생과 여학생의 수를 반별로 조사하여 나타낸 막대그래프입니다. 학예회에 참여한 남학생과 여학생의 수가 같은 반은 어느 반입니까?

〈학예회에 참여한 남학생과 여학생의 수〉



- ① 1반      ② 2반      ③ 3반      ④ 4반      ⑤ 없다.

11. 어린이 대공원에 온 초등학생 수를 조사하여 나타낸 막대그래프입니다.



어린이 대공원에 가장 많이 오는 학년은 몇 학년이라고 할 수 있습니까?

① 1학년

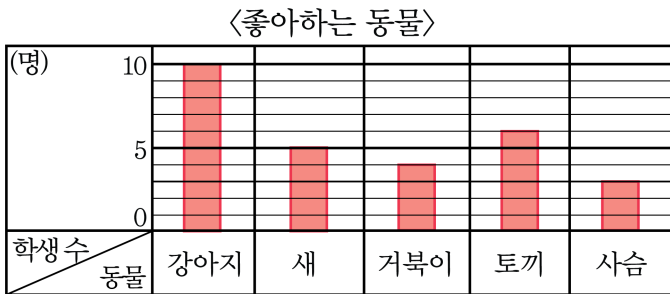
② 2학년

③ 3학년

④ 4학년

⑤ 5학년

12. 지윤이네 반 학생들이 좋아하는 동물을 조사하여 나타낸 막대그래프입니다.



이번 학급신문에 특집기사로 어떤동물을 다루는 것이 좋겠습니까?



답: \_\_\_\_\_

13. 학생들이 좋아하는 과목을 조사하여 나타낸 표입니다.

<좋아하는 과목>

과목	국어	수학	체육	미술	계
학생 수(명)	3	4	10	6	23

위 표를 보고 막대그래프를 그릴 때, 세로 눈금은 몇 명까지 나타낼 수 있어야 하는지 구하시오.



답:

\_\_\_\_\_

명

14. 마을별 쌀 생산량을 조사한 표입니다.

<마을별 쌀 생산량>

마을	샘골	밤골	곰골	학골	합계
생산량(가마)	24	16	30	22	92

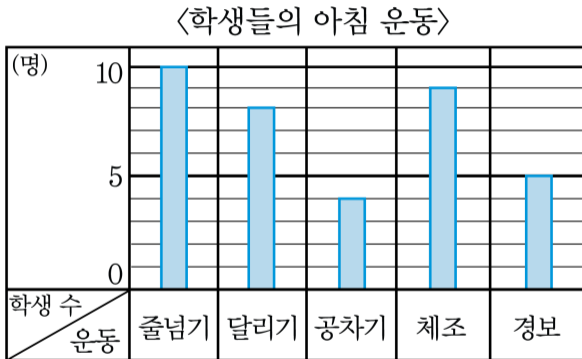
위 표를 보고 막대그래프를 그릴 때, 각각 가로와 세로에 무엇을 나타내어야 하는지 순서대로 쓰시오.

> 답: \_\_\_\_\_

> 답: \_\_\_\_\_



16. 경민이네 반 학생들이 선택한 아침 운동을 조사하여 나타낸 막대그래프입니다.



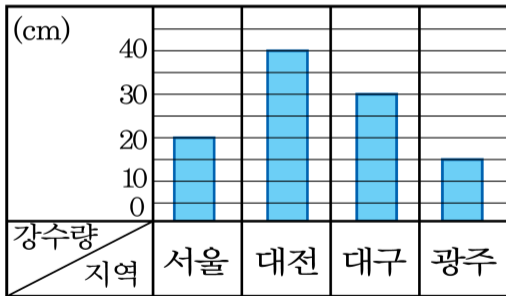
가장 많이 선택한 아침운동은 무엇인지 쓰시오.

▶ 답: \_\_\_\_\_



17. 다음은 지역별 강수량을 조사하여 나타낸 막대그래프입니다. 서울의 강수량은 몇 cm인지 쓰시오.

〈지역별 강수량〉

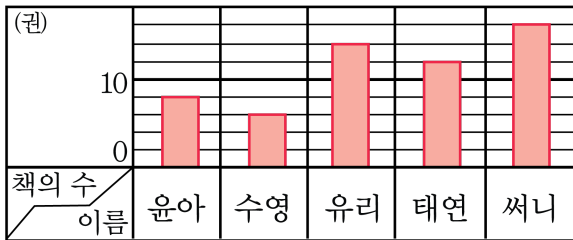


답:

\_\_\_\_\_ cm

18. 다음은 한 달 동안 읽은 책의 수를 조사하여 나타낸 막대그래프입니다. 책을 가장 많이 읽은 학생은 누구인지 쓰시오.

〈한 달 동안 읽은 책의 수〉



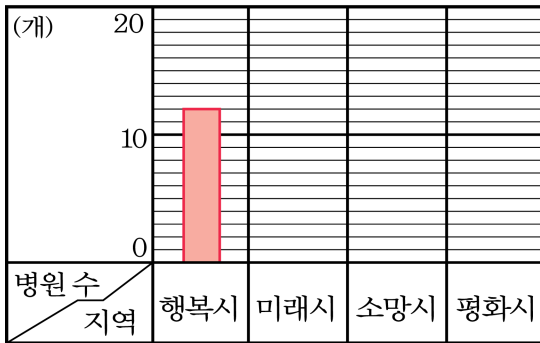
답: \_\_\_\_\_

19. 지역별 병원의 수를 조사한 표입니다. 표를 보고 막대그래프를 완성하십시오.

<지역별 병원의 수>

지역	행복시	미래시	소망시	평화시	합계
병원 수(개)	12	9	14	17	52

<지역별 병원 수>



20. 광수는 친구들이 생일날 받고 싶은 선물을 조사했습니다.

<생일별 받고 싶은 선물>

선물	장난감	옷	자전거	게임기	컴퓨터	계
사람 수(명)	3	2	4	6	5	20

<생일날 받고 싶은 선물>

(명)						
	5					
0						
사람 수						
선물						

위의 표를 막대그래프로 나타내시오.

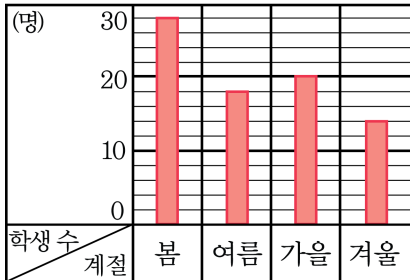
> 답:

21. 운주네 반 학생들이 좋아하는 계절을 조사하여 나타낸 표와 막대그래프입니다.

<좋아하는 계절>

계절	봄	여름	가을	겨울	계
학생 수(명)	28	18	20	14	80

<좋아하는 계절>



모두 몇 명을 조사하였는지 알아보기 쉬운 것은 표와 막대그래프 중 어느 것인지 쓰시오.

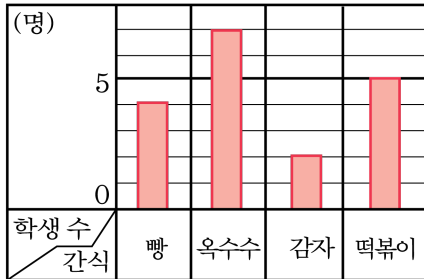
> 답:

22. 지숙이네 모둠 학생들이 좋아하는 간식을 나타낸 표와 막대그래프입니다. 여러 항목의 수량의 많고 적음을 한 눈에 알아보기 편리한 것은 표와 막대그래프 중 어느 것입니까?

〈좋아하는 간식〉

간식	학생 수(명)
빵	4
옥수수	7
감자	2
떡볶이	5
계	18

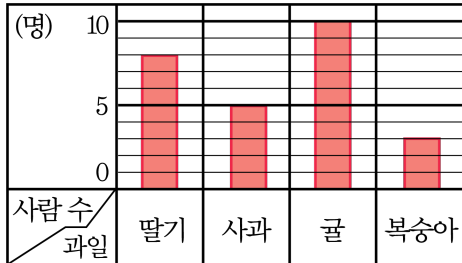
〈좋아하는 간식〉



▶ 답: \_\_\_\_\_

23. 다음은 해성이네 반 학생들이 좋아하는 과일을 조사하여 막대그래프로 나타낸 것입니다.

〈좋아하는 과일〉

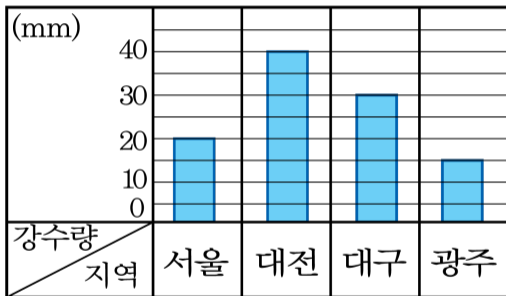


귤을 좋아하는 학생은 몇 명인지 구하시오.

▶ 답: \_\_\_\_\_ 명

24. 다음은 지역별 강수량을 조사하여 나타낸 막대그래프입니다.

〈지역별 강수량〉



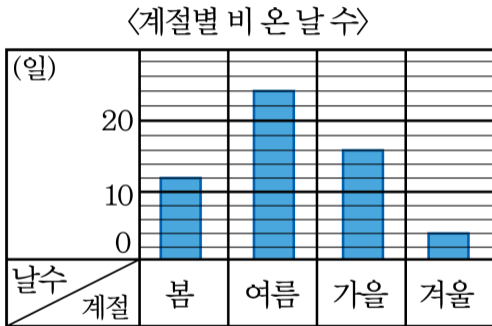
강수량이 가장 많은 지역은 어디인지 쓰시오.



답: \_\_\_\_\_



25. 다음은 작년 한해 부산의 계절별 비온 날 수를 조사한 막대그래프입니다.



세로의 작은 눈금 한 칸은 몇 일을 나타냅니까?

- ① 1일      ② 2일      ③ 3일      ④ 4일      ⑤ 5일

26. 시영이네 반 학생들이 좋아하는 음식을 조사하여 나타낸 표입니다.

<좋아하는 음식>

음식	토스트	피자	햄버거	애플파이	계
학생 수(명)	6	14		8	40

위의 표를 막대그래프로 나타낼 때 학생 수를 나타내는 눈금은 적어도 몇 명까지 나타낼 수 있어야 합니까?

① 12명

② 13명

③ 14명

④ 15명

⑤ 16명

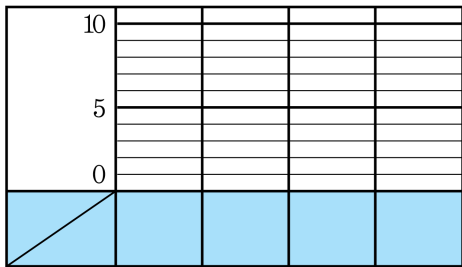
27. 응이네 반 학생들이 좋아하는 색깔을 조사하여 나타낸 표입니다.

<좋아하는 계절>

색깔	분홍	빨강	노랑	파랑	초록	계
학생 수(명)	6	3	9	7	5	30

위의 표를 보고 막대그래프를 그릴 때, 가로와 세로에는 각각 무엇을 나타내야 하는지 순서대로 쓰시오.

<좋아하는 색깔>



> 답: \_\_\_\_\_

> 답: \_\_\_\_\_