

1. 다음 중 유리수가 아닌 수는?

① $(-\sqrt{0.3})^2$

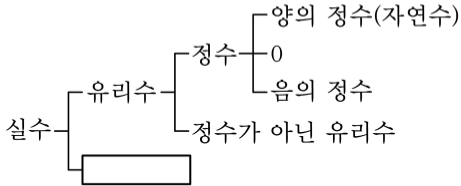
② $-\sqrt{1}$

③ $\sqrt{3.\dot{9}}$

④ $\sqrt{\left(-\frac{2}{7}\right)^2}$

⑤ $\sqrt{6} - \sqrt{4}$

2. 다음 중 안의 수에 해당하지 않는 것은?



① $\sqrt{5} + 1$

② $-\frac{\pi}{2}$

③ $\sqrt{0.9}$

④ $-\sqrt{2.89}$

⑤ $0.1234\dots$

3. 다음 중 $\sqrt{2}$ 와 $\sqrt{3}$ 사이에 있는 수가 아닌 것은?

① $\frac{3}{2}$

② $\sqrt{\frac{3}{2}}$

③ $\frac{\sqrt{2} + \sqrt{3}}{2}$

④ 1.6

⑤ $\frac{5}{3}$

4. 다음 옳지 않은 것은?

① $\sqrt{12} = 2\sqrt{3}$

② $\sqrt{32} = 4\sqrt{2}$

③ $\sqrt{18} = 3\sqrt{2}$

④ $\sqrt{40} = 4\sqrt{5}$

⑤ $\sqrt{45} = 3\sqrt{5}$

5. 다음 중 1 과 $\sqrt{3}$ 사이에 있는 실수가 아닌 것은?(단, 제곱근표에서 $\sqrt{2} = 1.414$, $\sqrt{3} = 1.732$, $\sqrt{5} = 2.236$ 이다.)

① $\frac{1 + \sqrt{3}}{2}$

② $\sqrt{2}$

③ $\frac{\sqrt{2} + \sqrt{3}}{2}$

④ $\sqrt{2} + 1$

⑤ $\sqrt{3} - 0.01$

6. 다음 중 옳지 않은 것은 무엇인가?

① $a > 0$ 일 때, $\sqrt{9a^2} = 3a$

② $a < 0$ 일 때, $-\sqrt{4a^2} = 2a$

③ $a < 0$ 일 때, $-\sqrt{(-5a)^2} = -5a$

④ $a > 0$ 일 때, $\sqrt{2a^2} = \sqrt{2}a$

⑤ $a > 0$ 일 때, $-\sqrt{25a^2} = -5a$

7. 다음 중 두 수의 대소 관계가 옳지 않은 것은?

① $\sqrt{24} < 5$

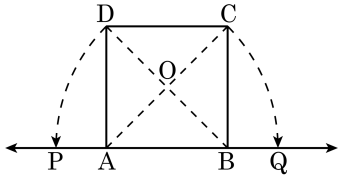
② $\sqrt{17} > 4$

③ $4 < \sqrt{20}$

④ $\frac{\sqrt{2}}{6} < \frac{\sqrt{3}}{6}$

⑤ $\sqrt{0.7} < 0.7$

8. 다음 그림에서 사각형 ABCD 는 한 변의 길이가 1 인 정사각형이다. 점 P 에 대응하는 수가 $5 - 3\sqrt{2}$ 이고 $\overline{AC} = \overline{AQ}$, $\overline{DB} = \overline{BP}$ 일 때, 점 Q 에 대응하는 수는?



① $5 - \sqrt{2}$

② $5 - 2\sqrt{2}$

③ $4 - \sqrt{2}$

④ $4 - 2\sqrt{2}$

⑤ $3 - 2\sqrt{2}$

9. 다음 중 옳은 것은 모두 몇 개인가?

- ㉠ 수직선에 나타낼 수 없는 무리수도 있다.
- ㉡ $-\sqrt{2}$ 와 $\sqrt{2}$ 사이에는 4 개의 정수가 있다.
- ㉢ 수직선은 유리수와 무리수에 대응하는 점들로 완전히 메워져 있다.
- ㉣ 수직선 위에서 오른쪽에 있는 실수가 왼쪽에 있는 실수보다 크다.
- ㉤ 수직선 위에는 유리수에 대응하는 점들만 있는 것이 아니고 무리수에 대응하는 점들도 있다.
- ㉥ 서로 다른 두 무리수의 합은 반드시 무리수이다.
- ㉦ 서로 다른 두 유리수의 합은 반드시 유리수이다.

① 7 개

② 6 개

③ 5 개

④ 4 개

⑤ 3 개

10. 다음에 주어진 수를 크기가 작은 것부터 차례로 나열할 때, 세 번째에 해당하는 것은?

① $\sqrt{5} + \sqrt{2}$

② $-\sqrt{5}$

③ -2

④ $\sqrt{5} + 1$

⑤ $-2 - \sqrt{5}$

11. 다음 중 옳지 않은 것을 모두 고른 것은?

$$\textcircled{\text{㉠}} \sqrt{\frac{1}{3}} \sqrt{\frac{3}{4}} = \sqrt{\frac{1}{4}} = \frac{1}{2}$$

$$\textcircled{\text{㉡}} -\sqrt{60} \times \sqrt{\frac{2}{3}} = -4\sqrt{10}$$

$$\textcircled{\text{㉢}} \sqrt{3} \times \sqrt{12} = 6$$

$$\textcircled{\text{㉣}} \sqrt{0.1} \times \sqrt{0.9} = \sqrt{0.09} = 0.03$$

$$\textcircled{\text{㉤}} 3\sqrt{5} \times 2\sqrt{7} = 6\sqrt{35}$$

① ㉠, ㉡

② ㉠, ㉢

③ ㉡, ㉢

④ ㉡, ㉣

⑤ ㉣, ㉤

12. 다음 중 간단히 한 것의 값이 $\sqrt{5}$ 가 아닌 것은?

① $\frac{\sqrt{10}}{\sqrt{7}} \div \frac{1}{\sqrt{21}} \div \sqrt{6}$

② $15 \div \sqrt{15} \div \sqrt{3}$

③ $\sqrt{45} \div \sqrt{15} \div \frac{1}{\sqrt{3}}$

④ $\frac{\sqrt{8}}{2} \div \frac{\sqrt{2}}{\sqrt{10}} \div \sqrt{2}$

⑤ $\sqrt{6} \div \sqrt{5} \div \frac{\sqrt{6}}{5}$

13. 다음 식의 계산 결과가 틀린 것은?

① $\sqrt{24} + 5\sqrt{6} = 7\sqrt{6}$

② $\sqrt{12} + \sqrt{27} - \sqrt{48} = \sqrt{3}$

③ $\frac{\sqrt{5}}{3} - \frac{\sqrt{45}}{2} + \frac{\sqrt{5}}{6} = -\frac{\sqrt{5}}{6}$

④ $\sqrt{12} + \sqrt{50} - \sqrt{3} + 2\sqrt{2} = \sqrt{3} + 7\sqrt{2}$

⑤ $5\sqrt{3} + \frac{15}{\sqrt{3}} - 2\sqrt{75} = 0$

14. $5x+y=15$ 일 때, $\sqrt{2x+y}$ 가 자연수가 되게 만드는 가장 작은 자연수 x 는?

① 1

② 2

③ 4

④ 7

⑤ 9

15. $\sqrt{18} + 3$ 과 $\sqrt{15} - 2$ 중 큰 수를 a , $2\sqrt{7}$ 과 $3\sqrt{2} - 1$ 중 작은 수를 b 라고 할 때, $b - a$ 의 값을 구하면?

① 4

② 2

③ 0

④ -2

⑤ -4

16. $\sqrt{5} \times 3\sqrt{a} = 15$, $\sqrt{3} \times \sqrt{b} = 6$, $\sqrt{2.43} = c\sqrt{3}$ 일 때, 유리수 a, b, c 의 곱 abc 의 값은?

① 60

② 54

③ $\frac{54}{5}$

④ $3\sqrt{6}$

⑤ 1

17. $x = 3 + \sqrt{2}$ 일 때, $\frac{x+7}{x-3}$ 의 값은?

① $-1 + 5\sqrt{2}$

② $1 - 3\sqrt{2}$

③ $1 + 5\sqrt{2}$

④ $2 + 2\sqrt{2}$

⑤ $2 + 5\sqrt{2}$

18. $\sqrt{(-6)^2} + (-2\sqrt{3})^2 - \sqrt{3} \left(\sqrt{24} - \frac{3}{\sqrt{3}} \right) = a + b\sqrt{2}$ 의 꼴로 나타낼

때, $a + b$ 의 값은? (단, a, b 는 유리수)

① -15


② 15


③ -9

④ 9

⑤ 0

19. $a + \sqrt{2}, 3 + b\sqrt{2}$ 의 합과 곱이 모두 유리수가 되도록 하는 유리수 a, b 의 값을 구하여라.

 답: $a =$ _____

 답: $b =$ _____

20. 부등식 $3 \leq (\sqrt{2} + 1)x \leq 7$ 을 만족하는 자연수 x 를 구하여라.



답: _____

21. 세 실수 $A = \sqrt{20} + \sqrt{80}$, $B = \sqrt{21} + \sqrt{79}$, $C = \sqrt{22} + \sqrt{78}$ 의 대소 관계가 바르게 된 것은?

① $A < B < C$

② $A < C < B$

③ $B < A < C$

④ $C < A < B$

⑤ $C < B < A$

22. 다음의 표는 제공근표의 일부이다. 이 표를 이용하여 $\frac{1}{\sqrt{2}} \left(\sqrt{3} - \frac{9}{\sqrt{3}} \right)$ 의 값을 구하면?

수	0	1	2
1	1.000	1.005	1.010
2	1.414	1.418	1.421
3	1.732	1.735	1.738
4	2	2.002	2.005
5	2.236	2.238	2.241
6	2.449	2.452	2.454
7	2.646	2.648	2.650
8	2.828	2.830	2.832

- ① 1.414 ② -1.732 ③ 1.732
 ④ -2.449 ⑤ 2.449

23. 3의 음의 제곱근과 양의 제곱근을 각각 a, b 라 할 때, 다음 식을 계산하여라.

$$\sqrt{\sqrt{9(a^2b^2)^3} - \sqrt{5a^2 - 2b^2}}$$



답: _____

24. $-1 < x < 1$ 일 때, $\sqrt{(1-x)^2} + \sqrt{(1+x)^2} - |-1-x|$ 를 간단히 하여라.



답: _____

25. 두 자연수 x, y 에 대하여 $\sqrt{120xy}$ 가 가장 작은 정수가 되도록 x, y 의 값을 정할 때, 다음 중 x 의 값이 될 수 없는 것은?

① 1

② 2

③ 3

④ 4

⑤ 5

26. 연속된 세 자연수 a, b, c 에 대하여, $\sqrt{a+b+c}$ 의 값이 자연수가 되기 위한 순서쌍 (a, b, c) 의 개수를 구하여라. (단, $a+b+c \leq 80$)



답:

개

27. $-2 < x < y < -1$ 일 때, 다음 수를 작은 수부터 나열하여라.

㉠ $\sqrt{(3-x)^2}$

㉡ $-\sqrt{(x-3)^2}$

㉢ $\sqrt{(1+y)^2}$

㉤ $-(\sqrt{-y})^2$

㉦ $-\sqrt{(y-3)^2}$

㉧ $\sqrt{(x-1)^2}$

> 답: _____

> 답: _____

> 답: _____

> 답: _____

> 답: _____

> 답: _____

28. $2 < \sqrt{15 - 2x} < 4$ 를 만족하는 정수 x 의 개수를 구하여라.



답:

개

29. 두 정육면체 A, B의 한 면의 대각선의 길이의 비가 2:3이고 두 정육면체의 부피의 합이 35 cm^3 이다. A, B의 한 모서리의 길이를 각각 $a \text{ cm}$, $b \text{ cm}$ 라 할 때 $b - a$ 의 값을 구하여라.



답: $b - a =$ _____

30. $5\sqrt{11!}$ 의 정수 부분의 자릿수를 구하여라.



답:

자리
