

1. 다음 중 $\sqrt{8} + \sqrt{18}$ 을 바르게 계산한 것은?

① $\sqrt{26}$

② $2(\sqrt{2} + \sqrt{3})$

③ 7

④ $5\sqrt{2}$

⑤ $2\sqrt{13}$

2. 다음 중 옳지 않은 것은?

① $\sqrt{2^2 \times (-3)^2} = 6$

② $\frac{\sqrt{96}}{2\sqrt{3}} = 2\sqrt{2}$

③ $\sqrt{12} + \sqrt{27} = 5\sqrt{3}$

④ $(3 + \sqrt{2})(2 - 3\sqrt{2}) = -7\sqrt{2}$

⑤ $\sqrt{2} + \sqrt{5} + \sqrt{8} + \sqrt{20} - \sqrt{18} - \sqrt{45} = \sqrt{2} + \sqrt{5}$

3. 1, 2, 3, 4, 5의 숫자가 각각 하나씩 적힌 5장의 카드로 다섯 자리 자연수를 만들 때, 만들 수 있는 모든 자연수의 개수는?

- ① 24 ② 72 ③ 96 ④ 120 ⑤ 144

4. 함수 $y = \frac{x+2}{x-1}$ 의 정의역은 $x \neq a$ 인 모든 실수이고 치역은 $y \neq b$ 인 모든 실수이다. 이때, $a+b$ 의 값은?

- ① 1 ② 2 ③ 3 ④ 4 ⑤ 5

5. 다음 함수의 그래프 중 평행이동에 의하여 $y = \frac{1}{x}$ 의 그래프와 겹치는 것은?

① $y = \frac{2x-1}{x-1}$ ② $y = \frac{2x}{x-1}$ ③ $y = \frac{2x+1}{x-1}$
④ $y = \frac{2x}{2x-1}$ ⑤ $y = \frac{2x}{2x+1}$

6. $y = \frac{3-ax}{1-x}$ 의 그래프의 점근선이 $x = 1$, $y = -2$ 일 때, 상수 a 의 값을 구하여라.

▶ 답: _____

7. 분수함수 $y = \frac{2x-3}{x+2}$ 의 역함수를 구하면?

① $y = \frac{2x+3}{x-2}$

② $y = \frac{2x-3}{x-2}$

③ $y = \frac{-2x+3}{x-2}$

④ $y = \frac{-2x-3}{x-2}$


⑤ $y = \frac{2x-3}{x+2}$

8. 다음 무리식의 값이 실수가 되도록 x 의 범위를 정하면?


$$\sqrt{x+1} - \sqrt{2-x} + \sqrt{x-1}$$

- ① $-2 \leq x \leq 1$ ② $0 \leq x \leq 1$ ③ $1 < x < 2$
④ $-1 \leq x \leq 2$ ⑤ $1 \leq x \leq 2$


9. 유리수 a, b 가 등식 $(a + \sqrt{2})^2 = 6 + b\sqrt{2}$ 를 만족시킬 때, ab 의 값을 구하여라.

 답: _____

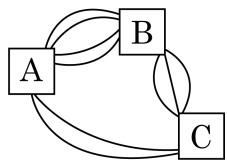
10. 함수 $y = \sqrt{-4x+12} - 2$ 는 함수 $y = a\sqrt{-x}$ 의 그래프를 x 축의 방향으로 b 만큼, y 축의 방향으로 c 만큼 평행이동한 것이다. $a+b+c$ 의 값을 구하여라.

 답: _____

11. 540의 양의 약수의 총합을 구하여라.

 답: _____

12. 아래쪽 그림과 같이 A 에서 B 로 가는 길은 4가지, B 에서 C 로 가는 길은 3가지, A 에서 C 로 가는 길은 2가지이다. A 에서 C 를 왕복하는데 B 를 한 번만 거치는 방법의 수를 구하여라.



▶ 답: _____ 가지

13. 5000 원 짜리 지폐가 2장, 1000 원짜리 지폐가 3장, 500 원짜리 동전이 4개 있다. 이 동전의 일부 또는 전부를 사용하여 지불할 수 있는 방법의 수를 구하여라.

▶ 답: _____ 가지

14. 백인종 2명, 흑인종 3명, 황인종 2명을 일렬로 세울 때, 백인종은 백인종끼리, 흑인종은 흑인종끼리 이웃하여 서는 경우의 수를 구하면?

- ① 24 ② 144 ③ 210 ④ 288 ⑤ 720

15. 여섯 개의 문자 a, b, c, d, e, f 를 일렬로 배열했을 때 a, b 가 이웃하지 않도록 나열하는 경우의 수는?

- ① 160 ② 180 ③ 200 ④ 400 ⑤ 480

16. 남자 4명, 여자 4명을 일렬로 세울 때, 남녀 교대로 서는 경우의 수를 구하여라.

- ① 576 ② 872 ③ 1152 ④ 1680 ⑤ 2304

17. 7 개의 숫자 0, 1, 2, 3, 4, 5, 6 에서 서로 다른 5 개의 숫자를 택하여 5 자리의 정수를 만들 때, 4 의 배수인 수의 개수를 구하여라.

▶ 답: _____ 개

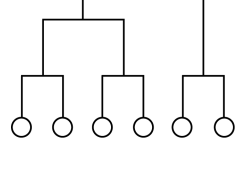
18. 4개의 숫자 1, 2, 3, 4를 이용하여 만든 네 자리의 정수 중에서 2300보다 큰 수의 개수는?

- ① 12개 ② 16개 ③ 20개 ④ 24개 ⑤ 30개

19. 남학생 7명, 여학생 2명이 3명씩 세 개의 조로 나누어 게임을 하려고 한다. 여학생 2명이 같은 조에 속하는 방법의 수는? (단, 조의 구분은 없다.)

- ① 60 ② 70 ③ 120 ④ 140 ⑤ 210

20. 갑, 을, 병, 정, 무, 기의 여섯 팀이 다음 그림과 같은 대진표에 의해 축구경기를 하려고 할 때, 대진표를 작성하는 경우의 수는?




- ① 30 ② 32 ③ 35 ④ 38 ⑤ 45

21. 1, 2, 3, 4, 5를 일렬로 배열할 때, i 번째 숫자를 a_i 라고 하자. 이러한 배열 중 $a_i \neq i$ 를 만족하는 것의 개수를 구하시오. (단, $1 \leq i \leq 5$)

 답: _____ 개

22. 다음 그림과 같은 6 개의 정사각형으로 이루어진 직사각형이 있다. 이때, 적어도 두 개 이상의 정사각형을 색칠하는 서로 다른 방법의 수를 구하여라. (단, 직사각형은 고정되어 있다.)



▶ 답: _____ 가지

23. *climate*의 7개의 문자를 일렬로 나열할 때, 세 모음이 알파벳 순서가 되도록 나열하는 방법의 수를 구하여라.

▶ 답: _____

24. ${}_nP_r = 360$, ${}_nC_r = 15$ 일 때, $n+r$ 의 값은?

① 6

② 7

③ 8

④ 9

⑤ 10

25. 운전석을 포함한 4인용 승용차 3대에 10명이 나누어 타려고 한다. 운전 면허가 있는 사람이 3명이고 이들은 각각 지정된 승용차를 운전한다고 할 때, 10명이 차에 나누어 타는 방법의 수는?

- ① 850 ② 880 ③ 920 ④ 1000 ⑤ 1050