

1. 두발자전거와 자동차가 합해서 24대 있습니다. 두발자전거와 자동차의 바퀴 수가 모두 74개라면, 자동차는 몇 대 있습니까?

▶ 답: 대

▷ 정답: 13대

해설

두발자전거 수(대)	8	9	10	11	12
자동차 수(대)	16	15	14	13	12
바퀴 수(개)	80	78	76	74	72

3. 성희네 집에서는 젓소와 닭을 기릅니다. 젓소와 닭의 수는 모두 20마리이고, 다리의 수는 62 개입니다. 젓소는 모두 몇 마리 있습니까?

▶ 답: 마리

▷ 정답: 11마리

해설

닭	10	9
젓소	10	11
다리 수	60	62

4. 구슬 100 개를 형과 동생이 나누어 가지려고 합니다. 형이 동생보다 10 개 더 가지려면, 동생은 구슬 몇 개를 가지게 되겠습니까?

▶ 답: 개

▷ 정답: 45 개

해설

형	51	52	...	55
동생	49	48	...	45
구슬 자	2	4	...	10

5. 두 수 사이의 관계식으로 알맞은 것은 어느 것입니까?

\square	1	2	3	4	5	6	7
Δ	5	10	15	20	25	30	35

① $\Delta = \square + 1$

② $\Delta = \square + 2$

③ $\Delta = \square \times 3$

④ $\Delta = \square \times 4$

⑤ $\Delta = \square \times 5$

해설

$\square \times 5 \Rightarrow \Delta$ 식으로 나타낸 것 : $\Delta = \square \times 5$

6. 어떤 수에 43를 더했더니 85가 나왔습니다. 어떤 수의 2배가 할아버지의 나이입니다. 할아버지는 몇 살입니까?

▶ 답: 살

▷ 정답: 84살

해설

$$\text{어떤 수} + 43 = 85$$

$$\text{어떤 수} : 85 - 43 = 42$$

$$\text{할아버지 나이} : 42 \times 2 = 84 \text{ (살)}$$

7. 원액 40mL로 음료수 3병을 만드는 공장이 있습니다. 이 공장에서 원액 4600mL로는 음료를 몇 병 만들 수 있을까?

▶ 답: 병

▷ 정답: 345병

해설

$$4600 \div 40 = 115 \rightarrow 115 \times 3 = 345(\text{병})$$

8. 5명에 4000 원 하는 생수를 24000 원으로는 몇 병 살 수 있는지 구하시오.

▶ 답: 병

▷ 정답: 30 병

해설

(생수 한 병의 값)= $4000 \div 5 = 800$ (원)
(살 수 있는 생수의 수)= $24000 \div 800 = 30$ (병)

9. 어느 문방구점에서 공책 3 권을 한 묶음에 600 원, 연필 5 자루를 한 묶음에 550 원에 팝니다. 6000 원을 반씩 나누어 공책과 연필을 사서 7 명의 학생에게 똑같이 나누어 주려고 할 때, 한 명의 학생이 갖게 되는 최대 공책 수를 구하십시오. (단, 공책과 연필은 낱개로 살 수 없습니다.)

▶ 답: 권

▷ 정답: 2 권

해설

두 수 사이의 관계를 표로 만들어 풀면

묶음 수	1	2	3	4	5	6
공책 수(권)	3	6	9	12	15	18
값(원)	600	1200	1800	2400	3000	3600

묶음 수	1	2	3	4	5	6
연필 수	5	10	15	20	25	30
값(원)	550	1100	1650	2200	2750	3300

6000 원으로 공책 15 권(3000 원), 연필 25 자루(2750 원)를 살 수 있습니다.

이때, 250 이 남으나 연필이나 공책은 더 살 수 없습니다.

어린이 7명에게 나누어 주어야 하므로

$$\text{공책} : 15 \div 7 = 2 \cdots 1,$$

연필 : $25 \div 7 = 3 \cdots 4$ 에서 한 명의 어린이에게 최대한 줄 수 있는 양은 공책 2권과 연필 3자루입니다.

10. 4 병에 3000 원인 주스를 13000 원으로는 몇 병 살 수 있습니까?

▶ 답: 병

▷ 정답: 17병

해설

병의 수	4	8	12	16	20
주스 값(원)	3000	6000	9000	12000	15000

13000 원은 16 병 사면 1000 원이 남으므로 17 병을 살 수 있습니다.

11. 민영이가 책을 펼쳤을 때 나타난 두 면의 쪽수의 합이 79였습니다. 민영이가 펼친 두 면의 쪽 수 중 작은 쪽은 얼마입니까?

▶ 답: 쪽

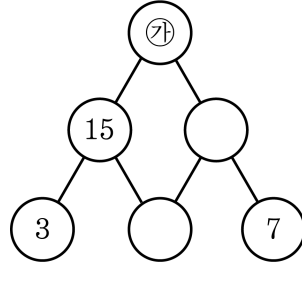
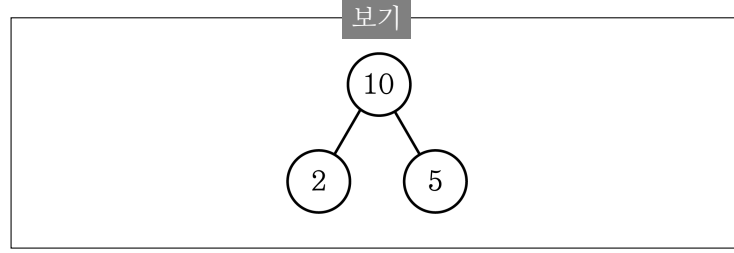
▷ 정답: 39쪽

해설

쪽수	38	40	39
쪽수	39	41	40
합	77	81	79
	79보다 작다	79보다 크다	

따라서 두 면의 쪽수는 39, 40쪽입니다.

12. <보기>와 같이 계산할 때, ㉔에 알맞은 수를 구하시오.



▶ 답:

▶ 정답: 525

해설

```
graph TD; ㉔((㉔)) --- 15((15)); ㉔ --- ㉓((㉓)); 15 --- 3((3)); 15 --- ㉒((㉒)); ㉓ --- ( ); ㉓ --- 7((7));
```

㉒ \times 3 = 15 이므로 ㉒ = 5, ㉓ = 5 \times 7 = 35
따라서, ㉔ = 15 \times 35 = 525 입니다.

13. 현진은 딱지 70 장을 동생과 나누어 가지려고 합니다. 현진이 동생보다 12 장 더 많이 가지려면 현진이 가질 수 있는 딱지는 몇 장입니까?

▶ 답: 장

▷ 정답: 41장

해설

(현진이 가질 딱지 수) = $(70 + 12) \div 2 = 41$ 장

14. 100cm 의 철사를 두 도막으로 나누려고 합니다. 긴 도막이 짧은 도막의 2 배보다 10cm 더 길게 하려면, 긴 도막은 몇 cm 로 해야 하나까?

▶ 답: cm

▷ 정답: 70 cm

해설

$$\text{짧은 도막} : (100 - 10) \div 3 = 30(\text{cm})$$

$$\text{긴 도막} : 100 - 30 = 70(\text{cm})$$

15. 준호는 1 월부터 용돈을 아껴 저축하기로 하였습니다. 저축한 돈은 매달 2 배로 늘어나서 4 월에는 36000 원이 되었다고 할 때, 준호가 1 월에 저축한 돈은 얼마입니까?

▶ 답: 원

▷ 정답: 4500 원

해설

거꾸로 생각합니다.

1 월 ($\times 2$) \Rightarrow 2 월 ($\times 2$) \Rightarrow 3 월 ($\times 2$) \Rightarrow 4 월 (36000 원)

따라서 1 월에 저축한 돈은 $36000 \div 2 \div 2 \div 2 = 4500$ (원) 입니다.

16. 현재 어머니의 나이는 34살이고 윤희의 나이는 8살입니다. 어머니의 나이가 윤희의 나이의 2배가 되는 때는 몇 년 후입니까?

▶ 답: 년 후

▷ 정답: 18년 후

해설

어머니의 나이가 1살 많아지면 윤희의 나이도 1살 많아집니다. 어머니의 나이가 윤희의 나이의 2배가 되는 때를 □년 후라고 하면

$$34 + \square = (8 + \square) \times 2$$

$$34 + \square = (8 + \square) + (8 + \square)$$

$$34 + \square = 16 + \square + \square$$

$$16 + \square = 34, \square = 18$$

따라서 18년 후입니다.

17. 어느 농장에서 사육하고 있는 가축들의 발을 세어 보았더니 모두 860개였습니다. 이 중 닭, 거위, 오리가 198마리이고 나머지는 소와 돼지입니다. 소와 돼지는 모두 몇 마리입니까?

▶ 답: 마리

▷ 정답: 116마리

해설

모든 가축의 발의 수 : 860 개
이 중 닭, 거위, 오리의 발이 2개인
두 발 짐승의 발의 수는 $198 \times 2 = 396$ (개)
나머지 소와 돼지의 발의 수는
 $860 - 396 = 464$ (개)
소와 돼지는 네 발 짐승이므로
 $464 \div 4 = 116$ (마리)

18. 다음 보기는 민지가 만든 새로운 수의 표현 방법입니다. 이와 같은 방법으로 수를 나타낼 때, 1.101은 어떻게 나타낼 수 있습니까?

<보기>

$$\begin{aligned}0.1 &= 01 \\ 1.1 &= 1 * 01 \\ 1.11 &= 1 * 01 * 001\end{aligned}$$

- ① $1 * 101$ ② $1 * 011$ ③ $1 * 01 * 001$
④ $1 * 01 * 0001$ ⑤ $1 * 010 * 0001$

해설

보기에 제시된 수의 표현 방식에서 *는 덧셈을 나타내는 기호이며, 숫자 앞의 0은 소수점 이하의 자리값을 나타냅니다. 즉 01은 1이 소수 첫째 자리의 숫자인 0.1을 나타냅니다. 그러므로 $1.1 = 1 + 0.1 = 1 * 01$
 $1.11 = 1 + 0.1 + 0.01$
 $= 1 * 01 * 001$
따라서 $1.101 = 1 + 0.1 + 0.001$
 $= 1 * 01 * 0001$

19. 보기를 보고 () 안에 알맞은 수를 써넣으시오.

< 보기 >

$$3 * 4 = 49 \quad 4 * 5 = 81 \quad 5 * 6 = 121$$

$$(15 - 4) * (8 + 5) = (\quad)$$

▶ 답 :

▷ 정답 : 576

해설

*의 규칙은 두 수를 더한 합끼리의 곱으로 나타내는 것입니다.

$$3 * 4 = (3 + 4) \times (3 + 4) = 49$$

$$4 * 5 = (4 + 5) \times (4 + 5) = 81$$

$$5 * 6 = (5 + 6) \times (5 + 6) = 121$$

$$(15 - 4) * (8 + 5) = 11 * 13 = (11 + 13) \times (11 + 13)$$

$$= 24 \times 24 = 576$$

20. 11, 15, 19, 23, 27, 31, ... 과 같이 수가 나열되어 있습니다. 규칙을 찾아서 60째 번 수를 구하시오.

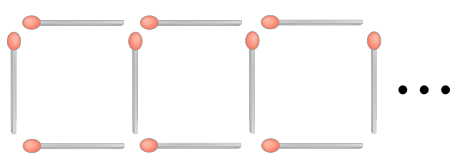
▶ 답 :

▷ 정답 : 247

해설

첫 번째 수가 11이고 4씩 커지는 규칙을 가지고 있으므로
(60번째 수) = $11 + 4 \times (60 - 1) = 11 + 236 = 247$

21. 다음과 같이 성냥개비로 정사각형을 만들려고 합니다. 정사각형 9개를 만드는 데 필요한 성냥개비는 몇 개입니까?



▶ 답: 개

▷ 정답: 28 개

해설

$$4 + 3 \times (9 - 1) = 28(\text{개})$$

22. 1 시간에 75km 를 가는 승용차가 있습니다. 이 승용차가 쉬지 않고 같은 빠르기로 450km 를 가는 데에 걸린 시간을 구하시오.

▶ 답 : 시간

▷ 정답 : 6시간

해설

1시간 : 75km

걸린 시간 : $450 \div 75 = 6$ 시간

23. 소정이는 30분에 1.8km를 걷고, 동규는 2시간에 8km를 걷습니다. 소정이네 집과 동규네 집 사이의 거리는 22.8km입니다. 두 사람이 각각의 집에서 동시에 출발하여 서로를 향해 걸으면, 두 사람은 몇 시간 후에 만나겠습니까?

▶ 답: 시간

▷ 정답: 3시간

해설

소정이가 1시간 동안 걷는 거리 :


$$1.8 + 1.8 = 3.6(\text{ km})$$

동규가 1시간 동안 걷는 거리 : $8 \div 2 = 4(\text{ km})$

시간	1	2	3
소정	3.6	7.2	10.8
동규	4	8	12
거리의 합	7.6	15.2	22.8

따라서 3시간 후에 만납니다.

24. 다음과 같은 방법으로 점을 찍어 나갈 때, 열째 번에는 점을 몇 개 찍어야 하나?



▶ 답: 개

▷ 정답: 110 개

해설
점이 가로에 10 개,
세로에 11 개이므로 $10 \times 11 = 110$ (개)

25. 승준이는 8월부터 100원짜리 동전을 모으기 시작하였습니다. 모은 동전의 개수는 매달 2배씩 늘어나 12월에는 224개가 되었습니다. 승준이가 8월에 모은 돈은 얼마입니까?

▶ 답: 원

▶ 정답: 1400 원

해설

8월에 모은 동전의 개수를 알아보면

$$\begin{array}{l} 12\text{월} \times 2 \left(\begin{array}{l} 224\text{개} \\ 112\text{개} \end{array} \right) \div 2 \\ 11\text{월} \times 2 \left(\begin{array}{l} 56\text{개} \\ 28\text{개} \end{array} \right) \div 2 \\ 10\text{월} \times 2 \left(\begin{array}{l} 28\text{개} \\ 14\text{개} \end{array} \right) \div 2 \\ 9\text{월} \times 2 \left(\begin{array}{l} 14\text{개} \end{array} \right) \div 2 \\ 8\text{월} \times 2 \left(\begin{array}{l} 14\text{개} \end{array} \right) \div 2 \end{array}$$

따라서 승준이가 8월에 모은 100원짜리 동전은 14개이므로, 모은 돈은 1400원입니다.