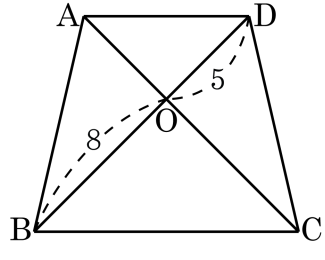
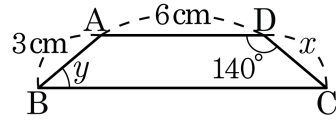


1. 다음 그림에서 $\square ABCD$ 는 등변사다리꼴이다. $\overline{OD} = 5$, $\overline{OB} = 8$ 일 때, \overline{AC} 의 길이는?



- ① 10 ② 11 ③ 12 ④ 13 ⑤ 14

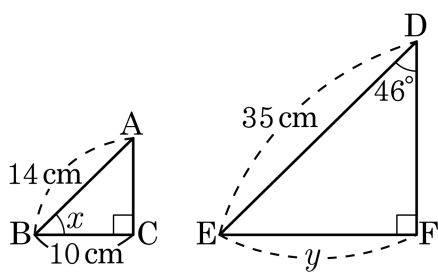
2. 다음 그림에서 $\square ABCD$ 가 등변사다리꼴일 때, x , y 의 값을 각각 구하여라.



▶ 답: $x =$ _____ cm

▶ 답: $\angle y =$ _____ $^\circ$

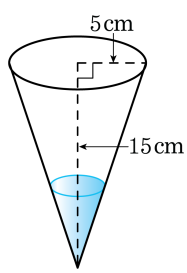
3. 다음 그림에서 $\triangle ABC \sim \triangle DEF$ 일 때, x, y 의 값을 구하여라.



▶ 답: $x =$ _____ $^{\circ}$

▶ 답: $y =$ _____ cm

4. 다음 그림과 같은 원뿔 모양의 그릇에 물을 부어서 밑면의 반지름의 길이가 2cm가 될 때까지 채웠다고 할 때, 물이 채워진 부분의 원뿔의 높이를 구하여라.



▶ 답: _____ cm


5. 주사위 한 개를 던질 때 나올 수 있는 경우는 모두 몇 가지인지 구하여라.

▶ 답: _____ 가지

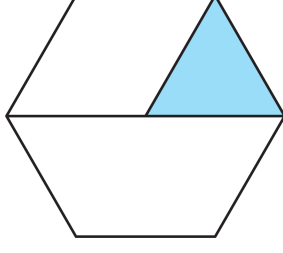
6. 다음 중 확률이 0 이 되는 경우를 모두 고르면?(정답 2개)

- ① 사람이 언젠가는 죽을 확률
- ② 주사위를 던져 6 이 나올 확률
- ③ 주머니에 빨간공 3 개, 파란공 2 개가 있을 때, 노란공을 뽑을 확률
- ④ 태양이 없어질 확률
- ⑤ 한국이 월드컵에서 우승할 확률

7. 진형이가 수학 문제를 푸는 데, <가> 문제를 맞힐 확률이 $\frac{1}{4}$, <나> 문제를 맞힐 확률이 $\frac{3}{5}$ 이다. 진형이가 두 문제 모두 맞힐 확률을 구하여라.

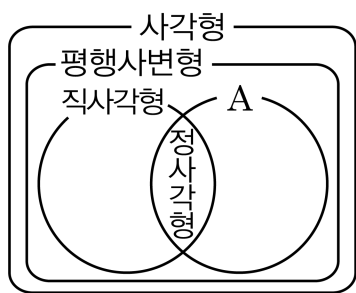
 답: _____

8. 다음과 같이 정삼각형, 마름모, 사다리꼴을 붙여서 만든 과녁이 있다. 이 과녁에 화살을 쏘아 맞혔을 때, 화살이 정삼각형을 맞힐 확률을 구하여라.



▶ 답: _____

9. 다음 그림에서 A에 속하는 사각형의 성질로 옳은 것은?



- ① 두 대각선의 길이가 같다.
- ② 네 변의 길이가 다르다.
- ③ 두 대각의 크기가 다르다.
- ④ 한 쌍의 대변의 길이만 같다.
- ⑤ 두 대각선이 서로 수직 이등분한다.

10. 다음 조건에 알맞은 사각형을 모두 구하면?

‘대각선이 서로 다른 것을 이등분한다.’

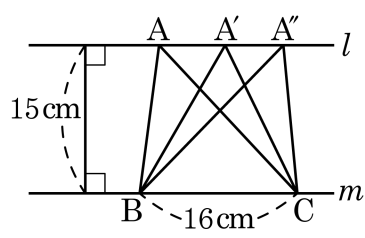
- ① 평행사변형, 등변사다리꼴, 마름모, 정사각형
- ② 등변사다리꼴, 평행사변형, 마름모
- ③ 마름모, 정사각형
- ④ 평행사변형, 직사각형, 마름모, 정사각형
- ⑤ 등변사다리꼴, 직사각형, 정사각형

11. 다음 조건에 알맞은 사각형을 모두 구하면?

대각선이 서로 다른 것을 이등분한다.

- ① 평행사변형, 등변사다리꼴, 마름모, 정사각형
- ② 등변사다리꼴, 평행사변형, 마름모
- ③ 평행사변형, 직사각형, 마름모, 정사각형
- ④ 등변사다리꼴, 직사각형, 정사각형
- ⑤ 마름모, 정사각형

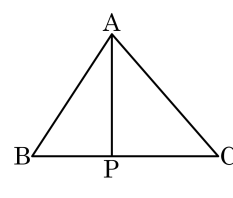
12. 다음 그림에서 $l \parallel m$ 이다. l 과 m 사이의 거리는 15cm , $\overline{BC} = 16\text{cm}$ 일 때, $\triangle ABC$, $\triangle A'BC$, $\triangle A''BC$ 의 넓이의 비는?



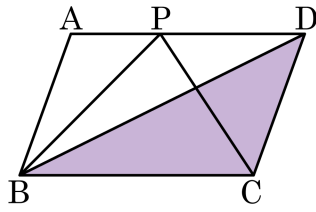
- ① 1 : 1 : 1 ② 1 : 2 : 1 ③ 1 : 2 : 3
 ④ 2 : 1 : 2 ⑤ 2 : 3 : 1

13. 다음 그림의 $\triangle ABC$ 에서 $\overline{BP} : \overline{PC} = 3 : 4$ 이고, $\triangle ABC$ 의 넓이가 49 cm^2 일 때, $\triangle APC$ 의 넓이는?

- ① 14 cm^2 ② 21 cm^2 ③ 28 cm^2
④ 30 cm^2 ⑤ 42 cm^2

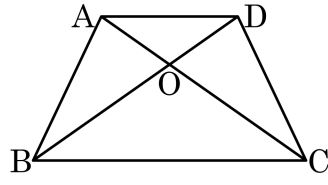


14. 다음 그림과 같이 $\square ABCD$ 가 평행사변형이고 $\triangle PBC = 14\text{cm}^2$ 일 때, 어두운 부분의 넓이는?



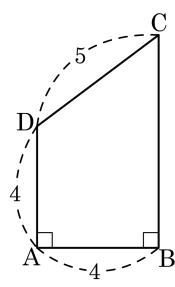
- ① 13cm^2 ② 14cm^2 ③ 15cm^2
④ 16cm^2 ⑤ 17cm^2

15. 다음 그림과 같이 $\overline{AD} \parallel \overline{BC}$ 인 사다리꼴 ABCD 에서 $\triangle ABO = 20\text{cm}^2$, $2\overline{DO} = \overline{BO}$ 일 때, $\triangle DBC$ 의 넓이는?



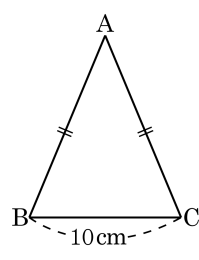
- ① 40cm^2 ② 50cm^2 ③ 60cm^2
④ 70cm^2 ⑤ 80cm^2

16. 다음 그림에서 \overline{BC} 의 길이는?



- ① 7 ② 8 ③ 9 ④ 10 ⑤ 11

17. 다음 그림과 같이 넓이가 60 cm^2 인 이등변삼각형 ABC 에서 $\overline{BC} = 10\text{ cm}$ 일 때, \overline{AB} 의 길이를 구하여라.



▶ 답: _____ cm

18. 두 개의 주사위를 동시에 던질 때, 나온 눈의 합이 4 또는 8 이 되는 경우의 수는?

① 4 가지

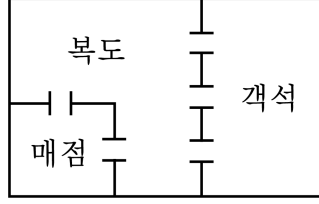
② 5 가지

③ 8 가지

④ 10 가지

⑤ 12 가지

19. 다음 그림과 같은 극장의 평면도가 있다. 객석을 나와서 매점으로 가는 경우의 수를 구하면?

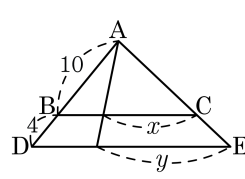


- ① 5가지 ② 6가지 ③ 12가지
 ④ 18가지 ⑤ 24가지

20. 남자 5명, 여자 3명의 후보 중 2명의 의원을 뽑으려 할 때, 2명 모두 남자가 뽑힐 확률을 구하여라.

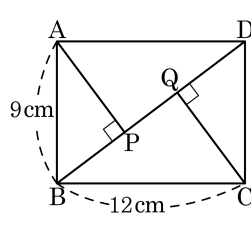
▶ 답: _____

21. 다음 그림과 같은 삼각형에서 $\overline{DE} \parallel \overline{BC}$ 일 때, $\frac{x}{y}$ 의 값을 구하여라.



▶ 답: _____

22. 다음 직사각형의 두 꼭짓점 A, C에서 대각선 BD에 내린 수선의 발을 각각 P, Q라 할 때, $\overline{AP} + \overline{PD}$ 의 길이를 구하여라.



▶ 답: _____ cm

23. 좌표평면 위의 두 점 $P(3, 4)$, $Q(x, -4)$ 사이의 거리가 10 일 때, x 의 값을 모두 구하여라.

▶ 답: $x =$ _____

▶ 답: $x =$ _____

24. 부모님과 나, 친구 5 명이 놀이동산에 놀러갔을 때, 우리 가족끼리 항상 이웃하여 서게 되는 경우의 수를 구하여라.

▶ 답: _____ 가지

25. 어떤 시험에서 A가 합격할 확률은 $\frac{2}{5}$, B가 합격할 확률은 $\frac{3}{8}$ 일 때, A, B 모두 불합격할 확률을 구하여라.

▶ 답: _____