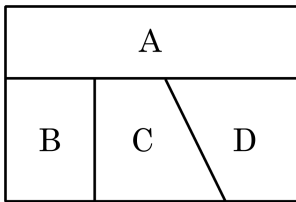


1. 다음 그림과 같은 도형에 4 가지색으로 칠하려고 한다. 이웃하는 부분은 서로 다른 색을 칠한다고 할 때, 칠하는 방법은 모두 몇 가지인가?



① 48 가지

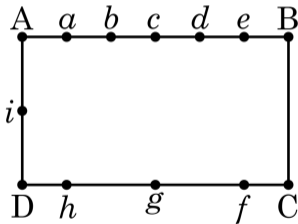
② 36 가지

③ 32 가지

④ 28 가지

⑤ 16 가지

2. 다음 그림과 같이 사각형 ABCD 변 위에 점 a 부터 i 까지 9 개의 점이 있다. 이 점 중 4 개를 이어서 만든 사각형 중에서 한 변이 \overline{AB} 위에 있는 사각형의 개수를 구하여라.



▶ 답: _____ 가지

3. A 주머니에는 분홍 공 2개와 파란 공 3개가 들어 있고, B 주머니에는 분홍 공 4개와 파란 공 2개가 들어 있다. 먼저 동전을 던져 앞면이 나오면 A 주머니를, 뒷면이 나오면 B 주머니를 선택한 후 주머니에서 한 개의 공을 꺼낼 때, 꺼낸 공이 분홍 공일 확률은?

① $\frac{1}{5}$

② $\frac{1}{6}$

③ $\frac{2}{9}$

④ $\frac{8}{15}$

⑤ $\frac{7}{16}$

4. A 주머니에는 노란 공이 2개, 검은 공이 3개 들어 있고, B 주머니에는 노란 공이 3개, 검은 공이 1개 들어 있다. 두 주머니에서 공을 각각 한 개씩 꺼낼 때, 노란 공 1개, 검은 공 1개가 나올 확률을 구하여라.



답: _____

5. 1에서 10까지의 수가 각각 적혀 있는 10장의 카드가 있다. 이 중에서 한 장의 카드를 뽑을 때, 다음 중 경우의 수가 가장 적은 것은?

① 4의 배수의 눈이 나오는 경우의 수

② 10의 약수인 눈이 나오는 경우의 수

③ 홀수인 눈이 나오는 경우의 수

④ 소수인 눈이 나오는 경우의 수

⑤ 5보다 큰 수의 눈이 나오는 경우의 수

6. 민호가 100 원, 50 원, 10 원짜리 동전을 각각 5 개씩 가지고 있다. 이 동전을 사용하여 민호가 250 원을 지불하는 경우의 수는?

① 3

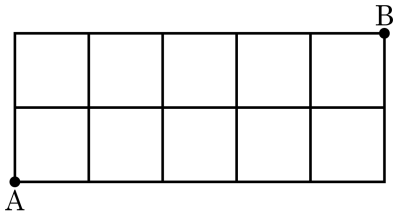
② 4

③ 5

④ 6

⑤ 7

7. 다음 그림과 같은 길이 있다. A에서 B까지 가는 최단 거리의 수를 구하여라.



답:

_____ 가지

8. 3만 원을 가지고 블라우스 한 벌과 치마 한 벌을 사기 위해 쇼핑을 나갔다. 쇼핑몰을 한 번 돌고나니 3가지의 블라우스(각각 1만 5천원, 1만 8천원, 2만 2천원)가 맘에 들었고, 3가지의 치마(각각 8천원, 1만원, 1만 3천원)가 맘에 들었다. 가지고 있는 현금으로 살 수 있는 방법의 가짓수는?

① 1가지

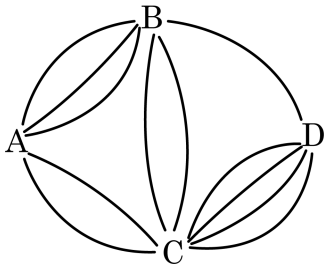
② 3가지

③ 6가지

④ 8가지

⑤ 9가지

9. A, B, C, D 네 지점 사이에 다음 그림과 같은 도로망이 있다. 같은 지점을 한번 밖에 지나 갈 수 없다고 할 때, A에서 D로 가는 길의 수를 구하면 ?



- ① 11가지 ② 24가지 ③ 28가지
 ④ 32가지 ⑤ 39가지

10. 동전 2 개와 주사위 2 개를 동시에 던질 때, 적어도 하나의 동전은 뒷면이 나오고 주사위는 모두 홀수의 눈이 나올 경우의 수는?

① 16 가지

② 20 가지

③ 24 가지

④ 25 가지

⑤ 27 가지

11. 1, 2, 3, 4 의 숫자가 각각 적힌 네 장의 카드가 들어있는 주머니에서 3 장의 카드를 뽑아 세 자리 정수를 만들 때, 작은 것부터 크기순으로 20 번째 수는?

① 413

② 421

③ 423

④ 431

⑤ 432

12. 0, 1, 2, 3, \dots , 9 의 숫자가 각각 적힌 10 장의 카드에서 2 장을 뽑아 두 자리의 정수를 만들 때, 그 중에서 3 의 배수의 개수를 구하여라.



답:

_____ 개

13. 10 은 $1 + 1 + 8$ 로 나타낼 수 있다. 이와 같이 10 을 3 개의 자연수의 합으로 나타내는 방법은 모두 몇 가지인지 구하여라. (단, $1 + 1 + 8$ 은 $1 + 8 + 1, 8 + 1 + 1$ 과 같은 것으로 한다.)



답:

가지

14. 색깔이 다른 두 개의 주사위를 던져서 나온 눈의 수를 차례로 a, b 라 할 때, x 에 대한 방정식 $ax - b = 0$ 의 해가 자연수일 확률을 구하여라.



답: _____

15. 두 개의 주머니에 검은색 바둑돌과 흰색 바둑돌이 섞여서 들어있는데, 첫 번째 주머니에는 검은색 바둑돌이 6 개, 흰색 바둑돌이 4 개 들어있고, 두 번째 주머니에는 각각의 바둑돌의 개수는 알 수 없지만 총 20 개의 바둑돌이 들어 있다. 각각의 주머니에서 한 개씩의 바둑돌을 꺼냈을 때, 적어도 한 개는 검은색 바둑돌이 나올 확률이 $\frac{16}{25}$ 이다. 이 때, 두 번째 주머니에 들어있는 흰색 바둑돌의 개수를 구하여라.



답:

_____ 개

16. 정사면체의 네 면에 각각 $7, 7, -7, 0$ 이 적혀 있다. 이 정사면체를 두 번 던졌을 때, 바닥에 깔리는 숫자의 합이 0 이 될 확률은?

① $\frac{1}{4}$

② $\frac{5}{16}$

③ $\frac{3}{8}$

④ $\frac{7}{16}$

⑤ $\frac{1}{2}$

17. A, B가 문제를 푸는데 A가 문제를 풀 확률은 $\frac{2}{3}$, B가 문제를 풀 확률은 x 라고 한다. A, B가 둘 다 문제를 풀지 못할 확률이 $\frac{1}{5}$ 일 때, x 의 값은?

① $\frac{3}{10}$

② $\frac{7}{10}$

③ $\frac{1}{3}$

④ $\frac{3}{5}$

⑤ $\frac{2}{5}$

18. A, B, C 세 명의 명중률은 각각 $\frac{1}{2}$, $\frac{3}{4}$, $\frac{2}{3}$ 이다. 이 때, 세 명이 동시에 1발을 쏘았을 때, 이들 중 2명만 목표물에 명중시킬 확률은?

① $\frac{1}{4}$

② $\frac{11}{24}$

③ $\frac{1}{2}$

④ $\frac{3}{4}$

⑤ $\frac{1}{12}$

19. 천하장사 씨름 대회의 결승전에서는 5번의 시합에서 3번을 먼저 이기면 천하장사가 된다. 지금까지 2번의 시합에서 A가 2승을 하였다고 할 때, A가 천하장사가 될 확률은 B가 천하장사가 될 확률의 몇 배인가? (단, 두 사람이 한 게임에서 이길 확률이 서로 같다.)

① 2배

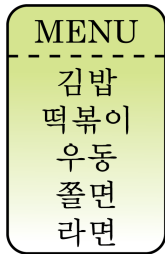
② 4배

③ 6배

④ 7배

⑤ 8배

20. 다음은 어느 분식점의 메뉴판이다. 전화주문으로 다른 음식을 두 개 주문하는 방법의 수는? (주문 순서는 상관 있다.)



- ① 5가지 ② 10가지 ③ 9가지
- ④ 18가지 ⑤ 20가지

21. 1, 1, 1, 2, 2, 3, 3 의 숫자가 각각 적힌 카드 중에서 3 개를 뽑아 만들 수 있는 세 자리의 정수의 개수를 구하여라.



답:

_____ 개

22. 다섯 개의 문자 가, 가, 나, 나, 다를 일렬로 나열할 때, 같은 문자는 바로 옆에 오지 않도록 나열하는 경우의 수를 구하여라



답:

_____ 가지

23. 정육각형의 내부에 3 개의 대각선을 그어 4 개의 삼각형을 만들려고 한다. 이러한 방법 중 2 쌍의 삼각형이 합동인 경우의 수를 구하여라



답:

_____ 가지

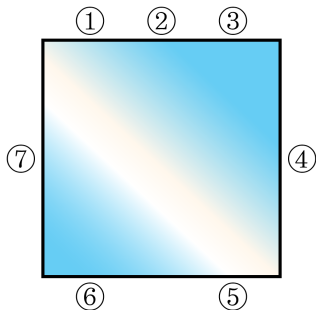
24. 한 개의 주사위를 두 번 던져서 처음 나온 수를 x , 나중에 나온 눈의 수를 y 라고 할 때, $\frac{2y}{x} < 1$ 이 되는 경우의 수를 구하여라.



답:

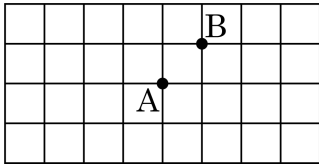
_____ 가지

25. 다음 그림과 같이 정사각형 모양의 탁자에 의자가 놓여 있다. 7 명의 학생이 이 의자에 하나씩 앉을 수 있는 서로 다른 방법의 가짓수를 구하여라.



➤ 답: _____ 가지

26. 다음과 같은 도형에서 한 점 A 에서 선을 따라 4 개의 선분을 이동하여 점 B 로 가려고 할 때, 점 A 가 이동할 수 있는 방법의 가짓수를 구하여라.



답:

_____ 가지

27. 1, 2, 3, 4, 5, 6의 숫자가 각각 적힌 6장의 카드에서 임의로 3장의 카드를 뽑아 세 자리의 정수를 만들 때, 450 이상일 확률은?

① $\frac{2}{5}$

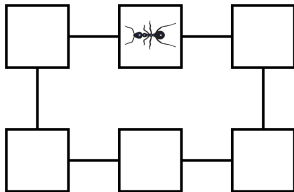
② $\frac{1}{12}$

③ $\frac{3}{25}$

④ $\frac{1}{72}$

⑤ $\frac{2}{15}$

28. 다음과 같은 6 개의 빈 칸 중 한 칸에 있는 어떤 개미가 인접한 칸으로 이동할 확률은 각각 $\frac{1}{2}$ 이다. 이 개미가 10 번 이동하여 원래 칸으로 돌아올 확률을 구하여라.



> 답: _____

29. 석영, 정현, 민수, 헤민 4 명이 한 줄로 늘어서서 사진을 찍으려고 한다.
이들 4 명이 늘어설 때 석영이와 헤민이가 서로 이웃할 확률은?

① $\frac{1}{2}$

② $\frac{1}{3}$

③ $\frac{1}{4}$

④ $\frac{3}{4}$

⑤ $\frac{1}{6}$

30. 두 개의 주사위를 던져서 나온 눈의 수를 차례로 a, b 라 할 때, 일차 함수 $y = ax + b$ 가 $(1, 2)$ 를 지날 확률을 구하여라.



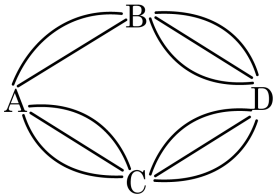
답: _____

31. 예지의 증조할머님은 사탕을 항아리 안에 보관하신다. 항아리 속에 땅콩사탕과 박하사탕을 합해서 40 개가 들어 있는데, 이 중 임의로 항아리에서 꺼낼 때, 그것이 땅콩사탕일 확률이 $\frac{9}{20}$ 이라고 한다. 이때, 항아리 속에 들어 있는 박하사탕의 개수를 구하여라.



답: _____ 개

32. 다음 그림과 같이 A 에서 D 로 가는 도로에서 A 를 출발하여 D 를 거쳐 다시 A 까지 돌아올 때, 모든 경우의 수를 구하여라.



답:

_____ 가지

33. 두 개의 주사위를 던져서 나온 눈의 수를 각각 a, b 라 할 때, $a < b + 3$ 일 경우의 수는 얼마인지 알맞은 것을 찾으시오.

① 22가지

② 24가지

③ 26가지

④ 28가지

⑤ 30가지

34. 노란색 도화지 3장과 파란색 도화지 1장을 일렬로 세워서 그 색의 배열로 신호를 만들 때, 만들 수 있는 신호의 경우의 수를 p 개, *natural* 에서 사용된 문자를 일렬로 나열하는 경우의 수를 q 개라 할 때, $p + q$ 의 값을 구하여라.



답:

_____ 가지

35. 3에서 7까지의 숫자가 적힌 5장의 카드에서 3장을 뽑아 세 자리의 정수를 만들려고 한다. 이 때, 백의 자리에 3이 오는 경우의 수는?

① 3 가지

② 6 가지

③ 12 가지

④ 24 가지

⑤ 60 가지

36. 10부터 9999까지의 자연수 중, 숫자 2가 2번만 쓰인 네 자리 자연수의 개수를 구하여라.



답: _____

37. 세 개의 주사위를 동시에 던져서 나오는 눈의 수를 각각 p, q, r 이라 할 때, $pq + qr + rp$ 의 값이 홀수가 되는 경우의 수를 구하여라.



답:

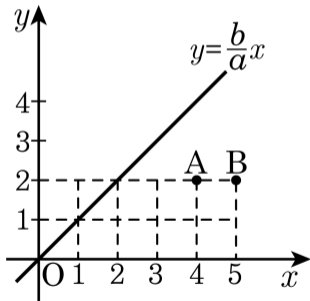
_____ 가지

38. 1, 2, 3, 4 의 네 정수를 중복 사용하여 만들 수 있는 다섯 자리의 정수의 개수를 m 개,
3 개의 볼펜을 4 개의 필통에 넣는 방법의 가짓수를 n 개라 할 때, mn 의 값을 4의 거듭제곱의 꼴로 나타내어라.



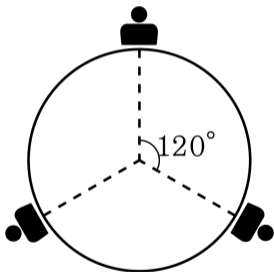
답: _____

39. 다음 그림과 같이 두 점 $A(4, 2)$, $B(5, 2)$ 와 직선 $y = \frac{b}{a}x$ 가 있다.
 주사위 두 개를 던져서 나온 눈의 수를 차례로 a , b 라고 할 때, 직선 $y = \frac{b}{a}x$ 와 선분 AB 가 만나지 않는 경우의 수를 구하여라.



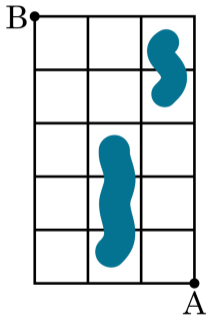
> 답: _____ 가지

40. 아이 3 명과 어른 3 명이 둥근 탁자 둘레에 같은 간격으로 앉을 때, 다음 그림과 같이 어른 3 명이 탁자의 중심에 대하여 서로 120° 를 이루며 앉게 되는 경우의 수를 구하여라.



> 답: _____ 가지

41. 다음 그림과 같이 가운데에 지나갈 수 없는 높이 있는 길이 있다. A 지점에서 B 지점까지 갈 수 있는 최단 경로의 가짓수를 구하여라.



답:

_____ 가지

42. A, B, C 의 알파벳이 적힌 문자 카드가 3 장, 1 부터 9 까지의 자연수가 적힌 숫자 카드가 9 장, ★, ◆ 가 그려진 그림 카드가 2 장이 있다. 이 중에서 문자 카드 1 장, 숫자 카드 2 장, 그림 카드 1 장을 골라서 (문자, 작은 숫자, 큰 숫자, 그림) 순서로 만들 수 있는 조합은 모두 몇 가지인지 구하여라.



답:

_____ 가지

43. 0, 1, 2, 3, 5, 7 중 서로 다른 4 개의 수를 선택하여 만든 자연수를 x 라 할 때, $2500 < x < 5300$ 일 확률을 구하여라.



답: _____

44. 1 에서 8 까지의 숫자가 한번씩 적힌 8장의 카드가 있다. 처음 뽑은 숫자를 x , 두 번째 뽑은 숫자를 y 라 할 때, $2x + y = 12$ 가 될 확률을 $\frac{b}{a}$ 라 하자. $|9b - a|$ 의 값을 구하여라.



답: _____

45. 야구는 공격하는 회에 3 아웃을 당하면 다음 회로 넘어간다. 1 번 타자의 타율은 2 할 5 푼, 2 번 타자의 타율은 2 할, 3 번 타자의 타율은 3 할인 어떤 팀이 1 회초 공격에서 4 번 타자가 타석에 들어설 확률을 구하여라. (단, 1, 2, 3 번 타자는 안타 또는 아웃 외에 다른 상황을 맞지 않는 것으로 가정한다.)



답: _____

46. A, B, C 세 사람이 낚시를 하였다. A가 물고기를 잡을 확률이 $\frac{1}{5}$, A, B 모두 물고기를 잡지 못할 확률이 $\frac{12}{25}$, A, B, C 모두 물고기를 잡을 확률이 $\frac{1}{25}$ 일 때, B 또는 C가 물고기를 잡을 확률을 구하여라.



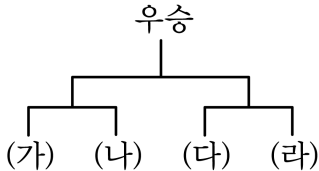
답: _____

47. A, B, C 세 사람이 어떤 시험을 보았다. B의 합격률이 25%, B, C 모두 떨어질 확률이 50%, A, B 모두 떨어질 확률이 37.5% 일 때, C 또는 A가 합격할 확률을 구하여라.



답:

48. 다음과 같은 준결승과 결승전이 있는 토너먼트 경기에서 A, B, C, D 팀이 각각 (가), (나), (다), (라) 자리에 배정될 확률은 $\frac{1}{4}$ 이고, A가 B를 이길 확률은 $\frac{2}{5}$, C를 이길 확률은 $\frac{3}{4}$ 이고, D를 이길 확률은 $\frac{2}{7}$ 일 때, B가 C를 이길 확률은 $\frac{3}{5}$, D를 이길 확률은 $\frac{3}{7}$ 이며 C가 D를 이길 확률은 $\frac{5}{8}$ 일 때, C가 우승할 확률을 구하여라. (단, C는 준결승전에서 A 또는 B와 시합을 하는 것으로 한다.)



> 답: _____

49. 어떤 탁구 선수 A 가 B, C 와 시합을 가진다. A 가 B 에게 이기지 못할 확률은 $\frac{3}{7}$, A 가 B, C 에게 모두 이길 확률은 $\frac{9}{56}$ 일 때, A 가 B, C 중 한 명의 선수에게만 이길 확률을 구하여라.



답: _____

50. 흰색, 검정색, 빨간색, 파란색 네 가지 색의 양말들이 각각 20 켤레씩 나무상자 안에 어지럽게 섞여 있다. 색깔을 구별할 수 없는 어두운 상자에서 양말을 꺼낼 때, 적어도 다섯 켤레의 짝을 확실하게 맞추려면 최소한 몇 개의 양말을 꺼내야 하는가? (단, 색깔이 같으면 짝이 맞는 것으로 본다.)

① 12 개

② 13 개

③ 14 개

④ 15 개

⑤ 16 개