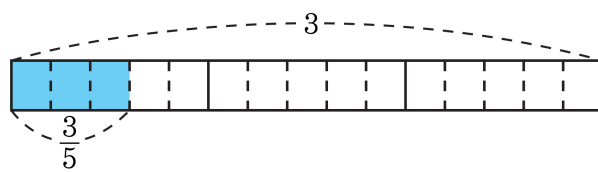


1. 그림을 보고, 안에 알맞은 수를 차례대로 써넣으시오.



3은 $\frac{3}{5}$ 이 이므로 $3 \div \frac{3}{5} = \text{$ 입니다.

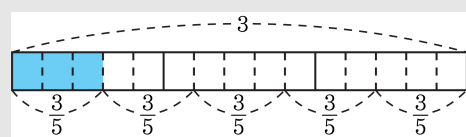
▶ 답:

▶ 답:

▷ 정답: 5

▷ 정답: 5

해설



3은 $\frac{3}{5}$ 이 5이므로 $3 \div \frac{3}{5} = 5$ 입니다.

2. 소수의 나눗셈을 하시오.

$$18.98 \div 7.3$$

▶ 답:

▷ 정답: 2.6

해설

$$\begin{array}{r} 2.6 \\ 7.3 \overline{)18.98} \\ \underline{14\ 6} \\ 4\ 38 \\ \underline{4\ 38} \\ 0 \end{array}$$

→ 나누는 수와 나누어지는 수의 소수점을 각각 오른쪽으로 한 자리씩 옮겨서 계산합니다.

3. 원주와 지름의 길이의 관계를 나타낸 표입니다. 빈 칸에 공통으로 들어갈 수를 고르시오.

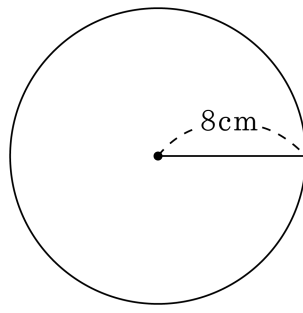
원주	지름의 길이	원주÷지름
(1) 21.98 cm	7 cm	
(2) 37.68 cm	12 cm	
(3) 31.4 cm	10 cm	
(4) 12.56 cm	4 cm	
(5) 18.84 cm	6 cm	

- ① 3.141 ② 3.1416 ③ 3.142
④ 3.14 ⑤ 3.1

해설

$21.98 \div 7$, $37.68 \div 12$, $31.4 \div 10$,
 $12.56 \div 4$, $18.84 \div 6$
모두 계산 결과가 똑같이 3.14 가 됩니다.
따라서 지름의 길이에 대한 원주의 비가
3.14 가 됨을 알 수 있습니다.

4. 원의 원주를 구하시오.



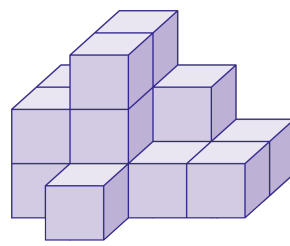
▶ 답: cm

▶ 정답: 50.24cm

해설

$$\begin{aligned}(\text{원주}) &= (\text{지름}) \times 3.14 \\ 16 \times 3.14 &= 50.24(\text{cm})\end{aligned}$$

5. 왼쪽 그림과 같은 모양을 쌓는 데 필요한 쌓기나무의 개수를 위에서 본 모양 위에 나타낸 것 중 옳은 것은 어느 것입니까?



①

2	3	1	2
1	2	1	1
	1		

②

2	3	2
2	3	1
		1

③

2	3	2
2	3	1
1		

④

2	3	2	1
2	3	1	1
		1	

⑤

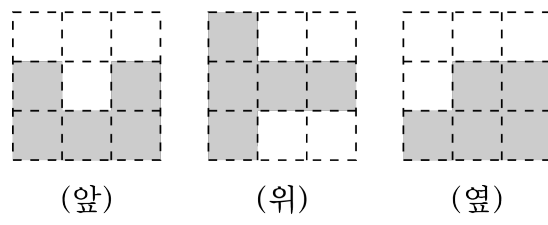
2	3	2	1
2	3	1	2
		1	

해설

④

2	3	2	1
2	3	1	1
		1	

6. 다음은 쌓기나무로 쌓은 모양을 앞, 위, 옆에서 본 모양대로 그린 것입니다. 어떤 모양인지 고르시오.



- ①
- ②
- ③
- ④
- ⑤

해설

위치에 따른 쌓기 나무를 잘 살펴 봅니다.

7. 다음 중 참인 비례식은 어느 것인지 고르시오.

① $2:6 = 4:8$ ② $7:3 = 3:7$ ③ $10:5 = 5:1$

④ $3:5 = 6:10$ ⑤ $3:6 = 13:16$

해설

비례식에서 외항의 곱과 내항의 곱은 같다.

④ $3:5 = 6:10$

외항의 곱 = $3 \times 10 = 30$

내항의 곱 = $5 \times 6 = 30$

8. 영수네 논과 밭의 넓이는 5 : 3입니다. 논이 2ha라면, 밭의 넓이는 몇 ha인지 알아보기 위한 비례식은 다음 중 어느 것입니까?

① $5 : 3 = \square : 2$ ② $3 : 2 = 5 : \square$ ③ $\square : 2 = 5 : 3$

④ $5 : \square = 2 : 3$ ⑤ $5 : 3 = 2 : \square$

해설

논의 넓이가 5일 때 밭이 3이다.
이때 논이 2ha라면 밭의 넓이는 몇 ha인지 알아보려면
 $5 : 3 = 2 : \square$ 의 비례식을 풀면된다.

9. 다음 중 어떤 양을 4:9로 비례배분할 때, 알맞은 분수의 비를 모두 고르시오.

① $\frac{1}{4} : \frac{1}{9}$
④ $\frac{4}{13} : \frac{9}{13}$

② $\frac{1}{9} : \frac{1}{4}$
⑤ $\frac{9}{13} : \frac{4}{13}$

③ $\frac{36}{4} : \frac{36}{9}$

해설

각 비를 가장 간단한 자연수의 비로 만들어
4:9와 같은지 비교합니다.

① 9:4 ② 4:9 ③ 9:4 ④ 4:9 ⑤ 9:4

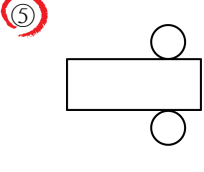
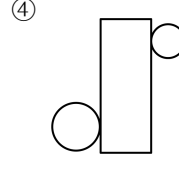
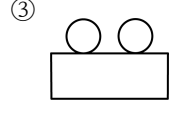
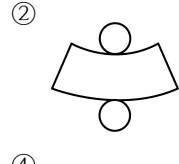
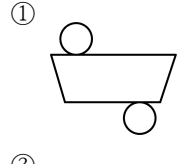
10. 다음 설명 중 틀린 것을 모두 고르시오.

- ① 원의 둘레의 길이를 원주라고 합니다.
- ② 원의 반지름의 길이에 대한 원주의 비율을 원주율이라 합니다.
- ③ $(\text{원주}) = (\text{반지름}) \times 3.14$ 입니다.
- ④ 원주율은 큰 원은 크고 작은 원은 작습니다.
- ⑤ $(\text{원주율}) = (\text{원주}) \div (\text{지름}) = 3.14$ 입니다.

해설

- ② 원의 지름에 대한 원주의 비율을 원주율이라 합니다.
- ③ $(\text{원주}) = (\text{지름}) \times 3.14$
- ④ 원주율은 모든 원에서 일정합니다.

11. 다음 중 원기둥의 전개도는 어느 것입니까?



해설

원기둥의 전개도를 그리면 옆면은 직사각형이고, 직사각형의 위, 아래에 합동인 원이 있습니다.

12. 다음 중 몫이 3.5 보다 큰 것은 어느 것입니까?

- ① $13.86 \div 4.2$ ② $25.92 \div 7.2$ ③ $25.16 \div 7.4$
④ $9.36 \div 3.6$ ⑤ $3.375 \div 1.25$

해설

- ① $13.86 \div 4.2 = 138.6 \div 42 = 3.3$
② $25.92 \div 7.2 = 259.2 \div 72 = 3.6$
③ $25.16 \div 7.4 = 251.6 \div 74 = 3.4$
④ $9.36 \div 3.6 = 93.6 \div 36 = 2.6$
⑤ $3.375 \div 1.25 = 337.5 \div 125 = 2.7$

13. 다음 중 나눗셈의 몫이 가장 큰 것은 어느 것입니까?

㉠ $110 \div 4.4$

㉡ $104 \div 2.6$

㉢ $19.38 \div 5.7$

㉣ $108.45 \div 2.41$

▶ 답 :

▶ 정답 : ㉣

해설

㉠ $110 \div 4.4 = 1100 \div 44 = 25$

㉡ $104 \div 2.6 = 1040 \div 26 = 40$

㉢ $19.38 \div 5.7 = 193.8 \div 57 = 3.4$

㉣ $108.45 \div 2.41 = 10845 \div 241 = 45$

14. 동전을 직선 위에서 3바퀴 굴렸더니 22.137 cm를 움직였습니다. 이 동전의 지름을 구하시오.

▶ 답: cm

▷ 정답: 2.35 cm

해설

$$\text{(원주)} = (\text{전체 굴러간 거리}) \div (\text{굴린 횟수})$$

$$= 22.137 \div 3 = 7.379(\text{cm})$$

$$\text{(원주)} = (\text{지름}) \times 3.14$$

$$7.379 = (\text{지름}) \times 3.14$$

$$\text{(지름)} = 7.379 \div 3.14 = 2.35(\text{cm})$$

16. 다음 중 원뿔의 모선에 대한 설명으로 알맞은 것을 있는대로 고르시오.

- ① 모선의 길이는 모두 같습니다.
- ② 모선의 길이는 각각 다릅니다.
- ③ 모선의 수는 2개입니다.
- ④ 모선의 수는 무수히 많습니다.
- ⑤ 원뿔의 꼭짓점에서 밑면인 원 둘레의 한 점을 이은 선분입니다.

해설

- ② 모선의 길이는 모두 같습니다.
- ③ 모선의 수는 무수히 많습니다.

17. 밑면의 가로가 $2\frac{2}{3}$ cm, 세로가 $\frac{6}{7}$ cm인 직육면체가 있습니다. 이 직육면체의 부피가 $1\frac{3}{7}$ cm³ 라면, 높이는 몇 cm인지 구하시오.

- ① $\frac{1}{8}$ cm ② $\frac{3}{8}$ cm ③ $\frac{7}{8}$ cm
④ $1\frac{5}{8}$ cm ⑤ $\frac{5}{8}$ cm

해설

(높이) = (직육면체의 부피) ÷ (한 밑면의 넓이)

$$= 1\frac{3}{7} \div \left(2\frac{2}{3} \times \frac{6}{7} \right) = 1\frac{3}{7} \div \left(\frac{8}{3} \times \frac{6}{7} \right)$$

$$= 1\frac{3}{7} \div \frac{16}{7} = \frac{10}{7} \div \frac{16}{7} = \frac{10}{16}$$

$$= \frac{5}{8} \text{ (cm)}$$

따라서 직육면체의 높이는 $\frac{5}{8}$ cm입니다.

18. 어떤 수에 $\frac{3}{4}$ 을 곱한 후 $2\frac{1}{9}$ 로 나누어야 할 것을 잘못하여 $\frac{3}{4}$ 으로 나누는 후 $2\frac{1}{9}$ 을 곱하였더니 $12\frac{2}{3}$ 가 되었습니다. 바르게 계산한 답을 구하십시오.

▶ 답:

▶ 정답: $1\frac{91}{152}$

해설

어떤 수를 \square 라 하면

$$\square \div \frac{3}{4} \times 2\frac{1}{9} = 12\frac{2}{3}$$

$$\square = 12\frac{2}{3} \div 2\frac{1}{9} \times \frac{3}{4} = \frac{38}{3} \times \frac{9}{19} \times \frac{3}{4} = \frac{9}{2}$$

따라서 바르게 계산한 값을 구하면

$$\frac{9}{2} \times \frac{3}{4} \div 2\frac{1}{9} = \frac{9}{2} \times \frac{3}{4} \times \frac{9}{19} = 1\frac{91}{152}$$

19. 어떤 수를 53.8로 나누어야 할 것을 잘못하여 35.2로 나누었더니 몫이 15.3이고, 나머지는 0.35이었습니다. 바르게 계산했을 때의 몫을 자연수 부분까지 구했을 때 그 나머지는 얼마입니까?

▶ 답:

▷ 정답: 0.91

해설

어떤 수를 \square 라 할 때

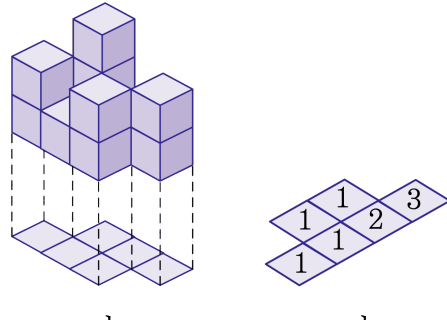
$$\square \div 35.2 = 15.3 \cdots 0.35$$

$$\square = 35.2 \times 15.3 + 0.35 = 538.56 + 0.35 = 538.91$$

따라서 바르게 계산하면

$$538.91 \div 53.8 = 10 \cdots 0.91 \text{ 이므로 나머지는 } 0.91 \text{ 입니다.}$$

20. 다음은 쌓기나무를 쌓은 모양을 나타낸 것입니다. 1층에 있는 쌓기나무의 수는 어느 것이 더 많은지 구하시오. (단, 바탕 그림 위의 수는 각 자리에 쌓여있는 쌓기나무의 수입니다.)



(가, 나, 같다. 셋 중 한가지를 쓰시오.)

▶ 답:

▷ 정답: 같다.

해설

가의 1층 : 6개

나의 1층 : 6개

따라서 가와 나의 1층의 쌓기나무의 수는 같습니다.