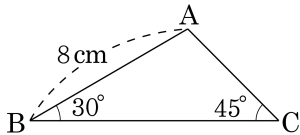


1. 다음 그림의 삼각형 ABC 에서 $\angle B = 30^\circ$, $\angle C = 45^\circ$, $\overline{AB} = 8\text{ cm}$ 일 때, \overline{AC} 의 길이를 구하여라.

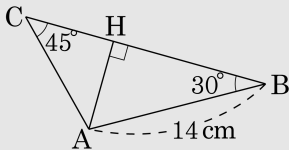


▶ 답: cm

▷ 정답: $4\sqrt{2}\text{ cm}$

해설

꼭짓점 A 에서 \overline{BC} 에 내린 수선의 발을 H 라 하면



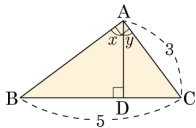
$$\overline{BH} = 8 \cos 30^\circ = 8 \times \frac{\sqrt{3}}{2} = 4\sqrt{3}(\text{cm})$$

$$\overline{AH} = 8 \sin 30^\circ = 8 \times \frac{1}{2} = 4\text{ cm}$$

$$\overline{CH} = \overline{AH} = 4(\text{cm})$$

$$\overline{AC} = 4\sqrt{2}\text{ cm}$$

2. 다음 그림에서 $\tan x + \cos y$ 의 값을 구하여라.



▶ 답:

▶ 정답: $\frac{32}{15}$

해설

$$\triangle ABC \sim \triangle DBA \sim \triangle DAC \text{ (AA 닮음)}$$

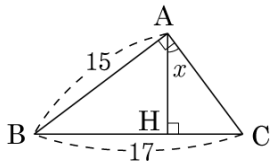
$$\Rightarrow \angle x = \angle ACD, \angle y = \angle ABD$$

또한, $\overline{BA} = \sqrt{5^2 - 3^2} = \sqrt{16} = 4$ 이다.

$$\tan x = \frac{\overline{DB}}{\overline{AD}} = \frac{\overline{BA}}{\overline{AC}} = \frac{4}{3}, \cos y = \frac{\overline{AD}}{\overline{AC}} = \frac{\overline{BA}}{\overline{CB}} = \frac{4}{5} \text{ 이고,}$$

$$\text{따라서 } \tan x + \cos y = \frac{4}{3} + \frac{4}{5} = \frac{20}{15} + \frac{12}{15} = \frac{32}{15} \text{ 이다.}$$

3. 다음 그림에서 $\angle BAC = 90^\circ$ 이고, $\overline{BC} \perp \overline{AH}$ 이다. $\angle CAH = x$ 라 할 때, $\tan x$ 의 값을 구하여라.



▶ 답:

▶ 정답: $\frac{8}{15}$

해설

$$\overline{AC} = \sqrt{17^2 - 15^2} = 8$$

$\triangle ABC \sim \triangle HAC$ (\because AA 닮음)

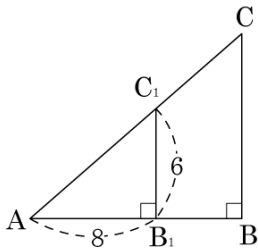
$$x = \angle ABC \text{ 이므로 } \tan x = \frac{8}{15}$$

4. 다음 그림에서 $\frac{\overline{BC}}{\overline{AC}} + \frac{\overline{AB}}{\overline{AC}}$ 의 값은?

① $\frac{3}{4}$
④ $\frac{6}{5}$

② $\frac{4}{3}$
⑤ $\frac{7}{5}$

③ $\frac{4}{5}$



해설

$$\triangle AB_1C_1 \text{ 에서 } \overline{AC_1} = \sqrt{8^2 + 6^2} = 10$$

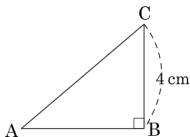
$$\triangle AB_1C_1 \sim \triangle ABC \quad (\because \text{AA 답음})$$

$$\frac{\overline{BC}}{\overline{AC}} = \frac{\overline{B_1C_1}}{\overline{AC_1}} = \frac{6}{10} = \frac{3}{5}$$

$$\frac{\overline{AB}}{\overline{AC}} = \frac{\overline{AB_1}}{\overline{AC_1}} = \frac{8}{10} = \frac{4}{5}$$

$$\therefore \left(\frac{3}{5} + \frac{4}{5} \right) = \frac{7}{5}$$

5. 다음 그림과 같은 직각삼각형 ABC 에서 $\sin A = \frac{2}{3}$ 이고, \overline{BC} 가 4cm 일 때, \overline{AC} 의 길이는?



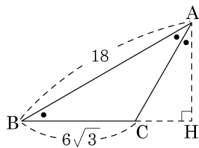
- ① 4 cm ② 6 cm ③ 8 cm ④ 9 cm ⑤ 12 cm

해설

$$\sin A = \frac{\overline{BC}}{\overline{AC}} = \frac{4}{\overline{AC}} = \frac{2}{3} \text{ 이므로 } 12 = 2 \times \overline{AC} \text{ 이다.}$$

따라서 $\overline{AC} = 6\text{cm}$ 이다.

6. 다음 그림과 같은 $\triangle ABC$ 의 넓이를 구하여라.

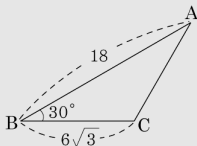


▶ 답 :

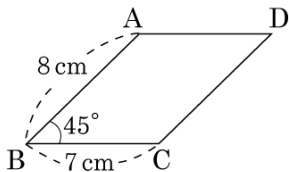
▷ 정답 : $27\sqrt{3}$

해설

$$\begin{aligned}
 (\triangle ABC) &= \frac{1}{2} \times 18 \times 6\sqrt{3} \times \sin 30^\circ \\
 &= \frac{1}{2} \times 18 \times 6\sqrt{3} \times \frac{1}{2} \\
 &= 27\sqrt{3}
 \end{aligned}$$



7. 다음 그림과 같은 평행사변형 ABCD 의 넓이를 구하여라.



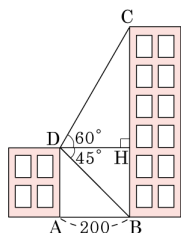
▶ 답: cm^2

▶ 정답: $28\sqrt{2}\text{cm}^2$

해설

$$\begin{aligned} 8 \times 7 \times \sin 45^\circ &= 8 \times 7 \times \frac{\sqrt{2}}{2} \\ &= 28\sqrt{2}(\text{cm}^2) \end{aligned}$$

8. 다음 그림과 같이 간격이 200m 인 두 건물이 있다. 왼쪽의 낮은 건물의 옥상에서 다음 건물을 올려다 본 각도는 60° 이고 내려다 본 각도는 45° 일 때, 다음 건물의 높이를 구하여라.



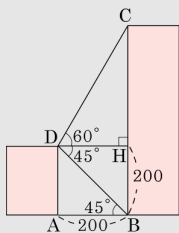
- ① 200 m ② $200(1 + \sqrt{2})$ m
 ③ $200(1 + \sqrt{3})$ m ④ $200(1 + \sqrt{5})$ m
 ⑤ $200(1 + \sqrt{6})$ m

해설

$$\overline{BH} = 200(\text{m}), \overline{DH} = 200(\text{m})$$

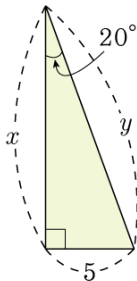
$$\begin{aligned} \overline{CH} &= \tan 60^\circ \times \overline{DH} \\ &= \sqrt{3} \times 200 = 200\sqrt{3}(\text{m}) \end{aligned}$$

$$\begin{aligned} \therefore \overline{BC} &= \overline{BH} + \overline{CH} \\ &= 200 + 200\sqrt{3} \\ &= 200(1 + \sqrt{3})(\text{m}) \end{aligned}$$



9. 다음 직각삼각형에서 x , y 의 값을 주어진 각과 변을 이용하여 삼각비로 나타낸 것은?

- ① $x = 5 \sin 20^\circ$, $y = \frac{5}{\sin 20^\circ}$
② $x = \frac{5}{\tan 20^\circ}$, $y = 5 \sin 20^\circ$
③ $x = \frac{5}{\tan 20^\circ}$, $y = \frac{5}{\cos 20^\circ}$
④ $x = \frac{5}{\cos 20^\circ}$, $y = \frac{5}{\sin 20^\circ}$
⑤ $x = \frac{5}{\tan 20^\circ}$, $y = \frac{5}{\sin 20^\circ}$



해설

$$\tan 20^\circ = \frac{5}{x}, \sin 20^\circ = \frac{5}{y}, \cos 20^\circ = \frac{x}{y} \text{ 이므로 } x = \frac{5}{\tan 20^\circ},$$

$$y = \frac{5}{\sin 20^\circ}$$

10. 다음 삼각비의 표를 보고 $\sin 70^\circ + \cos 50^\circ \times \sin 25^\circ + \tan 70^\circ$ 의 값을 구하면?

각도	sin	cos	tan
25°	0.42	0.90	0.46
50°	0.76	0.64	1.19
70°	0.93	0.34	2.74

① 3.9188

② 3.9288

③ 3.9388

④ 3.9488

⑤ 3.9588

해설

$$\begin{aligned}(\text{준식}) &= 0.93 + 0.64 \times 0.42 + 2.74 \\ &= 3.9388\end{aligned}$$

11. 다음 중 계산 결과가 $\sin 30^\circ$ 와 같지 않은 것은?

① $\cos 60^\circ$

② $\tan 45^\circ \times \sin 30^\circ$

③ $\frac{1}{2}(\cos 60^\circ \times \tan 60^\circ)$

④ $\frac{1}{2}(\sin 30^\circ + \cos 60^\circ)$

⑤ $2 \times (\sin 30^\circ \times \cos 30^\circ \times \tan 30^\circ)$

해설

$$\textcircled{3} \sin 30^\circ = \frac{1}{2}$$

$$\frac{1}{2}(\cos 60^\circ \times \tan 60^\circ) = \frac{1}{2} \times \frac{1}{2} \times \sqrt{3} = \frac{\sqrt{3}}{4} \text{ 이다.}$$

12. $\sin A = \frac{8}{17}$ 일 때, $\cos A \tan A$ 의 값을 구하여라.

① $\frac{8}{15}$

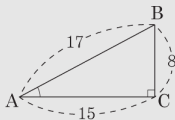
② $\frac{8}{17}$

③ $\frac{15}{17}$

④ $\frac{7}{19}$

⑤ $\frac{9}{17}$

해설

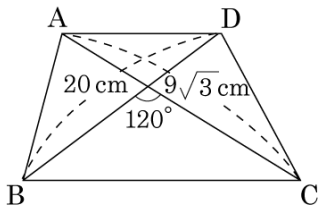


$$\sin A = \frac{8}{17} \text{ 이면}$$

$$\cos A = \frac{15}{17}, \quad \tan A = \frac{8}{15}$$

$$\therefore \cos A \times \tan A = \frac{15}{17} \times \frac{8}{15} = \frac{8}{17}$$

13. 다음 사각형의 넓이를 구하여라.



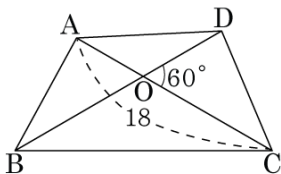
▶ 답: cm^2

▷ 정답: 135 cm^2

해설

$$\begin{aligned}
 (\text{넓이}) &= \frac{1}{2} \times 20 \times 9\sqrt{3} \times \sin(180^\circ - 120^\circ) \\
 &= \frac{1}{2} \times 20 \times 9\sqrt{3} \times \sin 60^\circ \\
 &= \frac{1}{2} \times 20 \times 9\sqrt{3} \times \frac{\sqrt{3}}{2} = 135(\text{cm}^2)
 \end{aligned}$$

14. 다음 등변사다리꼴 ABCD에서 $\overline{AC} = 18\text{ cm}$, $\angle DOC = 60^\circ$ 일 때, $\square ABCD$ 의 넓이를 구하여라.



▶ 답: cm^2

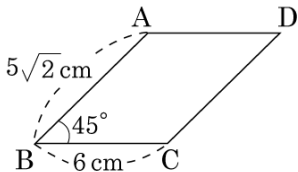
▷ 정답: $81\sqrt{3}\text{cm}^2$

해설

$\square ABCD$ 는 등변사다리꼴이므로
 $\overline{AC} = \overline{BD} = 18\text{ cm}$ 이다.

$$\begin{aligned} \square ABCD &= \frac{1}{2} \times 18 \times 18 \times \sin 60^\circ \\ &= \frac{1}{2} \times 18 \times 18 \times \frac{\sqrt{3}}{2} \\ &= 81\sqrt{3} (\text{cm}^2) \end{aligned}$$

15. 다음 평행사변형의 넓이를 구하여라.



▶ 답: cm^2

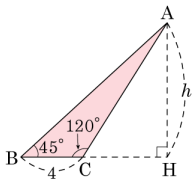
▶ 정답: 30 cm^2

해설

$$(\text{넓이}) = 5\sqrt{2} \times 6 \times \sin 45^\circ$$

$$= 5\sqrt{2} \times 6 \times \frac{\sqrt{2}}{2} = 30(\text{cm}^2)$$

16. 다음 그림에서 $\overline{AH} = h$ 라 할 때, \overline{CH} 의 길이를 h 로 나타낸 것은?



① $\frac{h}{\sin 45^\circ}$

② $h \cos 30^\circ$

③ $h \tan 60^\circ - h \tan 45^\circ$

④ $h \tan 30^\circ$

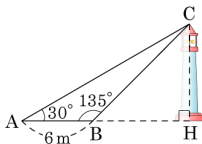
⑤ h

해설

$$\angle ACB = 120^\circ \text{ 이므로 } \angle ACH = 60^\circ, \angle CAH = 30^\circ$$

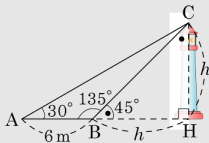
$$\therefore \overline{CH} = h \tan 30^\circ$$

17. 다음 그림은 등대의 높이를 알아보기 위해 측정한 결과이다. 등대의 높이는?



- ① $(3 - \sqrt{3})\text{m}$ ② $(3\sqrt{3} - 3)\text{m}$ ③ $(4\sqrt{3} - 1)\text{m}$
 ④ $(4\sqrt{3} + 1)\text{m}$ ⑤ $(3\sqrt{3} + 3)\text{m}$

해설



등대의 높이를 h 라 하면

$$\angle CBH = 45^\circ \text{ 이므로 } \overline{BH} = h$$

$$\angle CAH = 30^\circ \text{ 이므로}$$

$$6 + h : h = \sqrt{3} : 1, \sqrt{3}h = 6 + h$$

$$(\sqrt{3} - 1)h = 6$$

$$\therefore h = \frac{6}{\sqrt{3} - 1} = 3(\sqrt{3} + 1) = 3\sqrt{3} + 3(\text{m})$$

18. 다음 그림의 삼각형 ABC에서 $\triangle ABC$ 의 높이 h 는?

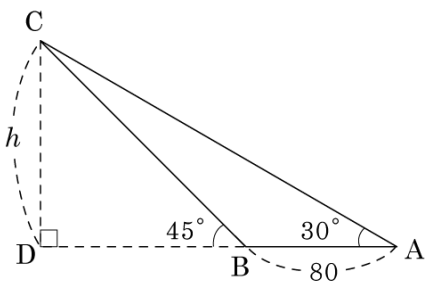
① $30(\sqrt{3} + 1)$

② $40(\sqrt{3} + 1)$

③ $50(\sqrt{3} + 1)$

④ $60(\sqrt{3} + 1)$

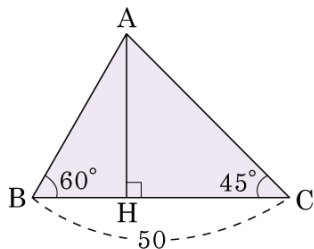
⑤ $80(\sqrt{3} + 1)$



해설

$$\begin{aligned}
 h &= \frac{80}{\tan(90^\circ - 30^\circ) - \tan(90^\circ - 45^\circ)} \\
 &= \frac{80}{\tan 60^\circ - \tan 45^\circ} = \frac{80}{\sqrt{3} - 1} = \frac{80(\sqrt{3} + 1)}{3 - 1} \\
 &= 40(\sqrt{3} + 1)
 \end{aligned}$$

19. 다음 그림의 $\triangle ABC$ 에서 \overline{AH} 의 길이는?



① $25(\sqrt{3} - 1)$

② $25(3 - \sqrt{3})$

③ $25\sqrt{3} - 1$

④ $50\sqrt{3} - 1$

⑤ $50\sqrt{3} + 1$

해설

$\overline{BH} = a$ 라 하면 $a : \overline{AH} = 1 : \sqrt{3}$

이므로

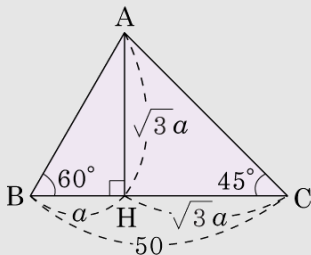
$$\overline{AH} = \sqrt{3}a$$

$$\overline{CH} = \overline{AH} = \sqrt{3}a, \overline{BC} = a + \sqrt{3}a = 50$$

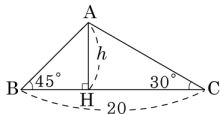
$$(1 + \sqrt{3})a = 50, a = \frac{50}{\sqrt{3} + 1} =$$

$$25(\sqrt{3} - 1)$$

$$\therefore \overline{AH} = \sqrt{3} \times 25(\sqrt{3} - 1) = 25(3 - \sqrt{3})$$



20. 다음 그림과 같은 $\triangle ABC$ 에서 높이 h 를 구하면?



① $10(\sqrt{2} - 1)$

② $10(\sqrt{3} - 1)$

③ $10(\sqrt{3} - \sqrt{2})$

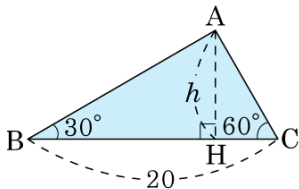
④ $10(2\sqrt{2} - 1)$

⑤ $10(\sqrt{2} - 2)$

해설

$$\begin{aligned} h &= \frac{20}{\tan(90^\circ - 45^\circ) + \tan(90^\circ - 30^\circ)} \\ &= \frac{20}{\tan 45^\circ + \tan 60^\circ} \\ &= \frac{1 + \sqrt{3}}{20(\sqrt{3} - 1)} \\ &= \frac{3 - 1}{20(\sqrt{3} - 1)} \\ &= 10(\sqrt{3} - 1) \end{aligned}$$

21. 다음 그림의 $\triangle ABC$ 에서 높이 h 를 구하면?



① $2\sqrt{5}$

② $4\sqrt{3}$

③ $5\sqrt{3}$

④ $3\sqrt{5}$

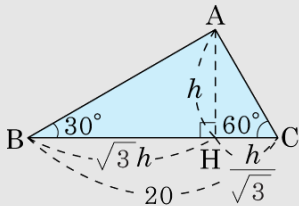
⑤ $5\sqrt{2}$

해설

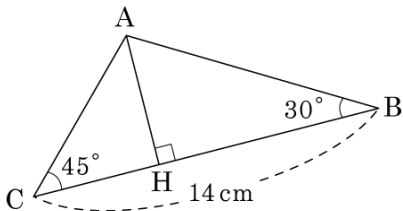
그림에서 $\sqrt{3}h + \frac{h}{\sqrt{3}} =$

$$20, \frac{4\sqrt{3}}{3}h = 20$$

$$\therefore h = 20 \times \frac{3}{4\sqrt{3}} = 5\sqrt{3}$$



22. 다음과 같은 $\triangle ABC$ 에서 \overline{AH} 의 길이는?

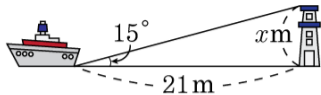


- ① $4(\sqrt{3} - 1)\text{cm}$ ② $5(\sqrt{3} - 1)\text{cm}$ ③ $6(\sqrt{3} - 1)\text{cm}$
 ④ $7(\sqrt{3} - 1)\text{cm}$ ⑤ $8(\sqrt{3} - 1)\text{cm}$

해설

$$\begin{aligned} \overline{AH} &= \frac{14}{\tan(90^\circ - 30^\circ) + \tan(90^\circ - 45^\circ)} \\ &= \frac{14}{\tan 60^\circ + \tan 45^\circ} \\ &= \frac{14}{\sqrt{3} + 1} \\ &= \frac{14(\sqrt{3} - 1)}{3 - 1} = 7(\sqrt{3} - 1)(\text{cm}) \end{aligned}$$

23. 다음 그림과 같이 바다를 향해하는 배와 등대 사이의 거리가 21 m 이고, 배에서 등대의 꼭대기를 바라 본 각의 크기가 15° 이었다면, 등대의 높이는?

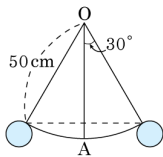


- ① $\tan 15^\circ \text{ m}$ ② $21 \tan 15^\circ \text{ m}$ ③ $\sin 15^\circ \text{ m}$
 ④ $21 \sin 15^\circ \text{ m}$ ⑤ $\cos 15^\circ \text{ m}$

해설

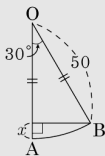
$$\tan 15^\circ = \frac{x}{21} \text{ 이므로 } x = 21 \tan 15^\circ \text{ m 이다.}$$

24. 다음 그림과 같이 실의 길이가 50cm 인 진자가 연직면 위에서 운동하고 있다. 이 실이 연직선 \overline{OA} 와 30° 의 각도를 이루었을 때, 추는 A 지점을 기준으로 하여 몇 cm 의 높이에 있는가?



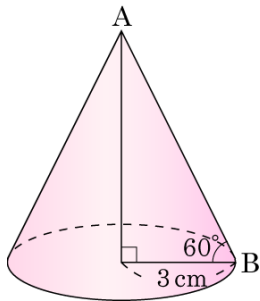
- ① $50 \left(1 + \frac{\sqrt{3}}{2} \right)$ cm ② $50 \left(2 - \frac{\sqrt{3}}{2} \right)$ cm
 ③ $50 \left(1 - \frac{\sqrt{3}}{2} \right)$ cm ④ $50 \left(2 + \frac{\sqrt{3}}{2} \right)$ cm
 ⑤ $50 \left(1 - \frac{\sqrt{3}}{3} \right)$ cm

해설



$$\begin{aligned}
 x &= \overline{OA} - \overline{OH} \\
 &= 50 - 50 \times \cos 30^\circ \\
 &= 50 - \frac{50\sqrt{3}}{2} \\
 &= 50 \left(1 - \frac{\sqrt{3}}{2} \right) \text{ cm}
 \end{aligned}$$

25. 다음 그림과 같이 밑면의 반지름의 길이가 3 cm 이고 모선과 밑면이 이루는 각의 크기가 60° 인 원뿔의 부피를 구하면?



① $6\sqrt{2}\pi \text{ cm}^3$

② $7\sqrt{3}\pi \text{ cm}^3$

③ $9\sqrt{3}\pi \text{ cm}^3$

④ $11\sqrt{2}\pi \text{ cm}^3$

⑤ $27\pi \text{ cm}^3$

해설

원뿔의 높이는 $3 \cdot \tan 60^\circ = 3\sqrt{3}(\text{cm})$

원뿔의 부피는 $\frac{1}{3} \times 9\pi \times 3\sqrt{3} = 9\sqrt{3}\pi(\text{cm}^3)$ 이다.

26. $\cos(2x + 40^\circ) = \frac{1}{2}$ 일 때, $\tan 6x$ 의 값은? (단, $0^\circ < x < 90^\circ$)

① $\frac{\sqrt{3}}{3}$

② $\frac{\sqrt{3}}{2}$

③ 1

④ $\sqrt{3}$

⑤ 3

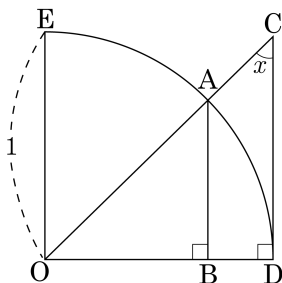
해설

$\cos 60^\circ = \frac{1}{2}$ 이므로 $2x + 40^\circ = 60^\circ$, $x = 10^\circ$ 이다.

$\therefore \tan 60^\circ = \sqrt{3}$

27. 다음 그림과 같이 반지름의 길이가 1 인 사분원에서 $\sin x$, $\cos x$ 를 나타내는 선분을 순서대로 나열한 것은?

- ① $\overline{AB}, \overline{OB}$ ② $\overline{OB}, \overline{AB}$
 ③ $\overline{AB}, \overline{OD}$ ④ $\overline{OB}, \overline{CD}$
 ⑤ $\overline{OD}, \overline{CD}$



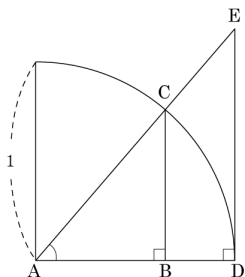
해설

$\overline{AB} \parallel \overline{CD}$ 이므로 $\angle OAB = \angle OCD$

$$\sin x = \sin(\angle OAB) = \frac{\overline{OB}}{\overline{OA}} = \overline{OB},$$

$$\cos x = \cos(\angle OAB) = \frac{\overline{AB}}{\overline{OA}} = \overline{AB}$$

28. 다음 그림과 같이 반지름의 길이가 1 인 사분원에서 다음 중 틀린 것을 모두 고르면? (정답 2 개)



① $\sin A = \overline{AB}$

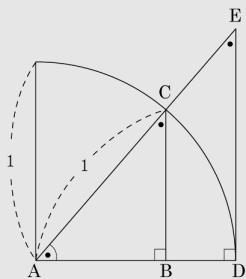
② $\frac{\overline{AB}}{\overline{AC}} = \frac{\overline{AD}}{\overline{AE}}$

③ $\cos A = \overline{AD}$

④ $\tan A = \overline{DE}$

⑤ $\frac{\overline{BC}}{\overline{AC}} = \frac{\overline{DE}}{\overline{AE}}$

해설



① $\sin A = \frac{\overline{BC}}{\overline{AC}} = \frac{\overline{BC}}{1} = \overline{BC}$

③ $\cos A = \frac{\overline{AB}}{\overline{AC}} = \frac{\overline{AB}}{1} = \overline{AB}$

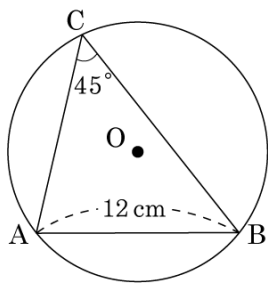
② $\sin C = \sin E = \frac{\overline{AB}}{\overline{AC}} = \frac{\overline{AD}}{\overline{AE}}$

④ $\tan A = \frac{\overline{DE}}{\overline{AD}} = \frac{\overline{DE}}{1} = \overline{DE}$

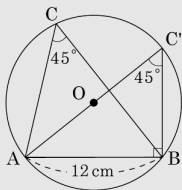
⑤ $\cos A = \frac{\overline{BC}}{\overline{AC}} = \frac{\overline{DE}}{\overline{AE}}$

29. $5.0\text{pt}\widehat{AB}$ 에 대한 원주각의 크기가 45° 이고, $\overline{AB} = 12\text{cm}$ 일 때, 외접원 O 의 넓이는?

- ① $9\pi\text{cm}^2$ ② $18\pi\text{cm}^2$
 ③ $36\pi\text{cm}^2$ ④ $72\pi\text{cm}^2$
 ⑤ $144\pi\text{cm}^2$



해설



그림과 같이 원 O 의 지름 $C'A$ 를 그으면 $5.0\text{pt}\widehat{AB}$ 에 대한 원주각의 크기는 서로 같으므로

$$\angle AC'B = \angle ACB = 45^\circ$$

반원에 대한 원주각의 크기는 90° 이므로

$$\angle ABC' = 90^\circ$$

$$\cos 45^\circ = \frac{12}{\overline{AC'}} = \frac{1}{\sqrt{2}}$$

$\therefore \overline{AC'} = 12\sqrt{2}(\text{cm})$ 이므로

$$\overline{AO} = 6\sqrt{2}(\text{cm})$$

따라서 외접원 O 의 넓이는

$$S = \pi r^2 = \pi \times (6\sqrt{2})^2 = 72\pi(\text{cm}^2)$$

30. 다음 중 계산이 옳지 않은 것은?

① $(1 + \sin 90^\circ)(1 - \cos 90^\circ) = 2$

② $\sin^2 30^\circ + \cos^2 60^\circ = \frac{1}{2}$

③ $\cos 0^\circ \times \sin 90^\circ - \tan 45^\circ \times \cos 90^\circ = 0$

④ $2(\sin 30^\circ + \cos 60^\circ) = \sin 90^\circ + \cos 0^\circ$

⑤ $\sin^2 60^\circ + \cos^2 60^\circ = \tan^2 45^\circ$

해설

① $(1 + 1)(1 - 0) = 2$

② $\frac{1}{4} + \frac{1}{4} = \frac{1}{2}$

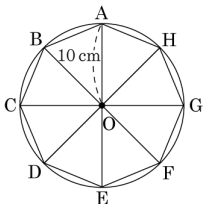
③ $1 \times 1 - 1 \times 0 = 1$ 이므로

$\cos 0^\circ \times \sin 90^\circ - \tan 45^\circ \times \cos 90^\circ \neq 0$

④ $2\left(\frac{1}{2} + \frac{1}{2}\right) = 1 + 1 = 2$

⑤ $\left(\frac{\sqrt{3}}{2}\right)^2 + \left(\frac{1}{2}\right)^2 = 1^2 = \frac{3}{4} + \frac{1}{4} = 1$

31. 다음 그림과 같이 반지름의 길이가 10cm 인 원에 내접하는 정팔각형의 넓이를 구하여라.



① 200 cm^2

② $200\sqrt{2} \text{ cm}^2$

③ $200\sqrt{3} \text{ cm}^2$

④ $202\sqrt{2} \text{ cm}^2$

⑤ $202\sqrt{3} \text{ cm}^2$

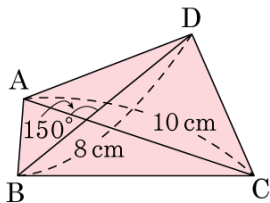
해설

$$360^\circ \div 8 = 45^\circ$$

$$(\triangle AOH \text{의 넓이}) = \frac{1}{2} \times 10 \times 10 \times \sin 45^\circ \text{이므로}$$

$$\begin{aligned} (\text{정팔각형의 넓이}) &= \frac{1}{2} \times 10 \times 10 \times \frac{\sqrt{2}}{2} \times 8 \\ &= 200\sqrt{2} (\text{cm}^2) \end{aligned}$$

32. 다음 그림에서 $\square ABCD$ 의 넓이를 구하여 빈 칸을 채워 넣어라.



(사각형 ABCD의 넓이) = () cm^2

▶ 답:

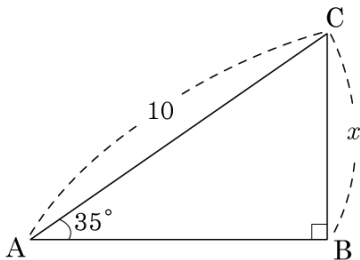
▶ 정답: 20

해설

(사각형의 넓이) = 대각선 \times 대각선 $\times \frac{1}{2} \times \sin \theta$

따라서 $8 \times 10 \times \frac{1}{2} \times \sin 30^\circ = 20(\text{cm}^2)$ 이다.

33. 다음 그림의 $\triangle ABC$ 에서 삼각비의 표를 보고 x 의 값을 구하면?



각도	sin	cos	tan
54°	0.8090	0.5878	1.3764
55°	0.8192	0.5736	1.4281
56°	0.8290	0.5592	1.4826

① 8.192

② 5.736

③ 5.878

④ 8.09

⑤ 8.29

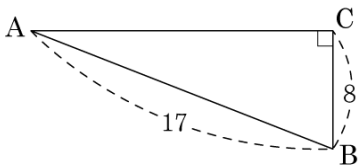
해설

$\angle C = 55^\circ$ 이므로

$$x = 10 \times \cos 55^\circ = 10 \times 0.5736 = 5.736$$

34. 다음 그림에서 $\angle C = 90^\circ$ 일 때,
 $\sin A + \cos A$ 의 값은?

- ① $\frac{17}{8}$ ② $\frac{21}{8}$ ③ $\frac{23}{8}$
④ $\frac{8}{17}$ ⑤ $\frac{23}{17}$



해설

$$\overline{AC}^2 = 17^2 - 8^2 = 15^2 \quad \therefore \overline{AC} = 15$$

$$\sin A = \frac{\overline{BC}}{\overline{AB}} = \frac{8}{17}$$

$$\cos A = \frac{\overline{AC}}{\overline{AB}} = \frac{15}{17}$$

$$\therefore \sin A + \cos A = \frac{23}{17}$$

35. $0^\circ \leq x \leq 90^\circ$ 일 때, 다음 중 옳은 것은?

① $\sin x \geq \cos x$

② $\cos x \geq \tan x$

③ $\sin x$ 의 최댓값은 1이다.

④ $\tan x$ 의 최댓값은 1이다.

⑤ x 의 값이 커지면 $\cos x$ 의 값도 커진다.

해설

① $\sin 0^\circ < \cos 0^\circ$

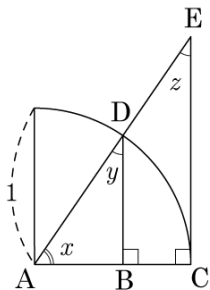
② $\cos 60^\circ < \tan 60^\circ$

④ $\tan x$ 의 최댓값은 없다.

⑤ x 의 값이 커지면 $\cos x$ 의 값은 작아진다.

36. 다음 그림과 같이 반지름의 길이가 1 인 사분원에 대하여 $\angle DAB = x$, $\angle ADB = y$, $\angle DEC = z$ 라 할 때, 다음 중 옳지 않은 것은?

- ① $\sin y = \sin z$ ② $\cos y = \cos z$
 ③ $\tan x = \tan z$ ④ $\cos z = \overline{BD}$
 ⑤ $\tan x = \overline{CE}$



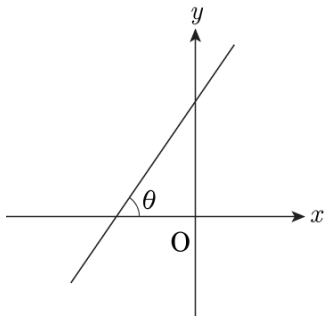
해설

$\angle ADB = \angle DEC$ 이므로

$$\sin y = \sin z = \overline{AB}, \quad \cos y = \cos z = \overline{BD}$$

$$\tan x = \overline{CE}, \quad \tan z = \frac{\overline{AC}}{\overline{CE}} = \frac{1}{\overline{CE}}$$

37. 다음 그림은 직선 $x - \sqrt{3}y + 3 = 0$ 의 그래프이다. 이때, $\angle\theta$ 의 크기를 구하면?



- ① 30° ② 40° ③ 45° ④ 50° ⑤ 60°

해설

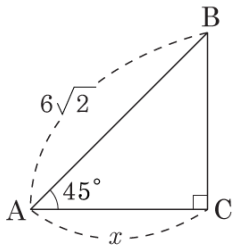
$$y = \frac{\sqrt{3}}{3}x + \sqrt{3}$$

$$\therefore \text{기울기} : \frac{\sqrt{3}}{3}$$

$$(\text{기울기}) = \tan \theta \text{ 이므로 } \tan \theta = \frac{\sqrt{3}}{3},$$

$$\therefore \angle\theta = 30^\circ$$

38. 다음 그림과 같은 직각삼각형에서 x 의 값을 구하여라.



▶ 답:

▷ 정답: 6

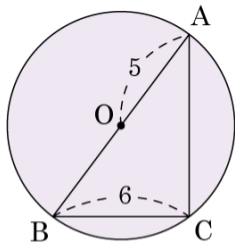
해설

$$\cos 45^\circ = \frac{x}{6\sqrt{2}} = \frac{\sqrt{2}}{2}, 2x = 12$$

$$\therefore x = 6$$

39. 다음 그림에서 원 O의 반지름의 길이가 5, $\overline{BC} = 6$ 일 때, $\cos A$ 의 값을 구하면?

- ① $\frac{4}{5}$ ② $\frac{3}{5}$ ③ $\frac{2}{3}$
 ④ $\frac{5}{4}$ ⑤ 2



해설

$\angle C$ 는 지름의 원주각 $\angle C = 90^\circ$

$$\overline{AC} = \sqrt{10^2 - 6^2} = 8$$

$$\therefore \cos A = \frac{\overline{AC}}{\overline{AB}} = \frac{8}{10} = \frac{4}{5}$$

40. $\sin(2x - 10^\circ) = \frac{\sqrt{3}}{2}$ 일 때, x 의 값은? (단, $0^\circ \leq x \leq 45^\circ$)

① 15°

② 20°

③ 25°

④ 30°

⑤ 35°

해설

$$\sin(2x - 10^\circ) = \frac{\sqrt{3}}{2} (0^\circ \leq x \leq 45^\circ) \text{ 에서}$$

$$\sin 60^\circ = \frac{\sqrt{3}}{2} \text{ 이므로 } 2x - 10^\circ = 60^\circ$$

$$2x = 70^\circ$$

$$\therefore x = 35^\circ$$