



1. 계산의 곱에 소수점을 바르게 찍은 수를 구하시오.

$$\begin{array}{r} 7 \\ \times 0.009 \\ \hline 63 \end{array}$$

 답: _____

2. 계산의 곱에 소수점을 바르게 찍은 수를 구하시오.

$$\begin{array}{r} 0.06 \\ \times \quad 5 \\ \hline 30 \end{array}$$


 답: _____

3. 곱셈을 하시오.

7×0.9

 답: _____

4. 다음 곱셈을 하시오.
 32×2.5

 답: _____