

1. 1 부터 50 까지의 자연수를 모두 곱하면 $A \times (2 \times 5)^n$ 이 될 때, n 의 값을 구하면?

- ① 10 ② 11 ③ 12 ④ 13 ⑤ 14

2. 다음 중 옳지 않은 것을 모두 고르면?

- ① 13 은 소수이다.
- ② 52 는 합성수이다.
- ③ 가장 작은 소수는 1 이다.
- ④ 짝수인 소수는 존재하지 않는다.
- ⑤ 5 보다 작은 소수는 2 개이다.

3. 다음 설명 중 옳은 것은?

- ① 소수는 약수의 개수가 2 개이다.
- ② 소수는 모두 홀수이다.
- ③ 가장 작은 소수는 1 이다.
- ④ 모든 자연수는 약수의 개수가 2 개 이상이다.
- ⑤ 자연수에는 소수와 합성수가 있다.

4. 588 을 588 보다 작은 자연수 a 로 나누었더니 약수의 개수가 홀수인 자연수 b 가 되었다. 가능한 b 의 값의 합을 구하여라.

▶ 답: _____

5. 다음 중 어떤 수를 5로 나누었을 때의 나머지가 될 수 없는 것은?

- ① 1 ② 2 ③ 3 ④ 4 ⑤ 5

6. 6의 약수의 개수는?

- ① 1개 ② 2개 ③ 3개 ④ 4개 ⑤ 6개

7. 100 이하의 13 의 배수는 모두 몇 개인지 구하여라.

▶ 답: _____ 개

8. 다음 중 옳지 않은 것을 모두 고르면?(정답 2 개)

① $2 \times 2 \times 4 \times 4 \times 7 = 2^2 \times 4^2 \times 7$

② $\frac{1}{3 \times 3 \times 3 \times 3} = \frac{4}{3^3}$

③ $\frac{1}{2 \times 2 \times 5 \times 5} = \frac{1}{2^2 \times 5^2}$

④ $\frac{1}{3^2 \times 3^4} = \frac{1}{3^8}$

⑤ $a \times a \times a \times b \times b = a^3 \times b^2$

9. 108 을 소인수분해하면?

① $2^2 \times 3^2$

② $2^2 \times 3^3$

③ $2^3 \times 3$

④ $2^3 \times 3^2$

⑤ $2^3 \times 3^3$

10. $600 = a^x \times b^y \times c^z$ 로 소인수분해될 때, $(a+b+c) \times (x+y+z)$ 의 값은? (단, $a < b < c$)

- ① 12 ② 24 ③ 36 ④ 48 ⑤ 60

11. $2^3 \times 3^2 \times 5$ 에 어떤 자연수를 곱하여 자연수의 제곱이 되게 하려고 할 때, 곱할 수 있는 수 중에서 가장 작은 자연수는?

- ① 3 ② 5 ③ 3×5 ④ 5^2 ⑤ 10


12. 28 에 가능한 한 작은 자연수 a 를 곱하여 어떤 자연수 b 의 제곱이 되도록 할 때, a 의 값은?

- ① 2 ② 3 ③ 4 ④ 5 ⑤ 7

13. 810의 약수의 개수와 $3 \times 5^x \times 7$ 의 약수의 개수가 같을 때, 자연수 x 의 값을 구하여라.

▶ 답: _____

14. 자연수 288의 약수의 개수와 자연수 $4 \times 3 \times 7^a$ 의 약수의 개수가 같을 때, a 의 값을 구하여라.

 답: _____

15. $3^3 \times a$ 는 약수의 개수가 12인 수 중 가장 작은 홀수라고 할 때, a 에 맞는 수를 구하면?

- ① 1 ② 4 ③ 9 ④ 25 ⑤ 36


16. 1 부터 200 까지의 자연수 중에서 약수의 개수가 3개인 자연수는 모두 몇 개인가?

- ① 5개 ② 6개 ③ 7개 ④ 8개 ⑤ 9개


17. 네 자리의 정수 $41\square2$ 가 3 의 배수인 동시에 4 의 배수가 되도록 \square 안에 알맞은 수는?

- ① 1 ② 2 ③ 3 ④ 4 ⑤ 5

18. 자연수 x 를 소인수분해하여 곱해진 모든 수들의 합을 $S(x)$ 라 한다.
(단, 1 은 생각하지 않는다.)
예를 들면, $2250 = 2 \times 3^2 \times 5^3$ 이므로 $S(2250) = 2 + 3 + 3 + 5 + 5 + 5 = 23$
이 때, 어떤 자연수 m 을 소인수분해하면 세 종류의 소인수가 나타나고
 $S(m) = 17$ 이라고 한다. 이러한 수 중에서 가장 큰 수와 작은 수의
차를 구하시오.

 답: _____

19. $2^a \times 3^b \times 11^c$ 이 132 를 약수로 가질 때, 세 자연수 a, b, c 의 최솟값의 합을 구하여라.

 답: _____

20. 자연수 a 의 약수의 개수를 $n(a)$ 로 나타낼 때, $n(240) \div n(162) \times n(x) = 20$ 을 만족시키는 자연수 x 중에서 가장 작은 수를 구하여라.

▶ 답: _____