

1. 다음 수를 어느 자리에서 반올림하면 가장 큰 수가 되겠습니까?

30581

① 일의 자리

② 십의 자리

③ 백의 자리

④ 천의 자리

⑤ 만의 자리

해설

① 30580 ② 30600 ③ 31000 ④ 30000

2. 반올림하여 백의 자리까지 나타낸 수 중에서 4500이 될 수 있는 가장 작은 수와 가장 큰 수의 차를 구하시오.

▶ 답:

▷ 정답: 99

해설

십의 자리 숫자가 5 ~ 9 중의 한 숫자로 백의 자리로 올림이 되어 4500이 되었다면, 반올림하기 전의 백의 자리의 숫자는 4입니다.

이 때, 가장 작은 수를 구해야 하므로 십의 자리숫자는 5 ~ 9 중 5, 일의 자리 숫자는 0이 됩니다. → 4450

십의 자리 숫자가 0 ~ 4 중의 한 숫자로 버림하여 4500이 되었다면, 반올림하기 전의 백의 자리 숫자는 5입니다.

이때, 가장 큰 수를 구해야 하므로 십의 자리 숫자는 0 ~ 4 중 4, 일의 자리 숫자는 9이다. → 4549입니다.

따라서 $4549 - 4450 = 99$ 입니다.

3. 십의 자리에서 반올림 하면 57400이 되는 수의 범위로 알맞은 것은 어느 것입니까?

① 57350 초과 57450 이하

② 57450 이상 57500 미만

③ 57350 초과 57450 이하

④ 57350 이상 57450 미만

⑤ 57300 이상 57400 미만

해설

십의 자리에서 반올림해서 57400이 되는 수는
57350 ~ 57449까지입니다.

4. 어떤 물건을 포장하는 데 종이 716장이 필요합니다. 종이는 10장 단위로만 팔며, 10장에 280원이라고 한다면 이 물건을 포장하는 데 종이값으로 얼마가 들어가는지 구하시오.

▶ **답:** 원

▷ **정답:** 20160원

해설

이 물품을 다 포장하려면 720 장의 포장지를 사야 한다.

$$(\text{포장지 값}) = 720 \div 10 \times 280 = 20160(\text{원})$$

5. 안에 5, 2, 6, 8을 한 번씩 넣어 답이 가장 커지도록 식을 만들어 계산한 결과로 바른 것입니까?(대분수의 분수 부분은 진분수 이어야 합니다.)

$$\square \frac{\square}{\square} \times \square = \square \frac{\square}{\square}$$

- ① $15\frac{3}{4}$ ② $22\frac{2}{3}$ ③ $31\frac{1}{2}$ ④ $50\frac{2}{5}$ ⑤ $51\frac{1}{5}$

해설

곱하는 수가 클수록 그 곱이 커지므로,
 곱하는 수에 8을 넣고, 나머지 세 수 5, 2, 6으로
 가장 큰 대분수를 만들면

$$6\frac{2}{5} \times 8 = \frac{32}{5} \times 8 = \frac{256}{5} = 51\frac{1}{5}$$

6. 현아네 학교의 5학년 학생은 전교생의 $\frac{2}{9}$ 입니다. 5학년 학생 중에서 $\frac{2}{5}$ 는 여자이고, 여학생 중에서 $\frac{3}{8}$ 은 안경을 쓰고 있습니다. 안경을 쓴 5학년 여학생이 54명이면, 현아네 학교의 전교생은 몇 명입니까?

▶ 답: 명

▷ 정답: 1620 명

해설

$$(\text{전교생 수}) \times \frac{\cancel{2}}{\cancel{9}} \times \frac{\cancel{2}}{\cancel{5}} \times \frac{\cancel{3}}{\cancel{8}} \times \frac{1}{\cancel{4}} \times \frac{1}{\cancel{2}} = 54,$$

$$(\text{전교생 수}) \times \frac{1}{30} = 54,$$

$$(\text{전교생 수}) = 54 \times 30 = 1620(\text{명})$$

7. 어떤 약수터에서는 1시간 동안 $5\frac{5}{7}$ L의 물이 나옵니다. 이 약수터에서 2시간 20분 동안 물을 받아서 그 중 $\frac{3}{8}$ 을 이웃집에 나누어 주었다면, 남은 약수는 몇 L입니까?

- ① 5 L ② $8\frac{1}{3}$ L ③ $13\frac{1}{3}$ L
④ $5\frac{5}{24}$ L ⑤ $7\frac{1}{8}$ L

해설

2시간 20분을 시간으로 고치면

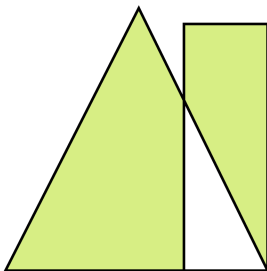
$$2\frac{20}{60} = \frac{150}{60} = \frac{7}{3} \text{ (시간)}$$

$$2\text{시간 } 20\text{분 동안 받은 물: } 5\frac{5}{7} \times \frac{7}{3} = \frac{40}{3} \text{ (L)}$$

이웃집에게 물을 주고 남은 물의 양:

$$\rightarrow \frac{40}{3} \times \left(1 - \frac{3}{8}\right) = \frac{40}{3} \times \frac{5}{8} = \frac{25}{3} = 8\frac{1}{3} \text{ (L)}$$

8. 다음은 삼각형과 직사각형이 겹쳐지도록 붙인 것입니다. 직사각형의 넓이는 $1\frac{2}{7}\text{cm}^2$ 이고, 삼각형의 넓이는 직사각형의 넓이의 $2\frac{1}{6}$ 배입니다. 겹쳐진 부분의 넓이가 삼각형의 넓이의 $\frac{4}{13}$ 일 때, 색칠한 부분의 넓이를 구하시오.



- ① $\frac{6}{7}\text{cm}^2$ ② $1\frac{2}{7}\text{cm}^2$ ③ $1\frac{13}{14}\text{cm}^2$
 ④ $2\frac{5}{14}\text{cm}^2$ ⑤ $4\frac{2}{7}\text{cm}^2$

해설

$$\begin{aligned} (\text{삼각형의 넓이}) &= 1\frac{2}{7} \times 2\frac{1}{6} = \frac{9}{7} \times \frac{13}{6} \\ &= \frac{39}{14} = 2\frac{11}{14} (\text{cm}^2) \end{aligned}$$

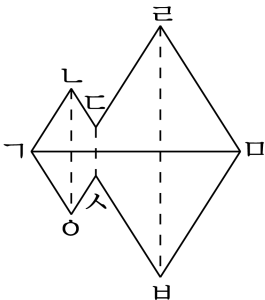
$$\begin{aligned} (\text{겹쳐진 부분의 넓이}) &= 2\frac{11}{14} \times \frac{4}{13} = \frac{39}{14} \times \frac{4}{13} \\ &= \frac{6}{7} (\text{cm}^2) \end{aligned}$$

$$\begin{aligned} (\text{삼각형에서 색칠한 부분의 넓이}) \\ &= 2\frac{11}{14} - \frac{6}{7} = 1\frac{13}{14} (\text{cm}^2) \end{aligned}$$

$$\begin{aligned} (\text{직사각형에서 색칠한 부분의 넓이}) \\ &= 1\frac{2}{7} - \frac{6}{7} = \frac{3}{7} (\text{cm}^2) \end{aligned}$$

$$\Rightarrow 1\frac{13}{14} + \frac{3}{7} = 1\frac{13}{14} + \frac{6}{14} = 1\frac{19}{14} = 2\frac{5}{14} (\text{cm}^2)$$

9. 다음 도형은 선대칭도형입니다. 대칭축 $\Gamma\Delta$ 과 수직으로 만나면서 이등분되는 선분을 모두 고르시오.



① 선분 $\Gamma\Delta$

② 선분 $\Delta\sigma$

③ 선분 $\Delta\rho$

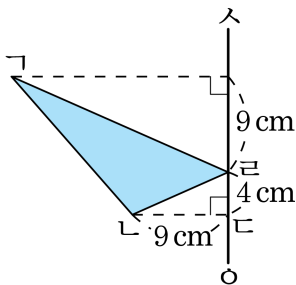
④ 선분 $\rho\sigma$

⑤ 선분 $\rho\rho$

해설

선분 $\Gamma\Delta$ 은 대칭축이므로 대응점을 이은 선분을 모두 찾아 씁니다.

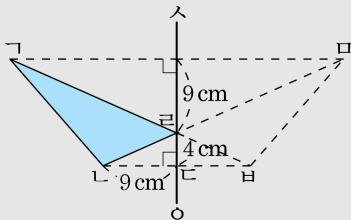
10. 다음 사각형 $\triangle ABC$ 은 직선 SO 을 대칭축으로 하는 선대칭도형의 일부분입니다. 점 A 의 대응점을 점 B 이라 하면 선분 AC 과 선분 BC 은 같은 직선 상에 있게 된다고 합니다. 이때, 삼각형 $\triangle ABC$ 의 넓이를 구하시오.



▶ 답: $\underline{\hspace{2cm} \text{cm}^2}$

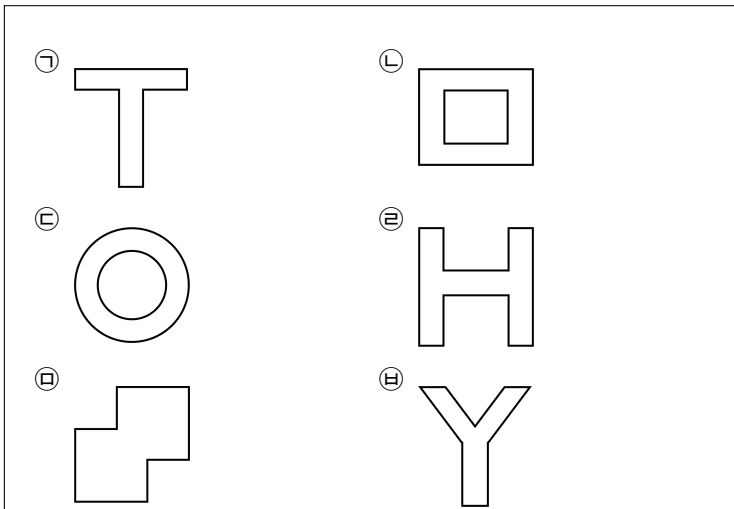
▷ 정답: 81 cm^2

해설



삼각형 $\triangle ABC$ 의 넓이에서 삼각형 $\triangle BCD$ 의 넓이를 뺍니다.
 $18 \times (4 + 9) \div 2 - 18 \times 4 \div 2 = 81 (\text{cm}^2)$

11. 다음 중 선대칭도형도 되고 점대칭도형도 되는 도형을 모두 고른 것은 어느 것입니까?



① ㉠, ㉡, ㉥

② ㉡, ㉢, ㉣

③ ㉠, ㉢, ㉣, ㉤

④ ㉡, ㉢, ㉣, ㉤

⑤ ㉠, ㉡, ㉢, ㉣, ㉤

해설

선대칭도형 : ㉠, ㉡, ㉢, ㉣, ㉤, ㉥

점대칭도형 : ㉡, ㉢, ㉣, ㉤

선대칭도형도 되고 점대칭도형도 되는 도형 : ㉡, ㉢, ㉣, ㉤

따라서 정답은 ④번입니다.

12. 다음 중 계산 결과가 ㉠보다 큰 것을 모두 고르시오.

① ㉠ \times 0.4

② ㉠ \times 1.6

③ 1.02 \times ㉠

④ 0.1 \times ㉠

⑤ 0.085 \times ㉠

해설

㉠을 1 이라 하면,

① $1 \times 0.4 = 0.4$

② $1 \times 1.6 = 1.6$

③ $1.02 \times 1 = 1.02$

④ $0.1 \times 1 = 0.1$

⑤ $0.085 \times 1 = 0.085$

13. 어떤 소수에 5.24를 곱해야 할 것을 잘못하여 524를 곱하였더니, 곱이 1362.4가 되었습니다. 바르게 계산하면 곱은 얼마인지 구하시오.

▶ 답:

▷ 정답: 13.624

해설

어떤소수 :

$$\square \times 524 = 1362.4$$

$$\square = 1362.4 \div 524$$

$$\square = 2.6$$

$$\rightarrow 2.6 \times 5.24 = 13.624$$

14. $295 \times 180 = 53100$ 임을 알고 안에 알맞은 수를 넣을 때, 안의 수가 가장 작은 것은 어느 것입니까?

① $\times 18 = 5.31$

② $29.5 \times$ $= 53100$

③ $\times 0.18 = 53.1$

④ $2.95 \times$ $= 531$

⑤ $\times 0.18 = 531$

해설

$295 \times 180 = 53100$

① 양변에 $\frac{1}{10000}$ 곱하기

$$295 \times 180 \times \frac{1}{10000} = 53100 \times \frac{1}{10000}$$

$$0.295 \times 18 = 5.31$$

$$\square = 0.295$$

② 양변에 $\frac{1}{10}$ 곱한 후, 10 곱하기

$$295 \times 180 \times \frac{1}{10} \times 10 = 53100 \times \frac{1}{10} \times 10$$

$$29.5 \times 1800 = 53100$$

$$\square = 1800$$

③ 양변에 $\frac{1}{1000}$ 곱하기

$$295 \times 180 \times \frac{1}{1000} = 53100 \times \frac{1}{1000}$$

$$295 \times 0.18 = 53.1$$

$$\square = 295$$

④ 양변에 $\frac{1}{100}$ 곱하기

$$295 \times 180 \times \frac{1}{100} = 53100 \times \frac{1}{100}$$

$$2.95 \times 180 = 531$$

$$\square = 180$$

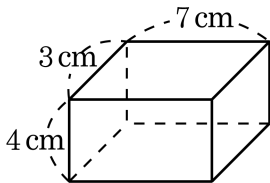
⑤ 양변에 $\frac{1}{1000}$ 곱한 후, 10 곱하기

$$295 \times 180 \times \frac{1}{1000} \times 10 = 53100 \times \frac{1}{1000} \times 10$$

$$2950 \times 0.18 = 531$$

$$\square = 2950$$

15. 다음 직육면체의 겉면에 평행인 면끼리 같은 색의 종이를 붙이려고 합니다. 필요한 색종이의 전체 넓이는 얼마입니까?



▶ 답: cm^2

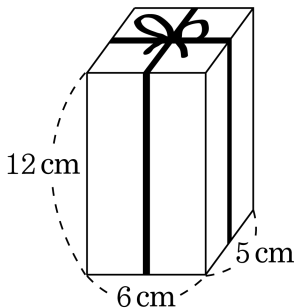
▶ 정답: 122 cm^2

해설

직육면체는 같은 크기의 면이 2 개씩 3 쌍 있으므로 3 가지 색깔의 색종이가 필요합니다.

$$(7 \times 3 + 7 \times 4 + 4 \times 3) \times 2 = 122(\text{cm}^2)$$

16. 그림과 같이 직육면체 모양의 상자에 리본을 둘렀습니다. 매듭을 만드는 데 45 cm가 들었다면, 필요한 리본의 길이는 모두 몇 cm가 되겠습니까?



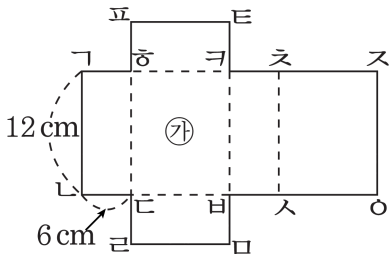
▶ 답: cm

▷ 정답: 115cm

해설

$$(12 \times 4) + (6 \times 2) + (5 \times 2) + 45 = 115(\text{cm})$$

17. 직육면체의 전개도에서 ㉠의 넓이가 108cm^2 일 때, 선분 ㄱ스 의 길이는 몇 cm 입니까?



▶ 답: cm

▷ 정답: 30 cm

해설

(㉠의 가로 길이) = $108 \div 12 = 9(\text{cm})$

따라서 선분 ㄱ스 의 길이는 $6 + 9 + 6 + 9 = 30(\text{cm})$ 입니다.

18. 다음은 효정이의 5회에 걸친 수학 성적입니다. 평균이 89점일 때, 3회의 성적을 구하시오.

횟수	1	2	3	4	5
점수(점)	82	88		92	90

▶ 답: 점

▷ 정답: 93점

해설

$$(\text{총점}) = 89 \times 5 = 445(\text{점}),$$

3회의 점수를 \square 라 하면

$$82 + 88 + \square + 92 + 90 = 445,$$

$$\square = 445 - 352 = 93(\text{점})$$

19. 은규네 모둠과 해성이네 모둠의 수학 성적을 조사한 것입니다. 은규네 모둠이 해성이네 모둠보다 평균 점수가 높다고 합니다. 은규의 점수가 될 수 없는 점수를 구하십시오. (단, 수학 문제는 25문항이고, 1문항 당 4점씩입니다.) (정답2개)

은규네 모둠

이름	민희	선진	초롱	원석	학진	욱재	은규
성적(점)	92	64	76	96	100	72	

해성이네 모둠

이름	효곤	대현	충현	재연	승웅	하빈	해성
성적(점)	84	72	92	96	80	76	88

- ① 92점 ② 94점 ③ 96점
 ④ 97점 ⑤ 100점

해설

(해성이네 모둠의 합계)

$$= 84 + 72 + 92 + 96 + 80 + 76 + 88 = 588$$

은규의 성적을 \square 라 하면

(은규네 모둠의 합계)

$$= 92 + 64 + 76 + 96 + 100 + 72 + \square = 500 + \square$$

은규네 모둠의 실제 수학 성적의 합계가 588점보다 높으면 되므로

$$588 = 500 + \square, \square = 88(\text{점})\text{보다 높으면 됩니다.}$$

1문제당 점수가 4점이므로 은규의 점수는

92점 또는 96점 또는 100점입니다.

20. 주영이의 윷몸 일으키기 하루 평균은 어제까지 34번이었으나 오늘 40번을 하였더니 오늘까지의 윷몸 일으키기의 하루 평균이 36번이 되었습니다. 오늘까지 며칠 동안 윷몸 일으키기를 하였습니까?

▶ 답: 일

▷ 정답: 3일

해설

어제까지의 평균이 34번이었으므로

오늘은 평균보다 $40 - 34 = 6$ (번) 더하였습니다.

더한 6번이 평균 $36 - 34 = 2$ (번)을 올려 놓았으므로 횟수는 $6 \div 2 = 3$ (회),

즉 3일 동안 측정한 기록입니다.