

1. 다음 중 $\triangle ABC \cong \triangle DEF$ 라고 할 수 없는 것을 고르면?

① $\overline{AB} = \overline{DE}$, $\overline{BC} = \overline{EF}$, $\overline{CA} = \overline{FD}$

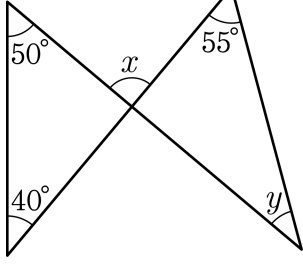
② $\overline{BC} = \overline{EF}$, $\angle B = \angle E$, $\angle C = \angle F$

③ $\overline{AB} = \overline{DE}$, $\overline{BC} = \overline{EF}$, $\angle B = \angle E$

④ $\overline{AB} = \overline{DE}$, $\overline{BC} = \overline{EF}$, $\angle A = \angle D$

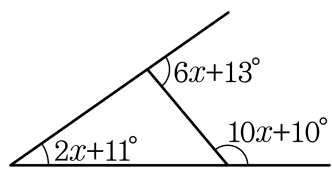
⑤ $\overline{AB} = \overline{DE}$, $\angle A = \angle D$, $\angle B = \angle E$

2. 다음 그림에서 $x + y$ 의 값을 구하여라.



▶ 답: _____ °

3. 다음 그림에서 $\angle x$ 의 값은?



- ① 10° ② 11° ③ 12° ④ 13° ⑤ 14°

4. 다음 보기 중에서 한 내각의 크기와 한 외각의 크기가 서로 같은 것을 찾아 쓰시오.

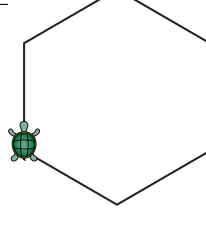
보기

정삼각형, 정사각형,
정오각형, 정육각형, 정팔각형

▶ 답: _____

5. 거북이는 다음과 같은 명령에 따라 움직인다.

가자 x : x 만큼 앞으로 나아가며 선을 긋는다.
돌자 y° : y° 만큼 오른쪽으로 머리 방향을 돌린다.
반복 n {명령들} : 명령들을 n 번 반복해서 실행시킨다.
다음 그림과 같이 한 변의 길이가 10 인 정육각형을 그리기 위하여 \square 안에 어떤 수를 입력해야 하는지 구하여라.
반복6 {가자10 : 돌자 \square }




▶ 답: _____

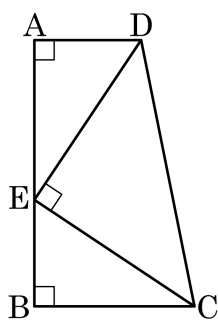
7. 세 변의 길이가 4 cm, 5 cm, a cm 인 삼각형을 작도하려고 한다. 이때, 정수 a 의 값이 될 수 있는 수는 모두 몇 개인지 구하여라.

▶ 답: _____ 개

8. 두 다각형에서 변의 개수의 합은 16 개, 대각선의 총수의 합은 41 개인, x 각형, y 각형이 있다. $y - x$ 의 값을 구하여라. (단, $y > x$)

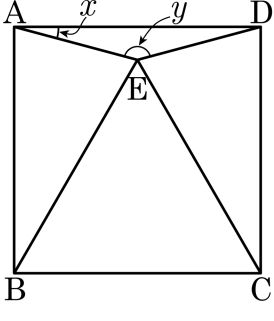
 답: _____

9. 다음 그림에서 $\angle A = \angle B = 90^\circ$ 이고 삼각형 DEC 는 $\angle DEC = 90^\circ$ 인 직각이등변삼각형이다. 선분 AB 는 15cm 이고 선분 BC 는 9cm 일 때, 사각형 ABCD 의 넓이를 구하여라.



▶ 답: _____ cm^2

10. 다음 그림에서 $\square ABCD$ 는 정사각형이고 $\triangle EBC$ 는 정삼각형일 때, $x+y$ 의 값을 구하여라.



▶ 답: _____