

1. 다음 소수를 차례대로 바르게 읽은 것은 어느 것입니까?.

(1) 26.72	(2) 30.24
-----------	-----------

- ① (1) 이육점 칠이 (2) 삼영점 이사
- ② (1) 이육 칠이 (2) 삼십 이사
- ③ (1) 이십육점 칠이 (2) 삼십점 이사
- ④ (1) 이십육점 칠십이 (2) 삼십점 이십사
- ⑤ (1) 이십육점 이칠 (2) 삼십점 사이

2. 다음을 바르게 계산한 것을 고르시오.

(1) $6.871 + 3.95$
(2) $41.26 - 9.872$

- ① (1) 10.711 (2) 31.378 ② (1) 10.721 (2) 31.388
- ③ (1) 10.811 (2) 31.378 ④ (1) 10.821 (2) 31.388
- ⑤ (1) 10.911 (2) 31.378

3. 안에 들어갈 수를 차례대로 쓴 것은 어느 것입니까?

$5.39 = 5 +$ $+$

- ① 0.3, 0.03

② 0.3, 0.05

③ 0.3, 0.09
- ④ 0.5, 0.09

⑤ 0.5, 0.03

4. 감자가 $2\frac{8}{17}$ kg 있습니다. 고구마는 감자보다 $\frac{10}{17}$ kg 더 적고, 옥수수는 감자보다 $\frac{11}{17}$ kg 더 많습니다. 감자, 고구마, 옥수수는 모두 몇 kg 인지 구하시오.

① $6\frac{1}{17}$ kg

② $6\frac{8}{17}$ kg

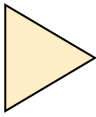
③ $7\frac{1}{17}$ kg

④ $7\frac{8}{17}$ kg

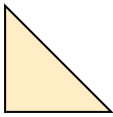
⑤ $8\frac{1}{17}$ kg

5. 다음 중 이등변삼각형이면서 둔각삼각형은 어느 것인지 고르시오.

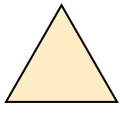
①




②



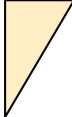
③



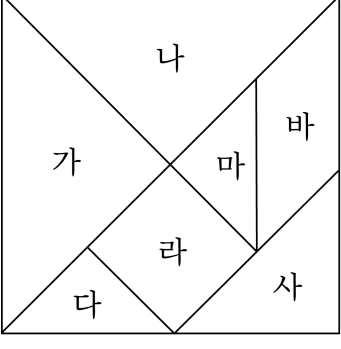
④



⑤



6. 다음에 주어진 도형판으로 평행사변형을 만들 때 필요한 조각으로 잘못 짝지은 것을 고르시오.



- ① 다,바,마 ② 다,라,마 ③ 마,사,다
- ④ 가,나 ⑤ 나,라,마,바