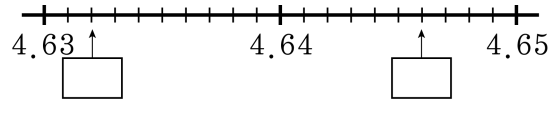
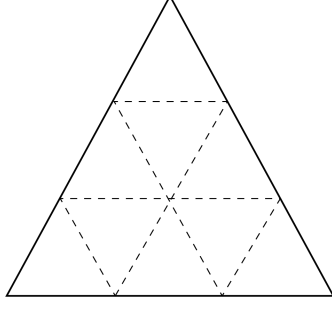


1. 안에 들어갈 알맞은 수를 차례대로 쓴 것을 고르시오.



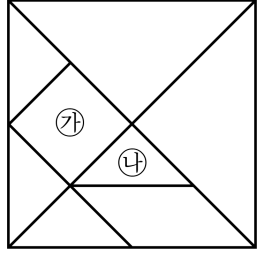
- ① 4.632, 4.643 ② 4.632, 4.644 ③ 4.632, 4.645
④ 4.632, 4.646 ⑤ 4.632, 4.647

2. 다음 도형에서 크고 작은 사다리꼴은 모두 몇 개입니까?



- ① 15개 ② 27개 ③ 30개 ④ 33개 ⑤ 36개

3. 다음은 정사각형을 여덟 조각으로 나눈 도형판입니다. 정사각형의 넓이가 1일 때 사각형 ㉓의 넓이와 삼각형 ㉔의 넓이의 차는 얼마입니까?



- ① $\frac{1}{4}$ ② $\frac{1}{8}$ ③ $\frac{1}{12}$ ④ $\frac{1}{16}$ ⑤ $\frac{1}{32}$