

1. 다음은 어림셈하는 과정입니다. □ 안에 들어갈 수를 순서대로 쓴 것은 무엇입니까?

79 ÷ 4 를 어림하면
□ ÷ 4 이므로 약 □ 입니다.
따라서 몫은 □ 입니다.

① 70, 18, 19.25

② 70, 20, 1.95

③ 80, 20, 1.975

④ 80, 20, 19.75

⑤ 80, 20, 197.5

3. 나눗셈을 하시오.

$$\frac{10}{13} \div 5$$

① $\frac{1}{13}$

② $\frac{2}{13}$

③ $\frac{3}{13}$

④ $\frac{4}{13}$

⑤ $\frac{5}{13}$

4. 다음 중 계산 결과가 나머지와 다른 하나는 어느 것입니까?

① $59.64 \div 3$

② $59.64 \times \frac{1}{3}$

③ $\frac{5964}{100} \div \frac{1}{3}$

④ $\frac{5964}{100} \div 3$

⑤ $\frac{1}{3} \times \frac{5964}{100}$

5. 다음 중 소수점 아래 0을 내려 계산해야 하는 나눗셈은 어느 것입니까?

① $19.92 \div 8$

② $33.6 \div 14$

③ $2.24 \div 7$

④ $42.3 \div 18$

⑤ $8.52 \div 6$

6. 다음 조건에 맞는 도형을 찾고, □안에 알맞은 수를 고르시오.

- 밑면의 변의 수가 7개입니다.
- 꼭짓점은 14개입니다.
- 모서리는 □개입니다.
- 면의 수는 9개입니다.

① 삼각기둥, 9

② 사각기둥, 12

③ 오각기둥, 15

④ 육각기둥, 18

⑤ 칠각기둥, 21

7. $5\frac{4}{7}$ 와 $5\frac{3}{4}$ 사이에 있는 수는 어느 것입니까?

① 5.371

② 5.499

③ 5.838

④ 5.612

⑤ 5.758

8. 다음 그림그래프는 동네별 돼지 수를 나타낸 것입니다. 전체 돼지 수의 평균은 470마리라고 합니다. 다음 중 ㉔ 동네의 돼지 수를 구하는 그림그래프를 바르게 완성한 것은?

동네	돼지 수
㉑	○○○○○○□□□□
㉒	○○○○○○○○□□
㉓	
㉔	○○○○○ □□□□□

○100마리 □10마리

① ○○○○□□□□□

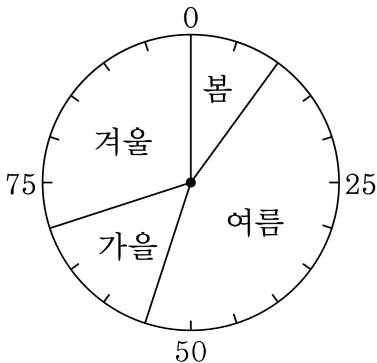
② ○○○○○○○□□□

③ ○○○○○□□□□

④ ○○□□□□□□

⑤ ○○○□□□□□

9. 다음 그림은 다혜네 반 학생들이 좋아하는 계절을 조사한 원 그래프입니다. 다음 원 그래프의 설명으로 바르지 않은 것은 어느 것입니까?



- ① 전체에 대한 가을의 백분율은 15%입니다.
- ② 겨울의 백분율은 봄의 3배입니다.
- ③ 학생들이 가장 좋아하는 계절은 여름입니다.
- ④ 가을의 백분율은 여름의 3배입니다.
- ⑤ 가장 적게 좋아하는 계절은 봄입니다.

10. 밑변의 길이가 $6\frac{3}{8}$ cm, 높이가 12 cm인 평행사변형이 있습니다. 이 평행사변형의 높이를 3 cm 늘이고, 밑변의 길이를 줄여서 처음의 넓이와 같게 만들려고 합니다. 밑변의 길이를 몇 cm로 줄여야 하는지 구하시오.

① $20\frac{2}{5}$ cm

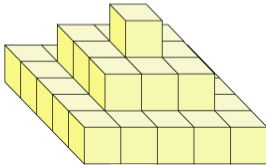
② $15\frac{3}{10}$ cm

③ $10\frac{1}{5}$ cm

④ $5\frac{1}{10}$ cm

⑤ $2\frac{11}{20}$ cm

11. 다음 그림을 보고, 2층에 대한 3층의 개수 비를 바르게 나타낸 것은 어느 것입니까?



① 9와 1의 비

② 1 : 9

③ 1에 대한 9의 비

④ 9의 1에 대한 비

⑤ 25대 9

12. 어떤 물건을 20000 원에 사서 20%의 이익을 붙여 정가를 정했다가, 팔 때는 정가의 20%를 할인하여 팔았습니다. 결과적으로 몇 %의 손해 또는 이익이 생겼습니까?

① 5% 이익

② 5% 손해

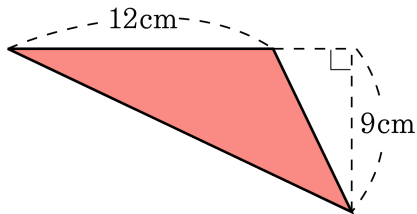
③ 4% 이익

④ 4% 손해

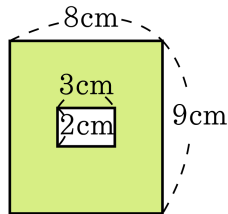
⑤ 이익도 손해도 없습니다.

13. ㉠의 넓이에 대한 ㉡의 넓이의 비를 가장 간단히 나타낸 것은 어느 것입니까?

㉠



㉡



① 66 : 53

② 11 : 9

③ 66 : 54

④ 54 : 108

⑤ 9 : 11

14. 수경이네 학교 5학년과 6학년 학생들이 좋아하는 과목을 조사하여 만든 피그래프입니다. 다음 그래프로 알 수 있는 사실을 모두 고르시오.

5학년

(총 440명)

체육(35%)	음악(25%)	과학(15%)	국어(10%)	기타(15%)
---------	---------	---------	---------	---------

6학년

(총 300명)

체육(39%)	과학(22%)	사회(20%)	국어(12%)	↑
---------	---------	---------	---------	---

기타(7%)

- ① 5학년은 음악을 가장 좋아합니다.
- ② 체육을 좋아하는 비율은 6학년이 더 높습니다.
- ③ 국어를 좋아하는 학생 수는 6학년이 더 많습니다.
- ④ 과학을 좋아하는 학생 수는 같습니다.
- ⑤ 6학년은 5학년보다 체육 시간이 더 많습니다.

15. 정사각형 모양의 나무판을 크기가 같은 직사각형 3 개로 잘랐습니다.
작은 직사각형 모양의 둘레의 길이가 $12\frac{4}{5}$ cm 일 때, 처음 정사각형
모양의 넓이를 구하시오.

① $1\frac{3}{5}$ cm²

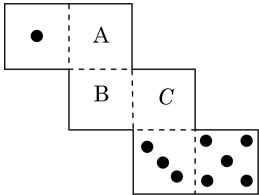
② $4\frac{4}{5}$ cm²

③ $12\frac{24}{25}$ cm²

④ $18\frac{2}{5}$ cm²

⑤ $23\frac{1}{25}$ cm²

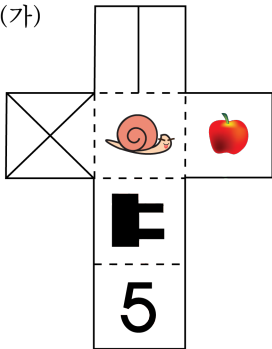
16. 다음 주사위의 전개도에서 A,B,C의 눈의 수로 바른 것은 어느 것입니까?(단, 주사위의 평행인 눈의 합은 7입니다.)



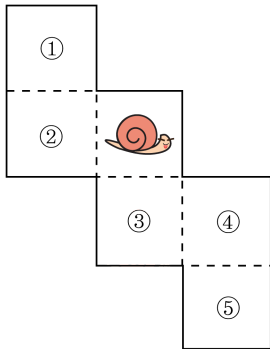
- ① $A=2$ ② $B=6$ ③ $B=2$ ④ $C=2$ ⑤ $C=4$

17. 다음 (가)와 (나)는 같은 정육면체의 전개도입니다. (나)의 각 부분에 들어갈 그림이 잘못 연결된 것은 어느 것인지 고르시오.

(가)



(나)



①



②



③



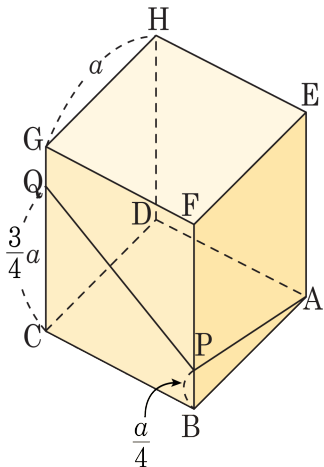
④



⑤

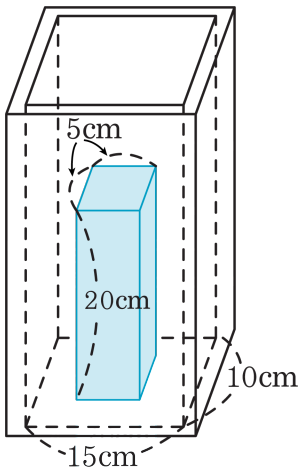


18. 다음 그림과 같이 한 변의 길이가 a 인 정육면체에서 \overline{BF} , \overline{CG} 위에 점 P, Q 를 잡고, 점 A, P, Q 를 지나는 평면으로 정육면체를 잘랐을 때, 아래 부분에 해당하는 입체도형의 부피를 구하시오.



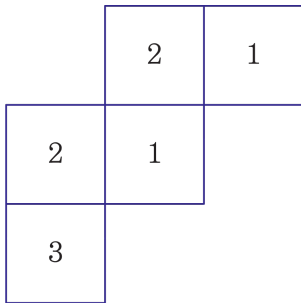
- ① $\frac{7}{24}a^3$ ② $\frac{11}{24}a^3$ ③ $\frac{13}{24}a^3$ ④ $\frac{3}{8}a^3$ ⑤ $\frac{5}{8}a^3$

19. 안치수가 다음 그림과 같은 직육면체 모양의 통 안에 벽돌을 세워 놓았습니다. 이 통에 1.125L 의 물을 부으면, 물의 높이는 몇 cm가 됩니까?



- ① 10 cm ② 9 cm ③ 8 cm ④ 7 cm ⑤ 6 cm

20. 모서리의 길이가 1m인 정육면체 모양의 돌을 아래 바탕 그림 위에 쌓아올렸습니다. 안의 숫자는 그 곳에 쌓아 올린 돌의 개수입니다. 밑면을 포함하여 쌓아올린 모양의 겉넓이는 몇 cm^2 인니까?



- ① 48 m^2 ② 44 m^2 ③ 40 m^2 ④ 36 m^2 ⑤ 32 m^2