



1. 이차방정식 $x(x + 5) = 2x$ 를 풀어라.

 답: $x =$ _____

 답: $x =$ _____

2. 이차방정식 $x^2 - 3x - 2 = 0$ 의 근이 $x = \frac{A \pm \sqrt{B}}{2}$ 일 때, $A - B$ 의 값은?

① -14

② 14

③ 20

④ -20

⑤ 17

3. 다음 중 이차방정식의 해가 옳지 않은 것을 모두 고르면?(정답 2개)

① $x^2 + \frac{1}{4}x - \frac{1}{8} = 0 \rightarrow x = -\frac{1}{2}$ 또는 $x = \frac{1}{4}$

② $0.1x^2 - 0.2x - 0.3 = 0 \rightarrow x = -1$ 또는 $x = 3$

③ $0.1x^2 - \frac{1}{5}x - 1 = 0 \rightarrow x = -3$ 또는 $x = 5$

④ $0.2x^2 - 0.3x - \frac{1}{5} = 0 \rightarrow x = 2$ 또는 $x = \frac{1}{2}$

⑤ $x^2 - 0.5x - 0.1 = 0 \rightarrow x = \frac{5 \pm \sqrt{65}}{20}$

4. 이차방정식 $x^2 - 12x + 3 = 0$ 의 근의 개수를 구하여라.



답:

개

5. 이차방정식 $x^2 + 8x - a = 0$ 이 중근을 가질 때, 이차방정식 $x^2 + ax - 4a = 0$ 의 근을 구하면?

① $x = 4$ (중근)

② $x = 6$ (중근)

③ $x = 8$ (중근)

④ $x = 2$ 또는 $x = 8$

⑤ $x = 2$ 또는 $x = 6$

6. 이차방정식 $x^2 + 2x + a + 3 = 0$ 이 서로 다른 두 근을 갖도록 a 의 값의 범위를 정하여라.

① $a < -1$

② $a < -2$

③ $a > -1$

④ $a > -2$

⑤ $a > -3$

7. 다음 중 $x^2 - 4x - 12 = 0$ 과 같은 것은?

① $x - 2 = 0$ 또는 $x + 6 = 0$

② $x + 2 = 0$ 또는 $x - 6 = 0$

③ $x - 2 = 0$ 또는 $x - 6 = 0$

④ $x + 3 = 0$ 또는 $x - 4 = 0$

⑤ $x + 3 = 0$ 또는 $x + 4 = 0$

8. 이차방정식 $x^2 + bx + c = 0$ 의 두 근이 $-2 \pm \sqrt{6}$ 일 때, $b + c$ 의 값은?

① 1

1

② 2

2

③ 3

3

④ 4

4

⑤ 5

5

9. 이차방정식 $\frac{3}{2}x^2 - \frac{1}{3}x - \frac{1}{6} = 0$ 의 근이 $x = \frac{1 \pm \sqrt{A}}{9}$ 일 때, A 의 값은?

① 5

② 10

③ 15

④ 23

⑤ 26

10. 이차방정식 $0.3x^2 - 0.4(x - 3) = 2.1$ 의 해를 구하면?

① $x = \frac{2 \pm \sqrt{31}}{3}$

② $x = \frac{2 \pm 4\sqrt{2}}{3}$

③ $x = \frac{2 \pm \sqrt{33}}{3}$

④ $x = \frac{2 \pm \sqrt{34}}{3}$

⑤ $x = \frac{2 \pm \sqrt{35}}{3}$

11. 다음 등식 중에서 이차방정식이 아닌 것을 모두 고르면?

㉠ $x^2 = 0$

㉡ $x^2 = 8x$

㉢ $x^2 + 4x = x - 3$

㉣ $(x - 2)^2 = 25$

㉤ $(x + 1)^2 + 4 = x^2$

㉥ $(x + 1)(x - 4) = x^2(x + 2)$

① ㉠, ㉣

② ㉡, ㉢

③ ㉠, ㉣, ㉤

④ ㉤, ㉥

⑤ ㉣, ㉥

12. x 의 값의 범위가 $\{x \mid 0 \leq x \leq 4\}$ 이고, x 는 정수일 때, 이차방정식 $x^2 - 5x + 6 = 0$ 의 해를 a, b 라 하고, $x^2 - 3x + 2 = 0$ 의 해를 m, n 이라 할 때, $ab - (m + n)$ 을 구하면?

① 3

② 6

③ 8

④ 9

⑤ 12

13. x 값의 범위가 $0 \leq x < 2$ 일 때, 이차방정식 $2x^2 - 7x + 6 = 0$ 을 만족시키는 해를 구하여라.



답: _____

14. 이차방정식 $x^2 + ax - 2 = 0$ 의 한 근이 $x = -2$ 이고, $x^2 + 3x + b = 0$ 의 한 근이 $x = -1$ 일 때, ab 의 값을 구하면?

① -2

② -1

③ 0

④ 1

⑤ 2

15. 이차방정식 $x^2 + ax + b = 0$ 의 해가 $x = 2$ 또는 $x = -3$ 일 때, $a + b$ 의 값은?

① 5

② 6

③ -6

④ -4

⑤ -5

16. 두 이차방정식 $x^2 - 2x + a = 0$, $x^2 + bx - 6 = 0$ 의 공통근이 $x = -2$ 일 때, ab 의 값을 구하여라.



답: _____

17. 이차방정식 $3x^2 - 14x + 8 = 0$ 의 한 근이 p 일 때, $p^2 - \frac{14}{3}p$ 의 값은?

① $\frac{5}{3}$

② $\frac{8}{3}$

③ $-\frac{8}{3}$

④ $-\frac{5}{3}$

⑤ $-\frac{11}{3}$

18. 이차방정식 $x^2 - 3x - 4 = 0$ 의 두 근 중 작은 근이 이차방정식 $ax^2 + 5x - 3 = 0$ 의 근일 때, 상수 a 의 값과 $ax^2 + 5x - 3 = 0$ 의 다른 한 근의 값을 b 라 할 때, $a + 8b$ 의 값을 구하여라.



답: _____

19. 두 이차방정식 $x^2 + x + a = 0$, $3x^2 - bx + 6 = 0$ 의 공통인 해가 $x = 3$ 일 때, $a + b$ 의 값을 구하면?

① -2

② -1

③ 0

④ 1

⑤ 2

20. 두 이차방정식 $2x^2 - ax + 2 = 0$, $x^2 - 3x + b = 0$ 의 공통인 해가 2일 때, ab 의 값은?

① -25

② -10

③ 1

④ 10

⑤ 25

21. 이차방정식 $(x - 3)(2x - 5) = 5x - 4$ 를 $(x - p)^2 = k$ 의 꼴로 나타낼 때, $k - p$ 의 값을 구하여라.



답: _____

22. 이차방정식 $x^2 + 5x - 9 = 0$ 을 $(x + P)^2 = Q$ 의 꼴로 고칠 때, $P + 2Q$ 의 값을 구하면?

① -33

② -12

③ -4

④ 0

⑤ 33

23. 다음은 이차방정식 $ax^2 + bx + c = 0$ ($a \neq 0$) 을 푸는 과정이다. ① ~ ⑤에 들어갈 식이 바르지 못한 것은?

$$ax^2 + bx + c = 0$$

$$x^2 + \frac{b}{a}x = -\frac{c}{a}$$

$$x^2 + \frac{b}{a}x + \textcircled{1} = -\frac{c}{a} + \textcircled{1}$$

$$(x + \textcircled{2})^2 = \textcircled{3}$$

$$x = \textcircled{4} \pm \textcircled{5}$$

$$\textcircled{1} \quad \frac{b^2}{4a^2}$$

$$\textcircled{2} \quad \frac{b}{2a}$$

$$\textcircled{3} \quad \frac{b^2 - 4ac}{2a}$$

$$\textcircled{4} \quad -\frac{b}{2a}$$

$$\textcircled{5} \quad \frac{\sqrt{b^2 - 4ac}}{2a}$$

24. 다음은 이차방정식 $ax^2 + 2bx + c = 0$ ($a \neq 0$)을 푸는 과정이다. ① ~ ⑤에 들어갈 식이 바르지 못한 것은? (단, $b^2 - ac \geq 0$)

$$ax^2 + 2bx + c = 0 (a \neq 0)$$

$$x^2 + \frac{2b}{a}x = -\frac{c}{a}$$

$$x^2 + \frac{2b}{a}x + \textcircled{1} = -\frac{c}{a} + \textcircled{1}$$

$$(x + \textcircled{2})^2 = \textcircled{3}$$

$$x = \textcircled{4} \pm \textcircled{5}$$

① $\frac{b^2}{a^2}$

② $\frac{b}{a}$

③ $\frac{b^2 - ac}{a^2}$

④ $-\frac{b}{a}$

⑤ $\frac{\sqrt{b^2 - ac}}{a^2}$

25. 이차방정식 $4x^2 - 7x - A = 0$ 의 해가 $x = \frac{7 \pm \sqrt{129}}{B}$ 일 때, $A - B$ 의 값을 구하여라.



답: _____

26. 이차방정식 $3x^2 - 16x - ax + 4a + 15 = 0$ 이 정수의 근을 가질 때, 정수 a 의 값을 구하여라.

➤ 답: $a =$ _____

➤ 답: $a =$ _____

27. 이차방정식 $x - \frac{x^2 + 1}{2} = 0.4(x - 1)$ 의 두 근의 곱은?

① $\frac{1}{2}$

② $\frac{1}{3}$

③ $\frac{1}{4}$

④ $\frac{1}{5}$

⑤ $\frac{1}{6}$

28. 이차방정식 $2x^2 + 5x - 2 = 0$ 의 두 근 중 작은 근을 p 라 하면 $n < p < n + 1$ 이 성립한다. 이때, 정수 n 의 값을 구하여라.



답: _____

29. 이차방정식 $3x^2 - 3x - 5 = 0$ 의 두 근 중 큰 근을 p 라 하면 $n-1 < p < n$ 이 성립한다. 이때, 정수 n 의 값을 구하여라.



답: _____

30. 이차방정식 $\frac{(x+1)(x-1)}{2} = \frac{(x+2)(x+1)}{3}$ 의 두 근 중 큰 근을 α

라고 할 때, $\frac{\alpha}{7}$ 의 값은?

① 5

② 1

③ $-\frac{1}{7}$

④ -5

⑤ -1

31. 이차방정식 $\left(\frac{1}{2}x + 1\right)\left(x - \frac{1}{3}\right) = 1$ 의 두 근의 합은?

① $-\frac{5}{3}$

② -2

③ $-\frac{7}{3}$

④ $-\frac{8}{3}$

⑤ -3

32. 이차방정식 $(x+1)(x-3) - \frac{x^2+1}{4} = 3(x-1)$ 의 근은?

① $x = 0$ 또는 $x = \frac{20}{3}$

② $x = \frac{5 \pm 2\sqrt{53}}{6}$

③ $x = \frac{10 \pm 2\sqrt{53}}{3}$

④ $x = \frac{5 \pm \sqrt{103}}{6}$

⑤ $x = \frac{10 \pm \sqrt{103}}{3}$

33. 두 방정식 $x^2 - 0.3x - 0.1 = 0$, $\frac{1}{5}x^2 + \frac{1}{2}x - \frac{3}{10} = 0$ 에 대해 공통근은?

① $-\frac{1}{5}$

② -3

③ $\frac{1}{2}$

④ $\frac{5}{2}$

⑤ 2

34. 두 방정식 $0.1x^2 - 0.4x - 0.5 = 0$, $\frac{1}{15}x^2 + \frac{1}{6}x + \frac{1}{10} = 0$ 의 공통근은?

① $-\frac{1}{5}$

② -3

③ $\frac{1}{2}$

④ $\frac{5}{2}$

⑤ -1

35. 이차방정식 $\frac{1}{3}x^2 - x + \frac{5}{9} = 0$ 의 근이 $\alpha = \frac{m \pm \sqrt{n}}{6}$ 일 때, $m + n$ 의 값은?

① 13

② 21

③ 30

④ 35

⑤ 41

36. 이차방정식 $\frac{1}{2}x^2 + \frac{7}{3}x + \frac{5}{6} = 0$ 의 두 근이 $x = \frac{a \pm \sqrt{b}}{c}$ 이다. 이 때,
 $a + b - c$ 의 값은?

① 38

② -41

③ 30

④ -15

⑤ 24

37. 이차방정식 $\frac{(x-2)(x+1)}{2} = \frac{x(x+1)}{3}$ 의 두 근 중 작은 근을 α 라고

할 때, α^2 의 값을 구하여라.



답: _____

38. 이차방정식 $\frac{x-1}{3} = 0.2(x+1)(x-3)$ 의 해를 구하면?

① $x = 4$ 또는 $x = -\frac{1}{3}$

② $x = -4$ 또는 $x = \frac{1}{3}$

③ $x = 4$ 또는 $x = -3$

④ $x = -4$ 또는 $x = 3$

⑤ $x = \frac{1}{4}$ 또는 $x = -\frac{1}{3}$

39. 이차방정식 $0.5(x - 2)(x + 1) = \frac{x(x - 9)}{4}$ 의 모든 근의 곱은?

① 4

② $\frac{4}{3}$

③ -4

④ $-\frac{4}{3}$

⑤ -2

40. $4\left(x - \frac{1}{2}\right)\left(x + \frac{1}{2}\right) = Ax - 3$ 의 근이 $x = \frac{2 \pm \sqrt{B}}{2}$ 일 때, $\frac{A}{B}$ 의 값을

구하여라.



답: _____

41. 이차방정식 $4x - \frac{x^2 + 1}{4} = 3(x - a)$ 의 근이 $x = b \pm \sqrt{15}$ 일 때, $\frac{1}{2}ab$ 의 값은?

① -2

② -1

③ 1

④ 2


⑤ 4

42. $A = \{x \mid 6(x-1)^2 + 7x = (2x-3)(4x+1)\}$ 의 해가 $\{\alpha, \beta\}$ 일 때,
 $4(\alpha + \beta)$ 의 값을 구하여라. (단, $\alpha > \beta$)



답: _____

43. 이차방정식 $4x^2 + 25 = 20\sqrt{x^2}$ 을 풀어라.

 답: $x =$ _____

 답: $x =$ _____

44. 다음 두 식을 만족하는 정수 a, b 의 합을 구하면?

$$\begin{cases} 3(a+b)^2 + (a+b) = 14 \\ 2(a-b)^2 - 9(a-b) = 18 \end{cases}$$

① 1

② 2

③ 3

④ 4

⑤ 5

45. 다음 이차방정식 중에서 근의 개수가 다른 하나는?

① $2x^2 + 5x - 2 = 0$

② $3x^2 + 7x - 2 = 0$

③ $2x^2 - 3x - 1 = 0$

④ $x^2 + 2x + 4 = 0$

⑤ $(x - 2)^2 = 6$

46. 이차방정식 $x^2 + (1 - k)x + 1 = 0$ 이 중근을 가질 때의 상수 k 의 값 중 작은 값이 이차방정식 $ax^2 - 2x + a^2 - 4 = 0$ 의 한 근일 때, 음수 a 의 값은?

① -1

② -2

③ -3

④ -4

⑤ -5

47. 이차방정식 $2x^2 - 8x + 1 + k = 0$ 이 중근을 가질 때, k 의 값은?

① 5

② 6

③ 7

④ 8

⑤ 9

48. 방정식 $(2-x-y)^2 - (x^2 + y^2) = 4$ 를 만족하는 자연수의 순서쌍 (x, y) 에 대하여 $x^2 + y^2$ 의 값을 구하여라. (단 $x \neq y$)



답: _____

49. 서로 다른 수 x, y 에 대하여 $2x^2 - 4xy + 2y^2 = 6x - 6y$ 가 성립할 때,
 $x - y$ 의 값을 구하여라. (단, $x \neq y, xy \neq 0$)



답: _____

50. 이차방정식 $x^2 + 2x - k = 0$ 이 서로 다른 두 실근을 가질 때, $kx^2 + 4x - 1 = 0$ 의 근에 대한 설명 중 옳은 것은? (단, $k \neq 0$)

- ① 서로 다른 두 실근을 갖는다.
- ② 중근을 갖는다.
- ③ 근이 없다.
- ④ k 의 값에 따라 달라진다.
- ⑤ 주어진 조건만으로는 구할 수 없다.