

1. 다음 보기에서 옳은 것의 개수는?

보기

- ㉠ $\frac{\pi}{4}$ 는 유리수가 아니다.
- ㉡ 모든 무한소수는 무리수이다.
- ㉢ $1 - \sqrt{7}, \sqrt{121}, -\sqrt{15^2}, \pi$ 는 모두 무리수이다.
- ㉣ 무리수이면서 유리수인 수는 없다.
- ㉤ 음이 아닌 수의 제곱근은 반드시 2개가 있고, 그 절댓값은 같다.

① 2

② 3

③ 4

④ 5

⑤ 6

2. 다음 보기의 수를 각각 제곱근으로 나타낼 때, 근호를 사용하지 않아도 되는 것을 모두 고르면?

보기

㉠ $\sqrt{36}$	㉡ 25	㉢ $\sqrt{(-3)^2}$
㉣ 1.6	㉤ $\frac{49}{9}$	㉥ $\frac{81}{6}$

- ① ㉠, ㉡ ② ㉡, ㉣ ③ ㉡, ㉤
④ ㉠, ㉣, ㉤ ⑤ ㉡, ㉣, ㉤

3. 다음 중 옳지 않은 것은?

① $a > 0$ 일 때, $\sqrt{(-a)^2} = a$ 이다.

② $a < 0$ 일 때, $-\sqrt{(-a)^2} = a$

③ $a > 0$ 일 때, $\sqrt{16a^2} = 4a$ 이다.

④ $\sqrt{a^2} = |a|$ 이다.

⑤ $a < 0$ 일 때, $\sqrt{(3a)^2} = 3a$ 이다

4. 다음 식을 간단히 하면?

$$\sqrt{225} - \sqrt{(-6)^2} + \sqrt{(-3)^2 \times 2^4} - \sqrt{5^2} - (-\sqrt{3})^2$$

- ① -11 ② 7 ③ 10 ④ 13 ⑤ 19

5. $-1 < x < 0$ 일 때, $\sqrt{(x+1)^2} + \sqrt{x^2} + \sqrt{(1-x)^2}$ 을 간단히 하여라.

▶ 답: _____

6. $\{x|300 \leq x \leq 600, x \text{는 정수}\}$ 에 대하여 $\sqrt{3} \times \sqrt{x}$ 가 양의 정수가 되도록 하는 정수 x 의 개수를 구하면?

① 5개

② 52개

③ 100개

④ 101개

⑤ 301개

7. $0 < a < 1$ 일 때, 다음 대소 관계가 옳은 것은?

① $a^2 > \sqrt{a}$

② $a > \frac{1}{a}$

③ $\sqrt{a} > \frac{1}{\sqrt{a}}$


④ $\frac{1}{\sqrt{a}} > \frac{1}{a^2}$

⑤ $\frac{1}{a} > \frac{1}{\sqrt{a}}$

8. 다음의 두 식 A , B 에 대하여 $A+B$ 를 계산하여라.

$$A = \sqrt{(3 - \sqrt{10})^2} - \sqrt{(\sqrt{10} - 3)^2}$$

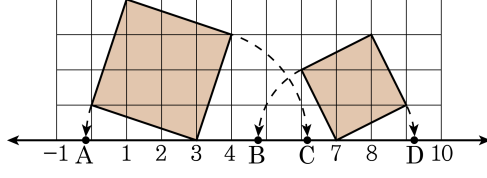
$$B = \sqrt{(3 - 2\sqrt{2})^2} + \sqrt{(2\sqrt{2} - 2)^2}$$

 답: _____

9. $\sqrt{3n}$ 이 2 와 4 사이의 수가 되게 하는 정수 n 의 개수는 몇 개인가?

- ① 1 개 ② 2 개 ③ 3 개 ④ 4 개 ⑤ 5 개

10. 다음 그림의 수직선 위의 점 A, B, C, D 에 대응하는 수를 각각 a, b, c, d 라고 할 때, $a + b + c + d$ 값은? (단, 모눈 한 칸은 한 변의 길이가 1 인 정사각형이다.)

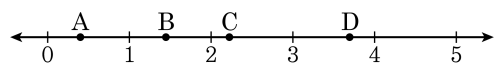


- ① 10 ② 13 ③ 17 ④ 20 ⑤ 24

11. 다음 중 옳지 않은 것을 모두 고르면?

- ① 순환하는 무한소수는 반드시 유리수이다.
- ② 서로 다른 두 무리수 사이에는 적어도 하나 이상의 자연수가 존재한다.
- ③ 반지름의 길이가 0 이 아닌 실수인 원의 넓이는 반드시 무리수이다.
- ④ 완전제곱수의 제곱근은 항상 유리수이다.
- ⑤ 서로 다른 두 무리수의 곱은 항상 무리수이다.

12. 다음 수직선 위의 점 A, B, C, D에 대응하는 수는 $\sqrt{2}$, $\sqrt{3}+2$, $\sqrt{2}-1$, $4-\sqrt{3}$ 이다. 점 A, B, C, D에 대응하는 값을 각각 a , b , c , d 라고 할 때, $a+b$ 와 $c+d$ 의 값을 각각 바르게 구한 것은?



- ① $\sqrt{2} + \sqrt{3} + 2$, $\sqrt{2} - \sqrt{3} + 3$
- ② $\sqrt{2} + \sqrt{3} + 3$, $\sqrt{2} + \sqrt{3} + 2$
- ③ $\sqrt{2} - \sqrt{3} + 3$, $\sqrt{2} + \sqrt{3} + 2$
- ④ $2\sqrt{2} - 1$, 6
- ⑤ 6, $2\sqrt{2} - 1$

13. $\sqrt{57+x} = 4\sqrt{5}$ 일 때, 양수 x 값은?

① 32

② 23

③ 11

④ 9

⑤ 3

14. 제곱근의 나눗셈을 이용하였더니 $\sqrt{10}$ 은 $\frac{\sqrt{2}}{\sqrt{5}}$ 의 a 배였고, $\sqrt{21}$ 은 $\frac{\sqrt{7}}{\sqrt{3}}$ 의 b 배였다. $a+b$ 의 값을 구하여라.

▶ 답: $a+b =$ _____

15. 다음에서 x 의 값을 구하여라.

$\sqrt{2.52}$ 는 $\sqrt{7}$ 의 x 배이다.

▶ 답: $x =$ _____

16. $\sqrt{2} = x$, $\sqrt{3} = y$ 일 때, $\sqrt{5}$ 를 x 와 y 로 나타낸 것으로 옳은 것은?

① $x + y$

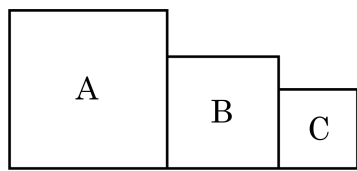
② $x^2 + y^2$

③ $\sqrt{x+y}$

④ $\sqrt{x^2 + y^2}$

⑤ \sqrt{xy}

17. 다음 그림에서 사각형 A, B, C는 모두 정사각형이고, 각 사각형의 넓이 사이에는 B는 C의 2배, A는 B의 2배인 관계가 있다고 한다. A의 넓이가 2cm^2 일 때, C의 한 변의 길이는?



- ① $\frac{1}{4}\text{cm}$ ② $\frac{1}{2}\text{cm}$ ③ $\frac{\sqrt{2}}{3}\text{cm}$
④ $\frac{\sqrt{2}}{4}\text{cm}$ ⑤ $\frac{\sqrt{2}}{2}\text{cm}$

18. $f(x) = \sqrt{x+1} - \sqrt{x}$ 일 때, $f(1) + f(2) + f(3) + \dots + f(39) + f(40)$ 의 값을 구하면?

① $\sqrt{40} - 1$

② $\sqrt{40} + 1$

③ $\sqrt{41} - 1$

④ $\sqrt{41} + 1$

⑤ $\sqrt{41} - \sqrt{40}$

19. \sqrt{x} 이하의 자연수의 개수를 $N(x)$ 라고 하면 $2 < \sqrt{5} < 3$ 이므로 $N(5) = 2$ 이다. 이 때, $N(1) + N(2) + N(3) + \dots + N(10)$ 의 값을 구하여라.


▶ 답: _____

20. a, b 가 유리수일 때, $(\sqrt{3} - 1)a + 2b = 0$ 을 만족하는 a, b 의 값을 구하여라.

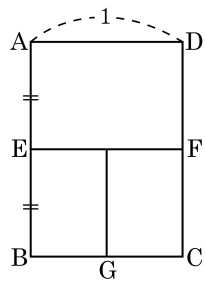
▶ 답: $a =$ _____

▶ 답: $b =$ _____

21. $\frac{1}{\sqrt{2} + \sqrt{3} + \sqrt{5}}$ 의 분모를 유리화하면, $\frac{\sqrt{a} - \sqrt{b} - \sqrt{c}}{d}$ 이다. 이 때, $a + b + c + d$ 의 값을 구하여라.

 답: _____

22. 복사 용지로 많이 사용되고 있는 A4 용지는 A3 용지를 반으로 잘라서 만든 것이고, A5 용지는 A4 용지를 반으로 잘라서 만든 것이다. 따라서, A3 용지와 A4 용지, A5 용지는 서로 닮음이다. 다음 그림에서 $\square ABCD$ 가 A3 용지라 하고, A3 용지의 가로 길이를 1 이라고 할 때, A3 용지의 가로, 세로의 길이와 A5 용지의 가로, 세로의 길이의 합은?



- ① $\frac{(1 + \sqrt{2})}{2}$ ② $\frac{(2 + \sqrt{2})}{2}$ ③ $\frac{3(1 + \sqrt{2})}{2}$
 ④ $\frac{3(1 - \sqrt{2})}{2}$ ⑤ 2

23. 다음 제곱근표를 이용하여 $\sqrt{55}$ 의 값을 구하면?

수	0	1	2	3	4	5
2.0	1.41	1.41	1.42	1.42	1.42	1.43
2.1	1.44	1.45	1.45	1.45	1.46	1.46
2.2	1.48	1.48	1.49	1.49	1.49	1.50
2.3	1.51	1.52	1.52	1.52	1.53	1.53
2.4	1.54	1.55	1.55	1.55	1.56	1.56

- ① 5.93 ② 7.56 ③ 7.50 ④ 7.40 ⑤ 6.19

24. $a = \sqrt{3}$ 일 때, $\frac{a}{[a]+a}$ 의 소수 부분은? (단, $[a]$ 는 a 를 넘지 않는 최대의 정수)

① $\sqrt{3}-1$

② $\sqrt{3}+1$

③ $\frac{1}{1+\sqrt{3}}$

④ $\frac{\sqrt{3}}{1+\sqrt{3}}$

⑤ $\frac{\sqrt{3}}{1-\sqrt{3}}$

25. $Ax^2 + 36x + B = (2x + C)^2$ 에서 양수 A, B, C 의 합을 구하면?

- ① 4 ② 9 ③ 81 ④ 90 ⑤ 94

26. 다음 빈 칸에 들어갈 수가 가장 큰 것부터 차례대로 써라.

보기

$$\textcircled{\text{A}} \quad 3x - 2x - 8 = (x + A)(Bx + 4)$$

$$\textcircled{\text{B}} \quad 4x^2 + Cx - 3 = (2x - 1)(2x - D)$$

답: _____

답: _____

답: _____

답: _____

27. 길이가 52 cm 인 끈을 적당히 두 개로 잘라 한 변의 길이가 각각 a cm 와 b cm 인 정사각형 두 개를 만들었다. 이 때, 두 정사각형의 넓이의 합이 109 cm^2 일 때, 넓이의 차를 구하면? (단, $a > b > 0$)

① 7 cm^2

② 13 cm^2

③ 25 cm^2

④ 49 cm^2

⑤ 91 cm^2

28. $-9x^2 + y^2 + 6xz - z^2$ 을 인수분해하였더니 $(ay - 3x + z)(y + bx + cz)$ 가 되었다. 이때, 상수 a, b, c 에 대하여 $a + b + c$ 의 값을 구하면?

- ① 1 ② 2 ③ 3 ④ -1 ⑤ -2

29. $x^4 - 13x^2 + 36$ 을 인수분해했을 때, 일차식으로 이루어진 인수들의 합을 구하면?

① $4x + 13$


② $4x$

③ $4x - 13$

④ $2x^2 - 13$

⑤ $2x^2 + 5$

30. $A = -1^2 + 2^2 - 3^2 + 4^2 - 5^2 + 6^2 - 7^2 + 8^2 - 9^2 + 10^2$, $B = 9945$ 라 할 때, $B^2 - A^2$ 의 값을 구하여라.

 답: _____

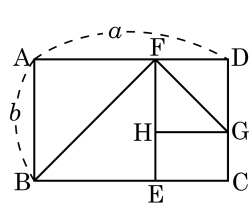
31. $a = 1 + \sqrt{2}$ 일 때, $\frac{a^2 - 2a + 3}{a - 1}$ 의 값을 구하여라.

▶ 답: _____

32. $x^3 - y^3 = -2$, $xy = -1$ 일 때, $x + y$ 의 값을 구하여라. (단, $x < y$)

▶ 답: $x + y =$ _____

33. 다음 그림에서 $\square ABEF$ 와 $\square FHGD$ 가 정사각형일 때, 사각형 HECG의 넓이를 a, b 에 관한 식으로 나타낸 후 인수분해하면 $(a-b)(ta+sb)$ 이다. $t+s$ 의 값을 구하시오.



▶ 답: $t+s =$ _____