

1. 다음 중 옳은 것은?

① $1.\dot{3} > 1.\dot{3}\dot{2}$

② $1.\dot{7}\dot{9} = \frac{179}{99}$

③ $0.\dot{5} = 0.\dot{5}\dot{0}$

④ $3.\dot{9} < 4$

⑤ $10.0\dot{4} = \frac{994}{90}$

2. 다음 중 옳은 것은?

① $5^2 \times 5^3 = 25^5$

② $(3^3)^3 = 27^9$

③ $(-2)^{10} = -2^{10}$

④ $(2x)^3 = 6x^3$

⑤ $(x^{\frac{2}{3}})^2 = x^{\frac{4}{3}}$

3. 다음 식을 계산한 결과가 3 이 되는 것은?

① $10a^2b \div \left(-\frac{1}{3}ab\right)$

② $\left(\frac{1}{3}a^2\right)^2 \div 9a^3$

③ $\frac{1}{4}a^2 \div \left(-\frac{3}{5}a\right)^2$

④ $6a^2b \div \left(\frac{1}{2}ab^2\right)$

⑤ $\left(-\frac{12}{7}a^2\right) \div \left(-\frac{4}{7}a^2\right)$

4. 다음 중 계산 결과가 ab 가 아닌 것은?

① $a^2b \times a^2b^3 \div a^3b^3$

② $(-a)^2 \div ab \times b^2$

③ $a^3b^4 \div (-a) \div (-ab^3)$

④ $ab^2 \times a^2b \div (-ab)^2$

⑤ $b \div a^3 \times a^4b$

5. $\frac{6x^2y - 8xy^2}{2xy} - \frac{6xy - 9y^2}{3y}$ 을 간단히 하면?

① $3x - 2y$

② $x - y$

③ $x - 7y$

④ $2x - 3y$

⑤ $x + 5y$

6. 식 $4 - x^2 - 2\{1 + 3x^2 - 4(2 - 3x)\}$ 를 계산하였을 때, 상수항은?

- ① -14 ② 7 ③ 14 ④ 18 ⑤ 21

7. 어떤 다항식에서 $3x - 2y + 1$ 을 빼어야 할 것을 잘못하여 더했더니 $5x - 7y + 2$ 가 되었다. 이 때, 바르게 계산한 답은?

① $-x - 3y$

② $-x - 3y + 1$

③ $-2x + 3y - 2$

④ $-2x - y$

⑤ $3x - 7y$

8. $(x-1)^2 - (2x+1)(x-4) = Ax^2 + Bx + C$ 일 때, 상수 A, B, C 의 합 $A+B+C$ 의 값은?

① 6

② 7

③ 8

④ 9

⑤ 10

9. A 가 $\frac{11}{30}, \frac{12}{30}, \frac{13}{30}, \frac{14}{30}, \frac{15}{30}$ 이고, B 는 무한소수일 때, A 와 B 의 공통적인 수의 갯수는?

- ① 1개 ② 2개 ③ 3개 ④ 4개 ⑤ 5개

10. 다음 순환소수 중 0.8 과 같은 것은?

- ① $0.\dot{7}9$ ② $0.\dot{8}$ ③ $0.8\dot{9}$ ④ $0.\dot{7}9$ ⑤ $0.\dot{8}0$

11. $\frac{35}{111}$ 를 순환소수로 고쳤을 때의 순환마디와 소수점 아래 50번째 자리의 숫자를 차례로 짝지은 것은?

① 35, 3

② 35, 5

③ 315, 3

④ 315, 1

⑤ 315, 5

12. 다음 순환소수 $0.\overline{364}$ 를 분수로 나타내는 다음 과정에서 ㉠, ㉡에 알맞은 것을 차례대로 나열한 것은?


$$\begin{array}{l} x = 0.\overline{364} \quad \dots \text{㉠라 하고} \\ 1000 \times \text{㉠} - 10 \times \text{㉠하면} \\ 990x = [\text{㉡}] \\ \therefore x = [\text{㉢}] \end{array}$$

- ① $61, \frac{61}{990}$ ② $64, \frac{32}{495}$ ③ $361, \frac{361}{990}$
④ $364, \frac{182}{450}$ ⑤ $367, \frac{367}{990}$

13. 부등식 $\frac{1}{9} \leq 0.\dot{x} < \frac{3}{5}$ 을 만족하는 자연수 x 의 값 중에서 가장 큰 값을 a , 가장 작은 값을 b 라 할 때, $a - b$ 의 값을 구하여라.

▶ 답: _____

14. $2^{x+3} + 2^x = 72$ 를 만족하는 x 의 값을 구하여라.

 답: _____

15. 다음 \square 안에 알맞은 식을 써넣으면?

$$(-2x^2y)^3 \times \square = -4x^7y^6$$

① $-\frac{1}{4}xy^3$

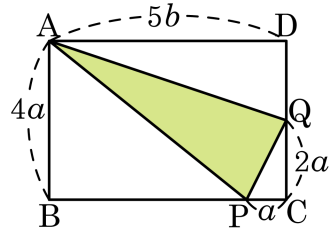
② $-\frac{1}{2}x^2y^3$

③ $\frac{1}{2}x^2y^3$

④ $\frac{1}{2}xy^3$

⑤ $\frac{1}{4}x^2y^6$

16. 다음 그림과 같이 직사각형의 두 변 위에 각각 점 P, Q를 잡을 때, $\triangle APQ$ 의 넓이는?




- ① $a^2 + ab$ ② $a^2 + 2ab$ ③ $a^2 + 3ab$
 ④ $a^2 + 4ab$ ⑤ $a^2 + 5ab$

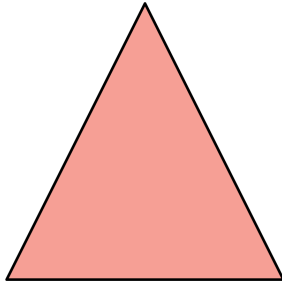
17. $A = 2x - y$, $B = -x + 2y - 3$ 이고, $A - 2B + 5$ 를 x, y 에 관한 식으로 나타내었을 때, x 의 계수, y 의 계수, 상수항을 각각 a, b, c 라 하면 $a + b + c$ 의 값은?

- ① 10 ② 11 ③ 12 ④ 13 ⑤ 14

18. 분수 $\frac{18 \times b}{2^2 \times 3^2 \times a}$ 을 소수로 나타내면 무한소수가 된다고 한다. 순서쌍 (a, b) 라 할 때, $a + b$ 의 최댓값을 구하여라.
(단, a, b 는 자연수이고, $1 \leq a \leq 10, 1 \leq b \leq 10$)

 답: $a + b =$ _____

19. 다음과 같이 밑면이 삼각형 모양인 선물 상자가 있다. 선물 상자의 밑면의 넓이는 2^5cm^2 이라고 한다. 이 밑면의 가로가 2^3cm 이라 할 때, 높이를 구하여라.



▶ 답: _____ cm

20. 다음 보기 중 옳은 것을 모두 고른 것은?

보기

㉠ $8^4 = 2^{12}$

㉡ $(-25)^4 = -5^8$

㉢ $27^8 = 3^{11}$

㉣ $64^5 = 2^{30}$

① ㉠, ㉢


② ㉠, ㉣

③ ㉡, ㉣

④ ㉢, ㉣

⑤ ㉡, ㉢, ㉣

21. $(-27)^3 \div (-3)^n = 3^4$ 일 때, n 의 값을 구하여라.

 답: _____

22. 임의의 자연수 m, n 에 대하여 $x^m y^n = z^{m-n}$, $x^n y^m = z^{n-m}$ 일 때,
 $\left(\frac{1}{xy}\right)^{m+n}$ 의 값을 구하여라.

▶ 답: _____


23. 자연수 n 에 대하여 a_n 을 2^n 의 일의 자리의 숫자라고 정의하고, b_n 을 3^n 의 일의 자리의 숫자라고 정의할 때, 소수 $0.a_1b_1a_2b_2a_3b_3\cdots a_nb_n\cdots$ 의 순환마디의 각 자릿수의 합을 구하여라.

▶ 답: _____

24. 분수 $\frac{2}{7}$ 를 x 라 할 때, $x \times (10^6 - 1)$ 의 값은 몇 자리 정수인지 구하여라.

 답: _____ 자리

25. 자연수 n 에 대하여 $f_n(x) = nx^n + (n-1)x^{n-1} + (n-2)x^{n-2} + \dots + 1$ 이라 할 때, $f_{100}(-1) - f_{99}(-1) + f_{98}(-1) - f_{97}(-1)$ 의 값을 구하여라.

 답: _____